

دفترچه شماره ۱

آزمون جامع (۳)

جمعه ۹۹/۰۵/۲۴



آزمون‌های سراسر گاج

گزینه درستی را انتخاب کنید.

سال تحصیلی ۹۹-۱۳۹۸

آزمون عمومی

پایه دوازدهم انسانی

دوره دوم متوسطه

نام و نام خانوادگی:	شماره داوطلبی:
تعداد سؤالاتی که باید پاسخ دهید: ۱۰۰	مدت پاسخگویی: ۷۵ دقیقه

عناوین مواد امتحانی آزمون عمومی گروه آزمایشی علوم انسانی، تعداد سؤالات و مدت پاسخگویی

ردیف	مواد امتحانی	تعداد سؤال	شماره سؤال		مدت پاسخگویی
			از	تا	
۱	فارسی	۲۵	۱	۲۵	۱۸ دقیقه
۲	زبان عربی (عمومی)	۲۵	۲۶	۵۰	۲۰ دقیقه
۳	دین و زندگی	۲۵	۵۱	۷۵	۱۷ دقیقه
۴	زبان انگلیسی	۲۵	۷۶	۱۰۰	۲۰ دقیقه

برای اطلاع از نتایج آزمون و زمان دقیق اعلام آن باید در کانال تلگرام گاج عضو شوید. @Gaj_ir





۱- در کدام گزینه به معنی درست واژه‌های «طبیعت - مُنگر - اِزام - تَلَطَّف - خودرو» اشاره شده است؟

- (۱) طبع - انکارکننده - ضرورت - مهربانی - خودرأی
 (۲) عادت - ناپسند - واجب گردانیدن - اظهار لطف - لجوج
 (۳) سرشت - نفی‌کننده - لازم گردانیدن - نرمی کردن - خودسر
 (۴) خو - زشت - ضروری - اظهار مهربانی کردن - مستبد

۲- معنی چند واژه در کمانک روبه‌روی آن درست نوشته شده است؟

«کافی (کارآمد) / تیره‌رایی (بداندیشی) / توقیع (نامه کوتاه) / خُطوه (گام‌ها) / صَلَّت (درود فرستادن) / نماز پیشین (نماز عصر) / مقرون (ارزان) / ضَبِعت (زمین‌های زراعتی) / شبگیر (هنگام غروب) / شبهت (بی‌تردید)»

- (۱) دو (۲) سه (۳) چهار (۴) پنج

۳- در چند گزینه واژه‌ای معادل با معنی داده شده ذکر شده است؟

- (الف) آهنگ و نغمه‌های مرتب: روی در پرده و از پرده برون می‌نگری / پرده بردار، که داریم سر پرده دری
 (ب) فرا رسیدن هنگام غروب یا شب: بنا امیدی ما رحمی ای دلیل امید / که هیچ جا نرسیدیم و روز بیگاه است
 (ج) وزیر: خیالش بی‌خبر رفت از دلم بیرون، ندانستم / که مهمان چون بود ناخوانده، بی‌دستور برخیزد
 (د) لازم و ضروری: خواهی محیط فرض کن و خواه قطره گیر / دارد همین یک آبله از سینه تا لبم
 (ه) خیال: دیار خویش رها کرده‌ام بدان سودا / که چون اجل برسد در دیار او باشم

- (۱) چهار (۲) سه (۳) دو (۴) یک

۴- در متن زیر چند غلط املایی وجود دارد؟

«و اهل دها در این باب سخن‌ها پرداخته‌اند که اگر درویش دلیر باشد، بر بی‌دانشی وی حمل افتد و اگر سخاوت ورزد، به اسراف منسوب گردد؛ اگر در راه، او را المی رسد، به دام صخره خلق افتد و اگر بر طریق امن رود، او را مقیم چاه ضلالت خوانند.»

- (۱) یک (۲) دو (۳) سه (۴) چهار

۵- در کدام گزینه غلط املایی وجود دارد؟

- (۱) طبع ما را عجز، نقاش هزار اندیشه کرد
 (۲) زین همه اسباب بیرون تا کجا آید کسی
 (۳) آب می‌گشتم کاش از ننگ بی‌دردی چو کوه
 (۴) صید ما دیوانگان تألیف چندین دام داشت

۶- در چند بیت غلط املایی وجود دارد؟

- (الف) شمع بزمگاه ادب تا نچیند از تو تعب
 (ب) در ثنایت معترف‌گردم به عجز خویشتن
 (ج) نظارگی نداند حول و هلاک محشر
 (د) ورم ز خوان خسان لقمه‌ای به چنگ افتاد
 (ه) قضا چو تیغ برآرد گشاده‌ابرو باش
 (و) ز سختی‌های حرص است این‌که خاک ازدها طینت
- هم‌عنان ضبط نفس لختی آرمیده بیا
 گرنه با طبع من اقبال تو یابد انضمام
 کو بیندت به ناگه در ساحت قیامت
 به گاه مضغ اطاعت نکرد دندانم
 که این صلاح ز چین جبین دودم گردد
 فروبرده است اما حزم ننموده است قارون را

- (۱) دو (۲) سه (۳) چهار (۴) پنج



۷- واژه‌های که امروزه دچار تحوّل نوشتاری شده در کدام گزینه «نقش دستوری» متفاوتی دارد؟

- (۱) باز خرم گشت مجلس دل فرورز
(۲) زدند آتش اندر سرای نشست
(۳) چنان روز بر ما سیه کرد بی‌تو
(۴) زنده پیلان بسته را بگشای

۸- در کدام گزینه «جمله وابسته» وجود ندارد؟

- (۱) چو دیدم خال و خط آن پری رو را به دل گفتم
(۲) نهادم هر چه بود از سر، سری مانده مرا بر تن
(۳) مه من یوسف مصرست و خلقی عاشق رویش
(۴) گهی غم می‌خورم گه خون و می‌سوزم به صد زاری

۹- در همه گزینه‌ها واژه‌های وجود دارد که در زبان فارسی دارای واژه‌های هم‌آوا است، به جز

- (۱) دارم هزار تفرقه در گوشه فراق
(۲) و آن میسر شود به کوشش و رنج
(۳) درختی که پیوسته بارش خوری
(۴) چه سگ باشم؟ که آیم استخوانی خواهم از کویت

۱۰- «نقش دستوری» واژه‌های مشخص شده در هر گزینه یکسان است، به جز

- (۱) تو نیز خیمه ز خود چون شکوفه بیرون زن
(۲) سر پیکان‌کشان چون به آسمان نرسد؟
(۳) عجب که یک دل پژمرده در جهان ماند
(۴) به هم‌چو شانه نیاید ز شوق، مژگانش

۱۱- در چند بیت «نقش تبعی» از گروه «مسندی» پیروی می‌کند؟

- (الف) همه شاگرد و او مدرسشان
(ب) ز خط قلمرو حسن تو گشت زیر و زبر
(ج) نیست در آینه حیرت من نقش دویی
(د) زان تغافل که به لیلی دل مجنون دارد
(ه) چو روی این غزل را فیض در طور حقیقت کرد
(و) عشق را جز عشق لایق هست نیست
(ز) من عاشق و دیوانه و مستم، چه توان کرد؟

(۱) ۱ (۲) ۲ (۳) ۳ (۴) ۴

۱۲- در چند بیت زمینه «خرق عادت» برجسته است؟

- (الف) چنین سال سیمد همی رفت کار
(ب) چنین گفتم سیمرغ کز راه مهر
(ج) چو ده ساله شد زان زمین کس نبود
(د) همان زال کاو مرغ پرورده بود
(ه) گفتم کمر بند دیو سپید
(و) همی تاخت بر گردش اسفندیار
(ز) چنان گشت زال از بس آموختن

(۱) شش (۲) پنج (۳) چهار (۴) سه



۱۳- آرایه‌های ذکرشده در مقابل کدام بیت درست نیست؟

- (۱) ماجرای خرد و عشق تماشای خوشی است
(۲) دل آگاه مرا خال لبش ساخت اسیر
(۳) منه انگشت به حرف من مجنون زنهار
(۴) دل آزاد من و گگرد تعلق، هیهات
- نتوان زود از این کشتی خصمانه گذشت: نغمه حروف - تضاد
مرغ زیرک نتوانست از این دانه گذشت: تناسب - ایهام
که قلم بسته لب از نامه دیوانه گذشت: مجاز - تشخیص
بارها سیل تهی دست از این خانه گذشت: استعاره - تشبیه

۱۴- در همه گزینه‌ها به آرایه‌های بیت زیر اشاره شده است، به جز

«به طرف بوستان نرگس به یاد چشم میگویش
مدام از می نمی نوشد قدح بر کف چرا دارد؟»

- (۱) استعاره - حسن تعلیل (۲) تشبیه - ایهام تناسب (۳) ایهام - واج آرایی (۴) تشخیص - تناسب

۱۵- اگر بخواهیم ابیات زیر را به ترتیب داشتن آرایه‌های «مجاز - جناس ناقص - حسن تعلیل - تضاد - استعاره» مرتب کنیم، کدام گزینه درست است؟

- (الف) فغان ز دیده که آب رخم به رود بداد
(ب) ز چشم ما به جز از خون دل چه می جویی
(ج) کجا چو زلف کجش هندویی به دست آید
(د) چو آن صنوبر طوبی خرام من برخاست
(ه) اگر نه سجده برد پیش چشم جادویش
- ببین سرشک روانم و گر رواست بگو
و گر چنان که تو را قصد خون ماست بگو
چو زلف هندوی او کج نشین و راست بگو
چه فتنه بود که آن لحظه برخواست بگو
چرا چو قامت من ابرویش دو تاست بگو
- (۱) ب - الف - ه - ج - د (۲) ج - الف - ب - د - ه (۳) ب - ج - الف - ه - د (۴) د - ه - الف - ب - ج

۱۶- در کدام گزینه همه آرایه‌های «استعاره - جناس ناقص - تناسب - کنایه - تشبیه» وجود دارد؟

- (۱) گردباد دامن صحرای بی سامانی ام
(۲) چون تیر مدارید ز ما چشم اقامت
(۳) راز پنهانی که دارم در دل روشن، چو آب
(۴) دامنم پاک است چون صبح از غبار آرزو
- هیچ کس را دل نمی سوزد به سرگردانی ام
کز قامت خم گشته در آغوش کمانیم
بی تأمل می توان خواند از خط پیشانی ام
می دهد خورشید تابان بوسه بر پیشانی ام

۱۷- کدام گزینه به «مفهوم مقابل» عبارت زیر اشاره دارد؟

- «اما من می دیدم که خود پیرمرد در این سفرهای هر ساله به جستجوی تسلائی می رفت: برای غم غربتی که در شهر به آن دچار می شد.»
- (۱) از دل نبرد شوق وطن عزت غربت
(۲) می برد یاد وطن را عزت غربت ز دل
(۳) رنج غربت نکشد هر که درین فصل بهار
(۴) جانبا به غربستان چندین بنماند کس
- در صلب گهر آب همان قطره زنان است
آب چون واصل به گوهر شد جدا کی می شود؟
قفس بلبل ما را به گلستان آویخت
باز آی که در غربت قدر تو نداند کس

۱۸- ابیات کدام گزینه با عبارت زیر متناسب ترند؟

«پادشاه عالم، خبر که داد در این قصه، از حسن سیرت او داد، نه از حسن صورت او داد، تا اگر نتوانی که صورت خود را چون صورت او گردانی؛ باری، بتوانی که سیرت خود را چون سیرت او گردانی.»

- (الف) سیرت نکنند جلوه در آینه فولاد
(ب) معنی شود ز نازکی لفظ، دلپذیر
(ج) ما به حسن معنی از صورت قناعت کرده ایم
(د) کدام ظاهر و باطن موافق است به هم؟
(ه) با وجود حسن معنی، خواهش صورت خطاست
- زنهار در آینه زانو نظری کن
در شیشه است جلوه دیگر شراب را
بوشناسان را قماش پیرهن منظور نیست
دلش ز سنگ بود گر سپهر مینایی است
پیش لیلی دامن محمل نمی باید گرفت

- (۱) الف - ه (۲) ب - د (۳) ج - د (۴) ج - ه



۱۹- مفهوم کدام گزینه متفاوت است؟

- ۱) عاشق که حرف عشق به اغیار می‌زند
- ۲) ما زبان اندر کشیدیم از حدیث خلق و روی
- ۳) یکی است محرم و بیگانه پیش غیرت من
- ۴) هر نگاهی محرم رنگ لطیف عشق نیست

۲۰- همهٔ گزینه‌ها با بیت «به روز مرگ، چو تابوت من روان باشد / گمان مبر، که مرا درد این جهان باشد» تناسب دارند، به جز

- ۱) چون ندارد ریشه در صحرای امکان گردباد
- ۲) از ره صحرانوردان تا توان برچید خار
- ۳) نیست با تن جان وحشت دیده را دل بستگی
- ۴) ریشه در خاک تعلق نیست اهل شوق را

۲۱- مضمون کدام گزینه متفاوت است؟

- ۱) می‌جهند از آه مظلومان سلامت ظالمان
- ۲) آه مظلومان چه سازد با تو ای بیدادگر؟
- ۳) چرا آرام یک‌جا در بدن پیکان نمی‌گیرد؟
- ۴) مکافات عمل از هیچ کس رشوت نمی‌گیرد

۲۲- کدام گزینه با عبارت «اگر به دادهٔ خدا قانع بودی و خرسند نمودی، ردای من به بازار به گرو نرفتی!» تناسب بیشتری دارد؟

- ۱) گر سنگ ببارد، نتوان قطع طمع کرد
- ۲) از پیر، حرص زر به مداوا نمی‌رود
- ۳) توان به خون جگر سرخ داشت تا رخسار
- ۴) نمی‌شود ز مگس خیرگی به راندن دور

۲۳- کدام گزینه با بیت «آتش عشق است کاندر نی فتاد / جوشش عشق است کاندر می‌فتاد» تناسب بیشتری دارد؟

- ۱) ندانم کیست معشوقم ز حیرانی، همین دانم
- ۲) خموش باش اگر پخته‌گشته‌ای که شراب
- ۳) سرگرمی افلاک ز عشق است که بی‌عشق
- ۴) باز آن که از قیامت شوق جمال تو

۲۴- مفهوم کدام گزینه متفاوت است؟

- ۱) وقت آن خوش که در این راه نگرید گره
- ۲) همّت آبلهٔ پای طلب را نازم!
- ۳) کعبه از باب‌السلام آغوش وا کرده است و ما
- ۴) نعل هرکس را که شوق کعبه در آتش گذاشت

۲۵- کدام گزینه با عبارت «یکی از بندگان گنهکار پریشان روزگار، دستِ انابت به امید اجابت به درگاه حق جَلَّ و عَلا بر دارد، ایزد تعالی در او نظر

نکند بازش بخواند؛ باز اعراض فرماید. بار دیگرش به تضرع و زاری بخواند.» متناسب‌تر است؟

- ۱) چنین که نالهٔ من از قبول نومیدست
- ۲) نومید نیستم ز ترازوی عدل حق
- ۳) در حیرتم که توبه کنم از کدام جرم
- ۴) نیستم از کرم بحر چو عنبر نومید

آبی به روی صورت دیوار می‌زند
گر حدیثی هست با یارست و با اغیار نیست
ترا نهفته ز خود در کنار می‌خواهم!
پرده‌ای از اشک بر رخسار می‌باید کشید

می‌برد آوارگی زود از بیابان گردباد
نیست ممکن پای خود پیچد به دامان گردباد
می‌فشانند گرد هستی از خود آسان گردباد
می‌رود بیرون ز دنیا پای‌کوبان گردباد

برق اگر سالم ز خرمنگاه می‌آید برون
کز دل سخت است در زیر قبا جوشن تو را
اگر نه ظلم در چشم ستمگر خواب می‌سوزد
گرفتم شد به فرض از ظلم ظالم پادشا غافل

صائب ز نهالی که امید ثمری هست
این تب به مرگ می‌رود از استخوان برون
کسی چرا ز طمع روی خویش زرد کند
ز منع، حرص طمع‌کار می‌شود افزون
که از هر ذره خاکم هاپهوی عشق می‌آید
ز جوش تا نشیند به مدعا نرسد
دیگی بود افلاک که از جوش فتاده
وقت است نامه بال پریدن برآورد

سینه چون آبله بر خار مغیلان زد و رفت
که به مشتاطگی خار مغیلان برخاست
دامن محمل به مژگان مغیلان بسته‌ایم
جای چون مژگان دهد خار مغیلان را به چشم

عجب که کوه صدای مرا جواب دهد
زان سر دهند هر چه ازین سر نداده‌اند
بیش از شمار جرم و گناه کسی مباد
گر چه از خمی دل نامه‌سیاه آمده‌ایم



زبان عربی (عمومی)

■ عین الصحيح في الجواب للترجمة أو التعريب (۳۵ - ۲۶):

۲۶- ﴿ما يُريد الله ليُجعل عليكم من حرج﴾:

- (۱) خداوند نمی خواهد تا بر شما سختی ای قرار بدهد!
(۲) خداوند نمی خواهد که بر شما دشواری قرار داده شود!
(۳) الله نخواستہ است کہ بر شما سختی ای قرار بدهد!
(۴) الله نخواست تا برای شما دشواری قرار دهد!

۲۷- «يشعر الإنسان أحياناً بسعادةٍ نفسه و ذلك عندما يرى أنه قد أنجز عملاً مفيداً»:

- (۱) انسان هنگامی می بیند کار مفیدی را به خوبی انجام داده است، احساس خوشبختی در خود می کند!
(۲) گاهی انسان خوشبختی خود را حس می کند و آن وقت است که او می بیند کار مفیدی را به اتمام رسانده است!
(۳) انسان گاهی خوشبختی خویش را احساس می کند و آن زمانی است که او می بیند کار مفیدی را انجام داده است!
(۴) انسان گهگاه خود احساس خوشبختی می کند و آن فقط زمانی است که او کار مفیدی را به انجام رسانیده است!

۲۸- «هناك آيات كثيرة في القرآن الكريم تدعو الناس إلى اكتساب الأخلاق الفاضلة»:

- (۱) آیه های فراوانی که در قرآن کریم وجود دارد، مردم را به کسب اخلاق نیکو دعوت می کند!
(۲) در قرآن کریم آیه های زیادی وجود دارد که مردم را به بدست آوردن اخلاق برجسته دعوت کرده است!
(۳) آیه های بسیاری در قرآن کریم وجود دارد که در آن ها مردم به کسب اخلاق وارسته دعوت شده اند!
(۴) در قرآن کریم آیه های بسیاری وجود دارد که مردم را به بدست آوردن اخلاق نیکو دعوت می کند!

۲۹- «قد أصيب والدي بركامٍ و عنده حمى شديدة و يشعر بالوهن في جسمه»:

- (۱) پدرم دچار یک سرماخوردگی شده و نزد او تبی شدید است و گاهی در بدنش احساس سستی دارد!
(۲) پدر به سرماخوردگی و تب شدیدی دچار شده است و در بدنش سستی را احساس می کند!
(۳) پدر من دچار سرماخوردگی شده است و تب شدیدی دارد و در بدنش احساس سستی می کند!
(۴) پدر من دچار یک سرماخوردگی و تبی شدید شده است و نیز بدنش احساس سستی دارد!

۳۰- «تُشجع الطالبات الثلاث زميلاتهنّ على أن يطفئن المصابيح و المكيف عند الخروج من الصفا»:

- (۱) سه دانش آموز هم کلاسی های خود را تشویق می کنند بر این که هنگام بیرون رفتن از کلاس چراغ ها و کولر را خاموش کنند!
(۲) دانش آموزان سه هم کلاسی خود را تشویق می کنند که بعد از بیرون رفتن از کلاس چراغ ها و کولر را خاموش کنند!
(۳) آن سه دانش آموز هم کلاسی های خود را به خاموش کردن چراغ ها و کولر هنگام خروجشان از کلاس تشویق می کردند!
(۴) سه دانش آموز دوستان خود را تشویق می کردند که چراغ ها و کولر را هنگام خروج از کلاس خاموش کنند!

۳۱- «لن يوافق الجميع على اقتراحك هذا إلا إذا جئتهم بدلائل قوّة»:

- (۱) با این پیشنهادها تو همگی موافقت نخواهند کرد مگر این که نزد آن ها با دلایلی قوی بیایی!
(۲) همگان تنها زمانی با این پیشنهاد تو موافقت خواهند کرد که برای آن ها دلایلی قوی بیاوری!
(۳) هیچ کس با این پیشنهادها تو موافقت نمی کند مگر آن که نزد آنان با دلایلی محکم بیایی!
(۴) زمانی همگان با پیشنهاد تو موافقت می کنند که برای آن ها دلایل قوی و محکم بیاوری!

۳۲- «المفردات التي دخلت اللغة العربية من لغات أخرى و تغيرت أصواتها و أوزانها تُسمّى المفردات الدخيلة»:

- (۱) واژگانی که از دیگر زبان ها به زبان عربی وارد شده اند، صداها و وزن هایشان تغییر می کنند و واژگان وارد شده نامیده می شوند!
(۲) واژگانی که از زبان هایی دیگر وارد زبان عربی شده، و صداها و وزن هایشان تغییر یافته اند، واژگان وارد شده نامیده می شوند!
(۳) واژگانی را که از دیگر زبان ها وارد عربی می شوند و آواها و وزن هایشان تغییر پیدا می کنند، واژگان وارد شده می نامند!
(۴) واژگانی که از سایر زبان ها وارد زبان عربی شده اند و آواها و وزن هایشان را تغییر داده اند، واژگان وارد شده نامیده شده اند!



۳۳- عین الخطأ:

- (۱) لا تحزن علی أخطاء قد ارتكبتها بل تعلم من كل منها درساً جديداً! بر اشتباهاتی که مرتکب آن‌ها شده‌ای ناراحت مشو، بلکه از هر یک از آن‌ها درس جدیدی را بیاموز!
- (۲) ما من صفحة من التاريخ إلا وفيها كثير من العبر! هیچ صفحه‌ای از تاریخ نیست مگر آن‌که در آن بسیاری از عبرت‌هاست!
- (۳) يُعدّ العمل في المناجم من أصعب الأعمال في العالم! کار کردن در معدن‌ها را از سخت‌ترین کارها به شمار می‌آورند!
- (۴) إعلموا أنّ للعلم والعقل قيمة لا للتسبب والمال! بدانید که دانش و خرد ارزش دارند نه دودمان و ثروت!

۳۴- عین الصحیح:

- (۱) إنّ التکنیات الحديثة كالجوّال و الإنترنت تُقرب علينا البعيد: تکنولوژی‌های جدید هم‌چون موبایل و اینترنت دور را به ما نزدیک ساخته‌اند،
- (۲) و سهّلت أمورنا الصعبة تسهياً في كثير من المجالات: و در بسیاری از زمینه‌ها کارهای دشوار ما را آسان ساخته‌اند،
- (۳) ولکنها قد تُبعد الناس خاصة الشباب من القيم الأخلاقية: و اما آن‌ها گاهی مردم مخصوصاً جوانان را از ارزش‌های اخلاقی دور می‌سازند،
- (۴) فلننذكر أنّها قد تلعب دوراً سلبياً في حياتنا! پس به خاطر می‌سپاریم که آن‌ها می‌توانند نقشی منفی در زندگی مان ایفا کنند!

۳۵- «به روستایی سفر کردم که عکس‌هایش را در روزگار کودکی‌ام دیده بودم!»: عین الصحیح:

- (۱) أسافر إلى قرية شاهدت صورتها أيام صغري! (۲) سافرت إلى قرية كنتُ أشاهد صورها أيام صغري!
- (۳) سافرت إلى تلك القرية التي شاهدت صورتها في صغري! (۴) سافرت إلى قرية شاهدت صورها أيام صغري!

■ ■ ■ اقرأ النص التالي بدقة ثم أجب عن الأسئلة التالية بما يناسب النص (۴۲ - ۳۶):

البطالة (بیکاری) ظاهرة تُعاني منها جميع المجتمعات خاصة الدول النامية. فعلى جميع الدول أن «تُكافح» هذه المشكلة. العاطل هو كل قادر على العمل و راغب فيه يبحث عنه ولكن لا تُوجد له فرصة للعمل.

إن البطالة تُسبب المشاكل النفسية و الجسميّة خاصةً لجيل الشباب. فقد أكد العلماء أنّ نسبة كبيرة من العاطلين يفتقدون ثقتهم بأنفسهم و يشعرون بالفشل كما تُوجد فيهم حالات القلق و الكآبة (افسردگی). إضافة إلى ذلك البطالة مصدر للمشاكل الاجتماعية و الأمنيّة. و لهذا نرى دين الإسلام يدعو الناس إلى العمل و اتخاذ مهنة و الإتقان فيها. فقد جاء في الحديث الشريف: «إن الله يُحب المُحتَرِف الأمين!»

۳۶- ما معنى «تُكافح» في السطر الأول؟

- (۱) تُساعد (۲) تُمارس (۳) تُحارب (۴) تُستفيد

۳۷- على حسب النص أي شخص يُعد عاطلاً:

- (۱) المتقاعد الذي يبلغ من العمر سبعين عاماً! (۲) المتخرّج الذي ليس له مجال للعمل!
- (۳) الطالب الذي قد اشتغل بدراسته في الجامعة! (۴) الشاب الذي لا عمل له لأنه لا يبحث عنه!

۳۸- على حسب النص :

- (۱) جميع العاطلين يشتكون من الأمراض النفسية! (۲) لا بطالة تُوجد في الدول المتقدّمة و الغنيّة!
- (۳) يجب على جميع الدول إيجاد فرص للعمل لمواطنيها! (۴) لا تُوجد حالات القلق و الكآبة بين العاملين و الموظّفين!

۳۹- لماذا يدعو الإسلام المسلمين إلى العمل؟

- (۱) لأنه يُريد بناء مجتمع سعيد ليست فيه مشكلة! (۲) لأنه يُريد أن يُتقن الناس عملهم!
- (۳) لأنّ العلماء أثبتوا أنّ البطالة مضرّة للجسم! (۴) لأنّ من لا عمل له فسوف يموت جوعاً!

■ عین الصحیح في الإعراب و التحليل الصرفي (۴۲ - ۴۰):

۴۰- «تُسبب»:

- (۱) فعل مضارع - للغائب - مزيد ثلاثي من باب «تفعل» - معرب / فعل و الجملة الفعلية
- (۲) للمخاطب - مزيد ثلاثي - متعدّد - معرب / فعل و فاعله «البطالة»
- (۳) فعل مضارع - للغائب - مزيد ثلاثي - مجهول / فعل و الجملة الفعلية
- (۴) للغائب - مزيد ثلاثي من باب «تفعليل» - متعدّد - معلوم / فعل مع فاعله و الجملة الفعلية



۴۱- «یدعو»:

- (۱) فعل ماضی - للغائب - مجزّد ثلاثی - مبني / فعل و الجملة الفعلية
- (۲) فعل مضارع - للغائب - مجزّد ثلاثی - لازم / فعل مع فاعله و الجملة الفعلية
- (۳) للغائب - مجزّد ثلاثی (مصدره: دَعَوْه) - معرب / فعل و فاعله «دين»
- (۴) فعل مضارع - مجزّد ثلاثی - متعدّد / فعل مع فاعله و الجملة الفعلية

۴۲- «ظاهرة»:

- (۱) مفرد مؤنث - اسم فاعل من فعل مجزّد - نكرة / خبر و موصوف بجملة
- (۲) مفرد مؤنث - اسم فاعل من فعل «ظَاهَرَه» - نكرة / خبر للمبتدأ «البطالة»
- (۳) اسم - مفرد مؤنث (جمعه: ظواهر) - نكرة - مبني / خبر و مرفوع
- (۴) اسم - مفرد مذکر - نكرة - معرب / خبر و مرفوع بالضمّة

■ ■ ■ عيّن المناسب في الجواب عن الأسئلة التالية (۵۰ - ۴۳):

۴۳- عيّن الخطأ في ضبط حركات الكلمات:

- (۱) إن تأملوا في خلق الله تأملاً تزوا عظمة الله و حكمتها!
- (۲) إن بلادنا إيران من أكبر الدول المصدرة للنفط و الغاز!
- (۳) تعاونوا على البرّ و الخير و لا تعاونوا على الإثم و الشرّ!
- (۴) يقدر هذا النوع من السمك أن يطير فوق الماء خمسين ثانية!

۴۴- عيّن غير المناسب للفراغ:

- (۱) إن المشروبات الباردة تضرّ ب.....! الأسنان
- (۲) تستطيع الحرياء أن..... عينيها في اتجاهات مختلفة! تدور
- (۳) إن..... بإمكانها أن تتلف المحاصيل! الجرادة
- (۴) إن صديق السوء.....سك إلى الأسفل! يجرّ

۴۵- عيّن ما ليس فيه الترادف:

- (۱) أطفال فاطمة المصباح و أغلقت سميّة حنفيّة الماء!
- (۲) ليس في قاموس الناجحين كلمتا الفشل و الهزيمة!
- (۳) أعطيت زينب جائزة ذهبيّة و منحت زميلتها جائزة فضيّة!
- (۴) خيّرت بين الإقامة معه معززة أو العودة إلى بيتها مكرّمة!

۴۶- عيّن الصحيح (في علامات الإعراب):

- (۱) رأينا المصلون في المسجد و هم يدعون الله!
- (۲) التقط المصورّ صوراً جميلة من أعماق المحيط!
- (۳) الطلاب المهذبون محبوبون عند جميع الناس!
- (۴) رضا الله في رضا الوالدين!

۴۷- عيّن ما فيه اسم المكان:

- (۱) إن موعد الجلسة في الساعة الثامنة صباحاً!
- (۲) تحدّث الأستاذ عن مواضيع كثيرة!
- (۳) إستلمت رسالة من صديقي عبر الإنترنت!
- (۴) إلهي أنت ملجئي عند اضطراري!

۴۸- عيّن الصحيح في النفي:

- (۱) أجبت عن هذا السؤال: لم أجب عن هذا السؤال!
- (۲) سوف نساfer غداً: لا سوف نساfer غداً!
- (۳) يجلسون على هذه المقاعد: لا يجلسوا على هذه المقاعد!
- (۴) كنت أطلع دروسي: كنت لم أطلع دروسي!

۴۹- عيّن ما ليس فيه الحال:

- (۱) من يتأمل في الكون يرّ أنه لم يخلق باطلاً!
- (۲) قد لا يكون أولئك الذين يمنحون جائزة نوبل للسلام أهلاً لها!
- (۳) إنعقدت في الكلية حفلة كبيرة تقديراً لجهود أستاذنا و هو يشكر الجميع!
- (۴) إن نصل إلى المحطة متأخرات فسوف نفوت القطار!

۵۰- عيّن فعلاً مجهولاً تبين نوعه:

- (۱) قُتل جنودنا الأبطال في إحدى المعارك مظلومين!
- (۲) يشجّع الطلاب على أن يهتموا بالدراسة اهتماماً بالغاً!
- (۳) نفهم الدروس فهماً لأنّ المعلم يوضّحها لنا توضيحاً كاملاً!
- (۴) يجب أن تُوزع الإمكانات بين جميع المواطنين توزيعاً عادلاً!



۵۱- مفهوم حدیث شریف «تَفَكَّرُوا فِي كُلِّ شَيْءٍ...» در کدام بیت تأکید شده است؟

- (۱) به بینندگان آفریننده را / نبینی، مرنجان دو بیننده را
- (۲) ستودن نداند کس او را چو هست / میان بندگی را ببايدت بست
- (۳) نیابد بدو نیز اندیشه راه / که او برتر از نام و از جایگاه
- (۴) دلی کز معرفت نور و صفا دید / به هر چیزی که دید، اوّل خدا دید

۵۲- فرض نادرست تعویض مداوم شخصیت انسان در دوران عمر مشروط بر چه امری است؟

- (۱) وابستگی شخصیت انسان به بعد فناپذیر او
 - (۲) تعلق داشتن من انسان به بعد تجزیه پذیر او
 - (۳) تعلق داشتن شخصیت انسان به ساحت تلاشی ناپذیر او
 - (۴) وابستگی من انسان به ساحت فارغ از محدودیت مکان و زمان
- ۵۳- درک محسوس تر از قدرت خداوند کدام است و عبارت قرآنی «... او بر هر خلقتی داناست» مؤید کدام استدلال قرآنی درباره معاد است؟

- (۱) اشاره قرآن کریم به نمونه‌هایی از زنده شدن مُردگان - امکان معاد و پیدایش نخستین انسان
- (۲) اشاره قرآن کریم به نمونه‌هایی از زنده شدن مُردگان - امکان معاد و نظام مرگ و زندگی در طبیعت
- (۳) اشاره قرآن به خلق سر انگشتان به حالت اول آن - امکان معاد و نظام مرگ و زندگی در طبیعت
- (۴) اشاره قرآن به خلق سر انگشتان به حالت اول آن - امکان معاد و پیدایش نخستین انسان

۵۴- حدیث قدسی «سلسلة الذهب» بیش از هر چیز تداعی‌گر کدام موضوع است؟

- (۱) مرجعیت دینی - حفظ سخنان و سیره پیامبر (ص)
- (۲) مرجعیت دینی - اصول کلی امامان در مبارزه با حاکمان جور
- (۳) ولایت ظاهری - حفظ سخنان و سیره پیامبر (ص)
- (۴) ولایت ظاهری - اصول کلی امامان در مبارزه با حاکمان جور

۵۵- اگر بگوییم خداوند متعال «صاحب اختیاری است که همه امور به دست اوست» کدام یک از صفات الهی را یادآور شده‌ایم و حقیقت ناسپاسی

در برابر انسان نعمت‌دهنده چیست؟

- (۱) «اللَّهُ الصَّمَدُ» - «لَمْ يَشْكُرِ اللَّهُ»
- (۲) «اللَّهُ الصَّمَدُ» - «لَعَلَّكُمْ تَشْكُرُونَ»
- (۳) «رَبِّ الْعَالَمِينَ» - «لَعَلَّكُمْ تَشْكُرُونَ»
- (۴) «رَبِّ الْعَالَمِينَ» - «لَمْ يَشْكُرِ اللَّهُ»

۵۶- اگر از ما بپرسند چرا راه بازگشت گناهکار به سوی خداوند همیشه باز است، در پاسخ چه می‌گوییم و این پاسخ با کدام آیه هم‌سوئی دارد؟

- (۱) خشم الهی به قصد انتقام‌گیری از بندگان نیست - «كَلَّا نُمِدُّ هُوْلَاءِ وَ هُوْلَاءِ مِنْ عَطَاءِ رَبِّكَ ...»
- (۲) خشم الهی به قصد انتقام‌گیری از بندگان نیست - «مَنْ جَاءَ بِالْحَسَنَةِ فَلَهُ عَشْرُ امْتَالِهَا ...»
- (۳) خداوند متعال به همه بندگان امکانی هم‌چون اختیار داده است - «مَنْ جَاءَ بِالْحَسَنَةِ فَلَهُ عَشْرُ امْتَالِهَا ...»
- (۴) خداوند متعال به همه بندگان امکانی هم‌چون اختیار داده است - «كَلَّا نُمِدُّ هُوْلَاءِ وَ هُوْلَاءِ مِنْ عَطَاءِ رَبِّكَ ...»

۵۷- سفارش امام محمد باقر (ع) به محمدبن مسلم پس از تلاوت آیه شریفه «اوست که توبه بندگان را می‌پذیرد و گناهان را می‌بخشد...» مبنی

بر توجه به کدام عبارت شریفه است؟

- (۱) «لَا تَقْتُلُوا مِنْ رَحْمَةِ اللَّهِ إِنَّ اللَّهَ يَغْفِرُ الذُّنُوبَ جَمِيعًا»
- (۲) «الْتَّائِبُ مِنَ الذَّنْبِ كَمَنْ لَا ذَنْبَ لَهُ»
- (۳) «إِنَّ اللَّهَ يُحِبُّ التَّوَّابِينَ وَ يُحِبُّ الْمُتَطَهِّرِينَ»
- (۴) «الْتَّوْبَةُ تُطَهِّرُ الْقُلُوبَ وَ تَغْسِلُ الذُّنُوبَ»

۵۸- چگونه مشکلات پیش روی ازدواج از سوی دختران و پسران و والدین به ترتیب قابل رفع است؟

- (۱) کم کردن توقعات خویش - تدبیر در جهت فراهم آوردن ازدواج آسان
- (۲) تدبیر در جهت فراهم آوردن ازدواج آسان - کم کردن توقعات خویش
- (۳) چاره اندیشی برای کاهش مشکلات اقتصادی - کم کردن توقعات خویش
- (۴) از میان برداشتن مشکلات با هم‌اندیشی - تدبیر در جهت فراهم آوردن ازدواج آسان



- ۵۹- نتیجه این استدلال که «هر موجودی به آفریننده‌ای نیاز دارد» چیست و لازمه آن چه چیزی است که از نظر عقلی محال است؟
- (۱) هیچ چیزی در عالم امکان وجود پیدا نکند - ابطال دور
(۲) رسیدن به علت العلل که همان واجب الوجود است - ابطال دور
(۳) رسیدن به علت العلل که همان واجب الوجود است - تسلسل علت‌ها
(۴) هیچ چیزی در عالم امکان وجود پیدا نکند - تسلسل علت‌ها
- ۶۰- بیت «بندگی کن تا که سلطانت کنند / تن رها کن تا همه جانت کنند» مؤید چه موضوعی است؟
- (۱) عدم نفوذ شیطان در فریب دادن مؤمنانی که اخلاص پیشه کرده‌اند.
(۲) دست یافتن به درجاتی از علم محکم و استوار و دور از خطا که راه را نشان می‌دهد.
(۳) دوری از گناه و تلاش برای انجام فرایض الهی از راه‌های قوام‌بخش اخلاص است.
(۴) دریافت پاداش‌های وصف نشدنی، که نتیجه بندگی خالصانه خداوند است.
- ۶۱- وجوب فراهم نمودن زیرساخت‌های لازم برای پایگاه‌های ارتباطی بومی و داخلی به دولت اسلامی با تمسک به کدام آیه شریفه قابل استمساک است؟
- (۱) «أَقْمِنِ أَسْسَ بُنْيَانِهِ عَلَى تَقْوَىٰ مِنَ اللَّهِ وَ رِضْوَانٍ خَيْرٍ»
(۲) «يَا مَعْشَرَ التَّجَارِ الْفِئَةِ، ثُمَّ الْمَتَجِرِّ»
(۳) «وَلَنْ يَجْعَلَ اللَّهُ لِلْكَافِرِينَ عَلَى الْمُؤْمِنِينَ سَبِيلًا»
(۴) «مُحَمَّدٌ رَسُولُ اللَّهِ وَالَّذِينَ مَعَهُ أَشِدَّاءُ عَلَى الْكُفَّارِ رُحَمَاءُ بَيْنَهُمْ»
- ۶۲- بعد از آن‌که خداوند تشخیص بدکاری و پرهیزکاری را به انسان الهام می‌کند، چه موضوعی را بیان می‌کند؟
- (۱) عدم تخلیه و پیرایش نفس، تابع بی‌بهره بودن از رحمت الهی است.
(۲) بشارت و انذار مندرج در این آیه شریفه مؤید قوه تعقل و تفکر است.
(۳) رمز فلاح و رستگاری انسان را، تزکیه نفس معرفی می‌کند.
(۴) تشخیص بدکاری از پرهیزکاری متبوع نفس ملهمه انسان است.
- ۶۳- به منصف ظهور رسیدن پیامد اعتقاد به خدا و جهان آخرت و انجام عمل صالح در کدام عبارت قرآنی تجلی دارد و پاسخ خداوند متعال در پاسخ کافران که زندگی را منحصر به زندگی دنیوی می‌دانند، چیست؟
- (۱) «فَلَاخَوْفٌ عَلَيْهِمْ وَلَا هُمْ يَحْزَنُونَ» - «مَا لَهُمْ بِذَلِكَ مِنْ عِلْمٍ إِنْ هُمْ إِلَّا يَتُنَبَّوْنَ»
(۲) «فَلَاخَوْفٌ عَلَيْهِمْ وَلَا هُمْ يَحْزَنُونَ» - «وَمَا يُهْلِكُنَا إِلَّا الدَّهْرُ»
(۳) «إِنَّ الدَّارَ الْآخِرَةَ لَهِيَ الْحَيَوَانُ» - «وَمَا يُهْلِكُنَا إِلَّا الدَّهْرُ»
(۴) «إِنَّ الدَّارَ الْآخِرَةَ لَهِيَ الْحَيَوَانُ» - «مَا لَهُمْ بِذَلِكَ مِنْ عِلْمٍ إِنْ هُمْ إِلَّا يَتُنَبَّوْنَ»
- ۶۴- اگر در پی تبیین و وظیفه انسان در برابر نظام قانونمند هستی باشیم، پیام کدام آیه شریفه یاری‌رسان ما در این راه خواهد بود؟
- (۱) «إِنَّ اللَّهَ يُمْسِكُ السَّمَاوَاتِ وَالْأَرْضَ أَنْ تَزُولَا...»
(۲) «قَدْ جَاءَكُمْ بَصَائِرٌ مِنْ رَبِّكُمْ فَمَنْ أَبْصَرَ فَلِنَفْسِهِ...»
(۳) «إِنَّا هَدَيْنَاهُ السَّبِيلَ إِمَّا شَاكِرًا وَإِمَّا كَفُورًا»
(۴) «أَلَلَّهُ الَّذِي سَخَّرَ لَكُمْ الْبَحْرَ لَتَجْرِي الْفُلُكُ فِيهِ بِأَمْرِهِ...»
- ۶۵- اهم موانع رشد و کمال و بندگی انسان کدام است؟
- (۱) نفس اماره و شیطانی که در کلام امیرالمؤمنین، دشمن‌ترین دشمن‌هاست.
(۲) عامل درونی که انسان را برای رسیدن به لذت‌های زودگذر دنیایی به گناه دعوت می‌کند و دشمن قسم‌خورده
(۳) شیطانی که در کلام قرآن فرمان‌دهنده به بدی‌هاست و نفس اماره که همان طغیانگر درونی است.
(۴) عامل بیرونی که کارش وسوسه کردن و فریب دادن است و تمایلات دانی
- ۶۶- کدام‌یک از ابیات ذیل اشاره به مقضی به قضای الهی بودن عالم دارد؟
- (۱) رودها از خود نه طغیان می‌کنند / آن‌چه می‌گوییم ما آن می‌کنند
(۲) ما همه شیران ولی شیر غلم / حمله مان از باد باشد دم به دم
(۳) گفت: کز چوب خدا این بنده اش / می زند بر پشت دیگر بنده اش
(۴) گر نبودی اختیار این شرم چیست / این دریغ و خجالت و آرم چیست؟
- ۶۷- با این‌که ممنوعیت نوشتن برداشته شده بود، به چه دلیلی احادیث صحیح از غلط به سادگی قابل تشخیص نبود؟
- (۱) عدم حضور اصحاب پیامبر (ص) و فوت یا شهادت آنان
(۲) تحریف در معارف اسلامی و جعل احادیث و تلاش عالمان وابسته به قدرت
(۳) برجسته شدن کسانی که در اندیشه و عمل و اخلاق از معیارهای اسلامی دور بودند.
(۴) راه یافتن خرافات وسطایی که مطابق افکار عالمان اهل کتاب و هماهنگ با منافع قدرتمندان بود.



۶۸- در قرار دادن پیامبر اکرم (ص) و اهل بیت (ع) به عنوان اسوه و الگو مهم‌ترین موضوع چیست؟

- ۱) با تأسی از آنان سریع‌تر به هدف برسیم.
- ۲) مانند ایشان عمل کنیم و از تجربه‌هایشان بهره‌مند شویم.
- ۳) می‌توانیم بفهمیم این راه، راه موفقیت و پیروزی است.
- ۴) باید بتوانیم در حدّ توان عین آنان باشیم و در همان حد عمل کنیم.

۶۹- با امعان نظر به آیات قرآنی چه زمانی غبار ذلت به چهره انسان مستولی می‌گردد و کدام آیه نشانگر این موضوع است؟

- ۱) نشناختن جایگاه خویش - «...أَقْبَالِ الْبَاطِلِ يُؤْمِنُونَ وَ بِنِعْمَةِ اللَّهِ هُمْ يَكْفُرُونَ»
 - ۲) نشناختن جایگاه خویش - «وَ الَّذِينَ كَسَبُوا السَّيِّئَاتِ جَزَاءُ سَيِّئَةٍ بِمِثْلِهَا وَ تَرْهَقُهُمْ ذِلَّةٌ...»
 - ۳) تسلیم شدن در برابر هوی و هوس - «وَ الَّذِينَ كَسَبُوا السَّيِّئَاتِ جَزَاءُ سَيِّئَةٍ بِمِثْلِهَا وَ تَرْهَقُهُمْ ذِلَّةٌ...»
 - ۴) تسلیم شدن در برابر هوی و هوس - «...أَقْبَالِ الْبَاطِلِ يُؤْمِنُونَ وَ بِنِعْمَةِ اللَّهِ هُمْ يَكْفُرُونَ»
- ۷۰- در بیان قرآن کریم رمز سعادت و رستگاری انسان چه چیزی دانسته شده است و چه زمانی اتفاق می‌افتد و با چه چیزی آغاز می‌شود؟

- ۱) تزکیه نفس - زمانی که انسان اراده کند - با ایمان به خداوند
 - ۲) تزکیه نفس - وقتی که نفس از آلودگی پاک شود - با توبه از گناهان
 - ۳) تقوا - وقتی که نفس از آلودگی پاک شود - با ایمان به خداوند
 - ۴) تقوا - زمانی که انسان اراده کند - با توبه از گناهان
- ۷۱- قطعیت زبان‌کاری برای کسانی که ایمان و عمل صالح و سفارش به صبر و حق را ترک کرده‌اند، در کدام عبارت مشهود است؟

- ۱) اتمام حجت خداوند با ارسال رسولان
- ۲) دادن ویژگی‌هایی هم‌چون اختیار و عقل به انسان
- ۳) ارسال قرآن کریم و اعطای حجت باطنی و ظاهری به انسان
- ۴) سوگند خداوند کریم به عصر و زمان و اهمیت آن

۷۲- گفت‌وگوی پیامبر اعظم (ص) با کشتگان لشکر کفار در جنگ بدر ما را به چه موضوعی رهنمون می‌سازد؟

- ۱) تمام اعمال انسان در رستاخیز حاضر می‌گردد و آدمی عین عمل خود را مشاهده می‌کند.
- ۲) پاداش و کیفر حاصل خود عمل است و انسان‌ها نمی‌توانند آن را تغییر دهند.
- ۳) زندگی دنیوی هم‌چون خوابی گذراست و جهان آخرت زندگی حقیقی و جاودانه است.
- ۴) رابطه انسان در عالم برزخ با دنیا، بعد از مرگ هم‌چنان تداوم دارد.

۷۳- مایه زینت و زیبایی اهل بیت (ع) بودن در کلام امام صادق (ع) تابع چیست و کدام‌یک از عوامل مؤثر در معرفت و محبت به امام زمان (ع) و

زدودن تردیدهاست؟

- ۱) پیروی عملی از اهل بیت (ع) - انتظار برای سرنگونی ظالمان و گسترش عدالت
- ۲) تقویت معرفت و محبت به اهل بیت (ع) - انتظار برای سرنگونی ظالمان و گسترش عدالت
- ۳) تقویت معرفت و محبت به اهل بیت (ع) - شناخت جایگاه امام در پیشگاه الهی
- ۴) پیروی عملی از اهل بیت (ع) - شناخت جایگاه امام در پیشگاه الهی

۷۴- تجدیدنظر دانشمندان در نوشته‌های گذشته خویش یادآور کدام جنبه اعجاز قرآن کریم است و کدام آیه شریفه مؤید آن است؟

- ۱) جامعیت و همه‌جانبه بودن قرآن کریم - «قُلْ لَئِنِ اجْتَمَعَتِ الْإِنْسُ وَ الْجِنَّ عَلَىٰ أَنْ يَأْتُوا بِمِثْلِ هَذَا الْقُرْآنِ»
- ۲) جامعیت و همه‌جانبه بودن قرآن کریم - «أَفَلَا يَتَذَكَّرُونَ الْقُرْآنَ وَ لَوْ كَانَ مِنْ عِنْدِ غَيْرِ اللَّهِ لَوَجَدُوا فِيهِ اخْتِلَافًا كَثِيرًا»
- ۳) انسجام درونی در عین نزول تدریجی قرآن - «أَفَلَا يَتَذَكَّرُونَ الْقُرْآنَ وَ لَوْ كَانَ مِنْ عِنْدِ غَيْرِ اللَّهِ لَوَجَدُوا فِيهِ اخْتِلَافًا كَثِيرًا»
- ۴) انسجام درونی در عین نزول تدریجی قرآن - «قُلْ لَئِنِ اجْتَمَعَتِ الْإِنْسُ وَ الْجِنَّ عَلَىٰ أَنْ يَأْتُوا بِمِثْلِ هَذَا الْقُرْآنِ»

۷۵- این حکم که فرد باید هم روزه را قضا کند و هم برای هر روز یک مدّ گندم و مانند آن به فقیر بدهد، شامل چه کسانی می‌شود؟

- ۱) شخصی که بدون عذری در ماه رمضان روزه نگیرد و فقط قضای روزه را گرفته باشد.
- ۲) کسی که عمداً به مسافرت رفته است و تا رمضان آینده عمداً قضای روزه را نگرفته باشد.
- ۳) شخصی که به علت عذری در ماه مبارک رمضان روزه نگیرد و تا رمضان آینده سهواً قضای آن را نگیرد.
- ۴) کسی که بدون عذری در ماه مبارک رمضان روزه نگیرد و تا رمضان آینده عمداً قضای آن را نگیرد.

**PART A: Grammar and Vocabulary**

Directions: Questions 76-87 are incomplete sentences. Beneath each sentence you will see four words or phrases, marked (1), (2), (3), and (4). Choose the one word or phrase that best completes the sentence. Then mark your answer sheet.

- 76- The goalkeeper was having a bad day, so he let in a couple of weak goals, he?
1) wasn't
2) doesn't
3) didn't
4) hasn't
- 77- I think even if Allen were ten years older and a child, he still be as irresponsible as he is now.
1) had / would
2) has / will
3) had / will
4) has / would
- 78- The risk of from smoking-related causes drops significantly within just a few months of giving up
1) dying / to smoke
2) die / to smoke
3) dying / smoking
4) die / smoking
- 79- The planet Mars by scientists as the best candidate for human colonization.
1) has long been considered
2) has long considered
3) is long considered
4) is long considering
- 80- The boss is pretty busy, so he can only a few minutes to talk to you today.
1) remind
2) forgive
3) compile
4) spare
- 81- We have a in this area most summers, and as a consequence, we're not allowed to wash our cars for a while.
1) resource
2) drought
3) variety
4) condition
- 82- The hospital has been closed to visitors, and all patients are being monitored in a/an to stop a further outbreak of the virus.
1) attempt
2) inspiration
3) experience
4) pattern
- 83- The weather forecast on television a sunny start on Sunday but showers arriving later in the day.
1) predicted
2) involved
3) developed
4) arranged
- 84- Obesity is often caused as much by genetics as by a lack of physical activity combined with too many calories.
1) generating
2) measuring
3) consuming
4) providing
- 85- Our desserts, apart from their taste and all-natural ingredients, have the added bonus of containing 30% less fat than regular desserts.
1) medical
2) generous
3) delicious
4) willing
- 86- The first airplane landed at the geographic of the North Pole in May of 1952.
1) location
2) variation
3) situation
4) combination
- 87- Neurons are individual cells in the system which receive, transmit and integrate information.
1) emotional
2) physical
3) nervous
4) creative

**PART B: Cloze Test**

Directions: Questions 88-92 are related to the following passage. Read the passage and decide which choice, (1), (2), (3), or (4), best fits each space. Then mark your answer sheet.

Early radio was often called “the wireless” because radio uses invisible waves instead of wires to carry messages from one place to another. Today radio waves are an important means of ...88... sounds, pictures, and data all over the world. Within the circuits of a radio transmitter, rapidly varying electric currents ...89... radio waves of different lengths that travel to a radio receiver. Radio waves are a type of electromagnetic (EM) wave, ...90... light and x-rays. Like these waves, radio waves travel at the speed of light, 186,000 miles (300,000 km) per second, ...91... . Radio waves can travel through the air, solid materials, or even empty space, but ...92... most efficiently by putting the transmitting antenna on high ground like a hill.

- 88- 1) communicating 2) distinguishing 3) reproducing 4) introducing
 89- 1) attempt 2) increase 3) generate 4) belong
 90- 1) different from 2) in spite of 3) rather than 4) similar to
 91- 1) near one million times the speed of sound waves
 2) nearly one million times the speed of sound waves
 3) near one million time the speed of sound's wave
 4) nearly one million time the speed of sound's wave
 92- 1) sent 2) are sent 3) were sent 4) send

PART C: Reading Comprehension

Directions: In this part of the test, you will read two passages. Each passage is followed by four questions. Answer the questions by choosing the best choice, (1), (2), (3), or (4). Then mark your answer sheet.

Passage 1:

Some people claim recycling is the best way to conserve our raw natural resources. They believe that reducing waste will, in turn, reduce the amount of landfill space required. We primarily recycle plastic, glass, paper, and metal. It is said that recycling saves money, landfill space, and helps the environment. On the other hand, many people wonder if recycling is worth the effort.

One factor to consider regarding recycling is the cost. Those who argue against it wonder if it is cheaper to create more landfill space and bury the recyclables. It takes a lot of energy to recycle. The energy used in recycling processes can be both expensive and damaging to the environment by producing harmful greenhouse gas emissions.

Others argue that it depends on how many recyclables make it to the recycle stations. If more recyclables are on hand, it is more cost-efficient to sort and recycle the items into reusable materials. For example, plastics are coded based on their type. Often different types of plastics cannot be recycled together. Until recently, separating them by hand was very time-consuming and expensive. Now, plastics are cleaned and used together to make new types of products.

Another issue is the demand for recycled items. If the demand is low, the recyclables sit and begin to decay. The good news is that through new technology and new products, the demand for recycled material and items is on the rise.

Inefficiencies and legitimate questions regarding recycling remain, but the processes have improved to the point that the cost-effectiveness has become clear. Recycling is better for the environment than producing from new, raw materials.



- 93- Which of the following is NOT a factor to consider regarding recycling?
- 1) cost of producing recycled products
 - 2) amount of recyclable material on hand
 - 3) demand for recycled products
 - 4) the effort to put scratch paper in the recycle bin
- 94- Based on the passage, what can you infer happens to most items that are not recycled?
- 1) They are burned.
 - 2) They go to a landfill.
 - 3) They are left at the curb.
 - 4) They are processed as raw materials.
- 95- In the third paragraph, what does it mean to say something is “cost-efficient”?
- 1) It produces an end result.
 - 2) It works well.
 - 3) It uses a minimum of expense.
 - 4) It produces the desired effect.
- 96- How would you summarize the author’s opinion in this passage?
- 1) There are costs associated with recycling, but improvements in the process make it worth the effort.
 - 2) Recycling is too inefficient and doesn’t do any good.
 - 3) It is too expensive to recycle, and we should put things in existing landfills.
 - 4) Plastics should always be sorted carefully.

Passage 2:

Edson Arantes do Nascimento is known to the world as Pelé. He is considered by many experts to be the greatest football player in history. Pelé was named the Co-Player of the Century in 1999 by FIFA. Pelé was born in Brazil and played professionally there for two decades. His performance in the 1958 World Cup made him a football legend.

While playing on a youth team in Brazil, his coach suggested he try out for the Santos professional football club. Pelé was 15 and scored his first goal within the year. He went on to score many more goals for his team. Based on his performance, he was recruited to play for the national team in 1957. Pelé was a key player in Brazil’s World Cup win in 1958, and he also helped the team win even more championships.

After Pelé joined the New York Cosmos, he helped make football more popular in the United States. His final game was an exhibition game between New York and Santos. In that game, he competed for both sides. Over the course of Pelé’s career, he scored 1,283 goals!

Since retiring from football in 1977, he has continued to stay busy. Pelé has served as Brazil’s Minister for Sport, and he has been a United Nations ambassador for ecology and the environment. In 1975, Pelé also won the International Peace Award for his work with UNICEF.

- 97- In what year did Pelé win the World Cup for the first time?
- 1) 1957
 - 2) 1958
 - 3) 1975
 - 4) 1977
- 98- Pelé has won all of the following titles in his lifetime EXCEPT
- 1) the International Peace Award
 - 2) The World Cup Championship
 - 3) the UEFA Champions League Title
 - 4) FIFA Co-Player of the Century
- 99- In which paragraph can you read about Pelé’s contributions to humanity?
- 1) in the first paragraph
 - 2) in the second paragraph
 - 3) in the third paragraph
 - 4) in the fourth paragraph
- 100- There is enough information in the passage to answer which of the following questions?
- 1) How many World Cups did Pelé win with the Brazil national football team?
 - 2) When did Pelé retire as a professional football player?
 - 3) How many goals did Pelé score for the Brazil national football team?
 - 4) When was the last time that Pelé won the World Cup?

دفترچه شماره ۲

آزمون جامع (۳)

جمعه ۹۹/۰۵/۲۴



آزمون اختصاصی

پایه دوازدهم انسانی

دوره دوم متوسطه

نام و نام خانوادگی:	شماره داوطلبی:
تعداد سوالاتی که باید پاسخ دهید: ۱۸۰	مدت پاسخگویی: ۱۶۵ دقیقه

عناوین مواد امتحانی آزمون اختصاصی گروه آزمایشی علوم انسانی، تعداد سوالات و مدت پاسخگویی

ردیف	مواد امتحانی	تعداد سؤال	شماره سؤال		مدت پاسخگویی
			از	تا	
۱	ریاضیات	۲۰	۱۰۱	۱۲۰	۲۵ دقیقه
۲	اقتصاد	۱۵	۱۲۱	۱۳۵	۱۰ دقیقه
۳	علوم و فنون ادبی	۳۰	۱۳۶	۱۶۵	۳۰ دقیقه
۴	زبان عربی (اختصاصی)	۲۰	۱۶۶	۱۸۵	۲۰ دقیقه
۵	تاریخ	۱۵	۱۸۶	۲۰۰	۲۵ دقیقه
	جغرافیا	۱۵	۲۰۱	۲۱۵	
۷	جامعه‌شناسی	۲۰	۲۱۶	۲۳۵	۱۵ دقیقه
۸	فلسفه و منطق	۲۵	۲۳۶	۲۶۰	۲۵ دقیقه
۹	روان‌شناسی	۲۰	۲۶۱	۲۸۰	۱۵ دقیقه





۱۰۱- کدام عبارت در تجزیه $x^3 - 4x + 5x^2 - 20$ وجود ندارد؟

- (۱) $x + 5$ (۲) $x - 5$ (۳) $x + 2$ (۴) $x - 2$

۱۰۲- حاصل ضرب ریشه‌های معادله درجه دوم $ax^2 - x - 10 = 0$ برابر ۵- است. ریشه کوچک‌تر معادله کدام است؟

- (۱) -2 (۲) 2 (۳) $2/5$ (۴) $-2/5$

۱۰۳- اگر خط $x = -1$ محور تقارن نمودار تابع درجه دوم $y = 2x^2 - bx + 5$ باشد، عرض رأس سهمی کدام است؟

- (۱) ۶ (۲) ۵ (۳) ۴ (۴) ۳

۱۰۴- گروه خونی افراد کدام متغیر و با چه مقیاسی است؟

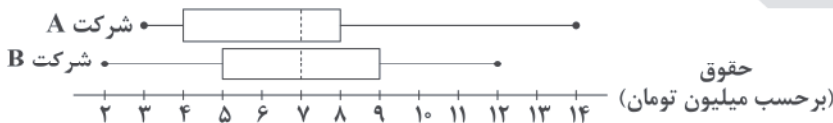
- (۱) کیفی - اسمی (۲) کیفی - ترتیبی (۳) کمی - فاصله‌ای (۴) کمی - نسبتی

۱۰۵- نمرات دانش‌آموزی در یک آزمون به صورت جدول زیر است. اگر میانگین نمرات وی ۵۵ باشد، نمره درس «زبان انگلیسی» وی کدام است؟

ریاضی	زبان انگلیسی	معارف	ادبیات فارسی	نام درس
۴	۳	۲	۳	ضریب
۵۰	؟	۸۰	۶۰	نمرات

- (۱) ۴۰ (۲) ۴۵ (۳) ۴۸ (۴) ۵۰

۱۰۶- دو نمودار زیر مربوط به میزان حقوق در دو شرکت خصوصی است. کدام گزینه قطعاً صحیح است؟



(۱) وضعیت حقوق‌ها در هر دو شرکت یکسان است، زیرا میانه هر دو برابر است.

(۲) میانگین حقوق در شرکت B بیشتر است.

(۳) پراکندگی میزان حقوق در شرکت A بیشتر از شرکت B است.

(۴) ۵۰ درصد افراد در شرکت A کم‌تر از ۸ میلیون تومان حقوق می‌گیرند.

۱۰۷- اگر گزاره $(p \Rightarrow q) \vee (r \Leftrightarrow \sim p)$ نادرست باشد، آنگاه ارزش گزاره‌های زیر کدام است؟

- (الف) $p \Leftrightarrow q$ (ب) $r \wedge p$

- (۱) (الف) درست، (ب) نادرست (۲) (الف) درست، (ب) درست (۳) (الف) نادرست، (ب) درست (۴) (الف) نادرست، (ب) نادرست

۱۰۸- اگر $f = \{(-1, n^2 - 2n), (m - 4, 3), (m + n, t)\}$ یک تابع ثابت با دامنه دو عضوی باشد، $m + t$ کدام است؟ ($m, n \in \mathbb{N}$)

- (۱) ۳ (۲) ۴ (۳) ۵ (۴) ۶

۱۰۹- حاصل $f(x) = \begin{cases} |2x - 3| & ; 0 < x < 1 \\ [x - 4] & ; x > 1 \\ \sqrt{x^2 - 2x + 3} & ; x < 0 \end{cases}$ ، اگر $f(\frac{1}{4}) + f(1 - \sqrt{2}) + f(\frac{5}{4})$ کدام است؟ ([] نماز جزء صحیح است.)

- (۱) ۲ (۲) ۲/۵ (۳) ۱ (۴) ۱/۵



۱۱۰- برد تابع $f(x) = [x - 2] - 1$ ، با دامنه $1 < x \leq 2$ - کدام است؟ ([] نماز جزء صحیح است.)

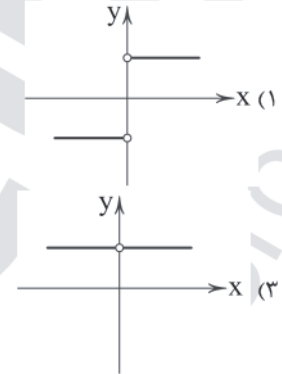
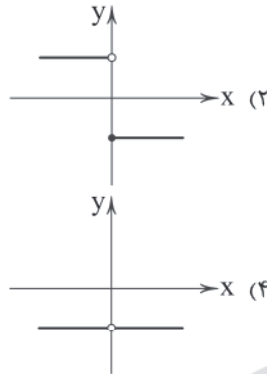
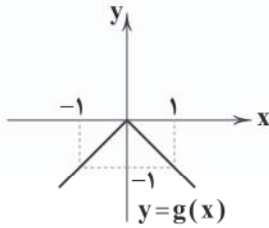
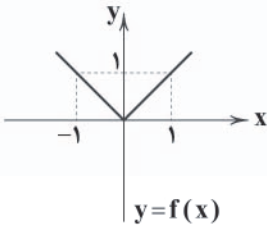
- (۱) $\{-2, -1, 0\}$ (۲) $\{-1, 0, 1\}$ (۳) $\{-3, -2, -1\}$ (۴) $\{-5, -4, -3\}$

۱۱۱- یک شرکت هولدینگ دارای دو کارخانه A و B است. اگر توابع درآمد و هزینه برای تولید x عدد کالا در کارخانه A به ترتیب $40x + 6x^2 -$

و $14x + 30$ و در کارخانه B به ترتیب $70x + 4x^2 -$ و $16x + 40$ واحد باشد، ماکزیم سود این هولدینگ کدام است؟

- (۱) ۸۰ (۲) ۹۰ (۳) ۱۰۰ (۴) ۱۱۰

۱۱۲- اگر نمودارهای توابع $f(x)$ و $g(x)$ به صورت زیر باشند، نمودار تابع $\frac{f}{g}$ کدام است؟



۱۱۳- قیمت دو محصول A و B به ازای هر عدد در سال پایه به ترتیب ۱۰۰۰ و ۲۰۰۰ و در سال ۹۸ این قیمت‌ها به ۲۰۰۰ و ۵۰۰۰ تومان رسیده است.

اگر مقادیر مصرفی دو محصول به ترتیب ۴۰۰ و ۳۰۰ عدد باشد، شاخص بهای این دو محصول کدام است؟

- (۱) ۲۳۰ (۲) ۲۳۵ (۳) ۲۴۰ (۴) ۲۴۵

۱۱۴- با استفاده از حروف کلمه «بهداشت» چند جایگشت چهارحرفی شامل حروف «ب» و «ش» می‌توان نوشت؟

- (۱) ۱۲۶ (۲) ۱۳۲ (۳) ۱۴۴ (۴) ۱۵۶

۱۱۵- در آزمایش پرتاب دو تاس، با کدام احتمال مجموع اعداد ظاهر شده کوچک‌تر از ۹ است؟

- (۱) $\frac{5}{18}$ (۲) $\frac{11}{18}$ (۳) $\frac{7}{18}$ (۴) $\frac{13}{18}$

۱۱۶- از بین ۳ پزشک متخصص، ۴ پزشک عمومی و ۵ پرستار به چند طریق می‌توان یک تیم ۴ نفره انتخاب کرد به طوری که ۳ نفر آن‌ها پرستار باشند؟

- (۱) ۶۰ (۲) ۶۵ (۳) ۷۰ (۴) ۷۵

۱۱۷- چه تعداد از عبارات زیر صحیح است؟

الف) برای توصیف داده‌های کمی، گزارش درصد باید همیشه با گزارش تعداد همراه باشد.

ب) اگر از الگوی توزیع داده‌ها و وجود داده‌های دور افتاده اطلاعی نداشته باشیم، نمودار جعبه‌ای برای نمایش اطلاعات متغیرهای کمی مطمئن‌تر است.

پ) اندازه‌گیری یا سنجش، اولین قدم برای یافتن داده‌ها و بررسی متغیر موردنظر است.

- (۱) صفر (۲) ۱ (۳) ۲ (۴) ۳



۱۱۸- در یک دنباله بازگشتی $a_1 = 5$ و $a_{n+1} = \frac{a_n}{a_n + 1}$ ، جمله یازدهم دنباله کدام است؟

$$\frac{5}{51} \quad (4)$$

$$\frac{5}{46} \quad (3)$$

$$\frac{3}{51} \quad (2)$$

$$\frac{3}{46} \quad (1)$$

۱۱۹- یک شمع ۲۰ سانتی متر ارتفاع دارد و در هر دقیقه ۵/۰ سانتی متر می سوزد. پس از چند دقیقه شمع خاموش می شود؟

$$42 \quad (4)$$

$$40 \quad (3)$$

$$38 \quad (2)$$

$$36 \quad (1)$$

۱۲۰- در یک دنباله هندسی جمله پنجم ۴۸ و جمله هشتم ۳۸۴ است. مجموع ۱۰ جمله اول دنباله کدام است؟

$$4039 \quad (4)$$

$$4029 \quad (3)$$

$$3069 \quad (2)$$

$$3049 \quad (1)$$



۱۲۱- کدام گزینه عبارت‌های زیر را به درستی کامل می‌کند؟

- (الف) جامعه اسلامی برای حفظ هویت و استقلال سیاسی و فرهنگی خود باید
 (ب) خداوند انسان‌ها را به گونه‌ای آفریده است که به حکم فطرت و سرشت خود در هر انتخابی به دنبال
 (ج) پیگیری نیازهای کاذب و یا زیاده‌روی در رفع نیازهای مادی
 (۱) الف: با توجه به آموزه‌های الهی به عقلانیت اقتصادی برسد ب: منافع بلندمدت و توجه به زندگی اخروی هستند ج: موجب می‌شود فرد آخرت خود را خرج دنیایش کند
 (۲) الف: به رشد و پیشرفت اقتصادی به مثابه یکی از مهم‌ترین ابزارها در این مسیر توجه کند ب: منافع بلندمدت و توجه به زندگی اخروی هستند ج: موجب می‌شود فرد آخرت خود را خرج دنیایش کند
 (۳) الف: به رشد و پیشرفت اقتصادی به مثابه یکی از مهم‌ترین ابزارها در این مسیر توجه کند ب: بیشترین منافع و کم‌ترین هزینه و ضرر هستند ج: موجب توقف و یا انحطاط انسان می‌شود
 (۴) الف: با توجه به آموزه‌های الهی به عقلانیت اقتصادی برسد ب: بیشترین منافع و کم‌ترین هزینه و ضرر هستند ج: موجب توقف و یا انحطاط انسان می‌شود

تعداد کالای تولیدشده در هر ماه	۲۰
قیمت هر کالا	۳۵۰,۰۰۰
حقوق کارمندان ماهیانه	۳,۰۰۰,۰۰۰
هزینه مواد اولیه سالیانه	۲,۴۰۰,۰۰۰
اجاره سالیانه کارگاه	۸,۴۰۰,۰۰۰

۱۲۲- سود حاصل از فروش تولیدات کارگاهی مبلغ ۲,۰۰۰,۰۰۰ ماهیانه می‌باشد. با

توجه به جدول، کدام گزینه پاسخ درست سوالات زیر می‌باشد؟

- (الف) سود بیان شده چه نوع سودی می‌باشد؟
 (ب) اگر با ثابت بودن همه هزینه‌ها و درآمدها، فقط هزینه‌های غیرمستقیم ۱۵ درصد افزایش یابند، سود حسابداری سالیانه چقدر می‌شود؟
 (ج) مدیر کارگاه در اظهارنامه مالیاتی خود، چه مبلغی را وارد می‌کند؟

- (۱) الف: سود ویژه (اقتصادی) ب: ۲۲,۰۲۰,۰۰۰ ج: ۳۷,۲۰۰,۰۰۰ (۲) الف: سود حسابداری ب: ۳۷,۲۰۰,۰۰۰ ج: ۳۷,۲۰۰,۰۰۰
 (۳) الف: سود ویژه (اقتصادی) ب: ۳۷,۲۰۰,۰۰۰ ج: ۲۴,۰۰۰,۰۰۰ (۴) الف: سود حسابداری ب: ۲۲,۰۲۰,۰۰۰ ج: ۲۴,۰۰۰,۰۰۰

۱۲۳- کدام گزینه تماماً درست می‌باشد؟

- (۱) دولت‌ها برای دستیابی به اهداف اقتصادی خود، انواع سیاست‌های اقتصادی را دنبال می‌کنند که این سیاست‌های اقتصادی همیشه بر سرعت پیشرفت کشور می‌افزایند.
 (۲) دولت با اجرای سیاست‌های مناسب تجاری و ارزی سعی می‌کند وابستگی و شکنندگی اقتصادی در مقابل تکان‌های داخلی و خارجی را کاسته و صادرات غیرضروری را کاهش و واردات را تشویق کند.
 (۳) توجه به زیرساخت‌ها و سرمایه‌گذاری در مناطق محروم کشور، از جمله سیاست‌های افزایش بهره‌وری و امنیت اقتصادی به شمار می‌رود.
 (۴) سیاست‌هایی که دولت برای کاهش نوسانات متغیرهای کلان اقتصادی اعمال می‌کند، سیاست‌های تثبیت اقتصادی نام دارند که تقاضای کل اقتصاد را در کوتاه‌مدت مدیریت و تنظیم می‌کنند.

۱۲۴- کدام گزینه عبارت‌های زیر را به درستی کامل می‌کند؟

- (الف) امروزه پول‌هایی که در دست افراد است، پشتوانه‌ای جز ندارد.
 (ب) حسابی است که پول مشتری برای مدتی نامعین در آن نگهداری می‌شود، اما مشتری می‌تواند با مراجعه به بانک، موجودی این حساب را در هر زمان که بخواهد، دریافت کند.
 (ج) زمان بازپرداخت اسناد اعتباری کوتاه‌مدت است.
 (د) طبق قرارداد کارفرما تعهد می‌کند در برابر عمل مشخص کارگزار یا عامل، اجرت معینی به او بپردازد.

- (۱) الف: طلای پس‌انداز شده ب: سپرده مدت‌دار ج: حداقل یک سال د: مضاربه
 (۲) الف: قدرت اقتصادی کشورها ب: سپرده پس‌انداز ج: یک سال یا کم‌تر د: جعاله
 (۳) الف: طلای پس‌انداز شده ب: سپرده پس‌انداز ج: حداقل یک سال د: مضاربه
 (۴) الف: قدرت اقتصادی کشورها ب: سپرده مدت‌دار ج: یک سال یا کم‌تر د: جعاله



۱۲۵- با توجه به جدول دهک‌های زیر به سوالات پاسخ دهید.

«اختلاف سهم دهک چهارم و سهم دهک ششم ۳ درصد و شاخص توزیع درآمد ۹ می‌باشد. سهم دهک هفتم از درآمد ملی ۱۰,۴۰۰,۰۰۰ تومان می‌باشد.»

سهم دهک اول	؟
سهم دهک دوم	۳
سهم دهک سوم	۵
سهم دهک چهارم	؟
سهم دهک پنجم	۱۰
سهم دهک ششم	۱۰
سهم دهک هفتم	۱۳
سهم دهک هشتم	؟
سهم دهک نهم	۱۶
سهم دهک دهم	؟

(الف) سهم دهک دهم چند درصد می‌باشد؟

(ب) سهم دهک چهارم و دهک هشتم چند درصد می‌باشد؟ (به ترتیب از راست به چپ)

(ج) اگر توزیع درآمد در این جامعه کاملاً عادلانه باشد، سهم دهک چهارم از درآمد ملی چند تومان می‌شود؟

(۱) الف: ۲۷ ب: ۷-۱۶ ج: ۸,۰۰۰,۰۰۰

(۲) الف: ۲۷ ب: ۹-۱۲ ج: ۵,۶۰۰,۰۰۰

(۳) الف: ۱۸ ب: ۹-۱۲ ج: ۵,۶۰۰,۰۰۰

(۴) الف: ۱۸ ب: ۷-۱۶ ج: ۸,۰۰۰,۰۰۰

۱۲۶- کدام گزینه عبارت‌های زیر را به درستی کامل می‌کند؟

(الف) در اغلب مطالعات آماری، برای دستیابی به تصویر واقعی‌تر و دقیق‌تر می‌باید از شاخص‌های استفاده کنیم.

(ب) در کشوری مثل هنگ‌کنگ به دلیل حضور چشمگیر تولیدکنندگان چندملیتی، مقدار از بیشتر است.

(ج) در رابطه با کالاهای ضروری، شیب منحنی تقاضا است و اصطلاحاً می‌گوییم کشش قیمتی تقاضا است.

(د) ، جایگاه و نقش هر یک از عوامل تولید را تعیین می‌کند.

(۱) الف: مطلق ب: تولید ناخالص ملی - تولید ناخالص داخلی ج: زیاد - کم د: عوامل انسانی

(۲) الف: نسبی ب: GDP - GNP ج: کم - زیاد د: عوامل انسانی

(۳) الف: نسبی ب: تولید ناخالص داخلی - تولید ناخالص ملی ج: زیاد - کم د: سازمان تولید

(۴) الف: مطلق ب: GDP - GNP ج: کم - زیاد د: سازمان تولید

۱۲۷- با توجه به جدول، کدام گزینه پاسخ درست پرسش‌های زیر است؟

معاف از مالیات	درآمدهای تا ۱۰ میلیون
۱۰ درصد	درآمدهای تا ۱۵ میلیون نسبت به مازاد ۱۰ میلیون
۱۳ درصد	درآمدهای تا ۲۵ میلیون نسبت به مازاد ۱۵ میلیون
۱۵ درصد	درآمدهای تا ۳۰ میلیون نسبت به مازاد ۲۵ میلیون
۲۰ درصد	درآمدهای بیشتر از ۳۰ میلیون

(الف) مالیات شخصی که درآمد او مبلغ ۲۷,۰۰۰,۰۰۰ می‌باشد،

چقدر است؟

(ب) مانده خالص او چه مقدار می‌باشد؟

(ج) نام نرخ مالیاتی مورد محاسبه چیست؟

(۱) الف: ۴,۰۵۰,۰۰۰ ب: ۲۲,۹۵۰,۰۰۰ ج: تصاعدی طبقه‌ای

(۲) الف: ۲,۱۰۰,۰۰۰ ب: ۲۴,۹۰۰,۰۰۰ ج: تصاعدی

۱۲۸- با توجه به نمودار، کدام گزینه پاسخ درست سوالات زیر می‌باشد؟

(الف) در مقدار ۳۰۰ کیلو، قیمت باید چقدر باشد تا جامعه در وضعیت مازاد تقاضا قرار بگیرد؟

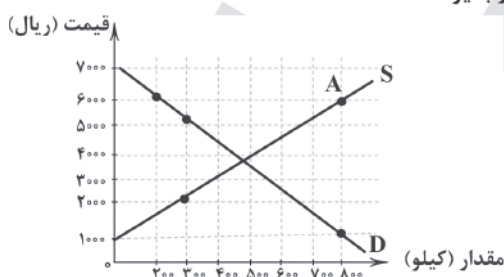
(ب) در نقطه A، وضعیت درآمد تولیدکنندگان چگونه است؟

(۱) الف: ۵۰۰۰ ریال ب: ۳,۶۰۰,۰۰۰ ضرر

(۲) الف: ۲۰۰۰ ریال ب: ۳,۶۰۰,۰۰۰ سود

(۳) الف: ۲۰۰۰ ریال ب: ۳,۶۰۰,۰۰۰ ضرر

(۴) الف: ۵۰۰۰ ریال ب: ۳,۶۰۰,۰۰۰ سود





۱۲۹- اصول ۴۶ و ۴۷ قانون اساسی به ترتیب به کدام موارد اشاره می‌کنند؟

- (۱) هر کس مالک حاصل کسب و کار مشروع خویش است و هیچ‌کس نمی‌تواند به عنوان مالکیت نسبت به کسب و کار خود، امکان کسب و کار را از دیگری سلب کند - دولت موظف است ثروت‌های ناشی از فعالیت‌های غیرمشروع را پس گرفته و به صاحب حق رد کند و در صورت نامعلوم بودن به بیت‌المال بدهد.
- (۲) هر کس مالک حاصل کسب و کار مشروع خویش است و هیچ‌کس نمی‌تواند به عنوان مالکیت نسبت به کسب و کار خود، امکان کسب و کار را از دیگری سلب کند - مالکیت شخصی که از راه مشروع باشد، محترم است و ضوابط آن را قانون معین می‌کند.
- (۳) انفال و ثروت‌های عمومی از غاصبین مسترد می‌شود و در اختیار حکومت اسلامی قرار می‌گیرد - مالکیت شخصی که از راه مشروع باشد، محترم است و ضوابط آن را قانون معین می‌کند.
- (۴) انفال و ثروت‌های عمومی از غاصبین مسترد می‌شود و در اختیار حکومت اسلامی قرار می‌گیرد - دولت موظف است ثروت‌های ناشی از فعالیت‌های غیرمشروع را پس گرفته و به صاحب حق رد کند و در صورت نامعلوم بودن به بیت‌المال بدهد.

۱۳۰- کدام گزینه عبارت‌های زیر را به درستی کامل می‌کند؟

(الف) در یک جامعه فرضی ۱۰ میلیون نفری، ۴۰ درصد از افراد واجد شرایط اشتغال می‌باشند. در این جامعه ۱ میلیون آن‌ها مهندسی هستند که به تازگی فارغ‌التحصیل شده‌اند و سابقه کاری خاصی ندارند و با وجود پیشنهاد کاری از یک شرکت مهندسی برای تمامی آن‌ها، به دلیل پایین بودن حقوق پیشنهادی در وضعیت بیکاری به سر می‌برند. هم‌چنین ۱ میلیون نفر دیگر از این اجتماع نیز به دلیل ترفیع رتبه، تا آماده شدن شرایط شغل جدید خود فعلاً بیکار می‌باشند و ۲ میلیون افراد نیز با حقوق مکفی هر روز به محل کار خود می‌روند. با توجه به توضیحات بالا می‌توان گفت
(ب) برگزاری دوره‌های آموزش ضمن خدمت، مهارت‌افزایی و اعطای یارانه‌های تولید از فعالیت‌هایی در راستای هستند.

- (۱) الف: این جامعه در وضعیت اشتغال کامل به سر می‌برد. ب: جلوگیری از بیکار شدن افراد شاغل
- (۲) الف: این جامعه دارای ۵٪ نرخ بیکاری افراد می‌باشد. ب: جلوگیری از بیکار شدن افراد شاغل
- (۳) الف: این جامعه دارای ۵٪ نرخ بیکاری افراد می‌باشد. ب: اشتغال‌زایی برای افراد بیکار
- (۴) الف: این جامعه در وضعیت اشتغال کامل به سر می‌برد. ب: اشتغال‌زایی برای افراد بیکار

۱۳۱- کدام گزینه پاسخ درست سوالات زیر است؟

(الف) کدام عبارت در رابطه با اوراق مشارکت درست نیست؟

(ب) کدام عبارت در رابطه با نحوه کسب درآمد بانک‌ها در نظام بانکی بدون ربا درست است؟

- (۱) الف: مانند اوراق سهام در بازار سرمایه نمی‌توان آن‌ها را خرید و فروش کرد. ب: بانک‌ها با اعطای تسهیلات مالی به اشخاص به طور مستقیم در سرمایه‌گذاری‌ها شرکت می‌کنند.
- (۲) الف: دولت، شهرداری‌ها و شرکت‌های دولتی و خصوصی به منظور تأمین اعتبار طرح‌های تجاری خود، این اوراق را منتشر می‌کنند. ب: بانک‌ها از طریق سرمایه‌گذاری مستقیم در طرح‌های تولیدی و عمرانی کسب درآمد می‌کنند.
- (۳) الف: تهیه دستورالعمل اجرایی و مقررات ناظر بر انتشار اوراق مشارکت در ایران برعهده بانک مرکزی است. ب: بانک‌ها از طریق سرمایه‌گذاری مستقیم در طرح‌های تولیدی و عمرانی کسب درآمد می‌کنند.
- (۴) الف: جزء اسناد اعتباری بلندمدت است که افراد یا مؤسسات خصوصی با خرید آن، سود علی‌الحساب در فواصل زمانی مشخص شده را دریافت می‌کنند. ب: بانک‌ها با اعطای تسهیلات مالی به اشخاص به طور مستقیم در سرمایه‌گذاری‌ها شرکت می‌کنند.

۱۳۲- کدام گزینه عبارت‌های زیر را به درستی کامل می‌کند؟

(الف) مقدار تولید کالا و خدمات در طول یک سال اهمیت زیادی دارد، زیرا

(ب) ارزش در محاسبه تولید ناخالص داخلی منظور نمی‌شود.

(ج) ارزش تولید کل در دو سال پی‌درپی به ترتیب ۱۱۸ و ۱۵۳ میلیون دلار است. بعد از انتخاب سال اول به عنوان سال پایه، تولید کل در سال دوم به ۱۲۸ میلیون دلار تغییر می‌کند؛ در این صورت

(۱) الف: بیانگر میزان درآمد سرانه کشور و سطح رفاه و مصرف و هم‌چنین پس‌انداز افراد جامعه است. ب: تولید خراجیان مقیم کشور ج: از مجموع افزایش میزان تولید در سال دوم، ۲۵ میلیون دلار آن ناشی از تورم است.

(۲) الف: بیانگر قدرت و توان اقتصادی جامعه، سطح رفاه و درآمد اعضا، میزان پس‌انداز و سرمایه‌گذاری و امکان پیشرفت جامعه در آینده است. ب: کالاهای واسطه‌ای صادراتی ج: از ۳۵ میلیون دلار افزایش تولید کل در سال دوم، ۱۰ میلیون دلار آن ناشی از افزایش قیمت‌هاست.

(۳) الف: بیانگر میزان درآمد سرانه کشور و سطح رفاه و مصرف و هم‌چنین پس‌انداز افراد جامعه است. ب: تولید افراد کشور که مقیم خارج‌اند. ج: از مجموع افزایش میزان تولید در سال دوم، ۲۵ میلیون دلار آن ناشی از رشد است.

(۴) الف: بیانگر قدرت و توان اقتصادی جامعه، سطح رفاه و درآمد اعضا، میزان پس‌انداز و سرمایه‌گذاری و امکان پیشرفت جامعه در آینده است. ب: کالاهای واسطه‌ای ج: از ۳۵ میلیون دلار افزایش تولید کل در سال دوم، ۱۰ میلیون دلار آن ناشی از افزایش مقدار تولید است.



۱۳۳- کدام گزینه پاسخ درست سوالات زیر است؟

الف) کدام یک از موارد زیر جزء موانع گسترش تجارت بین الملل در گذشته محسوب نمی شود؟

ب) کدام گزینه به درستی «تاجر یا بازرگان» را توضیح می دهد؟

ج) زمانی که یک کشور را از نظر توان تولیدی و مزیت تولید در کشور خودش و با خودش مقایسه می کنیم، در واقع به کدام یک از اصول مزیت پرداخته ایم؟

الف) یکسان نبودن منابع و عوامل تولید ب: افرادی که شغل آن ها خرید محصول در مرکز تولید و فروش آن در مناطق مصرف بین المللی است.
ج: مزیت نسبی

الف) یکسان نبودن منابع و عوامل تولید ب: افرادی که با بررسی بازارهای کشورهای دیگر و اطلاع از علایق و نیازهای مصرف کنندگان خارجی به تولیدکنندگان داخلی در تولید کالاها کمک می کنند. ج: مزیت مطلق

الف) هزینه های تجارت ب: افرادی که با بررسی بازارهای کشورهای دیگر و اطلاع از علایق و نیازهای مصرف کنندگان خارجی به تولیدکنندگان داخلی در تولید کالاها کمک می کنند. ج: مزیت نسبی

الف) هزینه های تجارت ب: افرادی که شغل آن ها خرید محصول در مرکز تولید و فروش آن در مناطق مصرف بین المللی است. ج: مزیت مطلق

۱۳۴- جدول زیر مبین اطلاعات یک جامعه فرضی در یک سال معین است، در این صورت:

سپرده های پس انداز مردم	۵۶۰ واحد
مجموع اسکناس های در دست مردم	۱۳۰۰ واحد
میزان نقدینگی	۴۳۸۰ واحد
سپرده های مدت دار مردم	$\frac{5}{7}$ سپرده های پس انداز
مجموع سپرده های دیداری و غیردیداری مردم	۱۹۸۰ واحد

الف) مجموع مسکوکات در دست مردم

ب) موجودی حساب جاری اشخاص

ج) مجموع سپرده های غیردیداری مردم

د) میزان حجم پول در گردش چند واحد است؟

الف) ۱۱۰۰ واحد ب: ۹۶۰ واحد ج: ۱۰۲۰ واحد د: ۳۴۲۰ واحد

الف) ۹۰۰ واحد ب: ۱۰۲۰ واحد ج: ۹۶۰ واحد د: ۶۴۲۰ واحد

الف) ۱۱۰۰ واحد ب: ۱۰۲۰ واحد ج: ۹۶۰ واحد د: ۳۴۲۰ واحد

الف) ۹۰۰ واحد ب: ۹۶۰ واحد ج: ۱۰۲۰ واحد د: ۶۴۲۰ واحد

۱۳۵- چه تعداد از عبارتهای زیر در رابطه با «اقتصاد مقاومتی و مؤلفه های آن» صحیح است؟

الف) رشد اقتصادی کشور زمانی تضمین می شود که آن چه در داخل تولید می شود، در سطح گسترده ای توسط کشورهای دیگر مصرف شود.

ب) پیشرفت اقتصاد هر کشور در گرو پیشرفت اقتصادی آحاد جامعه است.

ج) اقتصاد مقاومتی رفع کننده مشکلات و عامل ایجاد عزت و پیشرفت کشور در کوتاه مدت است.

د) فروش هر چه بیشتر نفت به عنوان منبع درآمدی کشور لازمه پیشرفت و توسعه کشور است.

۴ (۴)

۳ (۳)

۲ (۲)

۱ (۱)



علوم و فنون ادبی



۱۳۶- با توجه به «ویژگی‌های زبانی» سبک شعری کدام گزینه متفاوت است؟

- (۱) ز تحقیق تناسخ‌نامه زاهد چه می‌پرسی؟
 (۲) سوزن چه پشت چشم که نازک نمی‌کند!
 (۳) اشک تو چون در که بگدازی و برریزی به زر
 (۴) اگرچه کوچه زنجیر بن بست است در ظاهر
- مگر آدم برآید تا مَنَش گوساله بنویسم
 شکر خدا که سینه ما بخیه‌گیر نیست
 اشک من چون ریخته بر زر همی برگ سمن
 گذارد هر که پا در وی، ز صحرا سر برون آرد

۱۳۷- با توجه به ویژگی‌های سبکی عبارت زیر با شیوه نگارش کدام اثر متناسب است؟

«و در اخبارها آمده که جبرئیل علیه‌السلام وی را بیاموخت که از آن آهن چیزی کن که تا کشت کند و بروید و برآید و سبز گردد. و بدرو و آس کن و پس پاک کن و خمیر کن و بپز و بخور»

- (۱) محبوب‌القلوب
 (۲) کشف‌المحجوب
 (۳) سیاست‌نامه
 (۴) التفهیم

۱۳۸- نوع نثر آثار درج شده در هر گزینه یکسان است، به جز.....

- (۱) شرف‌نامه - تذکره شاه طهماسب
 (۲) بدایع‌الوقایع - عین‌الحیات
 (۳) عالم‌آرای عباسی - عباس‌نامه
 (۴) جامع عباسی - مجالس المؤمنین

۱۳۹- کدام عبارت درباره قرن چهارم و نیمه اول قرن پنجم نادرست است؟

- (۱) انواع ادبی «حماسی»، «مدحی» و «غنایی» رایج‌ترین انواع شعر فارسی بود.
 (۲) در شعر غنایی با دو شاعر مشهور، رودکی و شهید بلخی، قوت و استحکام یافت.
 (۳) نخستین کسی که قصیده تمام و کمال در زمینه شعر حکمی و اندرزی (تعلیمی) سرود «ناصرخسرو» بود.
 (۴) داستان‌سرایی و قصه‌پردازی و آوردن حکایت‌ها و مَثَل‌ها در شعر آغاز گشت.

۱۴۰- کدام عبارت معارف «خلاق‌المعانی ثانی» است؟

- (۱) معروف‌ترین شاعر سبک هندی که برخی از تکبیت‌های غزلش شاهکارهایی از ذوق و اندیشه‌اند و بسیاری از آن‌ها به صورت ضرب‌المثل رواج یافته‌اند.
 (۲) مداح جلال‌الدین خوارزمشاه که در سال ۶۳۵ ه. ق. به دست مغولان در اصفهان کشته شد و درباره قتل عام سال ۶۳۳ ه. ق. مغولان در اصفهان رباعی معروفی دارد.
 (۳) ضرب‌المثل‌ها و الفاظ محاوره که زبان غزل این دوره را به افق خیال عامه نزدیک کرده، سخن او را برجسته ساخته است.
 (۴) از ویژگی‌های عمده شعر او، مضمون‌های پیچیده و استعاره‌های رنگین، خیال‌انگیز و سرشار از ابهام و تخیل‌های رمزآمیز شاعرانه است.

۱۴۱- عبارت زیر از کدام اثر انتخاب شده است؟

- «امیر تیمور به من دستور داد که ساده بنویسم؛ به طوری که عامه مردم بفهمند.»
 (۱) انوار سہیلی
 (۲) بابرنامه
 (۳) حبیب‌السییر
 (۴) ظفرنامه

۱۴۲- نام پدیدآورنده چند اثر در کمانک روبه‌روی آن نادرست ذکر شده است؟

- «دهکده پر ملال (هوشنگ گلشیری) / سرگذشت حاجی بابای اصفهانی (جیمز موریه) / تاریخ مختصر احزاب سیاسی ایران (محمدتقی بهار) / تحفة الاحرار (جامی) / رساله دلگشا (عبید زاکانی) / زمین سوخته (صادق چوبک) / کبوتر دو پنجره یک پرواز (محمدرضا سرشار) / مهاجر کوچک (سید مهدی شجاعی) / راه‌آب‌نامه (سید محمدعلی جمال‌زاده) / شمس و طغرا (محمدباقر میرزا خسروی) / از این اوستا (مهدی اخوان ثالث) / صدای سبز (سلمان هراتی)»

- (۱) سه
 (۲) چهار
 (۳) پنج
 (۴) شش



۱۴۳- اگر بخواهیم ابیات زیر را به ترتیب داشتن آرایه‌های «ایهام - مراعات نظیر - حس آمیزی - تلمیح - ایهام تناسب» مرتب کنیم، کدام گزینه درست است؟

- (الف) نظر پست تو شایسته جولان کف است
(ب) عالم از حسن گلوسوز تو شد باغ خلیل
(ج) این چه شور است که حسن تو به عالم افکند؟
(د) زهر دشنام بود قسمت عاشق، و نه
(ه) میوه سرو که گفته است همین آزادی است؟

۱ ج - الف - ب - ه - د ۲ ه - الف - د - ب - ج ۳ ه - الف - د - ج - ب ۴ ج - د - ب - الف - ه

۱۴۴- در کدام گزینه آرایه‌های «کنایه - حسن تعلیل - اسلوب معادله - تضاد» وجود دارد؟

- (۱) می رسیده ز خم جلوه می‌کند در جام
(۲) زمین پاک بود کهربای دانه پاک
(۳) یکی هزار شد از سینه بی‌قراری دل
(۴) ز پرده‌سوزی شب، صبح شد گریبان چاک

۱۴۵- آرایه‌های ذکرشده در مقابل کدام بیت درست نیست؟

- (۱) محک آدمیان چهره گندم‌گون است
(۲) دید تا قامت موزون تو را سرو سهی
(۳) می‌توان دید ز سیمای گهر هر کس را
(۴) چه زر و سیم که در فقر نکردیم تلف

- دست رد هر که بر این رنگ زند، انسان نیست: کنایه - تلمیح
داد انصاف که بالاتر از این امکان نیست: استعاره مکنیه - تشبیه
چيست در سينه مکتوب که در عنوان نیست؟: اسلوب معادله - ایهام
فقر گنجی است که در زیر زمین پنهان نیست: پارادوکس - تضاد

۱۴۶- در همه گزینه‌ها به آرایه‌های ابیات زیر اشاره شده است، به جز

- «چو ماه روی تو در شام زلف می‌دیدم
مگر نسیم خطبت صبح در چمن بگذشت

- (۱) جناس تام - واج‌آرایی - ایهام
(۲) لف و نشر - حس آمیزی - واژه‌آرایی
(۳) جناس ناقص - کنایه - حسن تعلیل
(۴) تناسب - تضاد - اغراق

۱۴۷- در کدام گزینه آرایه‌های «حسن تعلیل - حس آمیزی - کنایه - استعاره مکنیه - اسلوب معادله - تشبیه» وجود دارد؟

- (۱) فراغ بال طمع کردن از فلک خام است
(۲) صفای وقت ز صافی‌کشان مجو، زنه‌ار
(۳) ز تازهرویی جاوید می‌توان دانست
(۴) نصیب پاک‌دهانان بود حلاوت عیش

۱۴۸- آرایه‌های بیت «روشنی از بزم من در یوزه می‌کرد آفتاب / در چراغ عیش تا از باده روغن داشتم» در کدام گزینه آمده است؟

- (۱) اغراق - تشبیه - تشخیص - مراعات‌نظیر
(۲) اغراق - جناس - تشبیه - اسلوب معادله
(۳) حسن تعلیل - جناس - تشبیه - حس آمیزی
(۴) حسن تعلیل - تضاد - مراعات‌نظیر - اسلوب معادله

۱۴۹- آرایه نوشته‌شده در برابر کدام بیت درست است؟

- (۱) تا قتیل دوست باشد، جان کجا یابد حیات
(۲) می‌رسد بوی سپند از دل بلبل به مشام
(۳) گر دماغ باغ، نیز از بوی او آشفته نیست
(۴) پیش چشمی که کند هم‌چو هدف خود را جمع
- تا مریض عشق باشد، دل کجا خواهد دوا: ترصیع
تا دگر دیده گستاخ که بر روی گل است؟: حس آمیزی
پس چرا هر دم، ز جای خود، جهد باد صبا؟: حسن تعلیل
خار تیری ز کمان خانه ابروی گل است: تناقض



۱۵۰- چنانچه بخواهیم ابیات زیر را به ترتیب داشتن آرایه‌های «تشبیه - ایهام تناسب - مجاز - تلمیح - استعاره» مرتب کنیم، کدام گزینه درست است؟

- (الف) آخر چه گلابی است به از اشک من ای گل؟
 (ب) افتاده جهانی همه مدهوش تو لیکن
 (ج) هرکس به خیالی ست هم آغوش و کسی نیست
 (د) بی‌ماه رخ تو شب من هست سیه‌پوش
 (ه) بیژن تر از آنم که به چاهم کنی ای تُرک
- (۱) ب - الف - د - ه - ج
 (۲) ب - ه - الف - ج - د
 (۳) د - ب - ه - الف - ج
 (۴) د - الف - ب - ه - ج

۱۵۱- قافیۀ همهٔ ابیات، به استثنای بیت صحیح است.

- (۱) خوش آن که شود بساط مهجوری طی
 (۲) دزی بسد خنشدقش در آب غرقه
 (۳) با می به کنار جوی می‌باید بود
 (۴) ای مدّت شاهی جهان مدّت تو

۱۵۲- کدام گزینه «ذوقافیتین» است؟

- (۱) مین روم بیرون شهر اینک درآ
 (۲) حیفش آمد که به زخمی جان دهد
 (۳) خربزه چون در رسد شد آبناک
 (۴) طالب او بیسی نگرده طالبت

۱۵۳- کدام بیت، وزن دوری ندارد؟

- (۱) نیست کند هست کند بی‌دل و بی‌دست کند
 (۲) در روی هر سپیدی خالی سیاه دیدم
 (۳) بنده چه دعوی کند حکم خداوند راست
 (۴) لایق بندگی نسیم بی‌هنری و قیمتی

۱۵۴- وزن کدام گزینه متفاوت است؟

- (۱) بس که در آرزوی وصل تو چشمم بگریست
 (۲) ظاهر آن است که در باغ جمال کس نیست
 (۳) وصل و هجر دوست می‌کوشند هر یک تا کنند
 (۴) خادمانی که در آن پردهٔ عزت باشند

۱۵۵- در بیت‌های زیر، به ترتیب، چند بار از «اختیارات وزنی» و «اختیارات زبانی» استفاده شده است؟

- «دلبر، نازده در مار سر زلف تو دست
 هم‌چو دف می‌خورم از دست جفای تو قفا»
- (۱) پنج - سه
 (۲) شش - چهار
 (۳) شش - سه
 (۴) پنج - چهار

- در بزم وصال می‌کشیم پی‌درپی
 شده در گگرد آن دژ آب حلقه
 وز غصّه کناره‌جوی می‌باید بود
 در عیند سرور خلیق از دولت تو

- تا نگیرد خون مظلومان تو را
 جان ز دست صدق او آسان رهد
 گر بنشکافی تلف گردد هلاک
 چون بمردی طالبت شد مطلبت

- باده دهد مست کند ساقی خمّار مرا
 بالاتر از سیاهی رنگی دگر نباشد
 گر تو قدم می‌نهی تا بنهم چشم راست
 و تو قبول می‌کنی با همه نقص فاضلم

- خواب را آب ببرد از حرم بینایی
 خوبتر زین گل حسنی که تو اش بستانی
 دست او در گردنم یا خون من در گردنش
 در اگر بر تو ببندند ز دیوار بگو

- چه زند کژدم هجران تو چندین نیشم؟
 چنگ‌وار از غم هجران تو سر در پیشم»



۱۵۶- ابیات کدام گزینه «هموزن» هستند؟

- (۱) ظلمت و نور و خیر و شر هست درون یک‌دگر
عارف گوینده بگو تا که دعای تو کنم
(۲) ز راه چشم به دل می‌رسد خدنگ مژه
مرا به هیچ بدادی و من هنوز بر آنم
(۳) به کرشمه عنایت نگهی به سوی ما کن
دل عالمی بسوزی چو عذار بفریزی
(۴) من همان روز بگفتم که طریق تو گرفتم
بازگویم نه، که این صورت و معنی که تو راست

۱۵۷- در کدام گزینه، همهٔ اختیارات «تغییر کمیت مصوت کوتاه به بلند»، «تغییر کمیت مصوت بلند به کوتاه» و «حذف همزه» وجود دارد؟

- (۱) من که از آتش دل چون خم می در جوشم
(۲) هست امیدم که علی‌رغم عدو روز جزا
(۳) قصد جان است طمع در لب جانان کردن
(۴) من کی آزاد شوم از غم دل چون هر دم

۱۵۸- کدام اختیار شاعری در بیت زیر وجود ندارد؟

- «راست گفستی که فرج یابی اگر صبر کنی
(۱) ابدال
(۲) قلب
(۳) کاربرد فاعلاتن به جای فعلاتن
(۴) تغییر کمیت مصوت

۱۵۹- در کدام گزینه، اعمال اختیار «حذف همزه» تأثیری در امتداد هجاها ندارد؟

- (۱) ندانم از پی چندین جفا که با من کرد
(۲) چو مرده باشم اگر بگذرد به خاک لحد
(۳) عداوت از طرف آن شکسته‌پیمان بود
(۴) سلام من برسان ای صبا به یار عزیز

۱۶۰- وزن همهٔ گزینه‌ها را به دو صورت می‌توان رکن‌بندی کرد، به جز

- (۱) با دوستان ز بهر چه در بسته‌ای زبان؟
(۲) از در خویشم مران که از خم گیسو
(۳) ای مشعله یقین را وی پرورش زمین را
(۴) از چشم قلم خون بچکد بر رخ دفتر

۱۶۱- ابیات کدام گزینه با قطعه شعر زیر تناسب معنایی دارد؟

«دوستان و دشمنان را می‌شناسم من / زندگی را دوست می‌دارم / مرگ را دشمن / وای اما با که باید گفت این؟ من دوستی دارم / که به دشمن باید از او التجا بردن ...»

- (الف) دوست می‌دارمست به بانگ بلند
(ب) هرکس که تو را به دوستی تکیه بر اوست
(ج) دشمنان دوست را هنگام جنگش هست و نیست
(د) از دشمنان بزنند شکایت به دوستان
(ه) خار است و گل در بوستان هر چه او کند نیکوست آن

(۱) ب - د (۲) الف - ج (۳) ج - ه (۴) د - ه



۱۶۲- مفهوم بیت «آینه سکندر جام می است بنگر / تا بر تو عرضه دارد احوال ملک دارا» از کدام گزینه دریافت می‌شود؟

- ۱) به پیش آینه دل هر آن چه می‌دارم
- ۲) از دل روشنم اسرار دو عالم پیداست
- ۳) چند بزم باده پنهان با حریفان ساختن
- ۴) ماه مجلس نیم‌شب آینه با من صاف کرد

۱۶۳- مفهوم ابیات کدام گزینه یکسان است؟

- الف) برکشیدم تیغ عشق لایزالی از نیام
- ب) بوی خون باید شنید آن که قدم در ره نهاد
- ج) دولت عشق بین که چون از سر فقر و افتخار
- د) هر شب‌نمی در این ره صد بحر آتشین است
- ه) در ره عشقت که دارد پیش و پس را صد خطر

- ۱) ب - د - ه ۲) الف - د - ه ۳) ب - ج - د ۴) الف - ج - ه

۱۶۴- همه گزینه‌ها با بیت «دامن‌کشان که می‌روی امروز بر زمین / فردا غبار کالبدت بر هوا رود» تناسب معنایی دارد، به جز

- ۱) در سبزه نشین و می روشن می‌خور
- ۲) کاین سبزه که امروز تماشگاه توست
- ۳) هر چشمه و هر سبزه که از خاک برآید
- ۴) هر گل نو ز گل‌رخ یاد همی‌کند ولی

۱۶۵- ابیات کدام گزینه با یکدیگر تناسب معنایی ندارد؟

- ۱) عالم از خورشید رخسارش تجلی‌زار شد
ای که نهان نشسته‌ای! باغ درون هسته‌ای
- ۲) می‌روم تا به سجود بت دیگر باشم
دل نیست کبوتر که چو برخاست نشیند
- ۳) جان و جانان را چو با هم هست قرب معنوی
در حقیقت پیر کنعان چون ز یوسف دور نیست
- ۴) راستی آموز بسی جوفروش
بوریا باف اگر چه بافنده است

- ۱) آفتابی در دل هر ذره پویاستی
هسته فروشکسته‌ای کاین همه باغ شد روان
- ۲) باز اگر سجده کنم پیش تو کافر باشم
از گوشه بامی که پریدیم پریدیم
- ۳) اعتبار بُعد صوری کی توان کردن ز تن
ای عزیزان کی حجاب راه گردد پیرهن
- ۴) هست در این کوی که گندم‌نماست
نبرندش بس که کارگاه حریر



زبان عربی (اختصاصی)

■ عَيْنُ الْأَصْحَحِ وَالْأَدَقُّ فِي الْجَوَابِ لِلتَّرْجُمَةِ أَوْ التَّعْرِيبِ أَوْ الْمَفْهُومِ (١٧٤ - ١٦٦):

١٦٦- «لَنْ تَنَالُوا الْبِرَّ حَتَّى تُنْفِقُوا مِمَّا تُحِبُّونَ»:

- (١) به نیکی دست پیدا نمی‌کنید تا این‌که آن‌چه را دوست داشته‌اید انفاق کنید!
- (٢) به نیکی نخواهید رسید مگر این‌که آن‌چه را دوست می‌دارید انفاق کنید!
- (٣) تنها زمانی به نیکی خواهید رسید که از آن‌چه دوست دارید انفاق کنید!
- (٤) به نیکی نخواهید رسید تا این‌که از آن‌چه دوست دارید، انفاق کنید!

١٦٧- «لَيْتَ الْمُتَفَجِّرَاتِ الَّتِي اخْتَرَعَتْ لِتُسَهِّلَ أَعْمَالَ الْعَمَّالِ لِمَ تُسْتَخْدَمُ فِي الْحُرُوبِ!»:

- (١) کاش موادّ منفجره که ساخته شده‌اند تا کارهای کارگران را آسان کنند، در جنگیدن به کار گرفته نمی‌شد!
- (٢) ای کاش موادّ منفجره که برای آسان کردن کارهای کارگران اختراع شده است، در جنگ‌ها به کار برده نشود!
- (٣) ای کاش موادّ منفجره‌ای که برای آسان کردن کارهای کارگران اختراع شده است، در جنگ‌ها به کار برده نمی‌شد!
- (٤) امید است موادّ منفجره‌ای که اختراعشان برای آسان کردن کار کارگران است، در جنگ‌ها مورد استفاده قرار نگیرد!

١٦٨- «اللّٰتِي يَدْعُونَ النَّاسَ إِلَى الْحِفَافِ عَلَى الْمَرَافِقِ الْعَامَّةِ يَعْمَلْنَ بَوَاجِبَاتِهِنَّ كِمَوَاطِنَاتٍ يَشْعُرْنَ بِالمَسْئُولِيَّةِ!»:

- (١) کسانی که به وظائف خود همانند شهروندانی که احساس مسئولیت دارند عمل می‌کنند، مردم را به مراقبت از تأسیسات عمومی دعوت می‌کنند!
- (٢) آن‌هایی که مردم را به محافظت از تأسیسات عمومی فرا خوانده‌اند، به وظایف خویش عمل می‌کنند و مانند شهروندان مسئولیت‌پذیر هستند!
- (٣) آن‌هایی که مردم را به محافظت از تأسیسات عمومی دعوت می‌کنند، به وظیفه خود به عنوان شهروندان مسئولیت‌پذیر عمل کرده‌اند!
- (٤) کسانی که مردم را به نگهداری از تأسیسات عمومی فرا می‌خوانند، به وظایف خود به عنوان شهروندانی که احساس مسئولیت دارند، عمل می‌کنند!

١٦٩- «رَأَيْتُ فُلْمًا عَنِ عَالَمِ الْحَيَوَانَاتِ فِيهِ مَشَاهِدٌ عَجِيبَةٌ لَا تُصَدِّقُهَا عَيْنٌ!»:

- (١) فیلمی را از دنیای حیوانات دیدم که در آن صحنه‌های عجیبی بود که چشمی آن را باور نمی‌کند!
- (٢) فیلمی را که از دنیای جانوری دیدم، دارای صحنه‌های عجیبی بود که چشمی آن‌ها را باور نمی‌کند!
- (٣) فیلمی را از دنیای حیوانات مشاهده کردم با صحنه‌هایی عجیب که چشم آن‌ها را باور نخواهد کرد!
- (٤) فیلمی از دنیای حیوانات مشاهده کردم که در آن صحنه‌هایی بود که چشم آن‌ها را باور نمی‌کند!

١٧٠- «إِذَا أَرَدْنَا أَنْ نُحْصِيَ الْمَعَالِمَ الْأَثَرِيَّةَ فِي بِلَادِنَا فَلَا بَدَّ مِنْ تَأْلِيفِ كِتَابٍ عَظِيمٍ!»:

- (١) چنان‌چه بخواهیم آثار باستانی در کشورمان را برشماریم، ناگزیر از تألیف کردن کتابی بزرگ هستیم!
- (٢) اگر خواهان شمردن آثار باستانی در کشور هستیم، پس به ناچار کتابی بزرگ را تألیف می‌کنیم!
- (٣) چنان‌چه بخواهیم در کشورمان آثار باستانی را بیان کنیم، ناگزیر از نوشتن کتابی بزرگ خواهیم بود!
- (٤) اگر خواستیم آثار باستانی در کشور را بیان کنیم، پس در این زمینه باید کتابی بزرگ را تألیف کنیم!

١٧١- عَيْنُ الصَّحِيحِ:

- (١) كان والدانا يُوصيان بأن نحترم القانون! والدینمان توصیه کرده بودند که باید به قانون احترام بگذاریم!
- (٢) نرى في القرآن الكريم لقمان الحكيم يُقدّم لابنه مواظب قِيَمَةً! در قرآن کریم می‌بینیم که لقمان حکیم پندی ارزشمند را به فرزندش تقدیم می‌کند!
- (٣) حافظوا على صلواتكم في أوقاتها محافظةً يُحِبِّكُمُ اللَّهُ! از نمازهای خود در زمان‌هایشان حتماً مراقبت کنید تا خداوند شما را دوست بدارد!
- (٤) تُشاهد المؤمنین صابرين أمام مشاكل تظهر في حياتهم! مؤمنان را در برابر مشکلاتی که در زندگی برایشان پدید می‌آید شکيبا دیدیم!

١٧٢- عَيْنُ الْخَطَأِ:

- (١) لم نستلم من الصيدليّة إلا الأدوية المكتوبة في الوصفة! از داروخانه تنها داروهای نوشته‌شده در نسخه را گرفتیم!
- (٢) لا يفوز اللاعبون في المباراة إلا إذا اجتهدوا كثيراً! ورزشکاران هرگاه در مسابقه بسیار تلاش کنند، پیروز می‌شوند!
- (٣) لن يتمّ بناء المبني إلا بعد سبعة و أربعين شهراً! ساخت ساختمان فقط بعد از چهل و هفت ماه تمام خواهد شد!
- (٤) قرأنا هذه الموسوعة العلميّة إلا ثلاثة فصول منها! این دانشنامه علمی را به جز سه فصل از آن خواندیم!



۱۷۲- «نوبل به راستی ترسید از این که مردم از او به بدی یاد کنند!»؛ عین الصحيح:

- (۱) خاف نوبل خوفاً من أن يذكره الناس بالسوء!
(۲) خاف نوبل خائفاً من أن يذكره الناس بالسوء!
(۳) كان نوبل يخاف من أن يذكره الناس بالسوء!
(۴) خاف نوبل خوفاً صادقاً من أن ذكره الناس بالسوء!

۱۷۴- «تجري الرياح بما لا تشتهي السفن!»؛ عین ما یناسب مفهوم العبارة:

- (۱) نه هرکه چهره برافروخت دلبری داند / نه هرکه آینه سازد سکندری داند
(۲) چنین است رسم سرای درشت / گهی پشت به زین و گهی زین به پشت
(۳) دست پنهان و قلم بین خطگذار / اسب در جولان و ناپیدا سوار
(۴) کشتی باده بیاور که مرا بی رخ دوست / گشت هر گوشه چشم از غم دل دریایی

■ عین الصحيح في الإعراب و التحليل الصرفي (۱۷۷ - ۱۷۵):

۱۷۵- «إِنَّ اللَّهَ لَا يُغَيِّرُ مَا بِقَوْمٍ حَتَّى يُغَيِّرُوا مَا بِأَنْفُسِهِمْ»:

- (۱) الله: اسم الجلالة - معرفة بالعلمية - معرب / اسم «إِنَّ» و خبره «ما»
(۲) قوم: اسم - جمع «تكسير» أو «مكسر» - نكرة - معرب / مجرور بحرف الجر
(۳) يُغَيِّرُوا: للغائبين - مزيد ثلاثي من باب «تفعيل» / فعل حذف منه حرف النون
(۴) أَنفُسٍ: اسم - جمع تكسير (مفردة: نَفْس) - معرب / مضاف و مجرور

۱۷۶- «استطاع المغول أن يهجموا على الصين على زعم بناء سور عظيم حولها!»:

- (۱) استطاع: فعل مضارع - للغائب - مزيد ثلاثي - متعدّد / فعل و فاعله «المغول»
(۲) يَهْجَمُوا: للغائبين - مزيد ثلاثي - لازم - معرب / فعل مع فاعله و الجملة الفعلية
(۳) الصين: اسم - مفرد مؤنث - معرّف بأل - معرب / مجرور بحرف الجر
(۴) سور: اسم - مفرد مذکر - نكرة - معرب / مضاف إليه و مجرور بالكسرة

۱۷۷- «سوق تبريز المشهورة تعدّ أكبر سوق مُسَقِّفة في العالم!»:

- (۱) سوق: اسم - مفرد مؤنث (جمعها: أسواق) - معرب / مبتدأ و مرفوع بالضمة
(۲) المشهورة: اسم - مفرد مؤنث - اسم مفعول - معرب / خبر و مرفوع بالضمة
(۳) مُسَقِّفة: مفرد مؤنث - اسم فاعل من مصدر «تسقيف» / صفة للموصوف «سوق»
(۴) العالم: مفرد مذکر - اسم فاعل من فعل مجرّد - معرّف بأل / مجرور بحرف الجر

■ عین المناسب في الجواب عن الأسئلة التالية (۱۸۵ - ۱۷۸):

۱۷۸- عین الخطأ في ضبط حركات الكلمات:

- (۱) يا بُنَيَّتِي؛ إِبْتِغِدِي عَنِ الرِّذَالِ حَتَّى تَتَقَدَّمِي فِي حَيَاتِكَ!
(۲) كَانَ لَنَا زَمِيلٌ فِي الثَّانَوِيَّةِ يَتَحَدَّثُ بِاللُّغَةِ الْإِنْجِلِيزِيَّةِ جَيِّدًا!
(۳) إِنَّ التَّائِبَ مِنَ الذَّنْبِ كَمَنْ لَا ذَنْبَ لَهُ!
(۴) يَحْتَفِلُ الْإِيرَانِيُّونَ بِالْتَّوْرُوزِ وَ يَجْتَمِعُونَ عِنْدَ كِبَارِ الْقَوْمِ!

۱۷۹- عین الخطأ:

- (۱) فَكَّ: قبض على أحد و جعله أسيراً لديه!
(۲) فَلْتَةً: زلة تحدث من شخص من دون تفكير و تأمل!
(۳) فُسْتُقٌ: شجرة لثمرها لبّ مائل إلى الخضرة و له فوائد كثيرة!
(۴) شريحة: بطاقة صغيرة توضع في الهاتف لا يتم الاتصال بدونها!

۱۸۰- عین الخطأ:

- (۱) ثلاثون تقسيم على اثنين يساوي خمسة عشر!
(۲) تسعة في ثمانية يساوي سبعين و اثنين!
(۳) عشرون في ثلاثة يساوي ستين!
(۴) مئة ناقص ثمانين يساوي عشرين!



۱۸۱- عین نكرة وُصفت بجملة (الجملة الوصفية):

- (۱) من يكذب على الناس مراراً لا يُصدّق كلامه أبداً!
- (۲) ارحموا على مساكين يحتاجون إليكم يرحمكم الرحمن!
- (۳) رأيتُ المرأة العجوزة في حديقة صغيرة تعتنى بالأزهار!
- (۴) يأتي إلى هذه المنطقة السياحية سُيَّاح كثيرون ليُزوروا معالمها!

۱۸۲- عین المبتدأ لبيتي موصوفاً:

- (۱) طُلاب المدرسة المجتهدون فأزوا في المسابقة!
- (۲) عالم يُنتفع بعلمه خيرٌ من ألف عابدا!
- (۳) العقل السليم في الجسم السليم!
- (۴) جمال المرء فصاحة كلامه!

۱۸۳- عین الخطأ عن نوع «لا»:

- (۱) لا يجلس أحد على هذا الكرسي فهو للأستاذ! الناهية
- (۲) لا شيء أحسن من علم يزيّنه الخلق الحسن! النافية للجنس
- (۳) لا يسعى في طلب العلم إلا العاقل! الناهية
- (۴) إن الزرافة لا ينام في اليوم الواحد إلا ثلاثين دقيقة! النافية

۱۸۴- عین غير المناسب لإيجاد أسلوب الحال: «أعطت المديرة تلميذاتها جائزة»:

- (۱) فُخورة
- (۲) و هنّ مسرورات
- (۳) مسرورات
- (۴) ذهبية

۱۸۵- عین ما فيه أسلوب الحصر:

- (۱) لم أشاهد فيك عيباً إلا كثرة الكلام!
- (۲) لا تتوقّع التّجاحَ إلا ممّن اجتهد طول السنة!
- (۳) وصل أعضاء الفريق إلى ذاك المكان إلا القائد!
- (۴) ليت هذه الجائزة لا تُمنح إلى أحدٍ إلا من هو أهل لها!



تاریخ

۱۸۶- سلوکیان پس از تسلط بر ایران برای تحکیم سلطه خود به کدام اقدام دست زدند؟

- (۱) سیاست آزادی و مدارای دینی پادشاهان هخامنشی را کنار گذاشتند.
- (۲) قدرت و مناصب مهم سیاسی، اداری و نظامی را در اختیار ایرانیان قرار دادند.
- (۳) به تقلید از هخامنشیان، ادعا کردند که بنا به خواست اهوره مزدا به مقام شاهی رسیده‌اند.
- (۴) تعداد زیادی از یونانیان را به ایران کوچاندند و آنان را در شهرهای جدید جای دادند.

۱۸۷- از زبان اوستایی که مردمان بخشی از نواحی شرقی ایران به آن سخن می‌گفته‌اند، چه آثاری بر جای مانده است؟

- (۱) اوستا و خدای‌نامه‌های ساسانی
- (۲) فقط کتاب اوستا و آثار وابسته به آن
- (۳) اوستا و داستان‌های ملی و پهلوانی ایران
- (۴) هیچ اثری به این زبان بر جای نمانده است.

۱۸۸- کدام مورد، از منابع اخبار و آگاهی درباره وضعیت دین در دوره ساسانی و سیاست دینی ساسانیان نیست؟

- (۱) لوح‌های گلی
- (۲) اندرزنامه‌های زرتشتیان
- (۳) نقش برجسته‌ها
- (۴) شاهنامه فردوسی

۱۸۹- کدام موارد زیر از ویژگی‌های رویدادهای تاریخی‌اند؟

- (الف) دور از دسترس‌اند و قابل مشاهده نیستند.
- (ب) تکرارناپذیرند و قابل تجربه نیستند.
- (ج) با استفاده از شواهد و مدارک می‌توان آنها را به طور مستقیم درک کرد.
- (د) با یکدیگر رابطه علت و معلولی دارند.

- (۱) الف - ب - ج
- (۲) ب - الف - د
- (۳) الف - ج - د
- (۴) ج - ب - د

۱۹۰- کدام گزینه از ویژگی‌های دین و اعتقادات مردم سومر می‌باشد؟

- (۱) کاهنان به عنوان واسطه میان مردم و خدایان عمل می‌کردند و از قدرت و ثروت زیادی برخوردار بودند.
- (۲) کاهنان همواره پیشوایی دینی را به همراه فرمانروایی سیاسی به عهده داشتند و آن را در خانواده خود موروثی ساختند.
- (۳) سومریان معتقد بودند که خدایان، انسان‌ها را برای خدمت به انسان‌های دیگر آفریده‌اند و اگر در این کار کوتاهی کنند، تنبیه می‌شوند.
- (۴) خدایان زیادی را می‌پرستیدند و حداقل نام چندین هزار خدا در نوشته‌های سومری شناسایی شده است.

۱۹۱- کدام یک از دانشمندان بزرگ دوره اسلامی، ابزارها و روش‌های جالبی برای تعیین طول و عرض جغرافیایی و اندازه‌گیری فاصله میان شهرها

ابداع کرد؟

- (۱) ابوریحان بیرونی
- (۲) محمد زکریای رازی
- (۳) ابوعلی سینا
- (۴) فارابی

۱۹۲- کدام گزینه، درباره مدارس عصر صفوی صحیح است؟

- (۱) مدرسه چهارباغ، مدرسه نظامیه و مدرسه شیخ لطف‌الله از مدارس معروف عصر صفوی بودند.
- (۲) به معلمان مدارس، خلیفه یا معید و به دستیاران آنها مبصر گفته می‌شد.
- (۳) پسران در مدارس پسرانه و دختران در مدارس مخصوص دختران آموزش می‌دیدند.
- (۴) معارف دینی، برخی از متون کهن پزشکی و برخی متون قدیمی ریاضی و نجوم در مدارس تدریس می‌شد.

۱۹۳- کدام عامل سبب محدود شدن حکومت تیموریان به مناطق شرقی ایران شد؟

- (۱) به قدرت رسیدن صفویان در ایران و عقب رانده شدن تیموریان
- (۲) رقابت و ستیز شاهرخ با دیگر شاهزادگان تیموری بر سر قدرت
- (۳) تسلط ازبکان بر ماوراءالنهر و مناطق غربی و مرکزی ایران
- (۴) تصرف غرب و مرکز ایران توسط قراقویونلوها و آق‌قویونلوها



۱۹۴- ابوطالب در برابر فشارها و تنگنایهای مشرکان برای دست برداشتن از حمایت حضرت محمد (ص)، به کدام روش روی آورد؟

(۱) از پیامبر (ص) درخواست کرد که دعوت خود را پنهانی ادامه دهد.

(۲) طایفه بنی‌هاشم را به حمایت از آن حضرت فراخواند.

(۳) زمینۀ مهاجرت گروهی از مسلمانان را به حبشه فراهم ساخت.

(۴) به همراه خاندان خود به محلی در بیرون از مدینه پناه برد.

۱۹۵- کدام گزینه دربارهٔ توماس آکویناس، فیلسوف برجستۀ اروپایی قرن ۱۲ و ۱۳م، درست است؟

(۱) به فرمان پادشاه فرانسه، دانشگاه پاریس را تأسیس کرد.

(۲) در یکی از مهم‌ترین کتاب‌های خود با عنوان «اصول الهیات» از برهان‌های ابن‌سینا برای اثبات خدا استفاده کرد.

(۳) نظریات فلسفی او تا قرن‌ها به عنوان فلسفۀ رسمی کلیسای کاتولیک به شمار می‌رفت.

(۴) در مطالعات خود در باب آیین مسیح، به این نتیجه رسید که آن‌چه مایۀ رستگاری انسان می‌شود، نه کارهای نیک، بلکه ایمان است.

۱۹۶- کدام کشور به علت ضعف سیاسی و نظامی در قرن ۱۹م، «مرد بیمار اروپا» لقب گرفت؟

(۱) روسیه (۲) عثمانی (۳) اتریش (۴) فرانسه

۱۹۷- پس از کودتای محمدعلی شاه علیه مجلس، کدام شهر ایران با هدایت انجمن ایالتی، پایگاه آزادی‌خواهی و مقاومت در برابر استبداد شد؟

(۱) مشهد (۲) تهران (۳) تبریز (۴) اصفهان

۱۹۸- کدام صدراعظم دورهٔ قاجاریه، نقش مهمی در به سلطنت رسیدن محمد شاه قاجار داشت، اما پس از هفت ماه، از مقام وزارت برکنار و کشته شد؟

(۱) حاج میرزا آقاسی (۲) میرزا حسین‌خان سپهسالار

(۳) میرزا تقی‌خان امیرکبیر (۴) قائم‌مقام فراهانی

۱۹۹- کدام‌گزینه، از پیمان‌های سیاسی - نظامی عصر جنگ سرد محسوب می‌شود؟

(۱) ژنو (۲) بالفور (۳) ورسای (۴) ناتو

۲۰۰- کدام‌گزینه از اقدامات دولت قوام‌السلطنه، پس از پایان جنگ جهانی دوم می‌باشد؟

(۱) واگذاری هرگونه امتیاز استخراج نفت و مشتقات آن به خارجی‌ها را ممنوع کرد.

(۲) طی موافقت‌نامه‌ای، امتیاز نفت شمال را به شوروی واگذار کرد.

(۳) حفاظت از چاه‌ها و تأسیسات نفت جنوب را به یک شرکت انگلیسی واگذار کرد.

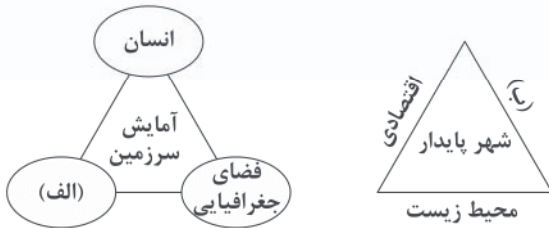
(۴) قرارداد الحاقی نفت را با دولت انگلستان امضا کرد.



۲۰۱- کدام گزینه در تعریف «مگالاپلیس» به درستی بیان شده است؟

- (۱) با افزایش جمعیت مادرشهرها و گسترش حومه‌های آن‌ها به تدریج این مناطق در شهرک‌های اقماری به وجود می‌آید.
- (۲) شهرهایی که به سبب نقش آن‌ها اقتصاد و تجارت جهانی، حوزه نفوذ بسیار وسیعی در سطح جهان دارند.
- (۳) بزرگ‌ترین و مهم‌ترین شهر یک ناحیه که دارای بخش‌های پیرامونی زیاد در کنار خود است.
- (۴) در آن، حومه‌ها و شهرک‌های اقماری یک مادرشهر به حومه‌ها و شهرک‌های مادرشهر دیگر پیوند می‌خورد.

۲۰۲- کدام گزینه در ارتباط با «آمایش سرزمین» و «شهر پایدار» به درستی بیان شده است؟



(۲) الف: فعالیت ب: اجتماعی و فرهنگی

(۴) الف: ابعاد توسعه ب: اجتماعی و فرهنگی

(۱) الف: توازن جمعیت ب: چشم‌انداز طبیعی

(۳) الف: توسعه عدالت ب: چشم‌انداز طبیعی

۲۰۳- به ترتیب درست (ص) یا نادرست (غ) بودن عبارت‌های زیر را در رابطه با «حمل و نقل آبی» کدام گزینه به درستی نشان می‌دهد؟

- (الف) نفت‌کش VLCC با ظرفیت ۴ میلیون بشکه می‌تواند حدود ۱۸۰۰۰ برابر یک کامیون بار حمل کند.
- (ب) کشتی‌های فلبر و کانتینری برای جابه‌جایی کالاهایی مانند نفت و گاز و مواد معدنی، مواد پتروشیمی و غلات استفاده می‌شود.
- (ج) کشتی‌های قاره‌پیما، به صورت تفریحی و گردشگری مسافران را مدت محدودی روی آب گردش می‌دهند.
- (د) یک کشتی کانتینری (پاناماکس TEU ۵۰۰۰) بیش از ۲۰۰۰ برابر یک کامیون ظرفیت حمل دارد.

(۱) غ - غ - غ - ص (۲) ص - غ - غ - ص (۳) غ - ص - غ - ص (۴) ص - ص - ص - غ

۲۰۴- در کدام کشورهای اروپایی سهم دوچرخه از سفرهای درون‌شهری حدود ۱۰ تا ۳۰ درصد است؟

- (۱) نروژ - دانمارک - لهستان - فنلاند
- (۲) انگلستان - فرانسه - ایتالیا - اسپانیا
- (۳) فرانسه - هلند - سوئد - انگلستان
- (۴) هلند - دانمارک - آلمان - سوئد

۲۰۵- هر کدام از موارد زیر، به ترتیب مربوط به کدام کمربندهای مهم زلزله‌خیز جهان می‌باشند؟

- (الف) در حال باز شدن و گسترش
- (ب) آمریکای جنوبی، استرالیا و آمریکای شمالی
- (ج) قاره آفریقا و هند

- (۱) میانی اقیانوس اطلس - میانی آلپ، هیمالیا - اطراف اقیانوس آرام
- (۲) میانی آلپ، هیمالیا - میانی اقیانوس اطلس - اطراف اقیانوس آرام
- (۳) میانی اقیانوس اطلس - اطراف اقیانوس آرام - کوهستانی آلپ، هیمالیا
- (۴) کوهستانی آلپ، هیمالیا - اطراف اقیانوس آرام - میانی اقیانوس اطلس

۲۰۶- کدام گزینه مربوط به شاخه‌های «فنون جغرافیایی» است؟

- (۱) ژئومورفولوژی - هیدرولوژی
- (۲) نقشه‌کشی - خاک‌شناسی
- (۳) کارتوگرافی - ژئومورفولوژی
- (۴) روش‌های کمی در جغرافیا - سنجش از دور

۲۰۷- عبارت‌های زیر به ترتیب از کدام انواع مهاجرت در کشور ایران هستند؟

- (الف) مهاجرت آریایی‌ها از شمال دریای خزر به سمت جنوب دریای خزر (ایران)
- (ب) مهاجرت تعدادی از قبایل گُرد در زمان شاه‌عباس به نواحی شمال شرقی کشور
- (ج) مهاجرت روستاییان به شهرهای بزرگ پس از اصلاحات ارضی در دهه ۴۰

(۱) طبیعی - اقتصادی - فرهنگی (۲) طبیعی - سیاسی - اقتصادی (۳) سیاسی - اقتصادی - اقتصادی (۴) اقتصادی - سیاسی - اقتصادی



۲۰۸- کدام گزینه در ارتباط با «دشت نهاوند» به درستی بیان شده است؟

- (۱) بر اثر انباشت مواد حاصل از فرسایش در نواحی پست به وجود آمده است.
- (۲) در هنگام چین خوردگی‌ها و در حد فاصل طاق‌دیس‌ها و یا در میان ناودیس‌ها، ایجاد شده است.
- (۳) حاصل انحلال مواد آهکی و هموار شدن زمین‌ها است.
- (۴) از دوران‌های زمین‌شناسی بسیار قدیم بر جای مانده و بر روی آن ناهمواری‌های جدید بر اثر فرسایش بادی ایجاد شده است.

۲۰۹- کدام گزینه مربوط به «توسعه پایدار» است؟

- (۱) بهره‌گیری از توان‌های محیطی، با هدف تأمین معاش و عدالت اجتماعی و اقتصادی
- (۲) ساماندهی فعالیت‌های انسانی در مکان، براساس توان محیطی و تعادل منطقه‌ای
- (۳) شناخت توان‌های جغرافیایی و درک صحیح ظرفیت‌های محیطی ایران
- (۴) تأمین نیازهای امروز، بدون کاستن از توانمندی‌های نسل‌های آینده

۲۱۰- به ترتیب بیان کنید کم‌ترین نقاط شهری ایران در کدام عرض جغرافیایی قرار دارند و بیشترین درصد شهرهای ایران در کدام ارتفاع هستند؟

- (۱) $(39^{\circ}N - 24^{\circ}N)$ - $(1000 - 500)$ متر
- (۲) $(34^{\circ}N - 24^{\circ}N)$ - $(1000 - 500)$ متر
- (۳) $(29^{\circ}N - 24^{\circ}N)$ - $(2000 - 1000)$ متر
- (۴) $(34^{\circ}N - 29^{\circ}N)$ - (2000) متر به بالاتر

۲۱۱- انتخاب معیارها و ملاک‌ها برای تعیین حدود یک ناحیه به چه عواملی بستگی دارد؟

- (۱) ویژگی‌های اصلی هر ناحیه
 - (۲) وحدت و همگونی نسبی
 - (۳) هدف مطالعه و تحقیق جغرافی‌دان
 - (۴) مطالعه شباهت‌ها و تفاوت‌های مکان‌ها
- ۲۱۲- کدام سنگ در هوازگی مقاوم‌تر است و در کدام نوع آب و هوا، سرعت و شدت هوازگی، بسیار زیاد می‌باشد؟ (به ترتیب)
- (۱) آذرین درونی - گرم و خشک (۲) مرمیرین - گرم و معتدل (۳) گرانیتی - گرم و مرطوب (۴) کلسیتی - سرد و خشک

۲۱۳- با توجه به نقشه، کدام قسمت‌ها از مهم‌ترین نواحی دامداری تجاری در جهان هستند؟



- (۱) الف - و - ج
- (۲) ب - ه - ج
- (۳) الف - د - ز
- (۴) ب - و - ز

۲۱۴- کدام گزینه از خصوصیات «کشورهای نیمه‌پیرامون» در جهان است؟

- (۱) ساختار اقتصادی و اجتماعی این کشورها دچار تغییرات و تحولات صنعتی و فناورانه است.
- (۲) عمدتاً تولیدکننده و صادرکننده مواد اولیه و خام‌اند و از نظر توسعه و فناوری در سطح پایین هستند.
- (۳) کانون سلطه اقتصادی بر جهان است و به صدور سرمایه و سرمایه‌گذاری در کشورهای دیگر می‌پردازد.
- (۴) این کشورهای مانند یک قطب آهنربا عمل می‌کنند و بخش عمده‌ای از سود و ثروت جهان را دریافت و جذب می‌کنند.

۲۱۵- کدام گزینه به ترتیب مربوط به کشورهای «حائل»، «محاطی»، «جمع و جور» و «کوچک از نظر وسعت» است؟

- (۱) لهستان - لسوتو - شیلی - سری‌لانکا
- (۲) استونی - سوازیلند - افغانستان - استونی
- (۳) لهستان - سوازیلند - لهستان - استونی
- (۴) استونی - ایتالیا - پاکستان - سری‌لانکا



۲۱۶- نوع هر یک از ویژگی‌های ذکرشده به ترتیب در کدام گزینه آمده است؟

«اثر انگشت - پوشش - صبور»

- ۱) اکتسابی، اجتماعی، ثابت - اجتماعی، متغیر، انتسابی - اجتماعی، انتسابی، ثابت
- ۲) فردی، انتسابی، ثابت - اجتماعی، اکتسابی، متغیر - فردی، اکتسابی، متغیر
- ۳) انتسابی، فردی، متغیر - ثابت، اجتماعی، انتسابی - فردی، اکتسابی، متغیر
- ۴) فردی، انتسابی، ثابت - اکتسابی، متغیر، فردی - اکتسابی، متغیر، اجتماعی

۲۱۷- کدامیک سیر تحولات هویتی جهان اجتماعی را به درستی نمایان می‌سازد؟

- ۱) انتقال ناسازگاری‌ها از سطح رفتارها و هنجارها به نمادها و ارزش‌ها - تزلزل فرهنگی - تداوم شیوه زندگی ناسازگار با عقاید و ارزش‌های اجتماعی - بحران هویت - تحولات فرهنگی
- ۲) عدم توان جامعه در حفظ عقاید و ارزش‌های خود - تزلزل هویتی - فراتر رفتن تغییرات اجتماعی از محدوده تغییرات درون جهان اجتماعی - تحولات فرهنگی - باز شدن راه برای دگرگونی‌های اجتماعی
- ۳) رسیدن ناسازگاری‌ها از سطح رفتارها و هنجارها به عقاید و ارزش‌ها - تزلزل فرهنگی - عدم توان جامعه در حفظ و دفاع از عقاید و ارزش‌های اجتماعی - بحران هویت - دگرگونی هویت فرهنگی
- ۴) عدم توان جهان اجتماعی در سامان‌دهی کنش‌های اجتماعی براساس فرهنگ خود - بحران هویت - عدم توان جامعه در حفظ هنجارها و ارزش‌های خود - تزلزل فرهنگی - تردید در آرمان‌ها و ارزش‌های فرهنگی جامعه - تحولات فرهنگی

۲۱۸- به ترتیب عبارت درست در رابطه با اصطلاح «استعمارزده» و «استعمارگر» و نادرست در رابطه با «اومانیسیم» کدام است؟

- ۱) کشورهای پیرامونی به سبب نوع عملکرد خودشان در موقعیت ضعف و فقر قرار می‌گیرند - انسان مدرن خواسته‌های دنیوی و این جهانی را بدون آن‌که نیازی به توجیه الهی داشته باشد، به رسمیت می‌شناسد.
- ۲) چالش و نزاع بین کشورهای غنی و فقیر به ابعاد اقتصادی محدود نمی‌شود - در فرهنگی که نگاه توحیدی ندارد، انسان موجودی صرفاً این جهانی است که اجازه تصرف در دیگر موجودات و تسلط بر طبیعت را دارد و مستقل از خداست.
- ۳) چالش اصلی، بین بلوک شرق و غرب نیست، بلکه بین کشورهای غنی و فقیر است - از نتایج منطقی سکولاریسم به معنای اصالت انسان دنیوی و این جهانی است.
- ۴) مشکل کشورهای فقیر تنها ضعف اقتصادی و صنعتی آن‌ها نیست، بلکه خودباختگی فرهنگی آن‌هاست - مهم‌ترین ویژگی هستی‌شناختی فرهنگ معاصر غرب است و به معنای یک وجود مقدس است که هیچ موجودی در مقابل آن نمی‌تواند اصالت داشته باشد.

۲۱۹- علت پیدایش هر یک از موارد زیر به ترتیب چیست؟

- شکل‌گیری نسل دوم غربگرایان

- پدید آمدن آثاری مانند بازگشت به خویشتن و فطرت

- هویت‌زدایی

- ۱) شکل‌گیری جریان‌های چپ در کشورهای اروپایی - نقد رویکرد تقلیدی به غرب - نادیده گرفتن عمق پدیده‌های اجتماعی
- ۲) در هم ریختن نظم پیشین به بهانه رسیدن به جایگاه کشورهای غربی - نقد رویکرد تقلیدی به فرهنگ غرب - دستیابی به پیچیدگی پدیده‌های اجتماعی و درک آن‌ها
- ۳) شکل‌گیری جریان‌های چپ در کشورهای اروپایی - تأیید هویت‌های کاذبی که مستشرقان ساخته بودند - دستیابی به معنای پدیده‌های اجتماعی
- ۴) اعتراض نخبگان غربگرا - القای هویت‌های غربی به جوامع غیرغربی - در نظر گرفتن عمق و دشواری پدیده‌های اجتماعی



۲۲۰- به ترتیب هر یک از موارد زیر نتیجه کدام بحران است؟

- در فرهنگ مدرن، سکولاریسم به طور آشکار مطرح شد.
- با چالش فقر و غنا پیوند می خورد و بر دامنه آن می افزاید.
- آشکار شدن محدودیت های علمی دانش تجربی

- (۲) بحران معنوی - بحران زیست محیطی - بحران علمی
(۴) بحران معنوی - بحران اقتصادی - بحران معرفتی

- (۱) بحران معرفتی - بحران زیست محیطی - بحران معنوی
(۳) بحران معرفتی - بحران اقتصادی - بحران معنوی

۲۲۱- ویژگی های زیر به ترتیب به کدام جهان تعلق دارند؟

- بنا به هویت خود، با طبیعت و بدن آدمی تعامل می کند.
- از دست دادن حالت فعال و خلاق در گزینش عناصر فرهنگی
- محصول انحراف بشر از فرهنگ توحیدی است.
- برخی از متفکرین آن را به طبیعت محدود می کنند.

- (۲) اجتماعی - خودباخته - اساطیری - تکوینی
(۴) اجتماعی - خودباخته - معنوی - انسانی

- (۱) اجتماعی - از خودبیگانه - سکولار - ماورای طبیعت
(۳) سکولار - از خودبیگانه - خودباخته - دنیوی

۲۲۲- به ترتیب هر یک از این وقایع با کدام دوران تاریخی ارتباط دارند؟

- شکل گیری ادبیات مدرن
- روی آوردن روشنفکران چپ به اندیشه های لیبرالیستی
- اقتصاد آن بر مدار کشاورزی و روابط اجتماعی ارباب - رعیتی بود.

- (۲) قبل از رنسانس - حاکمیت لیبرالیسم اولیه - کشف قاره آمریکا
(۴) رنسانس - انقلاب صنعتی - قرون وسطی

- (۱) رنسانس - فروپاشی بلوک شرق - قرون وسطی
(۳) رنسانس - فروپاشی بلوک شرق - انقلاب صنعتی

۲۲۳- به ترتیب هر عبارت با کدام قسمت جدول مرتبط است؟

- تغییر ساختار سیاسی
- جنبش تنباکو
- همکاری با حاکم نامشروع در حد واجبات نظامیه
- فعالیت رقابت آمیز اصلاحی

فعالیت اجتماعی و سیاسی	ویژگی	نمونه تاریخی
مقاومت منفی	(الف)	تدوین رساله های جهادیه
(ج)	اصلاح رفتار حاکمان یا ساختار حکومت	(ب)
انقلاب اجتماعی	(د)	جنبش عدالتخانه

- (۱) د - ب - الف - ج (۲) ج - الف - د - ب (۳) د - ب - ج - الف (۴) د - الف - ب - ج

۲۲۴- به ترتیب درست (ص) یا نادرست (غ) بودن عبارتهای زیر را کدام گزینه نشان می دهد؟

- (الف) جامعه ایران با بازگشت به هویت اسلامی خود، به عنوان یک قطب فرهنگی جدید ظاهر شد.
(ب) حدود قلمرو واقعی و آرمانی هر جهان اجتماعی ثابت است و مستقل از پذیرش یا عدم پذیرش جهان های اجتماعی است.
(ج) حس، عقل و وحی امکانات خدادادی بشر برای شناخت جهان هستی اند.
(د) مارکس، کمونیسم را مرحله ای انتقالی برای رسیدن به سوسیالیسم می دانست.

- (۱) غ - ص - غ - ص (۲) غ - ص - ص - غ (۳) ص - غ - غ - ص (۴) غ - غ - غ - ص

۲۲۵- به ترتیب این موارد با چه موضوعی ارتباط دارند؟

- فلسفه ها و باورهایی که آشکارا ابعاد غیرمادی جهان هستی را انکار می کنند، سکولاریسم آشکار را شکل می دهند.
- همه دانش ها تولیدات اجتماعی و فرهنگی هستند.

- پس انداز کردن برای آیندگان

- (۱) ارزش ها و عقاید بنیادین فرهنگ غرب - جامعه شناسی تبیینی - پدیده اجتماعی
(۲) فرهنگ مدرن غرب - نظم اجتماعی - پدیده طبیعی
(۳) ارزش ها و عقاید بنیادین فرهنگ غرب - جامعه شناسی تفسیری - کنش اجتماعی
(۴) جهان متجدد - جامعه شناسی انتقادی - پدیده تکوینی



۲۲۶- عبارت درست در رابطه با «آشنایی‌زدایی» و «مشروعیت قدرت» به ترتیب کدام است؟

- (۱) کشف نظم‌های پنهان از امور ناآشنا و نامأنوس - قدرتی که مطابق یک نظام عقیدتی و ارزشی است.
- (۲) عبور از دانش عملی و عمومی و نزدیک شدن به پیچیدگی موقعیت اجتماعی - بر مدار حق و باطل است.
- (۳) به معنای عادت‌زایی و کاستن از عمق یک موقعیت اجتماعی است - قدرت مطابق قانون و حکم الهی باشد.
- (۴) از دید یک فرد غریبه به موضوعات آشنا و روزمره اطراف خود نگاه کردن - بر مدار خواست و اراده اعمال‌کنندگان قدرت است.

۲۲۷- این موارد به ترتیب عملکرد چه کسانی و چه جریاناتی بود؟

- با روش تبیینی می‌خواست مجرم بودن یا نبودن را با مشاهده ویژگی‌های جسمانی و ظاهری تشخیص دهد.
- به اندیشه سیاسی قوم‌گرایانه غرب متجدد روی آورده بودند.
- به عنوان یک کارمند در بیمارستان روانی مشغول به کار شد تا اثر آن را بر روی بیماران مشاهده و تحقیق کند.

- (۱) گافمن - منورالفرکان - دیلتای
- (۲) لمبروزو - روشنفکران چپ - وبر
- (۳) گافمن - روشنفکران غربگرا - لمبروزو
- (۴) لمبروزو - منورالفرکان غربگرا - گافمن

۲۲۸- کدام یک در ارتباط با دسته‌بندی نظام‌های سیاسی از نظر ارسطو درست است؟

- (۱) اشتراک نظام سیاسی جمهوری و دموکراسی در روش حکومت آن‌هاست.
- (۲) الیگارش‌مانند حکومت اقلیتی از سرمایه‌داران است که در برابر اکثریت مردم مسئول نیستند و قدرت را در جهت منافع خود به کار می‌گیرند.
- (۳) افتراق نظام سیاسی استبدادی و مونارشی در تعداد حاکمان آن‌هاست.
- (۴) حکومت پاپ بر واتیکان و کلیسای جهانی کاتولیک از جمله حکومت‌های آریستوکراسی است.

۲۲۹- در ارتباط با یک پدیده اجتماعی مانند (ترافیک) به ترتیب هر یک از رویکردهای سه‌گانه جامعه‌شناسی (تبیینی، تفهیمی و انتقادی) چگونه به مطالعه این پدیده می‌پردازند؟

- (۱) مطالعه پدیده ترافیک برای انسجام‌بخشی به زندگی اجتماعی - بررسی و مطالعه ترافیک همانند پدیده‌های طبیعی - توصیف پدیده اجتماعی ترافیک در جامعه و تقبیح افزایش آن
- (۲) مطالعه وضعیت ترافیک و تجویز راهکارهایی برای رسیدن به وضعیت مطلوب - ورود در جمع ایجادکنندگان ترافیک و ارزیابی آن - بررسی علت ایجاد ترافیک برای کنترل آن
- (۳) مطالعه پدیده ترافیک برای پیش‌بینی و کنترل آن - توصیف کنش‌های اجتماعی ایجادکننده ترافیک و فهم آن‌ها - کنترل‌کنندگان ترافیک را تحسین و برای ازدیاد آن راه‌حل‌هایی تجویز شود.
- (۴) بررسی علت ایجاد آن و چگونگی افزایش آن در جامعه - پرداختن به وضعیت ترافیک و ارزیابی خوب و بد بودن آن - مطالعه پدیده ترافیک و ارتباط آن با انسجام‌بخشی به زندگی اجتماعی

۲۳۰- طبیعی دانستن قشربندی اجتماعی چه پیامدهایی دارد؟

- (۱) عادلانه بودن قشربندی اجتماعی - پیشرفت مادی و ایجاد انگیزه برای افراد توانمند در طبقات اجتماعی مختلف
- (۲) نادیده گرفتن نقش انسان‌ها و جوامع در پدید آمدن و ادامه یافتن قشربندی اجتماعی - عدم تغییر قشربندی اجتماعی
- (۳) موافقت با رهاسازی مطلق از سوی جامعه - عدم تثبیت کارکردهای قشربندی اجتماعی
- (۴) ضروری دانستن رقابت در زندگی اجتماعی - یکسان بودن نقطه شروع رقابت در زندگی اجتماعی

۲۳۱- به ترتیب هر عبارت با کدام قسمت جدول مرتبط است؟

- حذف ساختارهای اجتماعی پیشین و ایجاد ساختارهای اجتماعی جدید

- تعارف هویت‌ها

- دیگچه همانندسازی

- گاهی بر آزادی‌های اجتماعی اقوام و گروه‌های مختلف و فرصت سهیم شدن آن‌ها در قدرت سیاسی تأکید می‌شود.

حاکمان سکولار	(د)	مدل تکثرگرا	(ج)
(ب)	وحدت و کثرت هویت‌ها	(الف)	تعداد کثیری از گروه‌های درگیر قومی‌نژادی در ارتباط با هم یک فرهنگ مختلط می‌سازند.

(۴) ب - ج - د - الف

(۳) ب - د - الف - ج

(۲) ج - الف - د - ب

(۱) ب - د - ج - الف



۲۲۲- کدام عبارت در مورد روش آزمایش درست نیست؟

- ۱) به معنای آزمون یک فرضیه در شرایط کاملاً کنترل‌شده‌ای است که توسط محقق ترتیب داده می‌شود و در علوم طبیعی متداول است و در جامعه‌شناسی کاربرد چندانی ندارد.
- ۲) افراد را نمی‌توان وارد محیط آزمایشگاهی کرد، آن‌ها می‌دانند که مورد مطالعه‌اند و ممکن است رفتار طبیعی نداشته باشند.
- ۳) اغلب می‌توان از این روش در جامعه‌شناسی استفاده کرد و به نتایج مفیدی رسید، آزمایش فیلیپ زیمباردو در ایجاد یک زندان ساختگی مثال خوبی از کاربرد آزمایش در جامعه‌شناسی است.
- ۴) تغییر رفتار افراد در محیط آزمایشگاهی در دهه ۳۰ میلادی به هنگام کار پژوهشی بر روی کارگران کارخانه هورن، مشخص شد و ناکارآمدی این روش را در مطالعه انسان‌ها نشان داد.

۲۲۳- کدام گزینه پیامد عبارت زیر را نشان می‌دهد؟

«کسانی که فقط روش‌های تجربی را معتبر می‌دانند، بر آن چه مشاهده می‌شود، تمرکز می‌کنند.»

- ۱) رخ دادن بزرگ‌ترین کشتار جهان در جنگ‌های جهانی - رعایت نظم از سوی افراد در جهت آرمان‌ها و ارزش‌های آنان - پدید آمدن اختراعات بزرگ و انقلاب‌های اجتماعی
- ۲) نگاه کردن به مسائل جوانان از منظر خودشان - شکل‌گیری قفس آهنین - اخلاق‌گریزی، فراتر رفتن از نظم موجود و شکل‌گیری اندیشه‌های جدید
- ۳) فراگیرتر و عمیق‌تر شدن فجایع انسانی و زیست‌محیطی - عدم توجه به تفسیر کاربران از کنش خود - شکل‌گیری نظمی که افراد می‌دانند برای تحقق چه آرمان‌ها و ارزش‌هایی است.
- ۴) عدم فهم ارزش بودن مهربانی و فداکاری - سرکوب روحیه خلاق - گرفتن شور زندگی از انسان‌ها

۲۲۴- کدام گزینه در ارتباط با «فوائد علوم انسانی و علوم اجتماعی» و «شاخه‌های علوم اجتماعی» به ترتیب درست و نادرست است؟

- ۱) شناخت طبیعت و قوانین آن و رهاسازی انسان از محدودیت‌های طبیعت - کنش‌های اجتماعی، ابعاد و انواع مختلفی دارند و برای بررسی و مطالعه آن‌ها، دانش‌های اجتماعی و طبیعی به وجود آمده است.
- ۲) شناخت فضیلت، عدالت و سعادت و راه صحیح زندگی و داوری درباره کنش‌های خوب و بد انسان‌ها - ابعاد مختلف زندگی اجتماعی انسان، شاخه‌ها و دانش‌های اجتماعی متفاوتی را پدید آورده است.
- ۳) شناسایی عواملی که بر زندگی انسان و کنش او تأثیر دارند یا پیش‌بینی کنش‌ها و پیامدهای آن‌ها برای پیشگیری - جغرافیای انسانی، مدیریت، روان‌شناسی از جمله رشته‌هایی هستند که پدیده‌های اجتماعی را مطالعه می‌کنند و در گروه علوم اجتماعی هستند.
- ۴) پیش‌بینی حوادث طبیعت برای پیشگیری و تسلط بر طبیعت - علوم اجتماعی کنش‌های اجتماعی و پیامدهای آن یعنی پدیده‌های اجتماعی را مطالعه می‌کنند.

۲۲۵- کدام گزینه در تقابل با نمودار زیر است؟

- ۱) برتری دانش تجربی بر دانش عمومی را بی‌اعتبار می‌داند و پایه و اساس هرگونه دانشی از جمله دانش تجربی را دانش عمومی می‌داند.

دانش عمومی
دانش علمی

- ۲) دانش علمی (تجربی) راه کشف واقعیت و تنها دانش معتبر است و دانش عمومی، دانش حاصل از زندگی افراد است که از راه جامعه‌پذیری و فرهنگ‌پذیری به دست می‌آید و مرز بین این دو دانش در حال از بین رفتن است.

- ۳) در این دیدگاه، دانش‌ها تولیدات اجتماعی و فرهنگی هستند و فرهنگ‌های گوناگون تفسیرهای مختلفی از زندگی دارند و هر کدام دانش‌های خاص خود را تولید می‌کنند.

- ۴) در این دیدگاه، دانش‌ها نه کشف و بازخوانی واقعیت، بلکه بازسازی واقعیت، هستند که انسان‌ها برای سامان دادن به زندگی خود تولید می‌کنند.



فلسفه و منطق



- ۲۳۶- هر تصدیق معلوم
 (۱) قبلاً حتماً مجهول بوده است.
 (۳) از چند تصور معلوم تشکیل شده است.
 (۲) به وسیله استدلال معلوم شده است.
 (۴) حتماً صحیح و درست است.
- ۲۳۷- کدام گزینه نمی‌تواند مغالطه شیوه نگارش ایجاد کند؟
 (۱) می‌کند (۲) سحر
 (۳) قوت یک استدلال تمثیلی به است.
 (۱) بیشتر بودن وجوه مشابهت
 (۳) توجه به وجوه اختلاف
- ۲۳۸- در کدام گزینه، نسبت به صورت منطقی وجود دارد؟
 (۱) هر گردی گردو نیست.
 (۳) خدا هست.
 (۲) در این مدرسه پزشک نیست.
 (۴) علی می‌رود.
- ۲۳۹- متضاد متناقض عکس مستوی موجبه کلی کدام است؟
 (۱) موجبه کلی (۲) موجبه جزئی
 (۳) عکس مستوی «فقط زنان مادر هستند» کدام گزینه است؟
 (۱) هر مادری زن است. (۲) هر زنی مادر است.
 (۳) بعضی مادران زن هستند. (۴) بعضی زنان مادر هستند.
- ۲۴۰- کدام قیاس شکل اول است؟
 (۱) هر الف ب است، هر ب ج است؛ پس هر ج الف است.
 (۳) هر الف ب است، هر ج ب است؛ پس هر الف ج است.
 (۲) هر الف ب است، هر الف ج است؛ پس هر ج الف است.
 (۴) هر الف ب است، هر ب ج است؛ پس هر الف ج است.
- ۲۴۱- کدام گزینه در مورد قضایای شرطی «منفصل مانعة الرفع» نادرست است؟
 (۱) ممکن است بین محمول‌های دو طرف آن رابطه تباین باشد.
 (۲) ممکن است هر دو طرف آن صادق باشند.
 (۳) انفصال بین دو طرف آن تام نیست.
 (۴) محال است بین محمول‌های دو طرف آن رابطه تساوی باشد.
- ۲۴۲- کدام گزینه درباره پرسش‌های فلسفی درست است؟
 (۱) عملاً در زندگی روزمره انسان تأثیری ندارند، هر چند در جهان بینی او مؤثر است.
 (۲) تفکر درباره آن‌ها و اندیشیدن به آن‌ها ضرورتی عام و همگانی نیست و کار فیلسوفان است.
 (۳) با روش‌های مختلفی مثل عقل، تجربه، ادراک حسی و ... می‌توان به پاسخ آن‌ها دست یافت.
 (۴) حتماً قبل از آن‌ها حیرت و شگفتی ایجاد شده است و بدون تفکر در اندوخته‌ها نمی‌توان به پاسخ آن‌ها رسید.
- ۲۴۳- کدام یک سوالات زیر درباره فلسفه، یک سؤال فلسفی است؟
 (۱) کدام فیلسوف نظریاتش با دین سازگار است؟
 (۳) کدام یک از بخش‌های فلسفه از بقیه مهم‌تر است؟
 (۲) چرا فلسفه از یونان و با سقراط آغاز می‌شود؟
 (۴) آیا تفکر فلسفی از ساختار وجودی انسان جدانشدنی است؟
- ۲۴۴- کدام گزینه در مورد آغاز فلسفه درست است؟
 (۱) نمی‌توان در مورد آغاز فلسفه زمانی تعیین کرد، با این حال می‌توان گفت که تفکر فلسفی در یونان آغاز شده است.
 (۲) آغاز تاریخ تفکر فلسفی را یونان می‌دانند، چون از اندیشه‌های فلسفی یونانیان گزارشات دقیق و موثقی وجود دارد.
 (۳) تمدن‌های مصر و بین‌النهرین و ایران چون بسیار قدیمی بودند، آثار فلسفی نداشتند، اما بر فلسفه یونان مؤثر بودند.
 (۴) این‌که نمی‌توان برای فلسفه آغازی تعیین کرد، نمی‌تواند وجه امتیاز فلسفه از دیگر دانش‌های بشری باشد.



۲۴۷- کدام گزینه در مورد اندیشمندان نخستین و مسئله ماده‌المواد جهان درست است؟

- (۱) گزنوفانس ماده‌المواد جهان را خدا می‌داند و معتقد است همه چیز از خدا به وجود آمده است.
- (۲) از طریق آثار ارسطو می‌توان متوجه شد که فیثاغورس اعداد و اصول اعداد را عنصر اولیه می‌داند.
- (۳) هراکلیتوس معتقد بود که ستیزه بین آب و آتش که باعث خاموشی و برافروختگی است، منشأ پیدایش می‌باشد.
- (۴) پارمیندس وجود و سیوررت را ماده‌المواد می‌داند که این امر باعث شد وی حرکت و تغییر را انکار کند.

۲۴۸- «زندگی برخی فیلسوفان نشان می‌دهد که آن‌ها سرگرم بحث‌های انتزاعی خود بوده‌اند و کاری به زندگی واقعی مردم نداشته‌اند. پس چرا ما از آن‌ها دنباله‌روی کنیم؟» در پاسخ به این سؤال کدام یک از گزاره‌های تمثیلی زیر را می‌توان به کار برد؟

- (۱) تولد و مرگ ما در اختیار ما نیست؛ اما فاصله بین آن دو را ما تکمیل می‌کنیم.
- (۲) هیچ‌کس نمی‌تواند به عقب برگردد و از نو شروع کند، اما همه می‌توانند از همین حالا شروع کنند.
- (۳) پرواز را بیاموز، نه برای این‌که از زمین جدا باشی، برای آن‌که به اندازه فاصله زمین تا آسمان گسترده شوی.
- (۴) در مقابل مشکلات خم به ابرو نیاور! کارگردان، همیشه سخت‌ترین نقش را به بهترین بازیگر می‌دهد.

۲۴۹- کدام گزینه به خوبی معنی استقلال در اندیشه که نتیجه تفکر فلسفی می‌باشد را بیان کرده است؟

- (۱) غور در باورهای مربوط به زندگی
- (۲) عدم تبعیت از هیچ‌کسی جز خود
- (۳) تبعیت از دلیل و برهان در پذیرش باورها
- (۴) نپذیرفتن باورهایی که در تبلیغات بیان می‌شوند

۲۵۰- سقراط چگونه خدا را برای مردم اثبات کرد؟

- (۱) از طریق صفات و آثار خدا
- (۲) با نشان دادن خورشید و ماه
- (۳) از طریق سخنان سروش معبد دلفی
- (۴) با اذعان به نادانی به نادانی خود

۲۵۱- یکی از عوامل مهم توجه به عقل و عقلانیت در جهان اسلام چه بود؟

- (۱) عقل به عنوان قوه فهم و تفکر، ناتوانی عقل کلامی و فقهی
- (۲) ورود فلسفه یونانی به ویژه فلسفه ارسطو به جهان اسلام
- (۳) پیام الهی و سخنان پیامبر اکرم (ص) و عترت گرامی ایشان
- (۴) توانایی عقل فلسفی برای اثبات گزاره‌های دینی

۲۵۲- هر یک از مفاهیم «دین»، «عرفان» و «فلسفه»، به ترتیب با کدام مورد گره خورده است؟

- (۱) خدا - تزکیه نفس - خرددوستی
- (۲) ایمان - شهود - عقل
- (۳) سیاست - عشق - استدلال عقلی
- (۴) آئین - تصوف - مابعدالطبیعه

۲۵۳- فیلسوف بر چه اساسی عقیده‌ای را می‌پذیرد یا از آن دفاع می‌کند؟

- (۱) فیلسوف کسی است که عقیده خاصی ندارد و تنها با قواعد فلسفی عقیده‌ای را می‌پذیرد.
- (۲) فیلسوف کسی است که از هر راهی برای اثبات و دفاع از عقایدش تلاش می‌کند.
- (۳) فیلسوف کسی نیست که عقیده‌ای نداشته باشد، بلکه براساس قواعد فلسفی از عقیده خود دفاع می‌کند.
- (۴) فیلسوف عقاید خود را براساس قواعد فلسفی و تجربی پذیرفته و از آن دفاع می‌کند.

۲۵۴- در بررسی خدایان یونانی، «آرتمیس»، «ژئوس» و «آپولون» به ترتیب مبدأ کدام حقیقت جهان شمرده می‌شدند؟

- (۱) خدای آسمان و باران - خدای خورشید و هنر و موسیقی - خدای عفت و خویشتن‌داری
- (۲) خدای عفت و خویشتن‌داری - خدای خورشید و هنر و موسیقی - خدای آسمان و باران
- (۳) خدای خورشید و هنر و موسیقی - خدای آسمان و باران - خدای عفت و خویشتن‌داری
- (۴) خدای عفت و خویشتن‌داری - خدای آسمان و باران - خدای خورشید و هنر و موسیقی

۲۵۵- لازمه و نتیجه اصول «علیت» و «سنخیت میان علت و معلول» به ترتیب کدام گزینه است؟

- (۱) ارتباط و پیوستگی - نظم و قانونمندی میان پدیده‌ها
- (۲) حتمیت در نظام هستی - نظم و قانونمندی میان پدیده‌ها
- (۳) ارتباط و پیوستگی - تخلف‌ناپذیری نظام هستی
- (۴) نظم و انتظام پدیده‌ها - ارتباط و پیوستگی



۲۵۶- کدام یک از فیلسوفان یونان باستان از واژه «اتفاق» استفاده کرده بود و در چه موضوعی آن را به کار برد؟

- ۱) هراکلیتوس - پیدایش اتفاقی انسان در اثر دگرگونی‌های طبیعت
- ۲) دموکریتوس - پیدایش موجودات زنده که به طور اتفاقی با محیط سازگار شدند.
- ۳) هراکلیتوس - تحولات پی در پی اولین موجودات زنده و پیدایش اتفاقی موجودات فعلی
- ۴) دموکریتوس - برخورد اتفاقی اتم‌ها و ذرات سرگردان برای پیدایش عناصر و اشیای جهان

۲۵۷- کدام مورد، بیانگر تفاوت «رابطه علیت» با سایر روابط است؟

- ۱) رابطه علیت، رابطه‌ای وجودی است، اما در سایر روابط ابتدا وجود دو طرف فرض می‌شود.
- ۲) رابطه علیت مانند رابطه دوستی است که ابتدا وجود دو فرد فرض می‌شود و سپس دوستی برقرار می‌گردد.
- ۳) در رابطه علیت، دو طرف به یکدیگر نیازمند هستند و رابطه‌ای عمیق‌تر از سایر رابطه‌هاست.
- ۴) در علیت، وجود معلول متوقف بر علت است، اما در روابط دیگر وجود اولی متوقف بر دیگری است.

۲۵۸- دیدگاه «دیوید هیوم» فیلسوف انگلیسی درباره اصل علیت در کدام گزینه به درستی آمده است؟

- ۱) مفهوم علیت و رابطه علت و معلول جزء مفاهیم پایه‌ای ذهن است.
- ۲) اصل علیت بدون دخالت تجربه به دست می‌آید و انسان از آن درک فطری دارد.
- ۳) با تکرار حوادث، در ذهن ما چنین تداعی می‌شود که چیزی را از روی عادت، علت چیزی دیگر بنامیم.
- ۴) انسان از طریق حس به توالی پدیده‌ها پی می‌برد و رابطه علیت را بنا می‌نهد.

۲۵۹- در قضایای «دیوار خانه ما سفید است»، «تعداد موجودات روی زمین بی‌نهایت است» و «مثلث سه زاویه و سه ارتفاع دارد»، به ترتیب رابطه

موضوع و محمول چیست؟

- ۱) امکانی - وجوبی - امتناعی
- ۲) وجوبی - امکانی - امتناعی
- ۳) امکانی - امتناعی - وجوبی
- ۴) وجوبی - امتناعی - امکانی

۲۶۰- در عبارت «انسان موجود است»، تفاوت انسان و وجود از چه جهتی است؟

- ۱) انسان و وجود دو امر جداگانه‌ای در خارج هستند.
- ۲) انسان و وجود فقط در ذهن و از جهت مفهوم تفاوت دارند.
- ۳) دو واقعیتی است که یکی را به دیگری نسبت می‌دهیم.
- ۴) دو مفهوم مختلف در ذهن نشانه‌ای از دو موجود جداگانه در خارج است.



۲۶۱- حافظه مورد نیاز در کدام گزینه زیر با بقیه متفاوت است؟

- (۱) احمد از دوستش می‌پرسد «روز طبیعت پارسال دقیقاً به کجا سفر کردی؟»
- (۲) الهام به پدرش می‌گوید «دیروز ساعت ۴ بعدازظهر کجا بودی که تلفن را جواب ندادی؟»
- (۳) امید به رضا می‌گوید «در سال ۹۷ چه حوادث اقتصادی و سیاسی در ایران رخ داده است؟»
- (۴) سمیرا از خواهرش می‌پرسد «۳ ماه پیش در کدام مؤسسه مشغول به کار بودی؟»

۲۶۲- در کدام گزینه زیر، توجه تحت تأثیر سبک پردازش افراد و انتظارات آن‌ها قرار گرفته است؟

- (۱) برگشتن به سمت صدای آژیر خطر
- (۲) توجه روان‌شناس به حالات خلقی فردی که با او صحبت می‌کند.
- (۳) انتخاب تلفن همراهی در فروشگاه که قبلاً نام آن را در تبلیغات شنیده‌ایم.
- (۴) وقتی منتظر سرویس مدرسه هستیم، هر اتومبیلی را از دور سرویس مدرسه تلقی می‌کنیم.

۲۶۳- کدام فعالیت زیر با بقیه متفاوت است؟

- (۱) درک و فهم علی در مسائل جغرافیایی بالاتر از دوستانش است.
- (۲) سارا با دیدن عکس‌های قدیمی خود، خاطرات دلنشینی برایش تداعی می‌شود.
- (۳) سعید با عصبانیت، تعدادی از وسایل خانه را می‌شکند.
- (۴) نگین خود را در دانشگاه مورد علاقه‌اش تصور می‌کند.

۲۶۴- تحول اخلاقی و ارزشی در کدام دامنه سنی زیر بیشتر از سایر دوران‌ها است؟

- (۱) ۸ تا ۱۱ سالگی
- (۲) ۱۲ تا ۲۰ سالگی
- (۳) ۶۵ سال به بالا
- (۴) ۲۰ تا ۴۰ سالگی

۲۶۵- اسناد «برنامه‌ریزی» چه ویژگی‌هایی دارد؟

- (۱) پایدار - غیرقابل کنترل - درونی
- (۲) ناپایدار - قابل کنترل - درونی
- (۳) ناپایدار - غیرقابل کنترل - بیرونی
- (۴) پایدار - قابل کنترل - بیرونی

۲۶۶- کدام‌یک از روش‌های مقابله‌ای زیر به تحمل فشار روانی کمک می‌نماید؟

- (۱) امیر از ترس مردود شدن در امتحانات نهایی، برای همیشه درس خواندن را کنار می‌گذارد.
- (۲) آقای صالحی هر روز با بانکی که در آن حساب دارد، تماس می‌گیرد تا ببیند در قرعه‌کشی برنده شده است یا خیر.
- (۳) الهه جهت افزایش فروش محصولات غذایی خود، به نیازسنجی واقعی مشتریان می‌پردازد.
- (۴) علی برای آرام کردن خود که در مصاحبه شغلی قبول نشده است، فرم استخدام را پاره می‌کند.

۲۶۷- «مدیر یک مدرسه با وجود آن‌که می‌داند یکی از معلمانش برخورد خوبی با شاگردان ندارد، اما بر این باور است که معلمان مدرسه او هیچ اشتباهی

نمی‌کنند»، «اشکان بدون تمرین در مسابقات فوتبال انتخابی تیم ملی شرکت می‌کند و معتقد است بهترین نتیجه را می‌گیرد» و «مهران با این‌که

شبانه‌روز درس خوانده است، به دلیل ترس از شکست در کنکور شرکت نمی‌کند»؛ به ترتیب این افراد با کدام موانع تصمیم‌گیری مواجه هستند؟

- (۱) سوگیری تأیید - اعتماد افراطی - کوچک شمردن خود
- (۲) کنترل نکردن هیجانات - اعتماد افراطی - سوگیری تأیید
- (۳) سوگیری تأیید - کنترل نکردن هیجانات - اعتماد افراطی
- (۴) کنترل نکردن هیجانات - سوگیری تأیید - کوچک شمردن خود

۲۶۸- در کدام گزینه زیر، نوع فشار روانی تجربه‌شده توسط افراد با بقیه متفاوت است؟

- (۱) سربازی که از فرمانده خود ناراحت است، اما می‌ترسد اضافه خدمت برایش نوشته شود.
- (۲) محدثه سر جلسه امتحان احساس می‌کند همه چیز را بلد است، اما حافظه‌اش کار نمی‌کند.
- (۳) دونده‌ای که صدای شمارش معکوس تماشاچیان را هنگام اتمام مسابقه می‌شنود و تحت فشار قرار می‌گیرد.
- (۴) فوتبالیستی که از ترس اخراج شدن از زمین، نمی‌تواند گل پناالتی را به ثمر برساند.



۲۶۹- کدام عبارت زیر در رابطه با عوامل نگرش صحیح است؟

- (۱) نظام باورهای افراد در نهایت توسط اجتماع ساخته می‌شود.
- (۲) عدم برخورداری از حمایت دیگران از عوامل درونی شکل‌دهنده باورهای غلط است.
- (۳) ناهماهنگی بعد از تصمیم‌گیری باعث می‌شود تا معایب وسیله‌ای را که انتخاب کرده‌ایم، بیان کنیم.
- (۴) هرگز انگیزه عمل ایجاد نمی‌شود اگر اهداف انتخابی ما زودگذر باشند.

۲۷۰- به ترتیب «تکرار جمله «خواستن، توانستن است»، «دوچرخه‌سواری» و «تماس با دوستان در هنگام استرس» جزء کدام روش‌های مقابله‌ای سازگارانه محسوب می‌شوند؟

- (۱) بلندمدت - بلندمدت - کوتاه‌مدت
- (۲) کوتاه‌مدت - کوتاه‌مدت - کوتاه‌مدت
- (۳) بلندمدت - کوتاه‌مدت - بلندمدت
- (۴) کوتاه‌مدت - بلندمدت - بلندمدت

۲۷۱- به ترتیب «دلشوره در هنگام امتحان»، «اجتناب از موقعیت استرس‌زا» و «ضعیف شدن قوه استدلال» به کدام علائم فشار روانی مربوط می‌شوند؟

- (۱) جسمانی - رفتاری - هیجانی
- (۲) هیجانی - رفتاری - شناختی
- (۳) هیجانی - شناختی - رفتاری
- (۴) جسمانی - هیجانی - شناختی

۲۷۲- در یک موقعیت، با ورود فردی به سالن آرام سینما و ایجاد سر و صدا، یک نفر گفت «لطفاً آرامش ما را به هم نریزید!». این موقعیت نشان‌دهنده کدام مفهوم زیر است؟

- (۱) توجه
- (۲) حافظه
- (۳) احساس
- (۴) ادراک

۲۷۳- در کدام گزینه، انگیزه کم‌تری برای جبران شکست وجود دارد و دلیل آن چیست؟

- (۱) اگر قدرت بدنی بالایی داشتم، حتماً در مسابقه ورزشی برنده می‌شدم - چون اسناد به عوامل ناپایدار است.
- (۲) اگر تلاش کرده بودم، حتماً در کنکور موفق می‌شدم - چون اسناد به عوامل پایدار است.
- (۳) سخت‌گیری مصاحبه‌گر شغلی باعث شد تا در آزمون استخدامی رد شوم - چون اسناد به عوامل غیرقابل کنترل است.
- (۴) نداشتن هدف در تحصیل باعث شد تا از پیشرفت بازمانم - چون اسناد به عوامل قابل کنترل است.

۲۷۴- منبع انگیزش در کدام گزینه زیر با بقیه متفاوت است؟

- (۱) احترام به سالمندان به دلیل علاقه به اصول اخلاقی
- (۲) درس خواندن برای شاگرد اول کلاس شدن
- (۳) رانندگی دقیق برای جریمه نشدن توسط پلیس
- (۴) انجام تمرینات سخت بدنی برای جذب شدن به تیم ملی

۲۷۵- نقش عوامل روانی در کدام گزینه با بقیه متفاوت است؟

- (۱) در اثر استرس‌های فراوان، رضا مبتلا به آسم شده است.
- (۲) پزشک معالج احسان می‌گوید او به دلیل ناکامی در امر ازدواج مبتلا به فشار خون شده است.
- (۳) زهرا مبتلا به مشکلات گوارشی شده است، زیرا تعارض شدیدی را در انتخاب رشته تجربه نموده است.
- (۴) آرزو احساس می‌کند علت پرخاشگری‌های مکررش، ناراحتی قلبی او است.

۲۷۶- به ترتیب در کدام گزینه، هیجانی که با توجه به نوع ارزیابی، ظهور متفاوتی می‌یابد و هیجانی که غالباً به یک صورت پدیدار می‌شود، ذکر شده است؟

- (۱) پشیمانی - ترحم
- (۲) پشیمانی - ترس
- (۳) ترس - خشم
- (۴) ترس - ترحم

۲۷۷- بازیابی اطلاعات از حافظه در کدام گزینه کارآمدتر است و دلیل آن چیست؟

- (۱) دست، دریا - چون نشانه بیرونی به کار رفته است.
- (۲) اسفناج، بورانی - چون نشانه بیرونی به کار رفته است.
- (۳) پنجره، صحرا - چون نشانه درونی به کار رفته است.
- (۴) روز، خورشید - چون نشانه درونی به کار رفته است.



۲۷۸- کدام عبارت زیر در رابطه با ویژگی‌های «روش علمی» صحیح است؟

(۱) یافته‌های به دست آمده از روش علمی، خصوصی و شخصی است.

(۲) روش علمی می‌تواند به تمامی پرسش‌های بشر امروز پاسخ دهد.

(۳) هر فردی در صورت رعایت ضوابط علمی، می‌تواند یافته‌های دیگران را تکرار کند.

(۴) تعریف عملیاتی اضطراب عبارت است از «دلشوره و نگرانی‌ای که در موقعیت تنش‌زا احساس می‌کنیم».

۲۷۹- فردی که برنامه رژیم لاغری خود را برای تناسب اندام به روز دیگری موکول می‌کند، اما در نهایت رژیم را برای همیشه رها می‌کند و به پرخوری و

عدم تحرک می‌پردازد، به ترتیب از چه سبک تصمیم‌گیری و کدام روش مقابله‌ای استفاده کرده است؟

(۲) اجتنابی - منفعل بودن

(۱) احساسی - در انتظار معجزه بودن

(۴) اجتنابی - در انتظار معجزه بودن

(۳) احساسی - منفعل بودن

۲۸۰- در کدام گزینه، توجه متمرکز ایجاد نمی‌شود؟

(۱) رسم تابلوی نقاشی و نگاه کردن به الگوی مورد نظر

(۲) مطالعه کتاب «تاریخ» و مشاهده تصاویر مربوط به جنگ‌های ایرانیان

(۳) شنیدن سخنرانی و صحبت کردن با دوست خود

(۴) رانندگی کردن و گوش دادن به صدای گوینده مسیریاب