



نام و نام خانوادگی:	شماره داوطلبی:
تعداد سؤال: ۱۴۰	مدت پاسخ‌گویی: ۱۶۵ دقیقه

صبح جمعه
۹۷/۹/۱۶

نام درس	تعداد سؤال	شماره‌ی سؤال	شماره‌ی صفحه	زمان پاسخ‌گویی
فارسی و نگارش (۱)	۱۰	۱-۱۰	۳	۱۰ دقیقه
عربی زبان قرآن (۱)	۱۰	۱۱-۲۰	۴	۱۵ دقیقه
دین و زندگی (۱)	۱۰	۲۱-۳۰	۵	۱۰ دقیقه
زبان انگلیسی (۱)	۱۰	۳۱-۴۰	۶	۱۰ دقیقه
ریاضی و آمار (۱)	۱۰	۴۱-۵۰	۷	۲۵ دقیقه
ریاضی و آمار (۱) (شاهد گواه)	۱۰	۵۱-۶۰	۸	
اقتصاد	۱۰	۶۱-۷۰	۹-۱۰	۲۵ دقیقه
اقتصاد (شاهد گواه)	۱۰	۷۱-۸۰	۱۱-۱۲	
علوم و فنون ادبی (۱)	۱۰	۸۱-۹۰	۱۳	۱۵ دقیقه
تاریخ (۱) ایران و جهان پاستان	۲۰	۹۱-۱۱۰	۱۴-۱۷	۲۰ دقیقه
جغرافیای ایران	۱۰	۱۱۱-۱۲۰	۱۸-۱۹	۱۰ دقیقه
جامعه‌شناسی (۱)	۱۰	۱۲۱-۱۳۰	۲۰-۲۱	۱۰ دقیقه
منطق	۱۰	۱۳۱-۱۴۰	۲۲	۱۵ دقیقه
سؤال‌های نظرخواهی	۱۱	۲۸۸-۲۹۸	۲۳	-

طراحان:

نام درس	نام طراحان
فارسی و نگارش (۱)	افسانه احمدی، حمید اصفهانی، سپهر حسن‌خان‌پور، آکیتا محمدزاده
عربی زبان قرآن (۱)	علی‌اکبر ایمان‌پرور، درویشعلی ابراهیمی، مریم آقایی، رضا معصومی، مجید همایی
دین و زندگی (۱)	محمد آقاصالح، محمد رضایی‌بغا، محمدعلی عبادتی
زبان انگلیسی (۱)	شهاب اناری، میرحسین زاهدی، عبدالرشید شفیعی، علی شکوهی، رضا کیاسالار، جواد مؤمنی
ریاضی و آمار (۱)	محمد بحیرایی، هادی پلاور، فرداد روشنی، حمید زرین‌کفش، امیر زراندوز، مهدی ملازمانی، شاهد گواه
اقتصاد	سارا شریفی، علیرضا رضایی، مهدی کردان، الهام مقادریان، الهام میرزائی، شاهد گواه
علوم و فنون ادبی (۱)	محسن اصفری، میترا پاکزاد، شبنم رضائی، سعید جعفری، مهناز شریفی، مجتبی مهنائی، عارفه‌سادات طباطبائی‌نژاد
تاریخ (۱) ایران و جهان پاستان	منصوره حاجی‌زاده، سکینه‌سادات سعیدیان، مانده‌سادات شاهمرادی، مهدی کردان، الهام میرزائی، بهروز یحیی
جغرافیای ایران	منصوره حاجی‌زاده، محمدابراهیم علی‌نژاد، مهدی کردان، الهام میرزائی، بهروز یحیی
جامعه‌شناسی (۱)	صدیقه احمدپور، هژبر رحیمی، محمدابراهیم علی‌نژاد، حامد مغربی‌سینکی، الهام میرزائی
منطق	فرحناز خان‌محمدی، هژبر رحیمی، عاطفه‌ربابه صالحی، فاطمه شهپیری

گزینشگران و ویراستاران:

نام درس	گزینشگر	مسئول درس	ویراستار استاد	ویراستار دانشجو
فارسی و نگارش (۱)	حمید اصفهانی	حمید اصفهانی	سپهر حسن‌خان‌پور	---
عربی زبان قرآن (۱)	مریم آقایی	مریم آقایی	درویشعلی ابراهیمی، حسام حاج‌مؤمن	
دین و زندگی (۱)	محمد رضایی‌بغا	محمد آقاصالح	سکینه گلشنی	
زبان انگلیسی (۱)	جواد مؤمنی	جواد مؤمنی	عبدالرشید شفیعی	
ریاضی و آمار (۱)	حمید زرین‌کفش	حمید زرین‌کفش	محمد بحیرایی، سهیل حسن‌خان‌پور	
اقتصاد	الهام مقادریان	الهام مقادریان	سارا شریفی، الهام میرزائی	علیرضا رضایی
علوم و فنون ادبی (۱)	اعظم نوری‌نیا	اعظم نوری‌نیا	مرتضی منشاری - الهام محمدی	مجتبی مهنائی
تاریخ (۱) ایران و جهان پاستان	مانده‌سادات شاهمرادی	مانده‌سادات شاهمرادی	حبیبه محبی	معصومه حسینی صفا
جغرافیای ایران	معصومه حسینی صفا	معصومه حسینی صفا		مانده‌سادات شاهمرادی
جامعه‌شناسی (۱)	علیرضا رضایی	علیرضا رضایی	هژبر رحیمی	---
منطق	دینز پایداری	دینز پایداری	عاطفه‌ربابه صالحی، فرحناز خان‌محمدی	هژبر رحیمی، کوثر دستورانی

گروه فنی و تولید

مدیر گروه: لیلا فیروزی (اختصاصی)

سیدمحمدعلی مرتضوی (عمومی)

مسئول دفترچه: حبیبه محبی (اختصاصی)

معصومه شاعری (عمومی)

حروف‌نگاری و صفحه‌آرایی: مهشید ابوالحسنی

مدیر واحد مستندسازی و مطابقت یا مصوبات: مریم صالحی

مسئول دفترچه‌ی مستندسازی: فریبا رتوفی

نگارنده چاپ: سوران نعیمی



وقت پیشنهادی فارسی و نگارش (۱)

۱۰ دقیقه

فارسی (۱)

ستایش، ادبیات تعلیمی، ادبیات سفر و زندگی،
ادبیات غنایی (مهر و وفا)
صفحه‌های ۵۴ تا ۵۶

نگارش (۱)

ستایش، پرورش موضوع، عینک نوشتن
صفحه‌های ۳۹ تا ۳۹

مضارع التزامی
مضارع اخباری
ماضی استمراری
ماضی التزامی

(۴) مفعول - مضاف‌الیه

(۴) چهار تا

(۲) ایهام، کنایه، مراعات‌نظیر، تشبیه
(۴) مبالغه، جناس، مراعات‌نظیر، تشبیه

۱- ابیات زیر را کدام واژه کامل می‌کند؟

«در ... عشق جز نکو را نکشند / روبه‌صفتان زشت‌خو را نکشند
گر عاشق صادقی ز کشتن مگریز / مردار بود هر آن که او را نکشند»

- (۱) عیال
(۲) مسلخ
(۳) رعنا
(۴) کرای

۲- کدام بیت نادرستی املایی دارد؟

- (۱) جواب تلخ چه داری بگویی و باک مدار / که شهد محض بود چون تو بر دهان آری
(۲) و گر به خنده درآیی چه جای مرهم ریش / که ممکن است که در جسم مرده جان آری
(۳) یکی لطیفه ز من بشنو ای که در آفاق / سفر کنی و لطایف ز بحر و کان آری
(۴) گرت بدایع سعدی نباشد اندر بار / به پیش اهل و غرابت چه ارمان آری؟

۳- جنبه‌ی ادبیات غنایی کدام بیت کمتر است؟

- (۱) مجال خواب نمی‌باشدم ز دست خیال / در سرای نشاید بر آشنایان بست
(۲) نمی‌توانم بی او نشست یک ساعت / چرا که از سر جان بر نمی‌توانم خاست
(۳) پنجه‌ی دیو به بازوی ریاضت بشکن / کاین به سرپنجگی ظاهر جسمانی نیست
(۴) پندم مده ای دوست که دیوانه‌ی سرمست / هرگز به سخن عاقل و هشیار نباشد

۴- در کدام گزینه هر دو نوع «عطفی» و «ربطی» از «واو» وجود دارد؟

- (۱) دردا که یار در غم و دردم بماند و رفت / ما را چو دود بر سر آتش نشانند و رفت
(۲) مخمور باده‌ی طرب‌انگیز شوق را / جامی نداد و زهر جدایی چشانند و رفت
(۳) چون صید او شدم من مجروح خسته را / در بحر خون فکند و جنیبت براند و رفت
(۴) گل در حجاب بود که مرغ سحرگهی / آمد به باغ و آن همه فریاد خواند و رفت

۵- کدام نوع فعل به اشتباه به بیت نسبت داده شده است؟

- (۱) بر سر آنم که گر ز دست برآید / دست به کاری زخم که غصه‌ی سرآید
(۲) گل به همه رنگ و برازندگی / می‌کند از پرتو من زندگی
(۳) دوش مرغی به صبح می‌نالد / عقل و صبرم ببرد و طاقت و هوش
(۴) تا نگریدی آشنا زین پرده رمزی نشنوی / گوش نامحرم نباشد جای پیغام سروش

۶- نقش دستوری آن دو ضمیری که در ابیات زیر جهش یافته‌اند به ترتیب کدام است؟

الف) به قدم رفتم و ناچار به سر بازآیم / گر به دامن نرسد چنگ قضا و قدرم
ب) ز جان نازک‌تری ای سرو آزاد / به تنها می‌روی جانت فدا باد

- (۱) مضاف‌الیه - مضاف‌الیه
(۲) مفعول - متمم
(۳) مضاف‌الیه - متمم
(۴) مفعول - مضاف‌الیه

۷- «تا» در ابتدای چند تا از ابیات زیر، حرف اضافه است و متمم ساخته است؟

- الف) تا چرخ دو تا گردد بر بنده و آزاد / این چرخ دو تا باد تو را بنده یکتا
ب) تا سبزه گردد شوره‌ها تا روضه گردد گورها / انگور گردد غوره‌ها تا پخته گردد نان ما
ج) تا چند کنم توبه و تا کی شکنم / ای توبه‌ده و توبه‌شکن، دستم گیر
د) تا غمی پنهان نباشد رقتی پیدا نگرود / هم گلی دیده‌است سعدی تا چو بلبل می‌خروشد
ه) تا نبری ظن که به بازیچه بود / دیده‌ی شب تا به سحر باز من
و) تا نفس باقیست با آرایش افتاده است کار / دیده تا دل زحمت رخت نمازی می‌کشد

- (۱) یکی
(۲) دو تا
(۳) سه تا
(۴) چهار تا

۸- کدام آرایه‌ها در بیت زیر هست؟

«تا به کام غیر دیدم لعل یار / چون گهر دندان به دندان می‌زنم»

- (۱) تلمیح، شخصیت‌بخشی، مبالغه، جناس
(۲) ایهام، کنایه، تشبیه
(۳) ایهام، کنایه، تلمیح، شخصیت‌بخشی
(۴) مبالغه، جناس، مراعات‌نظیر، تشبیه

۹- کدام بیت با بیت زیر ارتباط تصویری دارد؟

«صبا بر آن سر زلف از دل مرا بینی / ز روی لطف بگویی که جا ننگه دارد»

- (۱) ای طلعت تو خنده به خورشید و ماه کن / زلف تو روز روشن مردم سیاه کن
(۲) خال تو آتشی است دل آفتاب سوز / خط تو سایه‌ای است سیاه روی ماه کن
(۳) از شانه آشیان دل ما به هم مریز / ای شانه‌ی تو خرمن سنبل تباه کن
(۴) پیر خرد که مسئله‌آموز حکمت است / در نکته‌ی دهان تو شد اشتباه کن

۱۰- کدام بیت با مفهوم ابیات زیر ارتباط ندارد؟

«جبرئیل صدق را فرمود رو / مشت خاکی از زمین بستان گرو

او میان بست و بیامد تا زمین / تا گزارد امر رب‌العالمین»

- (۱) گر کف خاکی شود چالاک او / پیش خاکش سر نهد افلاک او
(۲) گر تن خاکی غلیظ و تیره است / صیقلش کن زانک صیقل‌گیره است
(۳) به می‌عمارت دل کن که این جهان خراب / بر آن سر است که از خاک ما بسازد خشت
(۴) آدم از خاک است کی ماند به خاک؟ / هیچ انگوری نمی‌ماند به تاک

عربی زبان قرآن (۱)

ذاک هو الله التعارف، صیغ الأفعال،
تمارین، الأعداد من واحد إلى مئة، في
مطار التجف الأشراف، تمارین، مطر
السمك، الفعل الثلاثي المجرد والمزید
صفحة‌ی (۲۸۵)
وقت پیشنهادی: ۵۰ دقیقه

۱۱- عین الصَّحیح فی ترجمة العبارة التَّالِیة:

«اقترح زمیلی بأن نخرج من المدينة و نساغر إلى قرية هادئة.»

- (۱) همکارم پیشنهاد کرد که از شهرمان خارج شویم و به روستایی آرامش بخش مسافرت کنیم.
- (۲) همشاگردیمان پیشنهاد کرد که برای مسافرت به روستایی آرام، از شهر خارج شویم.
- (۳) پیشنهاد همکارم این بود که از شهر خارج شده و به یک روستایی آرام بخش سفر کنیم.
- (۴) همشاگردی‌ام پیشنهاد داد که از شهر خارج شویم و به یک روستای آرام سفر کنیم.

۱۲- عین الخطأ فی التَّرجمة:

- (۱) قال الشرطي لنا: «تحفظوا من حقائقكم في الأماكن المزدحمة.»: پلیس به ما گفت: در جاهای شلوغ مواظب کیف‌هایتان باشید.
- (۲) يأمرنا الله تعالى في القرآن أن لاقتل أنفسنا: خداوند متعال در قرآن به ما دستور می‌دهد که خودکشی نکنیم.
- (۳) المرافق العامة هي الأماكن التي تمتلكها الدولة: تأسیسات عمومی همان مکان‌هایی هستند که دولت مالک آن‌هاست.
- (۴) يقوم ولدي الأكبر بتوزيع النقود بين الضيوف: فرزند بزرگم به توزیع پول‌ها میان مهمانان می‌پردازد.

۱۳- عین الخطأ فی التَّرجمة:

- (۱) يمتلك ذلك الفلاح تسعة و عشرين أرضاً في القرية: آن کشاورز بیست و نه زمین را در روستا مالک است.
- (۲) حير الناس نزول الثلج في فصل الربيع: مردم از بارش برف در فصل بهار متحیر شدند.
- (۳) هذه البقاع مفرشة بالأحجار فلا تذهبوا عليها: این قطعه زمین‌ها پوشیده از سنگ‌هاست، پس روی آن‌ها نروید.
- (۴) سيخرجُ الطلاب من هذه الجامعة بعد ستة شهور: دانشجویان از این دانشگاه شش ماه بعد فارغ‌التحصیل خواهند شد.

۱۴- عین الأقرب من مفهوم هذه العبارة: «إرحم من في الأرض يرحمك من في السماء!»

- (۱) ﴿أو عملوا صالحاً إني بما تعملون عليم﴾
- (۲) تو نیکی می‌کنی و در دجله انداز / که ایزد در بیابانت دهد باز
- (۳) من زرع العذوان حصد الخسران.
- (۴) درخت دوستی بنشان که کام دل به بار آرد / نهال دشمنی برکن که رنج بی‌شمار آرد

۱۵- عین الجواب الّذي كلماته قريبة في المعنى:

- (۱) صاحبة، ذات، ذاك
- (۲) غارة، هروب، حرب
- (۳) دليل، هادی، هُدوء
- (۴) هاتف، جوال، حافلة

۱۶- عین الصَّحیح فی الترادف أو التضاد:

- (۱) زرع = حصد / من ≠ الذي
- (۲) آخر = نهاية / لبت ≠ بقي
- (۳) يعيش ≠ يموت / سنون = أعوام
- (۴) إرسال = إستلام / أصبح = صار

۱۷- مین الخطأ عن الكلمات المعینة:

- (۱) أصواتكم مُرتفعة: جمع سالم للمؤنث
- (۲) رأيتُ الطَّلبة في الصَّف: جمع مكسّر و مذکر
- (۳) هذه السَّاعاتُ قِيمةٌ لنا: جمع سالم للمؤنث
- (۴) العَمَلُ بالقوانين واجبٌ على الجميع: جمع مكسّر و مذکر

۱۸- عین الصَّحیح للفراغ من الأعداد الأصليّة أو الترتیبیّة: «شاهد... تلاميذ يطالعون في الغرفة...!»

- (۱) سَبْع - العاشر
- (۲) سابع - العاشر
- (۳) سابع - عَشرة
- (۴) سَبْعَة - العاشرة

۱۹- عین الصَّحیح للفراغ ممّا بين القوسين:

- (۱) يا أختي، أنا لا أكذبُ. لماذا لا ... كلامي؟ (تصدّقين)
- (۲) تيارُ الكهرباء في ... حُجراتٍ مَقطوعٍ. (الرابع)
- (۳) هذانِ المعلمانِ ... للطُّلابِ قراءة المقالاتِ. (تَسْمَحانِ)
- (۴) ... للحياة دائماً يا أيُّها المؤمنون! (إِنْسِيم)

۲۰- عین الخطأ فی السَّؤال و الجواب:

- (۱) كم مرة جئت إلى إيران؟ جئتُ إلى إيران للمرة الثانية.
- (۲) من هو المواطن؟ هو الذي يعيش معنا في وطن واحد.
- (۳) إلى أين تسافرُ غداً؟ أسافرُ إلى محافظة مازندران.
- (۴) ما هو الإعصار؟ الإعصارُ مطرٌ شديدٌ يُنزلُ من السماء.

نکته‌ای که در پاسخ‌گویی به جای خالی‌های عدد به شما کمک می‌کند، توجه به این مسأله است که در جای خالی به عدد اصلی نیاز داریم یا عدد ترتیبی.



دین و زندگی (۱)

تفکر و اندیشه

هدف زندگی، پر پرور، خود حقیقی،
پنجه‌ای به روشنایی، آینده روشن
صفحه‌های ۵۸۳۴

وعدت پشمارک: ۱۰ رصیقه

۲۱- انسانی که زندگی خود را برای خدا قرار داده است و هدف شخصی که مصرع «چون که صد آید نود هم

پیش ماست» را سرلوحه زندگی خود می‌داند، به ترتیب در کدام عبارات‌های قرآنی توصیف شده‌اند؟

(۱) «فلا خوفٌ علیهم و لا هم یَحْزَنُونَ» - «فَعِنْدَ اللَّهِ ثَوَابُ الدُّنْيَا وَ الْآخِرَةِ»

(۲) «فلا خوفٌ علیهم و لا هم یَحْزَنُونَ» - «فَأَلْهَمَهَا فُجُورَهَا وَ تَقْوَاهَا»

(۳) «مَحْيَايَ وَ مَمَاتِي لِلَّهِ» - «فَعِنْدَ اللَّهِ ثَوَابُ الدُّنْيَا وَ الْآخِرَةِ»

(۴) «مَحْيَايَ وَ مَمَاتِي لِلَّهِ» - «فَأَلْهَمَهَا فُجُورَهَا وَ تَقْوَاهَا»

۲۲- هر یک از عملکردهای «تشخیص راه درست از غلط»، «بیزاری از حقارت نفس» و «نشان دادن راه

سعادت» مروه وجود کدام سرمایه‌ها برای انسان است؟

(۱) اختیار - وجدان اخلاقی - عقل

(۲) اختیار - شناخت نیکی و بدی - عقل

(۳) عقل - وجدان اخلاقی - راهنمایان الهی

(۴) عقل - شناخت نیکی و بدی - راهنمایان الهی

۲۳- کدام یک به ترتیب از دلایل وجود بُعد روحانی و از ویژگی‌های بُعد جسمانی است؟

(۱) ثابت بودن خود - تلاشی‌پذیری و محدود بودن به زمان

(۲) تحلیل‌پذیر بودن جسم - تلاشی‌پذیری و محدود بودن به زمان

(۳) ثابت بودن خود - عدم ثبات هویت و عدم تحلیل‌پذیری پس از مرگ

(۴) تحلیل‌پذیر بودن جسم - عدم ثبات هویت و عدم تحلیل‌پذیری پس از مرگ

۲۴- مقرب درگاه الهی و مسجود فرشتگان شدن، معلول چیست و قرآن کریم نمونه‌هایی از رویاهای صادقه را در ماجرای کدام پیامبر ذکر

نموده است؟

(۱) آراستگی بعد روحانی به فضائل اخلاقی - حضرت موسی (ع)

(۲) تن ندادن بعد جسمانی به رذیلت‌های اخلاقی - حضرت موسی (ع)

(۳) آراستگی بعد روحانی به فضائل اخلاقی - حضرت یوسف (ع)

(۴) تن ندادن بعد جسمانی به رذیلت‌های اخلاقی - حضرت یوسف (ع)

۲۵- «آسان شدن فداکاری در راه خدا» بازتاب کدام یک از آثار اعتقاد به معاد در انسان می‌باشد و کدام عبارت مؤید آن است؟

(۱) نترسیدن از مرگ - «من مرگ را جز سعادت، و زندگی با ظالمان را جز ننگ و خواری نمی‌بینم.»

(۲) نترسیدن از مرگ - «من آمن بالله و الیوم الآخر و عمل صالحاً ...»

(۳) باز شدن پنجره امید و روشنایی به روی انسان - «من آمن بالله و الیوم الآخر و عمل صالحاً ...»

(۴) باز شدن پنجره امید و روشنایی به روی انسان - «من مرگ را جز سعادت، و زندگی با ظالمان را جز ننگ و خواری نمی‌بینم.»

۲۶- از دیدگاه پیامبر اسلام (ص)، بیداری مردم در چه صورت به وقوع خواهد پیوست و باهوش‌ترین مؤمنان چه کسانی هستند؟

(۱) مرگ آن‌ها فرا برسد - قبل از مرگ، از نفس خود حساب می‌کنند.

(۲) بسیار از مرگ یاد کنند - قبل از مرگ، از نفس خود حساب می‌کنند.

(۳) بسیار از مرگ یاد کنند - بهتر از دیگران خود را برای مرگ آماده می‌کنند.

(۴) مرگ آن‌ها فرا برسد - بهتر از دیگران خود را برای مرگ آماده می‌کنند.

۲۷- «فرستادن بادها برای برانگیختن ابرها از جانب خداوند»، «قرار ندادن متقین مانند بدکاران» و «ماجرای عزیر نبی» به ترتیب به کدام یک

از دلایل در مورد معاد اشاره دارند؟

(۱) ضرورت معاد - ضرورت معاد - امکان معاد

(۲) امکان معاد - ضرورت معاد - امکان معاد

(۳) امکان معاد - ضرورت معاد - ضرورت معاد

(۴) امکان معاد - امکان معاد - امکان معاد

۲۸- بر اساس این وعده الهی که: «هرکس به آنچه استحقاق دارد خواهد رسید» وقوع معاد، لازمه چیست و کدام عبارت قرآنی به آن اشاره دارد؟

(۱) عدل الهی - «أَمْ نَجْعَلُ الَّذِينَ آمَنُوا وَ عَمِلُوا الصَّالِحَاتِ كَالْمُفْسِدِينَ فِي الْأَرْضِ»

(۲) حکمت الهی - «أَمْ نَجْعَلُ الَّذِينَ آمَنُوا وَ عَمِلُوا الصَّالِحَاتِ كَالْمُفْسِدِينَ فِي الْأَرْضِ»

(۳) عدل الهی - «لِيَجْمَعَنَّكُمْ إِلَى يَوْمِ الْقِيَامَةِ لَا رَيْبَ فِيهِ»

(۴) حکمت الهی - «لِيَجْمَعَنَّكُمْ إِلَى يَوْمِ الْقِيَامَةِ لَا رَيْبَ فِيهِ»

۲۹- در قرآن کریم، راست‌گوترین بودن خداوند در تأیید و ادامه کدام موضوع آمده است و آنچه در مورد اهمیت معاد در متون دینی آمده

است، کدام است؟

(۱) جمع کردن انسان‌ها در روز قیامت - همه پیامبران آن را لازمه ایمان به خدا دانسته‌اند.

(۲) جمع کردن انسان‌ها در روز قیامت - در قرآن کریم درباره هیچ موضوعی به اندازه آن سخن گفته نشده است.

(۳) حکیمانه بودن آفرینش انسان و بیهوده نبودن آن - همه پیامبران آن را لازمه ایمان به خدا دانسته‌اند.

(۴) حکیمانه بودن آفرینش انسان و بیهوده نبودن آن - در قرآن کریم درباره هیچ موضوعی به اندازه آن سخن گفته نشده است.

۳۰- عبارت «هنگامی که ما مردیم و استخوان شدیم، آیا برانگیخته خواهیم شد؟!» گفته چه کسانی است و از دیدگاه قرآن کریم، علت انکار

معاد توسط انسان چیست؟

(۱) اصرار کنندگان بر گناهان بزرگ - انسان از حقیقت پس از مرگ آگاه نیست و متجاوز و گناهکار است.

(۲) اصرار کنندگان بر گناهان بزرگ - انسان می‌خواهد بدون ترس از دادگاه قیامت، در تمام عمر گناه کند.

(۳) تکذیب کنندگان - انسان می‌خواهد بدون ترس از دادگاه قیامت در تمام عمر گناه کند.

(۴) تکذیب کنندگان - انسان از حقیقت پس از مرگ آگاه نیست و متجاوز و گناهکار است.



ریاضی و آمار (۱)

دوره‌ی کل مباحث گذشته،
معادله‌های شامل عبارت‌های گویا
کل فصل (۱) و (۲)
صفحه‌ی ۵۴ تا ۵۵
وحدت پیشنهادی: ۲۵ دقیقه

۴۱- حاصل عبارت $(4x+y)(16x^2-4xy+y^2)-64x^3$ به‌ازای $x=5$ و $y=-3$ کدام است؟

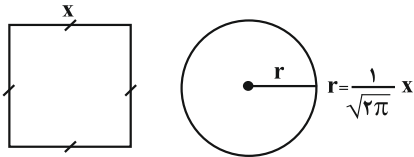
- (۱) ۹۸
(۲) -27
(۳) -98
(۴) 27

۴۲- حاصل عبارت $\frac{x^2+6x+9}{x^2-9} \times \frac{x^2+x-12}{x+3}$ کدام است؟

- (۱) $x+4$
(۲) $x-4$
(۳) $\frac{x+4}{x-3}$
(۴) $\frac{x+4}{x+3}$

۴۳- اگر مجموع مساحت‌های دو شکل زیر برابر ۶ باشد، محیط مربع کدام است؟

- (۱) ۲
(۲) ۴
(۳) ۸
(۴) ۱۲



۴۴- در یک کارخانه، حقوق یک مهندس، ۴ برابر یک تکنسین و $\frac{1}{3}$ حقوق مدیر بخش خود است. قسمت تولید این کارخانه، ۳ مدیر

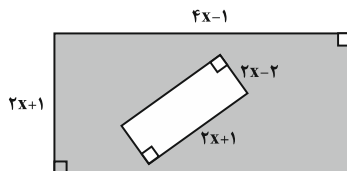
بخش، ۶ مهندس و ۱۲ تکنسین دارد. مدیر عامل این کارخانه برای هر ماه مبلغ ۲۰۰ میلیون تومان به منظور پرداخت حقوق در نظر می‌گیرد. حقوق یک مهندس در ماه تقریباً چقدر است؟

- (۱) $11/3$ میلیون تومان
(۲) $12/3$ میلیون تومان
(۳) $13/3$ میلیون تومان
(۴) $14/3$ میلیون تومان

۴۵- یک کارگاه نجاری در یک هفته از روز شنبه، هر روز تولید خود را نصف کرده است، این کارگاه در روز دوشنبه تولیدش ۳۰۰ صندلی از روز شنبه کمتر بوده است، مجموع تولید این کارگاه از روز شنبه تا چهارشنبه چه تعداد صندلی بوده است؟

- (۱) ۴۰۰
(۲) ۶۵۰
(۳) ۷۷۵
(۴) ۸۵۰

۴۶- اگر مساحت قسمت رنگی شکل زیر ۴۹ واحد مربع باشد، مقدار x چند واحد است؟ (هر دو شکل مستطیل هستند.)



- (۱) ۳
(۲) ۴
(۳) ۲
(۴) ۵

۴۷- کدام معادله زیر، ریشه حقیقی ندارد؟

- (۱) $x^2 - 3x + 1 = 0$
(۲) $25x^2 + 20x + 4 = 0$
(۳) $\frac{1}{3}x^2 + 2x - \frac{5}{2} = 0$
(۴) $-3x^2 + 4x - 3 = 0$

۴۸- در معادله درجه دوم $x^2 - (k-6)x - \frac{6}{5}k = 0$ مجموع ریشه‌ها برابر ۴ است. ریشه بزرگتر چند برابر ریشه کوچکتر است؟

- (۱) ۳
(۲) -3
(۳) ۲
(۴) -2

۴۹- به‌ازای چه مقدار a ، معادله $\frac{x-a}{x-4} + \frac{8}{x^2} = -6$ دارای جواب $x=2$ است؟

- (۱) ۲۲
(۲) -20
(۳) ۱۸
(۴) -14

۵۰- جواب معادله $\frac{x-3}{x-1} = \frac{2}{x-1} + \frac{1}{8}$ کدام است؟

- (۱) $\frac{39}{7}$
(۲) $\frac{7}{39}$
(۳) $\frac{41}{9}$
(۴) $-\frac{41}{9}$

پاسخ دادن به این سوالات اجباری است و در تراز کل شما تأثیر دارد.

آزمون شاهد (گواه)

۵۱- در تجزیه عبارت $a(a-3)(a-4) - 12a + 36$ کدام عامل وجود ندارد؟

- (۱) $a-6$ (۲) $a-3$ (۳) $a-2$ (۴) $a+2$

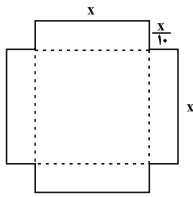
۵۲- خلاصه شده عبارت $(x-2 - \frac{x^2+1}{x}) \div \frac{4x^2+4x+1}{2x^2+x}$ کدام است؟

- (۱) $\frac{1}{x-1}$ (۲) $-\frac{1}{x+1}$ (۳) ۱ (۴) -۱

۵۳- ۱۶ سال دیگر سن علی از سه برابر سن کنونی اش ۶ سال کمتر است، چند سال دیگر علی ۲۰ ساله می شود؟

- (۱) ۱۱ (۲) ۹ (۳) ۱۲ (۴) ۸

۵۴- با استفاده از ورقه‌ای که به شکل زیر بریده شده است، حجمی مکعب مستطیل شکل می‌سازیم. اگر عدد مساحت ورقه برابر عدد حجم



مکعب مستطیل ساخته شده باشد، در این صورت مقدار x کدام است؟ (مکعب مستطیل سقف ندارد.)

- (۱) ۸ (۲) ۱۰ (۳) ۱۲ (۴) ۱۴

۵۵- در فلکی ۱۰۰ سکه ۵۰ و ۱۰۰ تومانی داریم. اگر تعداد سکه‌های ۱۰۰ تومانی ۳ برابر تعداد سکه‌های ۵۰ تومانی باشد، در مجموع چند

تومان پول در فلک وجود دارد؟

- (۱) ۸۷۵۰ (۲) ۶۲۵۰ (۳) ۸۲۵۰ (۴) ۶۷۵۰

۵۶- در کدام معادله، مجموعه جواب‌ها به صورت $\{-1, \frac{1}{p}\}$ است؟

- (۱) $2x^2 - 3x + 1 = 0$ (۲) $x^2 - x - 2 = 0$ (۳) $2x^2 + x - 1 = 0$ (۴) $2x^2 - x - 1 = 0$

۵۷- به ازای کدام مقادیر a ، معادله درجه دوم $3x^2 + ax - 3 = 0$ دو جواب حقیقی و متمایز دارد؟

- (۱) هر مقدار a (۲) هیچ مقدار a (۳) فقط $a = \pm 6$ (۴) فقط $a > 6$

۵۸- یکی از ریشه‌های معادله $x^2 - 6ax + 8a = 0$ نصف ریشه دیگر است. a کدام است؟

- (۱) -۱ (۲) ۱ (۳) ۲ (۴) ۳

۵۹- در معادله $\frac{2x-4}{x+1} = \frac{x+1}{2x-4}$ ، مجموع ریشه‌ها کدام است؟

- (۱) ۳ (۲) ۴ (۳) ۵ (۴) ۶

۶۰- گلدانی از جنس نقره و مس داریم که نسبت وزن نقره خالص به وزن مس خالص آن برابر ۸ است. استاد قلمکار آن را ذوب و ۲۰۰ گرم

مس به آن اضافه کرد و گلدان جدیدی ساخت. می‌دانیم $\frac{3}{4}$ وزن گلدان جدید نقره است. وزن نقره به کار رفته در گلدان جدید چند گرم

است؟

- (۱) ۱۰۶۰ (۲) ۹۶۰ (۳) ۱۰۸۰ (۴) ۹۸۰



اقتصاد

دوره‌ی کل مباحث گذشته

پول

کل بخش (۱) و بخش (۲) فصل (۱)

صفحه‌ی ۸ تا ۶

وقت پیشنهادی: ۲۵ دقیقه

۶۱- مفاهیم نادرست به ترتیب در کدام گزینه آمده است؟

- الف) گاه به دلایل طبیعی، اقتصادی، قانونی و یا حتی غیر قانونی، تعداد فروشنده یا خریدار به یک یا چند نفر محدود می‌شود. این وضعیت را «انحصار» می‌گوییم.
ب) فروشندگان آثار هنری در نمایشگاه‌ها و خریداران عمده کالا و خدمات، مزایده و حراجی‌ها مناقصه برگزار می‌کنند.

ج) بازار محصولاتی چون ماکارونی معمولاً انحصاری است.

د) انحصارگر غیرقانونی معمولاً با افزایش قیمت خود به مشتریان و رفاه جامعه ضرر می‌زند.

- ۱) ب، ج ۲) الف، ب ۳) ج، د ۴) د، الف

۶۲- موارد کدام گزینه به ترتیب تکمیل کننده عبارت‌های زیر است؟

الف) منحنی ... نشان‌دهنده چگونگی رفتار اقتصادی تولیدکنندگان است.

ب) تصمیم تولیدکنندگان در مورد میزان تولید کالا از عواملی چون ... تأثیر می‌پذیرد.

ج) نزولی بودن منحنی تقاضا به این معنا است که ...

۱) الف) تقاضا ب) سطح قیمت آن کالا، هزینه‌های تولید و پیش‌بینی تولیدکنندگان در مورد رونق یا رکود بازار ج) با افزایش قیمت یک کالا، میزان تقاضا افزایش می‌یابد.

۲) الف) عرضه ب) سطح قیمت آن کالا، هزینه‌های تولید و پیش‌بینی تولیدکنندگان در مورد رونق یا رکود بازار ج) با افزایش قیمت یک کالا، میزان تقاضا کاهش می‌یابد.

۳) الف) تقاضا ب) قیمت کالا، درآمد، سلیقه خودشان، تبلیغات ج) با کاهش قیمت یک کالا، میزان تقاضا افزایش می‌یابد.

۴) الف) عرضه ب) قیمت کالا، درآمد، سلیقه خودشان، تبلیغات ج) با کاهش قیمت یک کالا، میزان تقاضا کاهش می‌یابد.

۶۳- هر یک از عبارات زیر به ترتیب به کدام نوع از کالاها یا خدمات اشاره دارد؟

- ماشین‌آلاتی که در کارخانه‌ها مورد استفاده قرار می‌گیرد.

- آنچه انسان در مقابل پول خریداری می‌کند و به وسیله آن نیازها یا خواسته‌هایش را برطرف می‌سازد و غیرملموس و غیرفیزیکی است.

- کالایی که با کوچک‌ترین تغییر در قیمت، مصرف آن توسط افراد تغییر می‌کند.

- آردی که توسط یک کارگاه شیرینی‌پزی از تولیدکننده آرد خریداری می‌شود.

۱) کالای بادوام - کالا - کالای ضروری - کالای مصرفی ۲) کالای سرمایه‌ای - خدمات - کالای ضروری - کالای واسطه‌ای

۳) کالای بادوام - خدمات - کالای تجملی - کالای مصرفی ۴) کالای سرمایه‌ای - خدمات - کالای تجملی - کالای واسطه‌ای

۶۴- کدام یک از فعالیت‌های زیر در حسابداری ملی مورد محاسبه و سنجش قرار نمی‌گیرد؟

الف) فعالیت تولیدی زنان در مزرعه‌ها

ب) تعمیر جاروبرقی منزل توسط تعمیرکار

پ) فعالیت زنان خانه‌دار در خانه

ت) فروش سی‌دی‌های غیرمجاز در چهارراه‌ها توسط دست‌فروشان

ث) تولید قطعات ماشین در کارخانه

- ۱) ب، پ و ت ۲) الف، ت و ث ۳) پ، ت و ث ۴) الف، ب و ث

۶۵- پاسخ صحیح پرسش‌های زیر به ترتیب در کدام گزینه آمده است؟

الف) نقش اصلی پول در مبادلات چیست؟

ب) وظیفه وسیله پرداخت‌های آینده بودن پول در روزگار ما کاملاً محسوس است، زیرا ...

ج) «فردی ۱۰ رأس گوسفند خریداری می‌کند، پس از چند ماه ۳ رأس از آن‌ها به بیماری مبتلا می‌شوند و این فرد مبلغی برای درمان این گوسفندان هزینه می‌کند.» در عبارت بالا کدام وظیفه پول محسوس‌تر است؟

۱) الف) آسان‌سازی مبادله، ب) بیشتر معاملات تجاری در مقابل پرداخت‌های آینده صورت می‌گیرد، ج) وسیله پس‌انداز و حفظ ارزش

۲) الف) سنجش ارزش کالاها، ب) افراد می‌دانند دیگران نیز هنگام فروش کالاها و خدمات پول را خواهند پذیرفت، ج) وسیله سنجش ارزش کالاها

۳) الف) آسان‌سازی مبادله، ب) افراد می‌دانند دیگران نیز هنگام فروش کالاها و خدمات پول را خواهند پذیرفت، ج) وسیله پس‌انداز و حفظ ارزش

۴) الف) سنجش ارزش کالاها، ب) بیشتر معاملات تجاری در مقابل پرداخت‌های آینده صورت می‌گیرد، ج) وسیله سنجش ارزش کالاها

در درس اقتصاد به اعداد و واحدها توجه زیادی کنید و هنگامی که در یک مسئله، واحدها فرق دارند حتماً تمام واحدها را یکسان کنید و سپس محاسبه کنید.

۶۶- درستی یا نادرستی عبارتهای زیر به ترتیب در کدام گزینه آمده است؟

(الف) همه فعالان اقتصادی به نوعی تولیدکننده محصول (کالا یا خدمات) هستند.

(ب) سازمان تولید فقط جایگاه و نقش عوامل انسانی را تعیین می‌کند.

(ج) انواع سازمان‌های تولیدی به سازمان‌های تضامنی، خصوصی، سهامی عام و سهامی خاص تقسیم می‌شوند.

(د) در اقتصاد اسلامی عوامل انسانی هم می‌تواند صاحب تولید شود و هم می‌تواند دستمزد بگیرد و در سود و زیان شریک شود.

(۱) ص - غ - ص - غ (۲) غ - ص - ص - ص (۳) ص - غ - غ - غ (۴) غ - ص - ص - ص

۶۷- جدول روبه‌رو میزان تقاضا، عرضه و قیمت یک کالا در یک کشور

ردیف	قیمت (به هزار ریال)	مقدار تقاضا (به کیلو)	مقدار عرضه (به کیلو)
۱	۱۰۰	۱۲۰۰	۰
۲	۱۵۰	۱۰۰۰	۲۰۰
۳	۲۰۰	۸۰۰	۴۰۰
۴	۲۵۰	۶۰۰	۶۰۰
۵	۳۰۰	۴۰۰	۸۰۰
۶	۳۵۰	۲۰۰	۱۰۰۰
۷	۴۰۰	۰	۱۲۰۰

فرضی را نشان می‌دهد. با توجه به این جدول:

(الف) کدام ردیف جدول کمبود عرضه را نشان می‌دهد؟

(ب) در کدام ردیف‌های جدول با کمبود تقاضا روبه‌رو هستیم؟

(ج) کدام ردیف، قیمت و مقدار تعادلی را نشان می‌دهد؟

(۱) الف) ردیف ۵ - ب) ردیف‌های ۴، ۵ و ۶ - ج) ردیف ۷

(۲) الف) ردیف ۳ - ب) ردیف‌های ۵، ۶ و ۷ - ج) ردیف ۴

(۳) الف) ردیف ۵ - ب) ردیف‌های ۱، ۲ و ۳ - ج) ردیف ۴

(۴) الف) ردیف ۳ - ب) ردیف‌های ۳، ۴ و ۵ - ج) ردیف ۷

۶۸- میزان تولید کل جامعه‌ای در چهار سال پیاپی به ترتیب ۲۰۰۰، ۲۵۰۰، ۳۰۰۰ و ۳۷۰۰ هزار میلیارد ریال است. با در نظر گرفتن

سال اول به‌عنوان سال پایه تولید این چهار سال به ترتیب به ۲۰۰۰، ۲۳۰۰، ۲۸۰۰ و ۳۲۰۰ هزار میلیارد ریال تغییر یافت. با توجه به

این ارقام: الف) افزایش مقدار تولید در سال سوم و چهارم نسبت به سال پایه به ترتیب از راست به چپ چند هزار میلیارد است؟ (ب)

افزایش قیمت در سال دوم نسبت به سال پایه چند هزار میلیارد ریال است؟ (پ) میزان تورم در سال چهارم نسبت به سال پایه چند هزار

میلیارد ریال است؟

(۱) الف) ۲۰۰ - ۵۰۰ (ب) ۳۰۰ (پ) ۵۰۰ (۲) الف) ۸۰۰ - ۱۲۰۰ (ب) ۲۰۰ (پ) ۵۰۰

(۳) الف) ۲۰۰ - ۵۰۰ (ب) ۲۰۰ (پ) ۷۰۰ (۴) الف) ۸۰۰ - ۱۲۰۰ (ب) ۳۰۰ (پ) ۷۰۰

۶۹- با توجه به مندرجات جدول زیر:

ارزش تولید خارجیانی که مقیم کشور هستند.	۲۵ میلیارد دلار
ارزش تولید مردم کشور که در خارج ساکن هستند.	۳۲ میلیارد دلار
جمعیت کل کشور	۲۰ میلیون نفر
هزینه استهلاک	$\frac{1}{4}$ تولید ناخالص داخلی
ارزش خدمات ارائه شده	$\frac{1}{5}$ ارزش ماشین‌آلات
ارزش ماشین‌آلات	۲,۰۰۰ دستگاه از قرار هر دستگاه ۳,۰۰۰,۰۰۰ دلار
ارزش پوشاک	۱۵,۰۰۰ عدد از قرار هر عدد ۲۰۰,۰۰۰ دلار
ارزش مواد غذایی	۴۰۰ تن از قرار هر تن ۱۰,۰۰۰,۰۰۰ دلار

الف) تولید ناخالص داخلی چند میلیارد دلار است؟

ب) تولید خالص داخلی چند میلیارد دلار است؟

ج) تولید خالص ملی سرانه چند دلار است؟

(۱) الف) ۷۹ (ب) ۵۹ (ج) ۴,۲۵۰

(۲) الف) ۱۰۴ (ب) ۷۸ (ج) ۴,۲۵۰

(۳) الف) ۱۰۴ (ب) ۷۸ (ج) ۳,۱۵۰

(۴) الف) ۷۹ (ب) ۵۹ (ج) ۱,۲۵۰

۷۰- در جدول زیر سطح عمومی قیمت‌ها در ابتدا و انتهای یک سال مشخص برای سه کشور فرضی A، B و C آورده شده است. اگر نرخ

تورم در هر سه کشور یکسان باشد،

الف) سطح عمومی قیمت‌ها در انتهای سال برای کشور B کدام است؟

ب) سطح عمومی قیمت‌ها در ابتدای سال برای کشور C کدام است؟

ج) نرخ تورم در این کشورها چند درصد است؟

(۱) الف) ۱۱۰ (ب) ۱۰۰ (ج) ۳۰

(۲) الف) ۱۱۰ (ب) ۷۰ (ج) ۳۰

(۳) الف) ۱۱۲ (ب) ۱۰۰ (ج) ۴۰

(۴) الف) ۱۱۲ (ب) ۷۰ (ج) ۴۰

کشورها	سطح عمومی قیمت‌ها در ابتدای سال	سطح عمومی قیمت‌ها در انتهای سال
A	۵۰	۷۰
B	۸۰	?
C	?	۱۴۰

آزمون شاهد (گواه)

پاسخ دادن به این سؤالات اجباری است و در تراز کل شما تأثیر دارد.

۷۱- خیاطی می‌تواند در یک ساعت یک شلوار یا دو عدد پیراهن بدوزد. اگر خیاط تصمیم بگیرد که شلوار بدوزد، هزینه فرصت او کدام گزینه خواهد بود؟

- (۱) یک عدد شلوار و یک عدد پیراهنی که می‌توانست در همان زمان یک ساعت بدوزد.
- (۲) دو عدد پیراهنی که می‌توانست در همان زمان یک ساعت بدوزد.
- (۳) پولی که از فروش شلوار می‌تواند به‌دست آورد.
- (۴) زمانی که به دوخت شلوار اختصاص داده است.

۷۲- پاسخ درست و کامل پرسش‌های زیر، به‌ترتیب در کدام گزینه آمده است؟

- (الف) میزان سود برابر با «...» است.
- (ب) به‌طور کلی، نیازهای عمده تولیدکنندگان کالا و خدمات مختلف را می‌توان به «...» اصلی که عبارتند از «...» تقسیم کرد، که به عبارت‌ی از آن‌ها با عنوان «...» نیز نام می‌برند.
- (ج) انسان برای بهره‌برداری از منابع طبیعی به ابزار و تجهیزات نیازمند است. این ابزار و تجهیزات که در واقع حاصل کار گذشته انسان‌هاست، چه نام دارد؟
- (د) «تولیدکنندگان» در رابطه با تولید، مخارجی را متقبل می‌شوند که در واقع پولی است که برای خرید «عوامل تولید» به صاحبان آن‌ها می‌پردازند که همان «...» است.

(ه) تولیدکنندگان «نیروی انسانی» را به‌کار می‌گیرند و در مقابل به کارگران و کارمندان خود «...» و یا «...» می‌پردازند.

- (۱) الف) تفاوت درآمد و هزینه، ب) سه دسته - زمین، کار، تکنولوژی - عوامل اولیه‌ی تولید، ج) تکنولوژی، د) هزینه‌های مستقیم تولید، ه) حقوق - کرایه
- (۲) الف) تفاوت درآمد و هزینه، ب) سه دسته - منابع طبیعی، نیروی انسانی، سرمایه - عوامل تولید، ج) سرمایه، د) هزینه‌های مستقیم تولید، ه) مزد - حقوق
- (۳) الف) مجموع درآمد و هزینه، ب) سه دسته - منابع طبیعی، نیروی انسانی، سرمایه - عوامل تولید، ج) تکنولوژی، د) هزینه‌های غیرمستقیم تولید، ه) مزد - حقوق

(۴) الف) مجموع درآمد و هزینه، ب) سه دسته - زمین، کار، تکنولوژی - عوامل اولیه‌ی تولید، ج) سرمایه، د) هزینه‌های غیرمستقیم تولید، ه) حقوق - کرایه

۷۳- به‌ترتیب از راست به چپ، در چه شرایطی موقعیتی برای فروشندگان پیش می‌آید که می‌توانند بر میزان عرضه و قیمت کالا در بازار تأثیر بگذارند و در کشور ما شرکت توانیر به چه دلیلی انحصارگر در فروش کالای خود به‌شمار می‌رود؟

- (۱) بازار انحصاری - طبیعی (۲) بازار رقابتی - طبیعی (۳) بازار انحصاری - قانونی (۴) بازار رقابتی - قانونی

۷۴- در جدول عرضه و تقاضای نوعی کالا، قیمت تعادلی برابر ۹۰ واحد پولی و مقدار تقاضا در این قیمت برابر ۱۰۰ واحد بوده، از فروشنده در صورت عرضه کدام مقدار می‌توان انتظار کاهش قیمت را داشت؟

- (۱) ۸۰ (۲) ۹۰ (۳) ۱۰۰ (۴) ۱۲۰

۷۵- تغییرات قیمت کالای X و میزان عرضه و تقاضای آن، در یک دوره معین، در جدول زیر آمده است. به‌ترتیب (از راست به چپ): الف) چه

اعدادی به‌جای حروف A و B می‌توانند قرار بگیرند؟ ب) تولیدکنندگان، در قیمت ۳۰۰ ریال در بازار، حداکثر چه مقدار درآمد خواهند

داشت؟

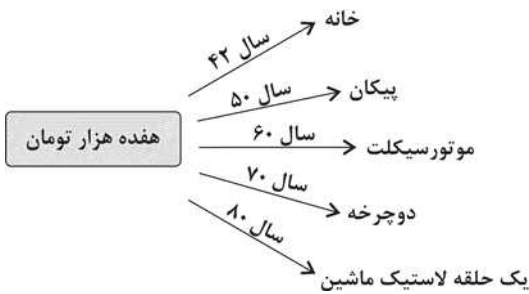
میزان تقاضا (به کیلو)	۳۱	A	۲۷	۲۳	۲۱	۱۸	۱۱
قیمت (به ریال)	۱۰۰	۱۵۰	۲۰۰	۲۵۰	۳۰۰	۴۰۰	۵۰۰
میزان عرضه (به کیلو)	۱۷	۲۱	۲۷	۳۱	۳۳	B	۴۳

(۱) الف) ۲۸، ۳۷، ب) ۹۹۰۰

(۲) الف) ۳۰، ۲۸، ب) ۸۷۰۰

(۳) الف) ۲۵، ۴۰، ب) ۵۵۰۰

(۴) الف) ۲۹، ۳۷، ب) ۶۳۰۰



۷۶- با توجه به نمودار تصویری روبه‌رو، در رابطه با قدرت خرید پول:

(الف) چرا گفته می‌شود قدرت خرید پول دستخوش تغییر است؟

(ب) قدرت خرید پول جامعه وابسته به چیست؟

(ج) رابطه‌ی قدرت خرید پول با چه چیزی یک رابطه‌ی غیرمستقیم است؟

(۱) الف) چون ارزش پول متناسب با رونق و شکوفایی اقتصادی افزایش هماهنگ

نداشته است. (ب) نقدینگی، (ج) سطح عمومی قیمت‌ها

(۲) الف) چون یک واحد پول نتوانسته در طول زمان ارزش خود را حفظ کند. (ب) سطح عمومی قیمت‌ها، (ج) سطح عمومی قیمت‌ها

(۳) الف) چون ارزش پول متناسب با رونق و شکوفایی اقتصادی افزایش هماهنگ نداشته است. (ب) سطح عمومی قیمت‌ها، (ج) نقدینگی

(۴) الف) چون یک واحد پول نتوانسته در طول زمان ارزش خود را حفظ کند. (ب) حجم پول در گردش، (ج) نقدینگی

۷۷- چند مورد از موارد زیر، هم‌زمان در حسابداری ملی و تولید ناخالص داخلی ایران محاسبه می‌شوند؟

«فروش پخش ماشین سرقتی به مال‌خر، تولید یک دوچرخه توسط دو فرد چینی در ایران، تعمیر کولر همسایه در ازای دریافت پول،

فروش لامپ تصویر به کارخانه تولید تلویزیون، تولید پوشاک توسط یک ایرانی در هند»

(۱) یک (۲) دو (۳) سه (۴) چهار

۷۸- با توجه به اطلاعات زیر در مورد چهار کشور A، B، C و D ترتیب تولید خالص ملی سرانه این کشورها، در کدام گزینه درست آمده

است؟

کشورها	تولید ناخالص ملی (به میلیون ریال)	استهلاک (به میلیون ریال)	جمعیت (به نفر)
A	۹,۵۰۰	۱۵۰	۸۰,۰۰۰
B	۲۶۰,۰۰۰	۲۰,۰۰۰	۷۵۰,۰۰۰
C	۶,۰۰۰	۲۵۰	۲۰,۰۰۰
D	۸۵,۰۰۰	۵,۰۰۰	۱۶۰,۰۰۰

(۱) $D > B > C > A$

(۲) $B > D > A > C$

(۳) $B > C > D > A$

(۴) $C > B > A > D$

۷۹- جدول زیر مبنی «اقلام مختلف درآمدی» مربوط به یک سال اعضای یک جامعه فرضی بوده و جمعیت کل این جامعه ۶۰ میلیون نفر

می‌باشد. در این صورت:

ردیف	اقلام درآمدی	مبلغ
۱	درآمد حقوق بگیران	۱۸۶,۵۸۸,۰۰۰ ریال
۲	دستمزدها	$\frac{1}{3}$ درآمد حقوق بگیران
۳	درآمد صاحبان سرمایه	۸۶۴,۴۲۲,۰۰۰ ریال
۴	درآمد صاحبان املاک و مستغلات	$\frac{1}{4}$ درآمد صاحبان سرمایه
۵	درآمد صاحبان مشاغل آزاد	$\frac{2}{5}$ سود شرکت‌ها و مؤسسات
۶	سود شرکت‌ها و مؤسسات	۹۸۶,۵۹۸,۵۰۰ ریال

(الف) کدام ردیف جدول، سودی است که به «سرمایه» تعلق

می‌گیرد و کدام ردیف، اجاره‌بها یا مال‌الاجاره است؟

(ب) «درآمد ملی» این جامعه چند ریال است؟

(ج) «درآمد سرانه» آن چند ریال است؟

(د) مفهوم و معنای «سرانه» چیست؟

(۱) ردیف ۳ و ردیف ۴ - $۲,۷۱۰,۵۴۹,۴۰۰ - ۴۵/۱۵۷۳۲۸$ - سهم متوسط هر فرد در میزان «درآمد آن جامعه»

(۲) ردیف ۴ و ردیف ۳ - $۲,۵۴۹,۷۱۰,۴۰۰ - ۴۵/۱۷۵۸۲۳$ - سهم متوسط هر فرد جامعه در میزان «تولید آن جامعه»

(۳) ردیف ۴ و ردیف ۳ - $۲,۷۱۰,۵۴۹,۴۰۰ - ۴۵/۱۵۷۳۲۸$ - سهم متوسط هر فرد در «میزان تولید یا درآمد آن جامعه»

(۴) ردیف ۳ و ردیف ۴ - $۲,۷۱۰,۵۴۹,۴۰۰ - ۴۵/۱۷۵۸۲۳$ - سهم متوسط هر فرد جامعه در «میزان تولید یا درآمد آن جامعه»

۸۰- فرض کنید که سطح قیمت‌ها در سال ۸۰ معادل ۱۰۰ واحد پولی باشد و نرخ تورم در سال‌های ۸۱ و ۸۲ و ۸۳ به ترتیب ۲۵ و ۲۰ و ۱۰

درصد باشد. در این شرایط سطح قیمت‌ها در سال ۸۲ چند واحد پولی خواهد بود؟

(۱) ۱۲۵ (۲) ۱۵۰ (۳) ۱۲۰ (۴) ۱۷۵



علوم و فنون ادبی (۱)

دورهی کل مباحث گذشته
تاریخ ادبیات پیش از اسلام و قرن‌های
اولیه هجری
کل فصل (۱) و فصل (۲) درس (۴)
صفحه‌ی ۳۶ تا ۳۷
وقت پیشنهادی: ۱۵ دقیقه

۸۱- با توجه به بیت زیر ویژگی کدام قلمرو درست است؟

«کنار نام تو لنگر گرفت کشتی عشق / بیا که یاد تو آرامشی است طوفانی»

- ۱) واژگان بیت، ساختمان پیچیده دارند: قلمرو زبانی
- ۲) از واژگان غیرفارسی، کم استفاده شده است: قلمرو زبانی
- ۳) آرایه تلمیح در بیت استفاده شده است: قلمرو ادبی
- ۴) شعر در قالب مثنوی سروده شده است: قلمرو ادبی

۸۲- همه گزینیه‌های زیر به جز گزینۀ ... در مورد سازه‌ها و عوامل تأثیرگذار در شعر فارسی درست است.

- ۱) وزن در شعر، جنبه تزئینی ندارد و جزء طبیعت شعر است.
- ۲) اساسی‌ترین عامل پیدایی شعر، عاطفه است.
- ۳) وزن، امری غیر حسی است.
- ۴) شاعر، برای انتقال عاطفه خود به دیگران از زبان کمک می‌گیرد.

۸۳- کدام گزینه درباره متن زیر نادرست است؟

«یکی از ملوک عرب متعلقان دربار را فرمود که مرسوم فلان را چندان که هست مضاعف کنید که ملازم درگاه است و مترصد فرمان و سایر خدمتکاران به لهو و لعب مشغول و در ادای خدمت متهاون.»

- ۱) کاربرد زیاد واژگان عربی
- ۲) کاربرد «که» در معنای «زیرا که»
- ۳) کاربرد «را» ی فکت اضافه
- ۴) حذف فعل به قرینه

۸۴- کدام گزینه درباره شعر قرن چهارم و نیمه اول قرن پنجم نادرست است؟

- ۱) رایج‌ترین انواع شعر فارسی در این دوره، «حماسی»، «مدحی» و «اندرزی» بود.
- ۲) مدیحه‌سرایی از آغاز ادبیات فارسی به پیروی از شعر عربی معمول گشت.
- ۳) مفاهیم ذهنی شاعران این دوره از قلمرو تعالیم کلی اخلاقی فراتر نمی‌رفت.
- ۴) اوج پختگی شعر حکمی در دوره سلجوقیان بود.

۸۵- آرایه نسبت داده شده به کدام بیت، نادرست است؟

- ۱) در دیر مغان آمد یارم قدحی در دست / مست از می و میخواران از نرگس مستش مست (واج‌آرایی، واژه‌آرایی)
- ۲) ماه خورشیدنمایش ز پس پرده زلف / آفتابی است که در پیش سحابی دارد (تشبیه، تناسب)
- ۳) سرم به دنیوی و عقبی فرو نمی‌آید / تبارک‌الله از این فتنه‌ها که در سر ماست (کنایه، تضاد)
- ۴) گو شمع میارید در این جمع که امشب / در مجلس ما ماه رخ دوست تمام است (واج‌آرایی، تشخیص)

۸۶- کدام گزینه درباره نثر سده چهارم و نیمه اول قرن پنجم و آثار این دوره صحیح نیست؟

- ۱) شاهنامه ابومنصوری حدود سال ۳۴۶ قمری، به دست عده‌ای از دانشوران خراسان، نوشته شد.
- ۲) اصل تفسیر طبری را محمدبن جریر طبری به زبان عربی نوشته است و ابوعلی بلعمی آن را به فارسی ترجمه کرده است.
- ۳) در نثر این دوره هنوز آوردن اصطلاحات علمی و اشعار و امثال رایج نشده است.
- ۴) نثر این دوره بیشتر به موضوع‌های حماسی، ملی و تاریخی توجه دارد.

۸۷- وزن و آهنگ کدام بیت برای بیان حماسی شعر مناسب است؟

- ۱) چند زنی تیر به هر گوشه‌های / غافلی از توشه بی‌توشه‌ای
- ۲) فرستاده آمد به کردار گرد / شنیده سخن‌ها همه یاد کرد
- ۳) ذره‌ای کان محو شد در آفتاب / جنگ او بیرون شد از وصف و حساب
- ۴) ای عقل تو به باشی در دانش و در بینش؟ / یا آن که به هر لحظه صد عقل و نظر سازد؟

۸۸- جاهای خالی عبارات زیر را کدام گزینه کامل می‌کند؟

«در زمان سامانیان، ... عمده‌ترین مرکز فرهنگی به‌شمار می‌آمد و بسیاری از دانشمندی که در این شهر می‌زیستند، آثار ارزنده‌ای به پارسی و عربی، در قلمرو فرهنگ اسلامی پدید آوردند. این درخشش با شکست سامانیان از ... به تیرگی گرایید و ... ابتدا به دست سبکتگین و بعد پسرش ... افتاد و سلسله غزنوی در سال ... هجری در شهر غزنه تشکیل شد.»

- ۱) خراسان - ترکان آل افراسیاب - بخارا - محمود - ۳۵۱
- ۲) بخارا - ترکان مغول - خراسان - مسعود - ۴۵۱
- ۳) بخارا - ترکان آل افراسیاب - خراسان - محمود - ۳۵۱
- ۴) خراسان - ترکان مغول - ماوراءالنهر - مسعود - ۴۵۱

۸۹- هر یک از گزینیه‌های زیر، به ترتیب وصف کدام زبان ایرانی است؟

- (الف) زبان درباری ساسانیان و زبان محاوره و مکاتبه مقامات دولتی بود.
- (ب) به ناحیه پارس تعلق داشته است و آثاری که به این زبان نوشته شده است، بیشتر آثار دینی زردشتی است.
- (پ) آثار به جا مانده از این زبان، فرمان‌ها و نامه‌های شاهان هخامنشی است.
- (ت) در دوره اشکانیان رایج بود و در شمال و شمال‌شرقی ایران متداول بوده است.

- ۱) فارسی میانه - فارسی باستان - پهلوی - پارسی
- ۲) فارسی باستان - پارسی - پهلوی - فارسی نو
- ۳) فارسی نو - پهلوی - فارسی باستان - پارسی
- ۴) پهلوی - پارسی - فارسی نو - فارسی باستان

۹۰- اگر بخواهیم ابیات زیر را به لحاظ دارا بودن آرایه‌های «واج‌آرایی، تشبیه، واژه‌آرایی، استعاره» به ترتیب مرتب کنیم، کدام گزینه درست است؟

- (الف) دلم باغ بهاران گشت گویی / یکی جانم هزاران گشت گویی
- (ب) غلام همت آنم که زیر چرخ کبود / ز هر چه رنگ تعلق پذیرد آزاد است
- (ج) که آگه است که کاووس و کی کجا رفتند / که واقف است که چون رفت تخت جم بر باد
- (د) طاعت آن نیست که بر خاک نهی پیشانی / صدق پیش آر که اخلاص به پیشانی نیست

- ۱) ب، الف، د، ج
- ۲) ج، الف، د، ب
- ۳) ج، د، الف، ب
- ۴) ب، د، الف، ج

تاریخ (۱) ایران و جهان باستان

دوره‌ی کل مباحث گذشته

یونان و روم

درس (۱) تا پایان درس (۶)

صفحه‌ی ۲ تا ۶۰

وحدت پیشه‌کار: ۲۰ دقیقه

۹۱- کدام مورد از ویژگی‌های رویدادهای تاریخی است و هدف علم تاریخ چیست و سنگ‌نوشته‌های

کدام دوران باستانی ایران، نشان از توجه ایرانیان به ثبت و ضبط وقایع تاریخی دارد؟

- (۱) قابل تجربه نبودن - شناخت و آگاهی نسبت به زندگی اجتماعی در گذشته - ساسانیان
- (۲) مجزا و مستقل بودن - مطالعه جنبه‌های مختلف زندگی انسان‌ها و جامعه‌ها در گذشته - اشکانیان
- (۳) تکرار ناپذیر بودن - مطالعه جنبه‌های مختلف زندگی انسان‌ها و جامعه‌ها در گذشته - هخامنشیان
- (۴) قابل مشاهده نبودن - شناخت و آگاهی نسبت به زندگی اجتماعی در گذشته - اشکانیان

۹۲- کدام گزینه به ترتیب تکمیل کننده عبارت زیر است؟

مشهورترین فرمانروای سلسله ...، حمورابی بود که بخش عمده‌ای از شهرت او در تاریخ، به خاطر ... است و رونق ... زمینه آشنایی

مردم مناطق مختلف را با آداب و رسوم، مهارت‌ها و اندیشه‌های یکدیگر فراهم آورد.

- (۱) اموری - قانون‌نامه‌ای است که از او برجای مانده - داد و ستد
- (۲) آشوری - قانون‌نامه‌ای است که از او برجای مانده - داد و ستد
- (۳) آشوری - اقدامات مهمی است که در زمینه کشاورزی انجام داده - خط و زبان
- (۴) اموری - اقدامات مهمی است که در زمینه کشاورزی انجام داده - خط و زبان

۹۳- مهم‌ترین آیینی که برای چند قرن حیات فکری و فرهنگی هند باستان را تحت تأثیر خود قرار داد، چه بود و داریوش بزرگ، پادشاه

هخامنشی، با تصرف کدام قسمت هند، آن را خراج‌گزار خویش کرد؟

- (۱) آیین بودایی - قسمت‌هایی از شمال شرق هند
- (۲) آیین برهمنی - قسمت‌هایی از شمال شرق هند
- (۳) آیین برهمنی - قسمت‌هایی از شمال غرب هند
- (۴) آیین بودایی - قسمت‌هایی از شمال غرب هند

۹۴- کدام گزینه از اقدامات شی‌هوانگ‌تی امپراتور سلسله «چهاین» نیست و گشایش جاده ابریشم در چه دوره‌ای رخ داد؟

- (۱) نوسازی تشکیلات اداری و مالیاتی و ساخت شبکه گسترده‌ای از جاده‌ها - چهاین
- (۲) انتخاب مأموران دولتی بر پایه اصول و تعلیمات کنفوسیوس - هان
- (۳) یکسان سازی مقیاس وزن‌ها و اندازه‌ها و عیار سکه‌ها به قصد رونق تجارت - هان
- (۴) تکمیل دیوار بزرگ چین برای جلوگیری از هجوم اقوام صحراگرد - شانگ

۹۵- کدام گزینه در رابطه با ویژگی‌های کشاورزان کوهپایه‌های زاگرس صحیح نیست؟

- (۱) به واسطه فعالیت آنان در زمینه کشاورزی، جمعیت افزایش یافت و تولید مازاد بر خوراک، موجب شد که سرانجام نخستین روستاها به وجود بیایند.
- (۲) آنان با حفر آبراه‌ها و ایجاد آبگیرهای متعدد، زمین‌های وسیعی را به زیر کشت بردند.
- (۳) زمین‌هایی که آنان به زیر کشت می‌بردند اطراف رودهای دجله و فرات بود.
- (۴) آن‌ها برای نخستین بار در دشت‌ها و جلگه‌های مجاور از جمله بین‌النهرین، شروع به کشاورزی کردند.

در بسیاری از دروس به خصوص دروس حفظی مانند درس تاریخ، بازیابی مهم‌تر از بازخوانی است. در درس تاریخ برای تثبیت مطالب در ذهنتان، پس از مطالعه کتاب، از قدرت تخیل خود استفاده کنید و صحنه‌ها را بازسازی کنید.



۹۶- تصویر زیر مربوط به دروازه شیر در شهر ... است و به واسطه همین شهر است که ...

(۱) مینوس - مینوسی‌ها قومی دریانورد شدند.

(۲) مینوس - اولین دوره تمدن یونان را عصر مینوسی می‌گویند.

(۳) میسن - آثار تمدنی کهن در جزیره کرت واقع در جنوب یونان کشف گردید.

(۴) میسن - اولین دوره تمدن یونان را عصر میسنی می‌گویند.

۹۷- تصویر روبه‌رو نشان دهنده کدام فعالیت در مصر باستان است و اخراج هیکسوس‌ها از مصر توسط فرعون در چه دوره‌ای رخ داد؟



(۱) تجارت و داد و ستد - پادشاهی جدید

(۲) کشاورزی - پادشاهی میانه

(۳) تجارت و داد و ستد - پادشاهی میانه

(۴) کشاورزی - پادشاهی جدید

۹۸- در کدام گاه‌شماری پنج روز اضافی را به آخر ماه دوازدهم اضافه می‌کردند و گاه‌شماری هجری قمری بر چه پایه‌ای تنظیم شده است و در

گاه‌شماری خورشیدی - قمری بابلی رایج در دوره هخامنشیان، ماه‌ها بر چه اساسی نام‌گذاری شده بودند؟

(۱) اوستایی ساسانی - گردش زمین به دور خورشید - فرهنگ و آیین ایرانی

(۲) مصری - گردش زمین به دور خورشید - اسامی ایزدان و فرشتگان

(۳) مصری - گردش ماه به دور زمین - فرهنگ و آیین ایرانی

(۴) اوستایی ساسانی - گردش ماه به دور زمین - اسامی ایزدان و فرشتگان

۹۹- صحیح یا غلط بودن هر یک از عبارات زیر به ترتیب در کدام گزینه به درستی مشخص شده است؟

(الف) تعدادی از آثار و بناهای تاریخی مانند مردان نمکی زنجان و تمدن عظیم جیرفت در استان کرمان به‌طور تصادفی کشف شدند.

(ب) عمده اطلاعات منابع نوشتاری، مربوط به زندگی اجتماعی و شرح طبقات جامعه می‌باشد.

(پ) استخراج و تنظیم اطلاعات، یکی از مراحل حساس کار باستان‌شناسان به شمار می‌آید.

(ت) با استفاده از منابع مکتوب می‌توانیم به شناخت کامل دوره تاریخی برسیم.

(۱) ص - غ - غ - غ (۲) غ - ص - غ - ص (۳) غ - ص - ص - ص (۴) ص - غ - غ - ص

۱۰۰- به ترتیب کدام گزینه در رابطه با سؤال‌های زیر صحیح است؟

(الف) باستان‌شناسان پس از سال‌ها حفاری و کاوش، بقایای شهرهای بزرگ و پرجمعیت موهنجودارو و هاراپا را در کجا کشف کردند؟

(ب) تمدن موهنجودارو و هاراپا با کدام مراکز تمدن داد و ستد داشته‌اند؟

(ج) مهم‌ترین اثر برج مانده درباره عقاید آریاییان هند کدام است؟

(۱) الف) هند، (ب) مصر و چین، (ج) وداها (۲) الف) پاکستان، (ب) ایران و بین‌النهرین، (ج) وداها

(۳) الف) پاکستان، (ب) مصر و ایران، (ج) ریگ‌ودا (۴) الف) هند، (ب) ایران و بین‌النهرین، (ج) وداها

۱۰۱- کدام گزینه به ترتیب تکمیل کننده عبارات زیر است؟

مکان‌های باستانی و تاریخی از نظر ... متفاوت‌اند و نقاشی‌ها و اشیای کشف شده از غارها منبع ارزشمندی برای مطالعه و شناخت زندگی مردمان دوران ... به‌شمار می‌روند و در مراحل کار باستان‌شناسان، ... نخستین گام باستان‌شناسان است.

(۱) درجه اهمیت، اعتبار - تاریخی - حفاری

(۲) شکل، وسعت - پیش از تاریخ - شناسایی و کشف

(۳) شکل، نوع مصالح - پیش از تاریخ - حفاری

(۴) شکل، وسعت - تاریخی - شناسایی و کشف

۱۰۲- کدام گزینه به ترتیب مربوط به دوره مفرغ، دوره میان سنگی و دوره پارینه سنگی می‌باشد؟

(۱) آغاز شهرنشینی - شکل‌گیری نخستین تمدن‌ها - گسترش صید آبزیان و پرندگان

(۲) شکل‌گیری نخستین تمدن‌ها - گسترش صید آبزیان - گسترش استفاده از غار

(۳) ابداع خط و نگارش - آغاز اهلی کردن حیوانات - ابداع تیر و کمان و ابزارهای ترکیبی

(۴) گسترش شهرنشینی - آغاز کشاورزی - ابداع تیر و کمان و ابزارهای ترکیبی

۱۰۳- پاسخ درست پرسش‌های زیر در کدام گزینه به ترتیب آمده است؟

(الف) مورخان چه دوره‌ای را در یونان باستان «عصر تاریکی» نامیدند؟

(ب) حکومت هخامنشی در جریان جنگ‌های پلوپونزی به کدام دولت یونانی به طور پنهانی کمک مالی می‌کرد؟

(پ) کدام منطقه از جمله مناطقی بود که دولت - شهرهای یونانی به منظور گسترش قلمرو و توسعه نفوذ فرهنگی و اقتصادی خود، بدانجا

یورش بردند؟

(۱) از ۱۱۰۰ تا حدود ۸۰۰ ق. م. - آتن - بین‌النهرین

(۲) از ۱۲۰۰ تا حدود ۹۰۰ ق. م. - آتن - آسیای صغیر

(۳) از ۱۱۰۰ تا حدود ۸۰۰ ق. م. - اسپارت - آسیای صغیر

(۴) از ۱۲۰۰ تا حدود ۹۰۰ ق. م. - اسپارت - آسیای صغیر

۱۰۴- کدام گزینه جاهای خالی عبارت‌های زیر را به ترتیب کامل می‌کند؟

(الف) جنگ‌های پلوپونزی با شکست ... به پایان رسید.

(ب) ... زادگاه مردم سالاری در یونان به‌شمار می‌رفت.

(پ) در رأس دوازه خدایی که در کوه المپ جای داشتند، ... قرار داشت.

(ت) قدرت کاهنان یونان ... از مصر و بین‌النهرین بود.

(ث) اولین دوره بازی‌های المپیک در ... انجام شد.

(۱) آتن - آتن - خدای آسمان و آذرخش - بیش‌تر - شهر المپیا

(۲) اسپارت - آتن - خدای آسمان و آذرخش - بیش‌تر - شهر آکروپولیس

(۳) آتن - اسپارت - زنوس - بیش‌تر - شهر آکروپولیس

(۴) آتن - آتن - زنوس - کم‌تر - شهر المپیا

۱۰۵- پاسخ درست پرسش‌های زیر به ترتیب در کدام گزینه آمده است؟

(الف) به گمان برخی از باستان‌شناسان، نخستین نوشته‌های جهان متعلق به چه کسانی است؟

(ب) قوم آکدی در کدام قسمت بین‌النهرین می‌زیست؟

(پ) آگاهی ما از کدام دوره، متکی بر کاوش‌های باستان‌شناسی است؟

(ت) به چه علتی شهر بابل (پایتخت اموری‌ها) به یکی از مراکز بزرگ تجارت بین‌المللی در جهان باستان تبدیل شد؟

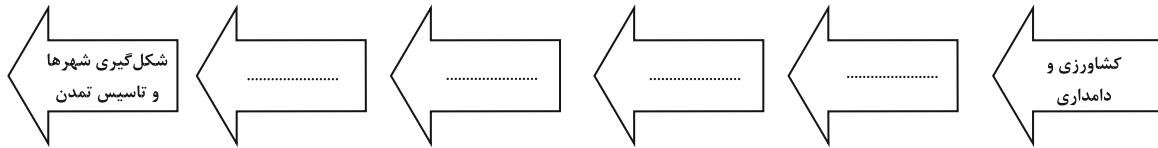
(۱) بابلی‌ها - جنوب - پیش از تاریخ - داشتن ثروت فراوان و موقعیت مناسب فرهنگی

(۲) سومری‌ها - مرکز - پیش از تاریخ - داشتن موقعیت مناسب سیاسی و جغرافیایی

(۳) بابلی‌ها - جنوب - تاریخی - داشتن موقعیت مناسب سیاسی و جغرافیایی

(۴) سومری‌ها - مرکز - تاریخی - داشتن موقعیت مناسب اجتماعی و تجاری

۱۰۶- به ترتیب از راست به چپ کدام گزینه در ارتباط با روند زیر صحیح است؟



- (۱) یک‌جانشینی و به وجود آمدن روستاها - تولید مازاد بر نیاز - تخصصی شدن کار - شکل‌گیری تجارت
- (۲) تخصصی شدن کار - یک‌جانشینی و به وجود آمدن روستاها - تولید مازاد بر نیاز - شکل‌گیری تجارت
- (۳) تولید مازاد بر نیاز - یک‌جانشینی و به وجود آمدن روستاها - تخصصی شدن کار - شکل‌گیری تجارت
- (۴) یک‌جانشینی و به وجود آمدن روستاها - تخصصی شدن کار - تولید مازاد بر نیاز - شکل‌گیری تجارت

۱۰۷- کدام گزینه به ترتیب تکمیل‌کننده عبارت زیر است؟

به تدریج تا اواخر دوره ... توانایی بشر در سخن گفتن و اندیشیدن تکامل یافت و از حدود ... سال پیش، گروه‌هایی از مردمان گردآورنده خوراک شروع به کشت برخی گیاهان کردند و در عصر ... انسان با ابداع چرخ سفالگری اقدام به تولید ظروف گلی کرد.

- (۱) تولید خوراک، ۵۰۰۰، نوسنگی
- (۲) گردآوری خوراک، ۱۲۰۰۰، نوسنگی
- (۳) تولید خوراک، ۱۲۰۰۰، فرایارینه سنگی
- (۴) گردآوری خوراک، ۵۰۰۰، فرایارینه سنگی

۱۰۸- کدام گزینه به ترتیب پاسخ صحیح سؤالات زیر است؟

الف) در نظام مردم‌سالاری یونان باستان چه کسانی می‌توانستند در اداره امور دولت - شهر مشارکت کنند؟

ب) در یونان باستان، در نتیجه چه عواملی اشراف به جای شاهان قدرت را در دست گرفتند؟

پ) چه اقوامی به ایتالیا وارد شدند و با ورودشان به این کشور مزارع و روستاهایی را به وجود آوردند؟

- (۱) الف) فقط مردان بالغی که حق رأی داشتند. ب) گسترش فتوحات و گسترش تجارت خارجی، پ) اقوام هند و ایرانی
- (۲) الف) فقط مردان بالغی که از پدر و مادری آتنی به دنیا آمده بودند و شهروند آن‌جا محسوب می‌شدند. ب) توسعه دریانوردی و گسترش تجارت خارجی، پ) اقوام هند و اروپایی
- (۳) الف) فقط مردان بالغی که از پدر و مادری آتنی به دنیا آمده بودند و حق رأی داشتند. ب) رقابت سرداران جاه‌طلب با پادشاهان و گسترش فتوحات، پ) اقوام یونانی
- (۴) الف) فقط مردان و زنان بالغی که از پدر و مادر آتنی به دنیا آمده بودند و حق رأی داشتند. ب) رقابت سرداران جاه‌طلب با پادشاهان و گسترش فتوحات، پ) اقوام یونانی

۱۰۹- به ترتیب کدام گزینه در رابطه با سؤال‌های زیر صحیح است؟

الف) در فاصله سال‌های ۲۶۴ تا ۱۴۶ ق. م. سلسله جنگ‌های بزرگ میان جمهوری رم با کدام حکومت و پادشاه رخ داد؟

ب) به ترتیب رومیان با لشکرکشی به سرزمین‌های شرق دریای مدیترانه در غرب آسیا، بقایای چه حکومتی را برانداختند و تنها چه حکومتی بود که در مقابل سپاه قدرتمند روم ایستادگی کرد و مانع پیشروی بیشتر آنان به سوی ایران شد؟

ج) شهر بیزانتیوم توسط چه کسی به پایتختی روم برگزیده شد؟

د) از میان سرداران جاه‌طلب رم، کدام‌یک با ایجاد تغییرات در نظام حکومتی، باعث شد قدرت اجرایی در اختیار یک فرد به‌عنوان شخص اول مملکت قرار بگیرد؟

ه) برجسته‌ترین دستاورد هنری تمدن روم، در چه چیزهایی تبلور یافت؟

- (۱) الف) مصر و یونان، ب) سلوکیان، ساسانیان، ج) اکتاویان، د) کنسانتین، ه) معماری و فلزکاری
- (۲) الف) کارتاژ و مقدونی، ب) ساسانیان، اشکانیان، ج) اکتاویان، د) کنسانتین، ه) فلزکاری و مجسمه‌سازی
- (۳) الف) کارتاژ و مقدونی، ب) سلوکیان، اشکانیان، ج) کنسانتین، د) اکتاویان، ه) معماری و مجسمه‌سازی
- (۴) الف) مقدونیه و مصر، ب) سلوکیان، ساسانیان، ج) کنسانتین، د) آگوستوس، ه) فلزکاری و مجسمه‌سازی

۱۱۰- کدام گزینه به ترتیب پاسخ صحیح سؤالات زیر است؟

الف) حکومت آشور در شمال بین‌النهرین چگونه توانست بر قلمرو و ثروت خود بیفزاید؟

ب) تمدن بین‌النهرین بر کدام تمدن‌های پس از خود تأثیر بسزایی گذاشت؟

پ) سرزمین مصر از چه طریقی در معرض هجوم بیرونی قرار می‌گرفت؟

- (۱) الف) لشکرکشی به ایران و غارت و ویرانی دولت شهرهای سومری، ب) ایران در زمان هخامنشیان و یونان باستان، پ) دریای مدیترانه در شمال
- (۲) الف) استفاده از ضعف حکومت بابل قدیم و شکست آنان، ب) ایران در زمان ساسانیان و روم باستان پ) صحراهای گرم در شرق و غرب
- (۳) الف) لشکرکشی به سرزمین‌های مجاور و غارت و ویرانی آن‌ها، ب) ایران در زمان هخامنشیان و یونان باستان، پ) شبه جزیره سینا
- (۴) الف) حمله به حکومت بابل قدیم و غارت دولت شهرها، ب) ایران در زمان ساسانیان و روم باستان پ) صخره‌های شمالی



جغرافیای ایران

دوره‌ی کل مباحث گذشته
ناهمواری‌های ایران
درس (۱) تا پایان درس (۴)
صفحه‌ی ۳۲ تا ۳۲

وقت پیشنهادی: ۱۰ دقیقه

۱۱۱- در رابطه با سؤال‌های زیر کدام گزینه به ترتیب صحیح است؟

- (الف) چرا جغرافی‌دان‌ها با دید ترکیبی موضوعات را مطالعه و بررسی می‌کنند؟
(ب) کدام گزینه جزء عملکرد مثبت انسان در ناحیه کوهستانی محسوب می‌شود؟
(ج) کویر مصر در کجا واقع شده است؟
(د) چگونگی شکل‌گیری محیط‌های جغرافیایی، حاصل چه روابطی است؟

(۱) الف) زیرا اجزا و عوامل محیط جغرافیایی در ارتباط با یکدیگر عمل می‌کنند. (ب) تولید برق آبی، (ج) اصفهان، (د) حاصل روابط متقابل انسان و محیط می‌باشد.

(۲) الف) زیرا اجزا و عوامل محیط جغرافیایی مستقل از یکدیگر عمل نمی‌کنند. (ب) ایجاد ورزش‌های مناسب، (ج) یزد، (د) حاصل روابط متقابل محیط و آب و هوا است.

(۳) الف) زیرا اجزا و عوامل محیط جغرافیایی مستقل از یکدیگر عمل می‌کنند. (ب) تولید برق بادی، (ج) یزد، (د) حاصل روابط متقابل انسان و تکنولوژی می‌باشد.

(۴) الف) زیرا اجزا و عوامل محیط جغرافیایی تا حدودی در ارتباط با یکدیگر عمل می‌کنند. (ب) جلوگیری از فرسایش خاک، (ج) اصفهان، (د) حاصل روابط متقابل انسان و محیط می‌باشد.

۱۱۲- کدام گزینه به ترتیب صحیح یا غلط بودن عبارات زیر را نشان می‌دهد؟

- (الف) بررسی «افزایش ارتفاع و نقش آن در کاهش دما» یک اصل هواشناسی است.
(ب) بررسی چگونگی معیشت گروه‌های انسانی در مکان‌های مختلف و تولید و توزیع کالاها بر عهده علم اقتصاد است.
(ج) بادگیر دو طبقه ابرکوه نشان‌دهنده نگاه سودجویانه انسان برای تغییر محیط است.
(د) انسان و محیط از مهم‌ترین مفاهیم اساسی دانش جغرافیا می‌باشند.

(۱) ص - غ - غ - غ (۲) ص - غ - ص - غ (۳) ص - ص - غ - ص (۴) غ - ص - غ - غ

۱۱۳- کدام یک از موارد زیر با مفهوم مقابل خود همخوانی ندارد؟

- (الف) توفان گرد و غبار در استان ایلام رخ داده است. (مکان وقوع پدیده‌ها)
(ب) از بین رفتن دریاچه‌ها، قطع درختان و نابودی باتلاق‌ها و واحه‌ها از جمله زمینه‌های به وجود آورنده خشکسالی در کشور ایران می‌باشد.
(تأثیر فعالیت‌های انسان در هر پدیده)

(ج) چرا خشکسالی در سال‌های اخیر، در استان اصفهان رخ داده است؟ (علت وقوع پدیده)

(د) میزان خشکسالی و گرد و غبار در فصل تابستان در شهر اهواز شدت می‌یابد. (روند زمانی موضوع)

(۱) الف (۲) ب (۳) ج (۴) د

۱۱۴- به ترتیب هر یک از عبارات‌های زیر مربوط به کدام مرحله از مراحل پژوهش‌های جغرافیایی می‌باشد؟

(الف) از دلایل آلودگی هوای تهران چه می‌باشد؟

(ب) شاید تردد تعداد زیاد خودروها در شهر، عامل مهم آلودگی هوای تهران باشد.

(ج) برای به دست آوردن آمار تعداد خودروهای تهران، به اداره راهنمایی و رانندگی مراجعه می‌کنیم.

(د) با توجه به مطالعات انجام شده معلوم گردید با کاهش تردد خودروها در سطح شهر، آلودگی هوا کاهش می‌یابد.

(۱) تدوین فرضیه - بیان مسئله - پردازش اطلاعات - ارائه پیشنهادها

(۲) تدوین فرضیه - جمع‌آوری اطلاعات - پردازش اطلاعات - نتیجه‌گیری

(۳) بیان مسئله - تدوین فرضیه - جمع‌آوری اطلاعات - نتیجه‌گیری

(۴) بیان مسئله - جمع‌آوری اطلاعات - پردازش اطلاعات - ارائه پیشنهادها

۱۱۵- با توجه به جدول زیر کدام گزینه به ترتیب از راست به چپ در رابطه با عرض و طول جغرافیایی کشور ایران صحیح است؟

جهت		
عرض جغرافیایی	جنوبی ...	شمالی ...
طول جغرافیایی	غربی ...	شرقی ...

(۱) عرض جغرافیایی: ۲۵ تا ۴۰ درجه / طول جغرافیایی: ۴۰ تا ۶۳ درجه

(۲) عرض جغرافیایی: ۲۵ تا ۴۰ درجه / طول جغرافیایی: ۴۴ تا ۶۳ درجه

(۳) عرض جغرافیایی: ۴۴ تا ۶۳ درجه / طول جغرافیایی: ۲۵ تا ۴۰ درجه

(۴) عرض جغرافیایی: ۲۵ تا ۶۳ درجه / طول جغرافیایی: ۴۴ تا ۶۳ درجه

قبل از هر آزمون، نکات آزمون‌های قبل خود را بخوانید و از اشتباهات خود، نکته‌برداری کنید.

- (ب) دریای خزر، بزرگ‌ترین پهنه‌ی آبی محصور در خشکی، ۹۰٪ منابع نفت و گاز جهان را تأمین می‌کند.
(ج) وجود سواحل با قابلیت‌های دفاعی مناسب، باعث اهمیت داشتن دریای خزر از نظر سیاسی و نظامی شده است.
(د) ایران کشور وسیع پرمسایه‌ای است و با ۱۵ کشور مرز خشکی دارد.

(۱) سه (۲) چهار (۳) دو (۴) یک

۱۱۷- کدام گزینه به ترتیب پاسخ صحیح سوالات زیر است؟

الف) دلیل اهمیت فرهنگی و سیاسی خلیج فارس چیست؟

(ب) چرا منطقه خلیج فارس یکی از کانون‌های ثروتمند جهان است؟

(پ) امروزه کدام یک از ویژگی‌های خلیج فارس باعث حفظ اهمیت آن شده است؟

(۱) الف) نقش ارتباطی بین سه قاره آفریقا، اروپا و آسیا، (ب) به دلیل تبدیل خلیج فارس به کانون صادرات کالاهای صنعتی و غیرصنعتی، (پ) وجود ذخایر با ارزش نفتی جهان

(۲) الف) وجود خلیج فارس در مرکز و قلب ناحیه جغرافیایی و فرهنگی جهان اسلام، (ب) به دلیل بازار مصرف بزرگ، (پ) وجود تنگه‌ها و آبراهه‌های بین‌المللی

(۳) الف) وجود خلیج فارس در مرکز و قلب ناحیه جغرافیایی و سیاسی جهان اسلام، (ب) به دلیل درآمدها و دلارهای ناشی از صدور و فروش نفت خام، (پ) حلقه‌ای از زنجیره حمل و نقل کالا و نفت

(۴) الف) نقش خلیج فارس در تغییر موازنه قدرت در جهان، (ب) به دلیل بازار مصرف بزرگ و صادرات نفتی و غیرنفتی، (پ) ارزش و نقش ارتباطی میان سه قاره آفریقا، اروپا و آسیا

۱۱۸- صحیح یا غلط بودن عبارات زیر به ترتیب در کدام گزینه آمده است؟

الف) رشته کوه ارسباران در شمال منطقه کوهستانی آذربایجان قرار دارد.

(ب) سرزمین‌های کوهستانی همیشه کمتر از هزار متر از سطح دریاهای آزاد ارتفاع دارند.

(ج) نام دیگر رشته کوه ارسباران (قوشه داغ) می‌باشد.

(د) کوهستان‌های ایران با توجه به تاریخچه زمین‌شناسی، تحولات ناهمواری‌ها، شکل و پراکندگی تقسیم‌بندی می‌شوند.

(۱) غ - ص - غ - ص (۲) ص - غ - ص - ص (۳) غ - ص - ص - غ (۴) ص - غ - غ - ص

۱۱۹- پاسخ درست پرسش‌های زیر در ارتباط با منطقه کوهستانی شمال کشورمان در کدام گزینه به ترتیب آمده است؟

الف) دو توده کوهستانی آتشفشانی منطقه کوهستانی آذربایجان کدام‌اند؟

(ب) کوهستان‌های تالش با چه جهتی، منطقه آذربایجان را از کناره‌های دریای خزر جدا کرده است؟

(ج) فعالیت‌های آتشفشانی در چه دوره‌ای سبب شکل‌گیری قله دماوند شده است؟

(د) شیب عمومی کوه‌های تالش به کدام سمت بیش‌تر است؟

(۱) الف) قوشه داغ و فرخ بلاغ، (ب) شرقی - غربی، (ج) ترشباری، (د) منطقه آذربایجان

(۲) الف) قوشه داغ و فرخ بلاغ، (ب) شمالی - جنوبی، (ج) ترشباری، (د) دریای خزر

(۳) الف) سبلان و سهند، (ب) شرقی - غربی، (ج) کوتاه‌تر، (د) منطقه آذربایجان

(۴) سبلان و سهند، (ب) شمالی - جنوبی، (ج) کوتاه‌تر، (د) دریای خزر

۱۲۰- روند عوامل طبیعی تغییردهنده زاگرس در کدام گزینه به ترتیب آمده است؟

(۱) نوسانات جریان آب رودها ← تغییرات اقلیمی ← تغییر شکل رودها از منظم به نامنظم ← ریزش‌های جوی شدید ← طغیان رودها

← فرسایش کوه‌ها ← حمل رسوبات توسط رودها ← شکل‌گیری ناهمواری‌های جدید

(۲) نوسانات جریان آب رودها ← تغییرات اقلیمی ← ریزش‌های جوی شدید ← طغیان رودها ← تغییر شکل رودها از منظم به طغیانی

← فرسایش کوه‌ها ← حمل رسوبات کوه‌ها توسط رودها ← شکل‌گیری ناهمواری‌ها

(۳) تغییرات اقلیمی ← نوسانات جریان آب رودها ← تغییر شکل رودها از منظم به طغیانی شدن ← ریزش‌های جوی شدید ← فرسایش کوه‌ها و

قرار گرفتن مواد آن‌ها در دسترس رودها ← طغیان رودها ← حمل رسوبات توسط رودها ← شکل‌گیری ناهمواری‌های جدید

(۴) ریزش‌های جوی شدید ← نوسانات جریان آب رودها ← تغییرات اقلیمی ← طغیان رودها ← تغییر شکل رودها از منظم به نامنظم ← حمل

رسوبات توسط رودها ← شکل‌گیری ناهمواری‌های جدید



جامعه‌شناسی (۱)

دوره‌ی کل مباحث گذشته

جهان‌های اجتماعی

درس (۱) تا پایان درس (۵)

صفحه‌ی ۳۳ تا ۳۷

وقت پیشنهادی: ۱۰ دقیقه

۱۲۱- به ترتیب پاسخ صحیح هر یک از پرسش‌های زیر در کدام گزینه به درستی ذکر شده است؟

(الف) انسان‌ها به چه دلیل نمی‌توانند به زبانی که با آن آشنا نیستند سخن بگویند؟

(ب) وصف پیامدهای ارادی کنش انسانی در کدام گزینه به درستی ذکر شده است؟

(ج) خودداری انسان‌ها از انجام دادن برخی کنش‌ها به چه علت است؟

(۱) (الف) عدم وجود آگاهی، (ب) قطعی است یعنی حتماً انجام می‌شود. (ج) وجود پیامدهای غیرارادی

(۲) (الف) عدم وجود هدف، (ب) وابسته به اراده‌ی انسان‌هاست. (ج) وجود پیامدهای غیرارادی

(۳) (الف) عدم وجود هدف، (ب) قطعی است یعنی حتماً انجام می‌شود. (ج) پیامدهای نامطلوبشان

(۴) (الف) عدم وجود آگاهی، (ب) وابسته به اراده‌ی انسان‌هاست. (ج) پیامدهای نامطلوبشان

۱۲۲- کدام گزینه به ترتیب صحیح و غلط بودن عبارات زیر را به درستی نشان می‌دهد؟

(الف) هنجار اجتماعی، شیوه‌ی انجام کنش اجتماعی است که مورد قبول افراد جامعه قرار گرفته است.

(ب) شکل‌گیری کنش‌های اجتماعی مؤخر بر ایجاد ارزش‌های اجتماعی است.

(پ) پدیده‌های اجتماعی را انسان‌ها در ارتباط با یکدیگر به وجود می‌آورند.

(ت) پدیده‌های اجتماعی به مرور، از انسان‌هایی که آن‌ها را به وجود آورده‌اند مستقل می‌شوند.

(۱) غ - غ - ص - غ (۲) ص - غ - ص - ص (۳) ص - ص - غ - غ (۴) ص - غ - غ - ص

۱۲۳- عضویت اعضا در بدن موجودات زنده و نظم آن‌ها ... است؛ یعنی براساس آگاهی و اراده‌ی اعضا به وجود نمی‌آید و به همین دلیل با اراده‌ی اعضا تغییر

نمی‌کند؛ ولی عضویت در جهان اجتماعی، ... است؛ یعنی با اراده و آگاهی انسان‌ها تعریف می‌شود و با قرارداد آن‌ها به وجود می‌آید. عامل تداوم

جهان اجتماعی ... نیست بلکه انتقال ... است.

(۱) تکوینی - اعتباری - وراثت - فرهنگ

(۳) تکوینی - اعتباری - ژنتیک - جامعه‌پذیری

۱۲۴- در رابطه با جهان اجتماعی، کدام یک از گزینه‌های زیر نادرست است؟

(۱) خانواده حاصل کنش‌های اجتماعی انسان‌ها است.

(۳) احترام به قانون یک کنش اجتماعی است.

(۴) امنیت و صلح حاصل کنش‌های اجتماعی انسان‌ها هستند.

۱۲۵- ورود پدیده‌های ... به جهان اجتماعی باعث گسترش آن می‌شود. هر یک از موجوداتی که بیرون جهان ... قرار دارند؛ به واسطه‌ی ارتباطی که با

زندگی ... انسان‌ها پیدا می‌کنند، در گستره‌ی جهان ... قرار می‌گیرند.

(۱) طبیعی، اجتماعی، طبیعی، طبیعی

(۴) اجتماعی، اجتماعی، طبیعی، اجتماعی

یکی از راه‌های پاسخ‌گویی به سؤالات در زمان تعیین شده پاسخ سریع به سؤالات ترکیبی است روش حذف گزینه را حتماً استفاده نمایید.

۱۲۶- اگر پدیده‌های اجتماعی زیر را از نظر خرد یا کلان بودن در یک پیوستار قرار دهیم، هر یک از عبارات زیر در کدام طیف قرار می‌گیرند؟ (به ترتیب)

- بیکاری فردی که خود شایستگی و مهارت لازم را ندارد؛

- بیکاری افراد یک شهر که سیستم اطلاع رسانی مناسبی در شهر آن‌ها وجود ندارد؛

- بیکاری در سطح یک کشور که به دلیل معضلات مدیریتی به وجود آمده است.

(۱) بیکاری به عنوان پدیده خرد - بیکاری به عنوان پدیده میانه - بیکاری به عنوان پدیده کلان

(۲) بیکاری به عنوان پدیده میانه - بیکاری به عنوان پدیده خرد - بیکاری به عنوان پدیده کلان

(۳) بیکاری به عنوان پدیده خرد - بیکاری به عنوان پدیده کلان - بیکاری به عنوان پدیده میانه

(۴) بیکاری به عنوان پدیده کلان - بیکاری به عنوان پدیده میانه - بیکاری به عنوان پدیده خرد

۱۲۷- به ترتیب هر یک از پدیده‌های اجتماعی در کدام یک از قسمت‌های الف، ب و یا ج در پیوستار زیر قرار می‌گیرند؟

- اعتقاد به چشم زخم

- ساختمان سازمان ملل متحد

- شهر

- عدالت اجتماعی



(۴) ج، الف، ب، ب

(۳) ب، ج، الف، ب

(۲) ج، الف، ب، ج

(۱) ب، الف، الف، ج

۱۲۸- چند مورد از عبارات زیر نادرست است؟

الف) هر نهاد اجتماعی شیوه قابل قبول تأمین بعضی از نیازهای افراد را معین می‌سازد ولی نمی‌تواند شیوه‌های غیرقابل قبول را طرد کند.

ب) نهادها در تمامی جهان‌های اجتماعی وجود دارند و خانواده، تعلیم و تربیت و اقتصاد از مهم‌ترین نهادهای اجتماعی هستند.

پ) عقاید و ارزش‌ها در لایه‌های عمیق جهان اجتماعی قرار می‌گیرند.

ت) لایه‌های عمیق جهان اجتماعی تأثیرات همه‌جانبه دارند و بیش‌تر در معرض تغییر هستند.

(۴) یک

(۳) دو

(۲) سه

(۱) چهار

۱۲۹- پاسخ درست پرسش‌های زیر در کدام گزینه به ترتیب آمده است؟

الف) انسان در قبال فرهنگی که از طریق تربیت به او منتقل می‌شود، چگونه موجودی است؟

ب) تفاوت‌هایی که مربوط به لایه‌های سطحی جهان اجتماعی باشد، از چه نوع تفاوت‌هایی است؟

پ) تنوع آگاهی و معرفت انسان‌ها، سبب چه چیزی می‌شود؟

(۱) کنشگری فعال و تأثیرگذار نیست - تفاوت‌های میان جهان‌های اجتماعی مختلف است - تنوع اراده و اختیار انسان‌ها

(۲) موجودی منفعل و پذیرنده نیست - تفاوت‌هایی که درون یک جهان اجتماعی پذیرفته نمی‌شود - پیدایش جهان‌های اجتماعی مختلف

(۳) کنشگری فعال و تأثیرگذار است - تفاوت‌هایی که درون یک جهان اجتماعی واحد رخ می‌دهد - پیدایش جهان‌های اجتماعی مختلف

(۴) موجودی منفعل و پذیرنده است - تفاوت‌های میان جهان‌های اجتماعی مختلف است - تنوع اراده و اختیار انسان‌ها

۱۳۰- کدام یک از عبارات‌های زیر درباره دیدگاه کسانی که نگاه تک‌خطی به تاریخ بشر دارند، درست نیست؟

الف) از نظر آنان همه جهان‌های اجتماعی شبیه یکدیگرند.

ب) بعضی از جوامع در مسیر واحد، پیشرفته‌ترند و بعضی در مقایسه با جوامع پیشرفته، عقب‌مانده‌اند.

پ) هر جهان اجتماعی، فرهنگ و تمدن مناسب خود را به وجود می‌آورد و جهان‌های اجتماعی متنوع‌اند.

ت) در این دیدگاه جهان‌های اجتماعی مختلف با روابط متقابلی که دارند می‌توانند از تجربیات یکدیگر استفاده کنند.

ث) جوامع عقب‌مانده به لحاظ تاریخی، باید جوامع پیشرفته را الگوی حرکت خود قرار دهند.

(۴) ب و ث

(۳) پ و ت

(۲) ت و ث

(۱) الف و پ



منطق

دوره‌ی کل مباحث گذشته

درس (۱) تا پایان درس (۴)

صفحه‌ی ۳۸ تا ۳

وَمَتَّ بِبَشَارِك: ۱۵ رِصِمَه

۱۳۱- کدام عبارت، در بیان حیطة کاربرد منطق، کامل‌تر است؟

- (۱) نیازمندی انسان به آن در سراسر زندگی، برای درست فکر کردن و درست تصمیم گرفتن
- (۲) نیازمندی انسان به آن در محیط تحصیلی، برای درست تعریف کردن و درست استدلال کردن
- (۳) همچون ابزاری در خدمت سایر علوم و دانش‌ها بودن
- (۴) کاربردی بودن منطق به معنای ایجاد تبخّر در آن با تمرین و ممارست

۱۳۲- بین مفاهیم «شکل و دایره»، «دانشجو و شاعر»، «به‌ترتیب» کدام‌یک از نسب اربع برقرار است و اگر بخواهیم

با دو دایره آن‌ها را نشان دهیم دایره‌ها چگونه خواهند بود؟

- (۱) عموم و خصوص من‌وجه - تباین - متداخل - متخارج
- (۲) عموم و خصوص مطلق - عموم و خصوص من‌وجه - متخارج - متقاطع
- (۳) عموم و خصوص مطلق - عموم و خصوص من‌وجه - متداخل - متقاطع
- (۴) عموم و خصوص من‌وجه - عموم و خصوص مطلق - متقاطع - متداخل

۱۳۳- تمامی اسامی خاص و مفهیمی که با «این» و «آن» مشخص می‌شوند ... هستند؛ مانند ... و ...

- (۱) کلی - زحل - کتاب
- (۲) جزئی - حضرت محمد (ص) - دریای خزر
- (۳) کلی - پسر نوح - مولود کعبه
- (۴) جزئی - درخت چنار - مشهد

۱۳۴- در منطق، به مبحث الفاظ توجه خاصی می‌شود، چون ...

- (۱) در الفاظ خطا رخ می‌دهد.
- (۲) منطق می‌تواند از خطای در الفاظ جلوگیری کند.
- (۳) خطای در الفاظ، باعث خطا در اندیشیدن می‌شود.
- (۴) خطای در الفاظ، جزء خطاهای منطقی است.

۱۳۵- به‌ترتیب تعاریف «بهمن به اندیشه نیک» و «انسان به حیوانی که دارای قدرت تعقل است» جزء کدام‌یک از تعاریف محسوب می‌شوند؟

- (۱) مفهومی - لغوی
- (۲) لغوی - تعریف از طریق ذکر مصادیق
- (۳) مفهومی - مفهومی
- (۴) لغوی - مفهومی

۱۳۶- در یک دسته بندی، معمولاً از مفاهیم ... آغاز می‌کنیم و به مفهوم ... می‌رسیم و لازم است ... رابطه عموم و خصوص مطلق داشته باشند.

- (۱) عام - خاص - هر طبقه از مفاهیم نسبت به مفاهیم طبقه دیگر
- (۲) عام - خاص - اقسام مختلف یک مفهوم نسبت به یکدیگر
- (۳) خاص - عام - هر طبقه از مفاهیم نسبت به مفاهیم طبقه دیگر
- (۴) خاص - عام - اقسام مختلف یک مفهوم نسبت به یکدیگر

۱۳۷- در تعریف، «کودک» به «عشق زندگی» و تعریف «اکسیژن» به «نوعی عنصر گازی شکل» کدام یک از شرایط تعریف صحیح، رعایت نشده است؟

- (۱) جامع بودن - دوری نبودن (۲) مانع بودن - واضح بودن (۳) واضح بودن - مانع بودن (۴) دوری نبودن - جامع بودن

۱۳۸- به‌ترتیب هر کدام از موارد زیر در زمره کدام نوع تعریف قرار می‌گیرد؟

- ناتوان: قاصر

- نبی: کسی که از عالم غیب خبر می‌دهد؛ معجزه ارائه می‌کند و انسان‌ها را به سوی اطاعت از خدا فرا می‌خواند.

- جنون: دیوانگی

- غذا: قورمه سبزی، سبزی پلو با ماهی، کباب و امثال آن‌ها

- (۱) مفهومی - از طریق ذکر مصادیق - لغوی - مفهومی
- (۲) لغوی - مفهومی - لفظی - از طریق ذکر مصادیق
- (۳) از طریق ذکر مصادیق - مفهومی - لفظی - از طریق ذکر مصادیق
- (۴) لفظی - از طریق ذکر مصادیق - لغوی - مفهومی

۱۳۹- کدام عبارت، می‌تواند دلیل تقسیم شدن منطق به دو بخش تعریف و استدلال باشد؟

- (۱) استفاده از تصورات معلوم برای کشف تصور مجهول
- (۲) استفاده از تصدیقات معلوم برای کشف تصدیق مجهول
- (۳) وجود حکم و قضاوت در تصدیق و عدم آن در تصور
- (۴) جلوگیری از خطای اندیشه به عنوان یکی از وظایف علم منطق

۱۴۰- در هر زبانی، گاه چند معنای متعدد به کمک یک لفظ واحد بیان می‌شوند؛ در این صورت ...

- (۱) مغالطه اشتراک لفظ به وجود می‌آید.
- (۲) خطای ذهنی پدید می‌آید.
- (۳) بین لفظ و معنی‌اش دلالت التزامی وجود دارد.
- (۴) ممکن است مغالطه‌ای وجود نداشته باشد.

بعد از این‌که به سؤالات تستی درس منطق پاسخ دادید بهترین پیشنهاد بررسی پاسخ‌های تشریحی هر تست است چرا که نکات غلط سایر گزینه‌ها در پاسخ تشریحی به‌طور کامل ذکر شده است.

نظر خواهی (سوال های نظم حوزه): آیا مقررات آزمون اجرا می‌شود؟

دانش آموزان گرامی؛ لطفاً در هنگام پاسخ‌گویی به سؤال‌های زیر، به شماره‌ی سؤال‌ها دقت کنید.

۲۸۸- آیا پشتیبان شما از آزمون گذشته تاکنون با شما تماس تلفنی گرفته است؟

- ۱) خیر، ایشان تماس تلفنی نگرفتند.
- ۲) بله، ایشان تماس تلفنی گرفتند.
- ۳) بله، تماس تلفنی ایشان از لحاظ زمانی (در حد ۵ دقیقه) و از لحاظ محتوا در حد خوب و کافی بود.
- ۴) بله، تماس تلفنی ایشان از لحاظ زمانی (بیش از ۵ دقیقه) و از لحاظ محتوا در حد عالی بود.

تماس تلفنی: چه زمانی؟

۲۸۹- پشتیبان چه زمانی با شما تماس گرفت؟

- ۱) در زمان مناسب طبق توافق قبلی (قبلاً در مورد روز و ساعت تماس توافق کرده بودیم)
- ۲) در زمان مناسب تماس گرفت (البته قبلاً در مورد روز و ساعت تماس توافق نکرده بودیم)
- ۳) در روز پنج‌شنبه (روز قبل از آزمون) تماس گرفت.
- ۴) در روز یا ساعت نامناسب تماس گرفت.

تماس تلفنی: چند دقیقه؟

۲۹۰- پشتیبان شما چند دقیقه با شما تماس تلفنی داشت؟

- ۱) یک دقیقه تا سه دقیقه
- ۲) ۳ دقیقه تا ۵ دقیقه
- ۳) بین ۵ تا ۱۰ دقیقه
- ۴) بیش از ۱۰ دقیقه

تماس پشتیبان با اولیا

۲۹۱- آیا پشتیبان شما طی یک ماه گذشته تا کنون با اولیای شما تماس تلفنی داشته است؟

- ۱) بله، یک تماس تلفنی مستقل با ایشان داشته است.
- ۲) بله، هنگامی که با من گفت‌وگو کرد با والدینم نیز سخن گفت.
- ۳) نمی‌دانم، شاید تماس گرفته باشد.
- ۴) خیر، ایشان هنوز با اولیای من تماس نگرفته است.

بررسی دفتر برنامه‌ریزی

۲۹۲- آیا پشتیبان شما طی یک ماه گذشته تا کنون دفتر برنامه‌ریزی شما را بررسی کرده است؟

- ۱) پشتیبان من دفتر برنامه‌ریزی‌ام را با دقت بررسی کرد.
- ۲) پشتیبان من دفتر برنامه‌ریزی‌ام را بررسی کرد.
- ۳) پشتیبان من دفتر برنامه‌ریزی‌ام را بررسی نکرد.
- ۴) من دفتر برنامه‌ریزی ندارم.

کلاس رفع اشکال

۲۹۳- آیا در کلاس رفع اشکال پشتیبان شرکت می‌کنید؟

- ۱) بله، امروز در کلاس رفع اشکال پشتیبان خودم شرکت خواهم کرد.
- ۲) بله، در کلاس پشتیبان دیگر شرکت خواهم کرد (زیرا به آن درس نیاز بیش تری دارم)
- ۳) پشتیبان من کلاس رفع اشکال برگزار می‌کند اما من امروز شرکت نمی‌کنم.
- ۴) پشتیبان من کلاس رفع اشکال برگزار نمی‌کند.

شروع به موقع

۲۹۴- آیا آزمون در حوزه‌ی شما به موقع شروع می‌شود؟

- ۱) بله، هر دو مورد به موقع و دقیقاً سر وقت آغاز می‌شود.
- ۲) پاسخ‌گویی به نظر خواهی راس ساعت آغاز نمی‌شود.
- ۳) پاسخ‌گویی به سؤال‌های علمی راس ساعت آغاز نمی‌شود.
- ۴) در هر دو مورد بی‌نظمی وجود دارد.

متأخرین

۲۹۵- آیا دانش‌آموزان متأخر در محل جداگانه متوقف می‌شوند؟

- ۱) خیر، متأسفانه تا زمان شروع آزمون (و حتی گاهی اوقات پس از آن) داوطلبان متأخر در حال رفت و آمد در سالن آزمون هستند.
- ۲) این موضوع تا حدودی رعایت می‌شود اما نه به طور کامل
- ۳) بله، افراد متأخر ابتدا متوقف می‌شوند و بعداً وارد حوزه می‌شوند اما در هنگام ورود، سروصدا و همهمه ایجاد می‌شود.
- ۴) بله، افراد متأخر بعداً وارد حوزه می‌شوند ضمناً برای آنان محل جداگانه‌ای در نظر گرفته شده و بی‌نظمی و سروصدا ایجاد نمی‌شود.

مراقبان

۲۹۶- عملکرد و جدیت مراقبان آزمون امروز را چگونه ارزیابی می‌کنید؟

- ۱) خیلی خوب
- ۲) خوب
- ۳) متوسط
- ۴) ضعیف

پایان آزمون - ترک حوزه

۲۹۷- آیا در حوزه‌ی شما به داوطلبان قبل از پایان آزمون اجازه‌ی خروج زودهنگام داده می‌شود؟

- ۱) بله، قبل از پایان آزمون اجازه‌ی ترک حوزه داده می‌شود.
- ۲) گاهی اوقات
- ۳) به ندرت
- ۴) خیر، هیچ‌گاه

ارزیابی آزمون امروز

۲۹۸- به طور کلی کیفیت برگزاری آزمون امروز را چگونه ارزیابی می‌کنید؟

- ۱) خیلی خوب
- ۲) خوب
- ۳) متوسط
- ۴) ضعیف