

دفترچه شماره ۱

آزمون شماره ۱۲

جمعه ۹۸/۰۹/۱۵



سوالات آزمون

پایه دهم انسانی

دوره دوم متوسطه

شماره داوطلبی:	نام و نام خانوادگی:
مدت پاسخگویی: ۱۲۰ دقیقه	تعداد کل سوالات: ۱۱۵

عناوین مواد امتحانی آزمون گروه آزمایشی علوم انسانی، تعداد سوالات و مدت پاسخگویی

ردیف	مواد امتحانی	تعداد سوال	شماره سوال		مدت پاسخگویی
			تا	از	
۱	فارسی ۱	۱۰	۱۰	۱	۱۰ دقیقه
۲	عربی، زبان قرآن ۱	۱۰	۲۰	۱۱	۱۰ دقیقه
۳	دین و زندگی ۱	۱۰	۳۰	۲۱	۱۰ دقیقه
۴	زبان انگلیسی ۱	۱۰	۴۰	۳۱	۱۰ دقیقه
۵	ریاضی و آمار ۱	۱۰	۵۰	۴۱	۱۵ دقیقه
۶	اقتصاد	۱۰	۶۰	۵۱	۱۰ دقیقه
۷	علوم و فنون ادبی ۱	۱۵	۷۵	۶۱	۱۵ دقیقه
۸	تاریخ ایران و جهان ۱	۱۰	۸۵	۷۶	۱۰ دقیقه
۹	جغرافیای ایران	۱۰	۹۵	۸۶	۱۰ دقیقه
۱۰	جامعه‌شناسی ۱	۱۰	۱۰۵	۹۶	۱۰ دقیقه
۱۱	منطق	۱۰	۱۱۵	۱۰۶	۱۰ دقیقه



۱- معنی چند واژه روبه‌روی آن نادرست نوشته شده است؟

«جافی: تنها / فرج: گشایش / مکاید: حيله / نمط: روش / هنگامه: بی‌وقت / شرف: بزرگواری / فلق: فجر / صبا: بادی که از طرف شمال شرقی وزد. / سودا: اندیشه / حَقّه: جعبه»

(۱) چهار (۲) سه (۳) دو (۴) یک

۲- در متن زیر چند غلط املائی وجود دارد؟

«بر قوت خود تکیه کردن و به زور و شجاعت خویش فریفته شدن، از هزم دور افتد، که شمشیر دو روی دارد، و این سپهر کوژپشت شوخ‌چشم روزکور است؛ مردان را نیکو نشناسد و غدر ایشان نداند، و گردش او اعتماد را نشاید.»

(۱) یک (۲) دو (۳) سه (۴) چهار

۳- در همه گزینیه‌ها «فعل به قرینه معنوی» حذف شده است، به جز.....

(۱) خواهی ز پل صراط آسان گذری
(۲) نوروز تو بهتر از شب قدر
(۳) بهتر از گوهر تو دست قضا
(۴) نان جوین خویش به از گندم کسان

نان ده به جهانیان که نان از همه به
روی تو نکوت‌تر از مه بدر
هیچ پیرایه بر زمانه نیست
هش دار پشت خود نکنی بهر نان دوتا

۴- در کدام بیت همه آرایه‌های «کنایه - حسن تعلیل - استعاره - تشبیه» وجود دارد؟

(۱) چو نقش، پا نهم از گلیم خود بیرون
(۲) در این زمانه که بر شرم پشت پا زده‌اند
(۳) ز مهر کاسه در یوزه (= گدایی) چون به کف دارد؟
(۴) به چشم ظاهر اگر تیرهام چو خاکستر

حصار عافیت من ز نقش پای من است
منم که روی نگاهم به پشت پای من است
اگر نه صبح گدای در سرای من است
هزار آینه‌رو، تشنه لقای من است

۵- نام پدیدآورنده کدام اثر نادرست است؟

(۱) قابوس‌نامه: عنصرالمعالی کیکاووس
(۲) گوشواره عرش: سیدعلی موسوی گرمارودی
(۳) الهی‌نامه: عطار نیشابوری
(۴) سیاست‌نامه: خواجه نصیرالدین توسی

۶- کدام گزینه با بیت «ای تو رمه سپرده به چوپان گرگ‌طبع / این گرگی شبان شما نیز بگذرد» تناسب معنایی بیش‌تری دارد؟

(۱) روشن‌دلی نماند به ظلمت‌سرای خاک
(۲) جزای نیک و بد خلق با خدای انداز
(۳) نهاد بد نپسندد خدای نیکوکار
(۴) در کهن‌سالی ندارد ظلم دست از کار خویش

برگ گلی به سایه خاری پدید نیست
که دست ظلم نماند چنین که هست دراز
امیر خفته و مردم ز ظلم او بیدار
رعشه، تیغ از پنجه قصاب نتواند گرفت

۷- کدام گروه از بیت‌ها با شعر «چندان تناوری و بلند / که به هنگام تماشا / کلاه از سر کودک عقل می‌افتد» تناسب معنایی دارند؟

(الف) نه بر اوج ذاتش پرد مرغ وهم
(ب) بر وصف تو دست عقل دانا نرسد
(ج) در وهم نیاید و صفت نتوان کرد
(د) عقل از تو چه دریابد تا وصف تو اندیشد؟
(ه) هرچه در وصف تو گویند به نیکویی، هست

نه بر ذیل وصفش رسد دست فهم
و ادراک ضمیر جان بینا نرسد
آن شادی‌ها که از غمت می‌بینم
در عقل نمی‌گنجی، در وصف نمی‌آیی
عیبت آن است که هر روز به طبعی دگری

(۲) الف - د - ه

(۱) ب - ج - د

(۴) الف - ب - د

(۳) ج - د - ه



۸- کدام گزینه با عبارت زیر تناسب معنایی بیش تری دارد؟

«غفلت کردم و فرجام کار غافلان چنین باشد و اکنون وقت حیلت است. هر چند تدبیر در هنگام بلا فایده بیش تر ندهد.»

- (۱) کار ما این بود کز خوبان نگه داریم دل
- (۲) بر طاعت خود تکیه مکن چون به حقیقت
- (۳) یکی به عاقبت کار خود نگر که نیست
- (۴) کار هر درد دگر آسان است

۹- کدام گزینه با ابیات زیر تناسب معنایی دارد؟

«چو خود را به چشم حقارت بدید
بلندی از آن یافت کواو پست شد

- (۱) گر در این بستان درختی سبز گرد بارور
- (۲) مرو زنهار در بستان که گر خاری به نادانی
- (۳) دل از بیم گنه مخراش و مخروش
- (۴) شبیم به آفتاب رسید از فروتنی

۱۰- همه گزینه‌ها با بیت «حدیث دوست نگویم مگر به حضرت دوست / که آشنا سخن آشنا نگه دارد» تناسب معنایی دارد، به جز

- (۱) عقل مخمور است و نامحرم چه داند راز ما؟
- (۲) ما اگر مکتوب ننویسیم عیب ما مکن
- (۳) مگوی راز غمش را به هر کس ای عاشق!
- (۴) به جرم عشق تو گر می‌کشند گو بکشندم



زبان عربی

■ عین الأصح و الأدق في الترجمة أو المفهوم أو المفردات (۱۷ - ۱۱):

۱۱- «ذَاكَ السَّلْطَانُ إِذَا يَقْدِرُ عَلَىٰ عَدُوِّهِ لَا يَجْعَلُ الْعَفْوَ عَنْهُ شُكْرًا لِلْقُدْرَةِ عَلَيْهِ!»:

- (۱) آن سلطان اگر بر دشمن قادر شود، بخشیدنش را شکرانه قدرت یافتن بر او قرار می‌دهد!
- (۲) این سلطان هرگاه دشمن خود را شکست داد، بخشیدن را شکرانه قدرت یافتن بر او قرار نداد!
- (۳) آن سلطان اگر بر دشمنانش قادر شود، بخشیدن آن‌ها را شکرانه قدرت یافتن بر آن‌ها قرار نمی‌دهد!
- (۴) آن سلطان هرگاه بر دشمنش قادر شود، بخشیدن او را شکرانه قدرت یافتن بر او قرار نمی‌دهد!


۱۲- «إِنْصَحُوا مَنْ يَرْمِي النَّفَايَاتِ فِي غَيْرِ مَكَانِهَا بِكَلَامٍ طَيِّبٍ وَ اشْكُرُوا مَنْ يُحَافِظُ عَلَى الْهُدُوءِ حِينَ الدُّخُولِ فِي الْمَكْتَبَةِ!»:

- (۱) کسی را که زباله را در غیر جایش ریخت، با کلامی خوب نصیحت کنید و از کسی که هنگام ورود به کتابخانه آرامش خود را حفظ کرد، سپاس‌گزاری کنید!
- (۲) کسی را که زباله‌هایش را در غیر مکان خود می‌ریزد، با سخنی نیکو نصیحت کردید و از کسی که زمان ورودش به کتابخانه‌ها آرامش را حفظ می‌کند، تشکر کردید!
- (۳) به کسی که زباله‌ها را در غیر جای خود پرت می‌کند، با سخنی خوب پند دهید و از کسی که هنگام ورود به کتابخانه آرامش را حفظ می‌کند، سپاس‌گزاری کنید!

(۴) به کسی که زباله‌ها را در غیر جایش می‌ریزد، با کلامی پاک پند دهید و از کسی که زمان خروج از کتابخانه آرامش را حفظ می‌کند، تشکر کنید!

۱۳- «كَانَ صَدِيقِي يَظُنُّ أَنَّ ظَاهِرَةَ مَطَرِ السَّمَكِ فَلَمْ خَيَالِي وَلَكِنْ بَعْدَ مَشَاهِدَةِ هَذِهِ الصُّورِ صَدَّقَهَا!»:

- (۱) دوستم گمان می‌کند که پدیده باران ماهی فیلمی خیالی است ولی بعد از دیدن این عکس، آن را باور کرد!
- (۲) دوستم گمان می‌کرد که پدیده باران ماهی فیلمی خیالی است ولی پس از دیدن این عکس‌ها آن را باور کرد!
- (۳) دوستم گمان کرد که پدیده باران ماهی فیلمی خیالی است اما بعد از دیدن آن عکس‌ها آن را باور کرد!
- (۴) دوستانم گمان می‌کردند که پدیده ماهی در باران فیلمی خیالی است ولی بعد از دیدن این عکس‌ها آن را باور کردند!



۱۴- عین الخطأ:

- (۱) أطلبوا العلم و لو في طريقه صعوبات كثيرة! دانش را بجویید، گرچه سختی‌های بسیاری در راه آن باشد!
- (۲) كَانَ عَلِيٌّ يَذْهَبُ لِإِعْلَاقِ حَنْفِيَةِ الْمَاءِ الَّتِي كَانَتْ مَفْتُوحَةً! علی برای بستن شیر آبی که باز بود می‌رفت!
- (۳) إِنَّكُمْ مَسْئُولُونَ حَتَّىٰ عَنِ الْبِقَاعِ وَ الْبَهَائِمِ! همانا شما حتی در برابر دریاها و چارپایان مسئول هستید!
- (۴) نَزُولُ التَّلْجِ مِنَ السَّمَاءِ صَيَّرَ الْأَرْضَ بَيْضَاءَ! بارش برف از آسمان، زمین را سفید گردانید!

۱۵- مَيِّزُ الْخَطَأِ فِي الْمُرَادِفِ أَوْ الْمُتَضَادِّ:

- (۱) النَّجْمُ = الْكَوْكَبُ
- (۲) الْمَغْلَقُ ≠ الْمَفْتُوحُ
- (۳) الْأَبْيَضُ ≠ الْأَسْوَدُ
- (۴) الرَّأْيُ ≠ الْإِقْتِرَاحُ

۱۶- «ارْحَمَ مَنْ فِي الْأَرْضِ يَرْحَمُكَ مَنْ فِي السَّمَاءِ» عَيْنُ الْأَقْرَبِ فِي الْمَقْهُومِ:

- (۱) الرَّاحِمُونَ يَرْحَمُهُمُ اللَّهُ!
- (۲) شُكْرُ نِعْمَتٍ، نِعْمَتٌ أَفْزُونُ كُنْدٍ / كَفَرُ نِعْمَتٍ أَزْ كَفْتِ بَيْرُونُ كُنْدٍ
- (۳) آسْمَانُ وَ رَيْسْمَانُ رَا سِرْ هِمُ بَا فْتِنُ!
- (۴) جِزْ رَاسْتِ نَبَايْدُ كَفْتِ، هِرْ رَاسْتِ نَشَايْدُ كَفْتِ!

۱۷- مَيِّزُ الصَّحِيحِ حَسَبِ الْوَاقِعِ:

- (۱) الْفَصْلُ الثَّانِي فِي السَّنَةِ الْإِيرَانِيَّةِ فَصْلُ الصَّيْفِ!
- (۲) الْيَوْمُ الرَّابِعُ مِنْ أَيَّامِ الْأَسْبُوعِ يَوْمُ الْأَرْبَعَاءِ!
- (۳) الْيَوْمُ الثَّانِي مِنْ أَيَّامِ الْأَسْبُوعِ يَوْمُ الْإِثْنَيْنِ!
- (۴) الْفَصْلُ الْأَوَّلُ فِي السَّنَةِ الْإِيرَانِيَّةِ فَصْلُ الْخَرِيفِ!

■ عَيْنُ الْمُنَاسِبِ فِي الْجَوَابِ عَنِ الْأَسْئَلَةِ التَّالِيَةِ (۲۰ - ۱۸):

۱۸- مَيِّزُ الْخَطَأِ فِي الْعَدَدِ أَوْ الْمَعْدُودِ:

- (۱) أَنْزَلَ الْعَامِلَ وَاحِدَةً وَ عَشْرِينَ بَضَاعَةَ مِنَ السَّيَّارَةِ!
- (۲) كَانَ تَيَّارُ الْكَهْرِبَاءِ فِي وَاحِدَةِ حَجْرَةٍ مَقْطُوعاً!
- (۳) قَدْ وَقَفَ سِتَّةَ جُنُودٍ أَمَامَ بَابِ الْمُنْظَمَةِ!
- (۴) هَذِهِ السُّورَةُ تُشْمَلُ تِسْعَ عَشْرَةِ آيَةٍ!

۱۹- عَيْنُ الصَّحِيحِ فِي تَعْيِينِ نَوْعِ بَابِ الْأَفْعَالِ:

- (۱) مَا اسْتَلَمْنَا: اسْتِفْعَالُ
- (۲) سَتَّعَجَبُونَ: اسْتِفْعَالُ
- (۳) انْقَلَبْتُمْ: افْتِعَالُ
- (۴) لَا نَنْتَظِرُ: افْتِعَالُ

۲۰- مَيِّزُ الْخَطَأِ عَنِ الْأَفْعَالِ التَّالِيَةِ:

- (۱) مَا احْتَفَلْتُ: فِعْلٌ مَاضِيٌّ - مَفْرَدٌ مُؤَنَّثٌ غَائِبٌ
- (۲) اسْتَشْفَلَنْ: فِعْلٌ أَمْرٌ - جَمْعٌ مُؤَنَّثٌ مُخَاطَبٌ
- (۳) تَحَدَّثْتِي: فِعْلٌ مُضَارِعٌ - مَفْرَدٌ مُؤَنَّثٌ مُخَاطَبٌ
- (۴) لَا تَتَكَلَّمْنَ: فِعْلٌ نَهْيٌ - جَمْعٌ مُؤَنَّثٌ مُخَاطَبٌ

دین و زندگی



DriQ.com

۲۱- مطابق آیه شریفه ﴿وَمَا يَهْدِكُنَا إِلَّا الدَّهْرُ﴾ چه کسانی نابودی خود را ناشی از گذشت روزگار می‌دانند و خداوند در پاسخ آن‌ها چه می‌فرماید؟

- (۱) غفلت‌کنندگان - این سخنی از روی ظن و گمان است، نه علم و آگاهی.
- (۲) کافران - این سخنی از روی ظن و گمان است، نه علم و آگاهی.
- (۳) غفلت‌کنندگان - آنان کسانی هستند که هرگز امیدی به هدایتشان نیست.
- (۴) کافران - آنان کسانی هستند که هرگز امیدی به هدایتشان نیست.

۲۲- اگر بخواهیم با استعانت از آیات شریفه قرآن کریم درباره دیدگاه گروهی که می‌کوشند راه غفلت از مرگ و فراموش کردن آن را پیش بگیرند

بحث کنیم، کدام گزینه هدایتگر ما خواهد بود؟

- (۱) «مَنْ آمَنَ بِاللَّهِ وَ الْيَوْمِ الْآخِرِ وَ عَمِلَ صَالِحاً فَلَا خَوْفَ عَلَيْهِمْ وَ لَا هُمْ يَحْزَنُونَ»
- (۲) «وَ مَا هَذِهِ الْحَيَاةُ الدُّنْيَا إِلَّا لَهْوٌ وَ لَعِبٌ»
- (۳) «وَ قَالُوا مَا هِيَ إِلَّا حَيَاتُنَا الدُّنْيَا»
- (۴) «وَ إِنَّ الدَّارَ الْآخِرَةَ لَهِيَ الْحَيَوَانُ»



- ۲۳- پیام و مفهوم فرمایش سید و سالار شهیدان در بیان «من مرگ را جز سعادت و زندگی با ظالمان را جز ننگ و خواری نمی بینم»، در کدام کلام وحیانی تجلی پیدا می کند؟
- ۱) «و ما هذِهِ الْحَيَاةُ الدُّنْيَا إِلَّا لَهْوٌ وَ لَعِبٌ وَ إِنَّ الدَّارَ الْآخِرَةَ لَهِيَ الْحَيَوَانُ لَوْ كَانُوا يَعْلَمُونَ»
 - ۲) «وَ قَالُوا مَا هِيَ إِلَّا حَيَاتُنَا الدُّنْيَا نَمُوتُ وَ نَحْيَى وَ مَا يَهْلِكُنَا إِلَّا الدَّهْرُ وَ مَا لَهُمْ بِذَلِكَ مِنْ عِلْمٍ إِنْ هُمْ إِلَّا يَظُنُّونَ»
 - ۳) «مَنْ آمَنَ بِاللَّهِ وَ الْيَوْمِ الْآخِرِ وَ عَمِلَ صَالِحًا فَلَا خَوْفٌ عَلَيْهِمْ وَ لَا هُمْ يَحْزَنُونَ»
 - ۴) «مَنْ كَانَ يُرِيدُ ثَوَابَ الدُّنْيَا فَعِنْدَ اللَّهِ ثَوَابُ الدُّنْيَا وَ الْآخِرَةِ»
- ۲۴- با توجه به آیات و روایات «باهوش ترین مؤمنان» و «زندگی دنیا از دیدگاه الهیون» با حفظ رتبه، در کدام گزینه به درستی بیان شده است؟
- ۱) متفکران در نظام آفرینش - «لَهُوَ وَ لَعِبٌ»
 - ۲) آنان که فراوان به یاد مرگ هستند - «وَ مَا يَهْلِكُنَا إِلَّا الدَّهْرُ»
 - ۳) آنان که فراوان به یاد مرگ هستند - «لَهُوَ وَ لَعِبٌ»
 - ۴) متفکران در نظام آفرینش - «وَ مَا يَهْلِكُنَا إِلَّا الدَّهْرُ»
- ۲۵- پیام مستفادشده از کلام گوهر بار رسول خدا (ص) که می فرمایند: «الْأَنْسَاءُ نِيَامٌ، فَإِذَا مَاتُوا، انْتَبَهَوْا»، با کدام آیه شریفه هم راستا می باشد و مبین چیست؟
- ۱) «وَ إِنَّ الدَّارَ الْآخِرَةَ لَهِيَ الْحَيَوَانُ» - زندگی دنیوی هم چون خوابی کوتاه و گذراست و زندگی حقیقی در جهان دگر معنا پیدا می کند.
 - ۲) «فَلَا خَوْفٌ عَلَيْهِمْ وَ لَا هُمْ يَحْزَنُونَ» - زندگی دنیوی هم چون خوابی کوتاه و گذراست و زندگی حقیقی در جهان دگر معنا پیدا می کند.
 - ۳) «فَلَا خَوْفٌ عَلَيْهِمْ وَ لَا هُمْ يَحْزَنُونَ» - باز شدن پنجره ای به روشنایی و نهرا سیدن از مرگ
 - ۴) «وَ إِنَّ الدَّارَ الْآخِرَةَ لَهِيَ الْحَيَوَانُ» - باز شدن پنجره ای به روشنایی و نهرا سیدن از مرگ
- ۲۶- وابستگی شخصیت انسان به جسم او تلازم همیشگی با کدام مفهوم را در پی خواهد داشت؟
- ۱) وجود یک محور تغییرناپذیر برای خود
 - ۲) عدم تحول در حقیقت و ذات انسان
 - ۳) تغییر مستمر شخصیت با گذران عمر
 - ۴) وجود درک روشن بدون نیاز استدلال برای ماهیت
- ۲۷- مطابق آیات قرآن کریم شیطان در روز قیامت چگونه پاسخ گناهکاران می دهد؟
- ۱) شما به زیبایی های دنیایی و لذت های آن رسیده اید و خودتان مسئول هستید.
 - ۲) اختلافات شما در دنیا شما را به این جا رسانده است و باید خودتان پاسخ گو باشید.
 - ۳) خداوند به شما وعده حق داد، اما من به شما وعده ای دادم و خلاف آن عمل نمودم.
 - ۴) من فقط در زندگی دنیایی بر شما تسلط داشتم و در این جا نمی توانم کمکی به شما کنم.
- ۲۸- عبارت «برخی هدف ها به گونه ای هستند که هدف های دیگر را نیز در بردارند و رسیدن به آن ها مساوی رسیدن به هدف های دیگر نیز هست.» مبین کدام مورد است؟
- ۱) و ما آسمان ها و زمین و آنچه بین آنهاست را به حق آفریدیم.
 - ۲) هر کس نعمت و پاداش دنیا را بخواهد، نعمت و پاداش دنیا و آخرت نزد خداست.
 - ۳) این دنیا جز سرگرمی و بازی نیست و سرای آخرت حقیقی است اگر می دانستند.
 - ۴) به راستی که پیامبران را همراه با دلایل روشن فرستادیم ... تا مردم به اقامه عدل و داد برخیزند.
- ۲۹- فرو رفتن در گرداب آلودگی ها معلول چه چیزی است و از پیامدهای کدام دیدگاه نسبت به معاد می باشد؟
- ۱) عدم توانایی در خارج کردن فکر مرگ از ذهن - دهریون
 - ۲) قبول داشتن معاد بدون ایمان و باور قلبی - مادیون
 - ۳) پیش گرفتن راه غفلت از مرگ و فراموش کردن آن - مادیون
 - ۴) قدم گذاشتن در راه های فزاینده سرگردانی و یأس - دهریون
- ۳۰- آیه شریفه «إِنْ هُمْ إِلَّا يَظُنُّونَ» توصیف کننده کدام گفتار کافران می باشد و ثمره اعتقاد به معاد و سرای آخرت در کدام گزینه به درستی بیان شده است؟
- ۱) «وَ قَالُوا مَا هِيَ إِلَّا حَيَاتُنَا الدُّنْيَا» - «فَلَا خَوْفٌ عَلَيْهِمْ وَ لَا هُمْ يَحْزَنُونَ»
 - ۲) «وَ قَالُوا مَا هِيَ إِلَّا حَيَاتُنَا الدُّنْيَا» - «إِنَّ الدَّارَ الْآخِرَةَ لَهِيَ الْحَيَوَانُ»
 - ۳) «وَ مَا هَذِهِ الْحَيَاةُ الدُّنْيَا إِلَّا لَهْوٌ وَ لَعِبٌ» - «فَلَا خَوْفٌ عَلَيْهِمْ وَ لَا هُمْ يَحْزَنُونَ»
 - ۴) «وَ مَا هَذِهِ الْحَيَاةُ الدُّنْيَا إِلَّا لَهْوٌ وَ لَعِبٌ» - «إِنَّ الدَّارَ الْآخِرَةَ لَهِيَ الْحَيَوَانُ»



PART A: Grammar and Vocabulary

Directions: Questions 31-35 are incomplete sentences. Beneath each sentence you will see four words or phrases, marked (1), (2), (3), and (4). Choose the one word or phrase that best completes the sentence. Then mark your answer sheet.

- 31- If you outdoors in cold weather for several hours, you should wear clothes that will keep you warm.
1) are being 2) are going to be 3) will being 4) had to be
- 32- The city has installed a number of new benches at the playground so that can sit and watch their play.
1) parent / child 2) parents / children 3) parent / children 4) parents / child
- 33- When young people join the military, they promise to protect and their country with their lives.
1) create 2) defend 3) observe 4) collect
- 34- Don't drink during or before mealtimes. This will fill you up, and you will not eat your main meal fully.
1) drops 2) glasses 3) objects 4) liquids
- 35- I think John has to give up his to become a doctor because he gets sick at the sight of blood.
1) plan 2) right 3) sign 4) time

PART B: Reading Comprehension


Directions: In this part of the test, you will read a passage. The passage is followed by five questions. Answer the questions by choosing the best choice, (1), (2), (3), or (4). Then mark your answer sheet.

You've probably read stories or seen movies about treasure maps. Maybe a pirate was looking for buried treasure. Maybe an explorer was seeking a lost fortune. Most treasure maps are made up by storytellers, but one treasure map is very real and very old.

The Copper Scroll is a treasure map like no other. Instead of being written on paper or animal skin, this map is written on copper. The map is from the Middle East and is over 2,000 years old. Because it is made from copper, the map didn't hold up very well over time. Researchers had to cut the map into strips and then carefully put them back together.

The map's writing is difficult to read, so people aren't sure what it says. Most think the map lists the places where silver and gold were buried. But so far, none of the treasure listed on the map has been found. However, the map is still important. It has helped researchers learn more about how people spoke and wrote thousands of years ago.

- 36- What is the passage mostly about?
1) people who study old languages 2) treasure maps in fiction
3) life thousands of years ago 4) an old treasure map
- 37- How is the map different from other treasure maps?
1) It is written on copper instead of paper. 2) It describes an unreal treasure.
3) It comes from a story. 4) It is not important to researchers.
- 38- The underlined word "it" in the second paragraph refers to
1) The Copper Scroll 2) animal skin 3) Middle East 4) copper
- 39- Why are people unsure about what the treasure map says?
1) The map uses a secret code. 2) It is difficult to write on copper.
3) The map is difficult to read. 4) No one understands the language on the scroll.
- 40- What is an effect of the map being written on copper?
1) It is damaged. 2) It is worth a lot of money.
3) It is heavy. 4) It is easy to cut into strips.



۴۱- دو معادله $3x - 1 = 2(x + 1)$ و $\frac{1}{4}(x - a) = -2x + a^2$ دارای جواب‌های یکسان می‌باشند، عدد صحیح a کدام است؟

- (۱) -۳ (۲) -۲ (۳) ۳ (۴) ۲

۴۲- دو برابر ثلث عددی از سه برابر نصف آن ۲ واحد بیش تر است. آن عدد کدام است؟

- (۱) $\frac{1}{2}$ (۲) $\frac{2}{4}$ (۳) $-\frac{2}{4}$ (۴) $-\frac{1}{2}$

۴۳- مجموع جواب‌های معادله $(2 - x + x^2)^2 = 9$ کدام است؟

- (۱) صفر (۲) ۲ (۳) -۱ (۴) ۱

۴۴- اگر $x = \frac{1}{p}$ یکی از جواب‌های معادله $2x^2 + mx + 2 = m$ باشد، جواب دیگر کدام است؟

- (۱) $x = -\frac{1}{p}$ (۲) $x = 3$

- (۳) $x = -3$ (۴) $x = \frac{1}{p}$

۴۵- تفاضل عددی مثبت از معکوس آن برابر با ۲ است. آن عدد کدام است؟

- (۱) ۱ (۲) $\sqrt{2} - 1$ (۳) $\sqrt{2} + 1$ (۴) -۱

۴۶- در یک محلول شیمیایی نسبت جرم دو ماده M و N به ترتیب ۲ به ۵ است. اگر ۳۰۰ گرم از ماده M را به محلول اضافه کنیم، نصف محلول شامل M می‌گردد. جرم ماده N چند گرم است؟

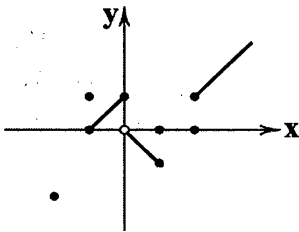
- (۱) ۵۰۰ (۲) ۷۰۰ (۳) ۴۰۰ (۴) ۶۰۰

۴۷- اگر $f = \{(0, a), (-a, 1), (1, -2), (0, 1-b), (1, a-b)\}$ تابع باشد، $f\left(\frac{b}{a}\right)$ کدام است؟

- (۱) -۱ (۲) ۱ (۳) -۲ (۴) $\frac{3}{2}$

۴۸- با حذف حداقل چند نقطه از شکل زیر یک تابع حاصل می‌گردد؟

- (۱) ۳ (۲) ۴ (۳) ۲ (۴) ۵



۴۹- اگر $A = \{0, -1, 1, 2\}$ و $B = \{1, 2, 5\}$ به ترتیب دامنه و برد تابع f باشد، ضابطه جبری f کدام می‌تواند باشد؟

- (۱) $y = 2x + 1$ (۲) $y = 3x + 1$

- (۳) $y = -3x - 1$ (۴) $y = x^2 + 1$

۵۰- تابع f به هر عدد حقیقی، ثلث مجذور ۲ واحد بیش تر از همان عدد را نسبت می‌دهد. $f(-5)$ کدام است؟

- (۱) -۳ (۲) ۱ (۳) -۱ (۴) ۳



۵۱- کدام گزینه تماماً نادرست است؟

- (۱) گاه انسان‌ها ممکن است در تشخیص دقیق منافع و هزینه‌ها اشتباه کنند که این اشتباه ناشی از اشتباه در «روش انتخاب» می‌باشد.
 (۲) مجموع دو مشکل کمبود منابع و محدودیت استفاده انسان‌ها از منابع، مفهومی با عنوان «کمیابی» را پدید می‌آورد.
 (۳) با توجه به حدیث شریف «من لا معاش له ...» درمی‌یابیم که اسلام در دسترس نبودن معاش را خطری می‌داند که اعتقادات انسان را به خطر می‌اندازد.
 (۴) یکی از عوامل اصلی آسیب‌پذیر بودن کشورها از نظر اجتماعی و سیاسی، نابسامانی وضعیت اقتصادی کشور می‌باشد.
- ۵۲- با راه‌اندازی خط تولید شیر پاستوریزه در یک کارخانه لبنیات، ماهیانه ۱۰۰ کیلوگرم شیر به ارزش هر کیلوگرم ۱۵,۰۰۰ تومان تولید می‌شود، ولی اگر به جای این پروژه به راه‌اندازی خط تولید پنیر پاستوریزه بپردازیم، ماهیانه ۱۲۰ کیلوگرم پنیر به ارزش هر کیلوگرم ۱۳,۰۰۰ تومان تولید خواهد شد. اگر بدانیم هزینه‌های تولیدی برای هر دو پروژه یکسان می‌باشد، با توجه به مبحث هزینه فرصت، به سوالات زیر پاسخ دهید:
- (الف) با توجه به منطق عقل، انتخاب تولیدکننده کدام گزینه خواهد بود؟
 (ب) هزینه فرصت کدام است؟

(ج) مقدار عایدی به دست آمده و از دست رفته در انتخاب و رد پروژه‌ها در طول یک سال به ترتیب چقدر می‌باشد؟

- (۱) الف: راه‌اندازی خط تولید شیر پاستوریزه ب: منافع راه‌اندازی خط تولید پنیر پاستوریزه ج: ۱,۵۶۰,۰۰۰ تومان - ۱,۵۰۰,۰۰۰ تومان
 (۲) الف: راه‌اندازی خط تولید پنیر پاستوریزه ب: منافع راه‌اندازی خط تولید شیر پاستوریزه ج: ۱۸,۷۲۰,۰۰۰ تومان - ۱۸,۰۰۰,۰۰۰ تومان
 (۳) الف: راه‌اندازی خط تولید پنیر پاستوریزه ب: منافع راه‌اندازی خط تولید شیر پاستوریزه ج: ۱,۵۰۰,۰۰۰ تومان - ۱,۵۶۰,۰۰۰ تومان
 (۴) الف: راه‌اندازی خط تولید شیر پاستوریزه ب: منافع راه‌اندازی خط تولید پنیر پاستوریزه ج: ۱۸,۰۰۰,۰۰۰ تومان - ۱۸,۷۲۰,۰۰۰ تومان
- ۵۳- کدام گزینه پاسخ درست سوالات زیر می‌باشد؟

(الف) کدام یک از عوامل تولید به طور مستقیم در تولید نقش ندارد و صرفاً با تبدیل به عوامل دیگر، تولیدکننده از طریق آن ارزش افزوده ایجاد می‌کند؟

(ب) کدام گروه از نیروهای انسانی با عنوان «سرمایه انسانی» شناخته می‌شوند؟

(ج) کدام گزینه تماماً درست می‌باشد؟

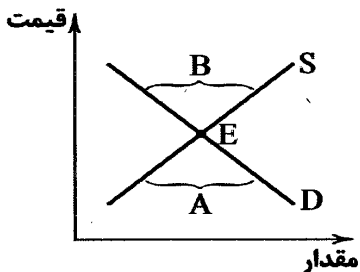
- (۱) الف: منابع طبیعی ب: متخصصان ج: تنها وظیفه انسان، ترکیب سایر عوامل تولید است؛ لذا مهم‌ترین عامل تولید به شمار می‌رود.
 (۲) الف: منابع طبیعی ب: متخصصان و کارآفرینان ج: سرمایه فیزیکی در واقع حاصل کار گذشته انسان‌ها است.
 (۳) الف: سرمایه مالی ب: متخصصان و کارآفرینان ج: تنها وظیفه انسان، ترکیب سایر عوامل تولید است؛ لذا مهم‌ترین عامل تولید به شمار می‌رود.
 (۴) الف: سرمایه مالی ب: متخصصان ج: سرمایه فیزیکی در واقع حاصل کار گذشته انسان‌ها است.

۵۴- با توجه به نمودار زیر، کدام گزینه پاسخ درست سوالات زیر می‌باشد؟

(الف) محدوده A چه نام دارد؟

(ب) محدوده B چه نام دارد؟

(ج) کدام گزینه تماماً درست می‌باشد؟



- (۱) الف: مازاد عرضه ب: کمبود تقاضا ج: هرگاه در بازار کمبود عرضه وجود داشته باشد، قیمت‌ها کاهش می‌یابد.
 (۲) الف: مازاد عرضه ب: کمبود عرضه ج: هرگاه در بازار کمبود عرضه وجود داشته باشد، قیمت‌ها افزایش می‌یابد.
 (۳) الف: مازاد تقاضا ب: کمبود عرضه ج: هرگاه در بازار کمبود عرضه وجود داشته باشد، قیمت‌ها کاهش می‌یابد.
 (۴) الف: مازاد تقاضا ب: کمبود تقاضا ج: هرگاه در بازار کمبود عرضه وجود داشته باشد، قیمت‌ها افزایش می‌یابد.



۵۵- هر یک از موارد زیر به ترتیب بیان‌کننده کدام یک از انواع مبادلات است؟

الف) دامداری که برای تهیه پوشاک مورد نیاز خود، ابتدا باید برای مبادله کالای اضافی خود به نانو مراجعه می‌کند تا بتواند فردی که پوشاک دارد را متقاعد به تبادل کند.

ب) در این نوع مبادله، یکی از مشکلات اساسی، سنگین بودن پول در حین مبادلات بزرگ بود.

ج) هزینه‌های گزاف جهت تأمین جا برای محافظت از کالاهای این مبادله از مشکلات اصلی آن بود.

د) مشکل اصلی این مبادله، محدود بودن عنصر اصلی تبادلات تلقی می‌شود.

۱) مبادلات تهاتر - مبادلات پول کالایی - مبادلات پول کالایی - مبادلات پول کالایی

۲) مبادلات پول کالایی - مبادلات پول کالایی - مبادله به وسیله پول‌های فلزی - مبادله به وسیله پول‌های فلزی

۳) مبادلات تهاتر - مبادله به وسیله پول‌های فلزی - مبادلات پول کالایی - مبادله به وسیله پول‌های فلزی

۴) مبادلات پول کالایی - مبادله به وسیله پول‌های فلزی - مبادله به وسیله پول‌های فلزی - مبادلات پول کالایی

۵۶- یک کارگاه اقتصادی مجهز به دستگاه‌هایی به ارزش ۶۸۰ میلیارد تومان می‌باشد که سالیانه مبلغ ۳۴ میلیارد تومان را به عنوان هزینه‌های استهلاک این تجهیزات در نظر گرفته است:

الف) عمر مفید این تجهیزات چند سال تخمین زده می‌شود؟

ب) اگر عمر مفید این تجهیزات ۱۷ سال در نظر گرفته شود و در ۴ سال آخر قیمت این تجهیزات ۲۰ درصد کاهش یافته باشد، مجموع هزینه استهلاک چهار سال آخر چقدر می‌باشد؟

ج) با توجه به اطلاعات قسمت «ب»، هزینه استهلاک در سال اول چقدر می‌باشد؟

۱) الف: ۲۰ سال ب: ۱۳۶ میلیارد تومان ج: ۴۰ میلیارد تومان

۲) الف: ۱۵ سال ب: ۱۳۶ میلیارد تومان ج: ۳۲ میلیارد تومان

۳) الف: ۲۰ سال ب: ۱۲۸ میلیارد تومان ج: ۴۰ میلیارد تومان

۴) الف: ۱۵ سال ب: ۱۲۸ میلیارد تومان ج: ۳۲ میلیارد تومان

۵۷- هر یک از ویژگی‌های زیر به ترتیب مربوط به کدام نوع بازار می‌باشد؟

الف) گاهی به دلایل قانونی یا طبیعی و گاه حتی غیرقانونی، تعداد فروشندگان به یک یا چند نفر محدود می‌شود.

ب) در این بازار، فروشندگان با افزایش قیمت به مشتریان و رفاه جامعه آسیب می‌رساند.

ج) حضور و رفتار فروشندگان تأثیر چندانی در قیمت‌گذاری ندارد.

د) عموماً خریدهای دولتی در این نوع بازار قرار می‌گیرند.

۱) انحصاری - انحصاری غیرقانونی - رقابتی - مناقصه

۲) انحصاری - رقابتی - رقابتی - انحصاری - مناقصه

۳) رقابتی - انحصاری - رقابتی - مناقصه

۴) رقابتی - انحصاری - مناقصه - انحصاری

۵۸- چند مورد از عبارات‌های زیر کاملاً درست هستند؟

الف) امروزه نقدینگی کل برابر مجموع مسکوکات و اسکناس‌های در گردش و خارج گردش (پس‌اندازهای خانگی) است.

ب) در کشوری که نرخ تورم ۱۰٪ کاهش یافته است، سطح عمومی قیمت‌ها کاهش و اجناس ارزان‌تر شده‌اند.

ج) پول وسیله پرداخت در مبادلات است، یعنی نقش اصلی پول آسان‌سازی مبادله است.

د) قدرت خرید پول، به سطح عمومی قیمت‌ها در جامعه بستگی دارد.

۱) ۱

۲) ۲

۳) ۳

۴) ۴

۵۹- شخصی با استفاده از گرد نوعی گل وحشی در مناطق شمالی کشور، اقدام به کاشت و پرورش این گیاه کرده است. او پس از چیدن آن‌ها، محصولات خود را به کارخانه‌ای جهت تولید دمنوش‌های کیسه‌ای فروخته است. کدام گزینه مراحل تولید و نوع محصولات تولیدشده

(به ترتیب از راست به چپ: گل و دمنوش‌های گیاهی) را به درستی بیان می‌کند؟

۱) حیازت ← احیا ← صنعت - کالای واسطه‌ای - کالای مصرفی

۲) حیازت ← احیا ← احیا - کالای واسطه‌ای - کالای مصرفی

۳) احیا ← صنعت ← صنعت - کالای مصرفی - کالای مصرفی

۴) احیا ← احیا ← صنعت - کالای مصرفی - کالای مصرفی



۶۰- کدام گزینه پاسخ درست پرسش‌های زیر است؟

الف) درآمد ملی چیست؟

ب) درآمد حقوق‌بگیران، درآمد صاحبان سرمایه و درآمد صاحبان املاک و مستغلات را در اصطلاح اقتصادی چه می‌گویند؟ (به ترتیب)

ج) شاخص سرانه چیست؟

۱) الف: مجموع درآمدهای که طی یک سال نصیب افراد داخل کشور می‌شود. ب: دستمزد، قیمت خدمات سرمایه، اجاره ج: سهم متوسط هر فرد جامعه از میزان درآمد جامعه

۲) الف: مجموع درآمدهای که طی یک سال نصیب افراد یک ملت می‌شود. ب: دستمزد، قیمت خدمات سرمایه، اجاره ج: سهم متوسط هر فرد جامعه در میزان تولید یا درآمد جامعه

۳) الف: مجموع درآمدهای که طی یک سال نصیب افراد داخل کشور می‌شود. ب: دستمزد، ربا، سود ج: سهم متوسط هر فرد جامعه از میزان درآمد جامعه

۴) الف: مجموع درآمدهای که طی یک سال نصیب افراد داخل کشور می‌شود. ب: دستمزد، ربا، سود ج: سهم متوسط هر فرد جامعه در میزان تولید یا درآمد جامعه

علوم و فنون ادبی



DriQ.com

۶۱- عبارت زیر، متعلق به کدام اثر است؟

«از هر شارستان، گرد کرد و بنشانند به فراز آوردن این نامه‌های شاهان و کارنامه‌هاشان و زندگانی هر یکی از داد و بیداد و آشوب و جنگ و

آیین، از گی نخستین که اندر جهان او بود که آیین مردی آورد و مردمان از جانوران پدید آورد، تا یزدگرد شهریار که آخر ملوک عجم بود، اندر

ماه محرم و سال بر سیصد و چهل و شش از هجرت بهترین عالم، محمد مصطفی صلی الله علیه و سلم»

۲) یادگار زریران

۱) تاریخ الرسل و الملوك

۴) شاهنامه فردوسی

۳) شاهنامه ابومنصور

۶۲- شعر «حکمی و اندرزی (تعلیمی)» در چه دوره‌ای به پختگی رسید؟

۴) غزنویان

۳) صفاریان

۲) سامانیان

۱) سلجوقیان

۶۳- چه کسی ملقب به «پدر شعر فارسی» است؟

۴) فرّخی سیستانی

۳) رودکی سمرقندی

۲) فردوسی توسی

۱) کسایی مروزی

۶۴- شعر غنایی در قرن چهارم و نیمه اول قرن پنجم توسط چه شاعرانی قوت و استحکام یافت؟

۲) سنایی - رودکی

۱) رودکی - شهید بلخی

۴) شهید بلخی - فردوسی

۳) فرّخی - انوری

۶۵- در زمان سامانیان، «عمده‌ترین مرکز فرهنگی» کدام شهر بود؟

۴) نیشابور

۳) تبریز

۲) سمرقند

۱) بخارا

۶۶- نخستین منطقه ایران که زبان «فارسی دری» در آن رواج یافت کدام است؟

۲) مشرق و شمال شرقی

۱) غرب

۴) نواحی مرکزی

۳) جنوب غربی

۶۷- «زبان پارتی» در زمان کدام پادشاهی در ایران رواج داشت؟

۴) ساسانیان

۳) اشکانیان

۲) مادها

۱) هخامنشیان

۶۸- در کدام گزینه آرایه «واج‌آرایی» محسوس‌تر است؟

چهره زرد خزان از نفس سرد من است

۱) گریه ابر بهار از دل پر درد من است

گر نه شرمنده ز حسن مه شبگرد من است

۲) به چه تقریب مه از هاله حصار شده است؟

جای رحم است بر آن کس که هم‌آورد من است

۳) غوطه در چشمه شمشیر زدن آسان نیست

سینه چاک گواه دل پردرد من است

۴) پسته پوچ محال است که خندان گردد



۶۹- در کدام گزینه آرایه «تشخیص» به چشم نمی‌خورد؟

- ۱) به خدا گل ز تو آموخت شکر خندیدن
- ۲) به خدا چرخ همان دید که من دیده‌ستم
- ۳) گفتم ای نی تو چنین زار چرا می‌نالی؟
- ۴) هرکه از ضعف خود اندر رخ مردان نگرد

۷۰- در کدام گزینه آرایه «واژه‌آرایی» به کار رفته است؟

- ۱) خیزیـد روان شوید یـاران
- ۲) مباش انـدر این بـوم، تیـره روان
- ۳) ز هر ناحیـت کاروان هـا روان
- ۴) وعده اهل کرم گنج روان

۷۱- در کدام گزینه نوع «را» متفاوت است؟

- ۱) بایـد ز سر این غـرور را رانـدن
- ۲) مگر کـان چـراغ آشنایـی دهد
- ۳) به سینـدخت فرمود پس نامـدار
- ۴) جان را سپـر تیر قضا سازد عشق

۷۲- کاربرد و معنی فعل «گسستن» در کدام گزینه متفاوت است؟

- ۱) عهد بستـی و شکستـی و ز ما بگسـتی
- ۲) ز من گسـتی و با دیگران بپیوستـی
- ۳) بگسـت از من و در سلسله‌مویی پیوست
- ۴) آن چنان دیوانگی بگسـت بنـد

۷۳- در کدام گزینه کاربرد واژه «قاتل» متفاوت است؟

- ۱) خاصه سیمـرغ کیست جز پدر روستم؟
- ۲) هیچ نبیند که رنج بیند یک روز
- ۳) بند خداوند را گشاد حرام است
- ۴) دهان خلق شـیرین از زبـانم

۷۴- کدام گزینه با بیت «هرکه می‌خواهد که از سنجیده‌گفتاران شود / بر زبان، بند گرانی از تأمل بایش» تناسب معنایی دارد؟

- ۱) هست بر نقص بصیرت رغبت دنیا دلیل
- ۲) می‌فزاید دستگاه طاعت از درماندگی
- ۳) از سبک‌سنگی چو کف با موج بودم هم‌عنان
- ۴) نرم نتوانست کردن آن دل چون سنگ را

۷۵- کدام گزینه با بیت «به دل می‌گفت: با دل نیست بازی / کنون باید به کارم حيله سازی» تناسب معنایی دارد؟

- ۱) همی جویـد وفا از خوب رویان
- ۲) بیای ای تازه گلبـرگ بهـاری
- ۳) چنان از کرده خود شرمساریم
- ۴) بدین خردی که آمد حبه دل

به خدا گه ز تو آموخت کمر بندیدن
ور ندیدی ز چه بودیش به سرگردیدن
گفت: خوردم دم او شرط بود نالیدن
از دو چشم کژ او فرض بود ترسیدن

تا هم چو روان صفا پذیرید
چنین است کردار چرخ روان
بسه دیدار آن صورت بی‌روان
و عده ناهل شد رنج روان

بایـد ز دل این غبار را رفتن
من تیـره را روشنایـی دهد
که رودابه را خیز پیش من آر
دل را هدف تیر بلا سازد عشق

عهد کردم که دگر عهد تو باور نکنم
مرا درست شد اکنون که عهد بشکستی
که دل خلق جهان در خم مویی دارد
که همه دیوانگان پنـدم دهند

قاتل ضحاک کیست جز پسر آبتین؟
ظالم در روزگار خویش و نه قاتل
کشتن قاتل بر این سخت نشان باد
چو زهر قاتل از تلخی دهانم

چشم می‌پوشد ز دنیا هرکه صاحب‌دیده شد
چار جانب قبله گردد قبله چون پوشیده شد
لنگر دریا شدم تا گفته‌ام سنجیده شد
گرچه خط سرنوشتم محو از آب دیده شد

دلـم را حدّ نادانی ببینید
بگو عـزم کـدامین باغ داری؟
که روی عذرخواهی هم نداریم
خداوند دو عالم راست منزل



- ۷۶- آمن هوتپ چهارم از فراغت دوره جدید، از چه راهی کوشید یگانه پرستی را در مصر ترویج نماید؟
- (۱) از طریق رواج اعتقاد به زندگی پس از مرگ
(۲) در شکل پرستش خدای خورشید
(۳) با دعوت مردم به تبعیت از پیامبران الهی
(۴) مبارزه با قدرت کاهنان
- ۷۷- کدام گزینه از ویژگی‌های ساکنین تمدن مینوسی است که قرن‌ها پیش از مهاجرت اقوام هند و اروپایی در یونان زندگی می‌کردند؟
- (۱) اساس زندگی آنان بر کشاورزی و دامداری استوار بود.
(۲) دولت - شهرهای آنان همواره با یکدیگر در حال رقابت و جنگ بودند.
(۳) قومی دریانورد بودند و با مناطق همجوار خود روابط بازرگانی داشتند.
(۴) برای گسترش سلطه سیاسی، اقتصادی و فرهنگی به آن سوی مرزها می‌کوشیدند.
- ۷۸- زمانی که تمدن چین مانند سومر و مصر شامل چندین دولت - شهر بود، چه کسانی بر قسمت‌های مختلف این کشور حکومت می‌کردند؟
- (۱) جنگاوران (۲) کاهنان (۳) نمایندگان شاه (۴) رؤسای قبایل
- ۷۹- کدام گزینه، توصیف درستی از «پریکلس» شخصیت معروف یونان باستان ارائه می‌دهد؟
- (۱) فیلسوف مشهور یونانی و شاگرد ارسطو که به پیشرفت فلسفه در یونان کمک شایانی کرد.
(۲) سردار بزرگ یونانی که پس از غلبه بر رقیبانش، حکومت یونان را از جمهوری به امپراتوری تبدیل کرد.
(۳) فرمانده نظامی دولت - شهر آتن که در جنگ‌های پلوپونزی و جنگ‌های یونان و ایران، سپاه آتنی‌ها را رهبری کرد.
(۴) سیاستمداری آزادی‌خواه که دولت - شهر آتن به رهبری وی، به سرعت در مسیر پیشرفت و توسعه‌طلبی سیاسی و نظامی گام برداشت.
- ۸۰- شی هوانگ‌تی برای رونق تجارت سرزمین‌های تحت فرمان خود، کدام یک از تدابیر زیر را به کار برد؟
- (۱) جاده مشهور ابریشم را بازگشایی کرد.
(۲) مقیاس وزن‌ها، اندازه‌ها و عیار سکه‌ها را یکسان کرد.
(۳) مالیات و عوارض تجارت خارجی را کاهش داد.
(۴) بر میزان صادرات ابریشم چین افزود.
- ۸۱- رواج کدام میراث تمدن ایرانی در قلمرو روم، بر فرهنگ و هنر رومی تأثیر چشمگیری گذاشت؟
- (۱) آیین مانی (۲) سفالگری ایران (۳) پرستش ایزدمهر (۴) معماری ایران
- ۸۲- کدام گزینه از اقدامات کنستانتین امپراتور روم باستان در قرن چهارم میلادی می‌باشد؟
- (۱) تبدیل نظام جمهوری رم به امپراتوری
(۲) رسمی کردن دین مسیحیت در امپراتوری روم
(۳) شکست بقایای حکومت سلوکیان و همسایه شدن با ایران
(۴) برگزیدن شهر بیزانتیوم به پایتختی امپراتوری روم
- ۸۳- سومین مرحله فعالیت باستان‌شناسان در کدام گزینه به درستی بیان شده است؟
- (۱) حفظ و مرمت آثار باستانی
(۲) حفاری
(۳) استخراج و تنظیم اطلاعات
(۴) کشف و شناسایی
- ۸۴- کدام مورد از تأثیرات تاریخ بر میهن‌دوستی و تقویت هویت ملی نمی‌باشد؟
- (۱) ارزش یافتن میراث فرهنگی به عنوان بخشی از هویت و شناسنامه ملی
(۲) خودآگاهی و یگانگی بیشتر مردم یک سرزمین
(۳) ارزیابی و شناخت درست اوضاع و شرایط کنونی جامعه خویش و نیز ترسیم افق آینده
(۴) پیدا کردن درک درستی از هویت و کیستی خود
- ۸۵- شمارش ماه و سال در گاه‌شماری «خورشیدی - قمری» بابلی چگونه بود؟
- (۱) سال شامل ۱۲ ماه ۲۹ یا ۳۰ روزه قمری بود که هر سه سال یک بار ۱۳ ماه می‌شد.
(۲) سال خورشیدی و شامل ۱۲ ماه ۳۰ روزه بود و پنج روز اضافی، به آخر ماه دوازدهم اضافه می‌شد.
(۳) سال شامل ۱۲ ماه ۲۹ یا ۳۰ روزه شمسی بود که هر سه سال یک بار ۱۳ ماه می‌شد.
(۴) سال قمری و شامل ۱۲ ماه ۲۹ یا ۳۰ روزه بود و پنج روز اضافی، به آخر ماه دوازدهم اضافه می‌شد.



۸۶- کدام گزینه شاخه‌های فنون جغرافیایی مرتبط با علوم فضایی را به درستی نشان می‌دهد؟

- (۱) نقشه‌کشی - کارتوگرافی
(۲) زمین‌شناسی - روش‌های کمی در جغرافیا
(۳) سنجش از دور - GIS
(۴) جغرافیای جمعیت - نقشه‌کشی

۸۷- حاصل روابط متقابل انسان و محیط، شکل‌گیری محیط‌های است.

- (۱) طبیعی
(۲) انسانی
(۳) جغرافیایی
(۴) ترکیبی

۸۸- کدام گزینه مربوط به سؤال کلیدی «چه چیز» در جغرافیا است؟

- (۱) به بررسی سیر تکوین و تحول پدیده می‌پردازد.
(۲) روابط متقابل انسان و محیط را مورد توجه قرار می‌دهد.
(۳) بر ماهیت هر پدیده یا مسئله، دلالت دارد.
(۴) با مکان وقوع پدیده‌ها سروکار دارد.

۸۹- عبارتهای زیر به ترتیب به کدام مراحل پژوهش در جغرافیا اشاره دارند؟

- (الف) پیشینه مسئله و نتایج پژوهش دیگران، مورد نیاز پژوهشگر است.
(ب) پژوهشگر با توجه به مسئله خود، پیشنهادها و خبرهای اولیه را در چارچوب مسئله پژوهش خود ارائه می‌کند.
(ج) در واقع، پژوهشگر باید ابزار سنجش و اطلاعاتی خود را به مکان مورد نظر ببرد.

- (۱) تدوین فرضیه - بیان مسئله - جمع‌آوری اطلاعات
(۲) بیان مسئله - تدوین فرضیه - پردازش اطلاعات
(۳) تدوین فرضیه - جمع‌آوری اطلاعات - بیان مسئله
(۴) بیان مسئله - تدوین فرضیه - جمع‌آوری اطلاعات

۹۰- گستردگی کشور ما در عرض جغرافیایی ۲۵ تا ۴۰ درجه در جنوب منطقه معتدله نیمکره شمالی، منجر به چه تحول مهمی شده است؟

- (۱) اختلاف شدید درجه حرارت روزانه و سالانه
(۲) تنوع آب و هوایی
(۳) شناخت بهتر توان‌های محیطی
(۴) موقعیت نسبی ممتاز

۹۱- کدام موارد از خصوصیات دریای عمان است؟

- (الف) تأمین ۹۰٪ از خاویار جهان
(ب) وجود سواحل با قابلیت‌های دفاعی مناسب
(ج) مهم‌ترین آبراهه راهبردی و گذرگاه تجاری مهم جهان است.
(د) از نظر اقتصادی و نظامی اهمیت بسیاری برای ایران دارد.
- (۱) الف - ب
(۲) الف - ج
(۳) ب - د
(۴) ب - ج

۹۲- کدام گزینه محدوده منطقه مکران را به درستی نشان داده است؟

- (۱) شمال استان سیستان و بلوچستان و جنوب استان خراسان جنوبی
(۲) جنوب استان سیستان و بلوچستان و اطراف چاله جازموزیان در کرمان
(۳) شمال استان کرمان و در اطراف باتلاق گاوخونی در اصفهان
(۴) جنوب استان هرمزگان، جنوب استان بوشهر و نزدیکی سواحل خلیج فارس

۹۳- عبارتهای زیر به ترتیب، جهت کدام مناطق کوهستانی در ایران را به درستی نشان می‌دهند؟

- (الف) جهت شمالی - جنوبی
(ب) امتداد غربی - شرقی
(۱) خراسان شمالی - آذربایجان
(۲) البرز - آذربایجان
(۳) تالش - البرز
(۴) زاگرس - تالش

۹۴- عبارتهای زیر به ترتیب، مربوط به علل پیدایش کدام دشت‌ها در ایران هستند؟

- (الف) در حد فاصل تاقدیس‌ها و یا در میان ناودیس‌ها ایجاد شده است.
(ب) بر اثر انباشت مواد حاصل از فرسایش در نواحی پست به وجود آمده است.
(ج) حاصل انحلال مواد آهکی و هموار شدن زمین‌ها است.
- (۱) کاکان - لوت - ماهی‌دشت
(۲) نهاوند - کاکان - ارژن
(۳) نهاوند - ماهی‌دشت - کاکان
(۴) کاکان - نهاوند - ارژن

۹۵- کدام گزینه دو مورد از مهم‌ترین علل پیدایش جلگه‌ها را به درستی نشان می‌دهد؟

- (۱) تخریب مواد - تغییرات آهکی
(۲) پراکندگی ریزش‌های جوی - طغیان رودخانه در بستر رود
(۳) اختلاف دما - آب‌های روان
(۴) ساختمان زمین - مقاومت سنگ‌ها



۹۶- هر یک از عبارات‌های زیر به ترتیب به کدام ویژگی‌های کنش اشاره دارد؟

- فردی که کنار رودخانه‌ای می‌رود، قصد ماهیگیری دارد یا می‌خواهد شنا کند.
- وقتی دانش‌آموزی در کلاس، دست خود را بالا می‌برد.
- ممکن است فردی به کاری آگاه باشد، ولی تصمیم به انجام آن نگیرد.

- (۱) ارادی بودن - معنادار بودن - آگاهانه بودن
(۲) آگاهانه بودن - هدفدار بودن - ارادی بودن
(۳) هدفدار بودن - معنادار بودن - ارادی بودن
(۴) معنادار بودن - هدفدار بودن - آگاهانه بودن

۹۷- با توجه به ویژگی‌های «الف: پیامدهای ارادی کنش» و «ب: پیامدهای غیرارادی کنش»، به ترتیب عبارات‌های زیر مربوط به کدام پیامد هستند؟

- این دسته از پیامدها، خودشان، کنش هستند و باید کنشگری آن‌ها را انجام دهد.
- این دسته از پیامدهای کنش، احتمالی است، یعنی ممکن است انجام بشود یا نشود.
- بعضی از پیامدهای کنش، کنش نیستند که لازم باشد کنشگری آن‌ها را اراده کند.
- بعضی از پیامدهای کنش به اراده افراد انسانی بستگی ندارند، بلکه نتیجه طبیعی کنش هستند.

- (۱) الف - ب - الف - ب
(۲) الف - الف - ب - ب
(۳) ب - ب - الف - الف
(۴) ب - الف - ب - الف

۹۸- هر یک از عبارات‌های زیر به ترتیب به کدام مفهوم اشاره دارد؟

- آن دسته از پدیده‌های مطلوب هستند که مورد توجه و پذیرش افراد می‌باشند.
- شیوه انجام کنش اجتماعی است که مورد قبول افراد یک جامعه قرار گرفته است.
- در هر جامعه‌ای احوال‌پرسی از دیگران شیوه‌های معینی دارد.

- آن دسته از پدیده‌های خواستنی‌اند که افراد یک جامعه نسبت به آن‌ها گرایش و تمایل دارند.

- (۱) ارزش‌های اجتماعی - هنجار اجتماعی - هنجار اجتماعی - ارزش‌های اجتماعی
(۲) هنجارهای اجتماعی - پدیده اجتماعی - کنش اجتماعی - هنجارهای اجتماعی
(۳) ارزش‌های اجتماعی - کنش اجتماعی - پدیده اجتماعی - پدیده‌های اجتماعی
(۴) هنجارهای اجتماعی - ارزش اجتماعی - کنش اجتماعی - ارزش‌های اجتماعی

۹۹- با توجه به تفاوت‌های میان بدن موجود زنده و جهان اجتماعی، کدام یک از عبارات‌های زیر درست نیست و بیان کنید جهان اجتماعی چگونه

تداوم می‌یابد؟ (به ترتیب)

- (۱) جهان اجتماعی و نظم آن، تکوینی نیست، بلکه اعتباری است؛ یعنی با اراده و آگاهی انسان‌ها شکل می‌گیرد - از طریق فرآیند ارث
(۲) آگاهی و شناختی که جهان اجتماعی براساس آن شکل می‌گیرد، آگاهی فردی و خصوصی نیست، بلکه نوعی آگاهی مشترک و عمومی است - با انتقال فرهنگ خود به نسل‌های بعد
(۳) عضویت اعضا در بدن موجودات زنده و نظم آن‌ها تکوینی است؛ یعنی براساس آگاهی و اراده اعضا به وجود می‌آید - با انتقال فرهنگ خود به نسل‌های بعد

(۴) عضویت در جهان اجتماعی و نظم میان اعضای آن، با اراده و آگاهی انسان‌ها تعریف می‌شود و با قرارداد آن‌ها به وجود می‌آید - از طریق فرآیند ارث

۱۰۰- کدام گزینه به ترتیب درست (ص) یا نادرست (غ) بودن عبارات‌های زیر را به درستی نشان می‌دهد؟

(الف) زلزله و خشکسالی به واسطه ارتباطی که با زندگی انسان پیدا می‌کنند، وارد جهان اجتماعی می‌شوند.

(ب) شناخت خداوند، فرشتگان و جهان ماوراءطبیعی، درهای آسمان را بر عدالت پیشگان می‌گشاید و ستم‌پیشگان را در قهر الهی فرو می‌گذارد.

(ج) ورود پدیده‌های طبیعی به جهان اجتماعی، تأثیرات تعیین‌کننده‌ای دارد، اما نمی‌تواند باعث گسترش آن شود.

(د) هر یک از موجوداتی که بیرون جهان اجتماعی قرار دارند، به واسطه ارتباطی که با زندگی اجتماعی انسان پیدا می‌کنند، در گستره جهان

اجتماعی قرار می‌گیرند.

- (۱) غ - ص - ص - غ
(۲) غ - ص - غ - ص
(۳) ص - غ - ص - غ
(۴) ص - غ - غ - ص



۱۰۱- کدام گزینه به ترتیب بیانگر ویژگی‌ها و تعاریف لایه‌های «سطحی» و «عمیق و بنیادین» جهان اجتماعی است؟

- (۱) بخش‌هایی که به آسانی تغییر نمی‌کنند، ولی با حذف آن‌ها، جهان اجتماعی فرو می‌ریزد.
- (۲) لایه‌هایی که هم تأثیرات محدودتری دارند و هم بیش‌تر در معرض تغییرند - لایه‌هایی که تأثیرات همه‌جانبه و فراگیر دارند و کم‌تر در معرض تغییر قرار می‌گیرند.
- (۳) برخی از بخش‌های جهان اجتماعی که به آسانی تغییر نمی‌کنند و اگر حذف شوند، جهان اجتماعی فرو می‌ریزد - بخش‌هایی که تأثیر تعیین‌کننده‌ای بر جهان اجتماعی دارند.
- (۴) لایه‌هایی که هم تأثیرات محدودتری دارند و هم کم‌تر در معرض تغییرند - لایه‌هایی که تأثیرات همه‌جانبه و فراگیر دارند و بیش‌تر در معرض تغییر قرار می‌گیرند.

۱۰۲- تفاوت‌هایی که مربوط به لایه‌های عمیق جهان اجتماعی باشد،؛ اما تفاوت‌هایی که مربوط به لایه‌های سطحی جهان اجتماعی باشد،

- (۱) از نوع تفاوت‌هایی است که آن را به جهان اجتماعی دیگری تبدیل می‌کند - از نوع تفاوت‌هایی است که درون یک جهان اجتماعی واحد رخ می‌دهد.
- (۲) از نوع تفاوت‌هایی است که درون یک جهان اجتماعی پذیرفته می‌شود - از نوع تفاوت‌هایی است که نشان از ظهور جهان اجتماعی جدید دارد.
- (۳) از نوع تفاوت‌هایی است که به حوزه نمادها و هنجارها بازمی‌گردد - از نوع تفاوت‌هایی است که به ارزش‌های کلان و اعتقادات اصلی بازمی‌گردد.
- (۴) از نوع تفاوت‌هایی است که نشان از ظهور جهان اجتماعی جدید دارد - از نوع تفاوت‌های میان جهان‌های اجتماعی مختلف است.

۱۰۳- با توجه به دیدگاه عده‌ای از جامعه‌شناسان که معتقدند «همه جهان‌های اجتماعی شبیه یک‌دیگرند»، کدام گزینه درست نیست؟

- (۱) تفاوت جهان‌های اجتماعی همانند تفاوتی است که یک موجود زنده در مراحل مختلف رشد خود از دوران کودکی تا مراحل بزرگسالی پیدا می‌کند.
- (۲) همه این جوامع به یک اندازه پیشرفته نیستند، در نتیجه جوامعی که به لحاظ تاریخی عقب مانده‌اند، باید جوامع پیشرفته را الگوی خود قرار دهند.
- (۳) جهان‌های اجتماعی مسیر یکسانی را طی می‌کنند، این عده نگاه خطی به تاریخ بشر دارند، در این دیدگاه همه جوامع در یک خط قرار می‌گیرند.
- (۴) جهان اجتماعی زنده و سالم، فعالانه با جهان اطراف خود ارتباط برقرار می‌کند و مطابق با نیاز خود، از دستاوردهای جهان‌های اجتماعی دیگر بهره می‌گیرد.

۱۰۴- جهان اجتماعی با آگاهی و اراده افراد انسانی پدید می‌آید، ولی این پدیده پس از آن‌که با کنش انسان تحقق پیدا کرد، پیامدها و الزام‌هایی را

به دنبال می‌آورد که، اما با تغییر جهان اجتماعی موجود و در پی آن برداشته شدن الزام‌هایش،

- (۱) وابسته به قرارداد و اراده تک‌تک افراد جامعه است - الزام‌های دیگری را به دنبال می‌آورد که بر فعالیت اجتماعی اعضای آن تأثیر می‌گذارد.
- (۲) مستقل از قرارداد و اراده تک‌تک افراد می‌باشد - جهان اجتماعی جدیدی شکل می‌گیرد.
- (۳) مستقل از قرارداد و اراده تک‌تک افراد جامعه نمی‌باشد - جهان موجود قطعاً از بسط آن جلوگیری می‌کند.
- (۴) وابسته به قرارداد و اراده تک‌تک افراد نیست - پیامدهای جهان اجتماعی پیشین از طریق مشارکت اجتماعی افراد پابرجاست.

۱۰۵- به ترتیب بیان کنید منظور از «جهان متجدد» چیست و کدام‌یک از عبارات‌های زیر بیانگر ویژگی «طرد عناصر معنوی و مقدس» در جهان متجدد می‌باشد؟

- (۱) غرب یک‌صد سال اخیر - جهان متجدد به تدریج انسان‌ها را اسیر نظام اجتماعی پیچیده‌ای می‌سازد که مثل قفس آهنین، همه ابعاد وجودشان را احاطه می‌کند.
- (۲) غرب بعد از رنسانس - این جهان فقط علمی را که با روش‌های فراتجربی (عقلانی و وحیانی) به دست می‌آیند، علم می‌شناسد.
- (۳) غرب چهارصد سال اخیر - جهان صرفاً از مواد و موجودات خامی ساخته شده است که همه در اختیار و کنترل بشرند و به وسیله او دگرگون می‌شوند.
- (۴) غرب ماقبل رنسانس - جهان متجدد فقط علمی را که با روش‌های تجربی به دست می‌آیند، علم می‌شناسد.



۱۰۶- از نظر ابن‌سینا علمی یقین‌آور است که

- (۱) به وسیله منطق سنجیده شود.
- (۲) بعد از منطق آموخته شود.
- (۳) درون خود دارای ترازو باشد.
- (۴) سود و زیانش مشخص باشد.

۱۰۷- مغالطه به معنای هرگونه خطای است که می باشد.

- (۱) اندیشه - فقط عمدی
 (۲) منطق دانان - عمدی یا غیرعمدی
 (۳) اندیشه - عمدی یا غیرعمدی
 (۴) منطق دانان - فقط عمدی

۱۰۸- کدام گزینه با تعریف معلوم می شود؟

- (۱) هر که بامش بیش برفش بیش تر
 (۲) هر آن کس که دندان دهد نان دهد
 (۳) هر کس که دلی دارد و عاشق نشده
 (۴) هر باد بهاری به خزان راه بده

۱۰۹- در بیت «نه فقط فرهاد قلبش زخمی این ماجراست / ناوای شهر ما هم جوش شیرین می زند» احتمال بروز چه مغالطه‌ای از بقیه بیش تر است؟

- (۱) ابهام در مرجع ضمیر
 (۲) توسل به معنای ظاهری
 (۳) شیوه نگارش کلمات
 (۴) اشتراک لفظ

۱۱۰- در عبارت «وقتی به سر چهارراه رسیدی، ادامه آدرس را از بقالی بپرس» و «شکسپیر قلم زیبایی دارد» به ترتیب دلالت واژه‌های «بقالی» و

«قلم» در کدام گزینه آمده است؟

- (۱) التزامی - التزامی
 (۲) مطابقی - التزامی
 (۳) مطابقی - مطابقی
 (۴) التزامی - مطابقی

۱۱۱- بین دو مفهوم «خلیج» و «خلیج فارس» چه نسبتی وجود دارد؟

- (۱) تباین
 (۲) عموم و خصوص مطلق
 (۳) عموم و خصوص من وجه
 (۴) رابطه‌ای وجود ندارد.

۱۱۲- مفهومی که در خارج یک مصداق دارد و نتواند مصداق دیگری داشته باشد،
 (۱) حتماً کلی است.
 (۲) حتماً جزئی است.
 (۳) ممکن است کلی باشد.
 (۴) نه کلی است، نه جزئی.

۱۱۳- نوع تعریف «قله به نوک کوه» و «شابک به شماره استاندارد بین المللی کتاب» به ترتیب کدام است؟

- (۱) مصداقی - لغوی
 (۲) مصداقی - مفهومی
 (۳) لفظی - لغوی
 (۴) لفظی - مفهومی

۱۱۴- تعریفی که در آن از تشبیه استفاده شود، قطعاً
 (۱) جامع نیست.
 (۲) مانع نیست.
 (۳) واضح نیست.
 (۴) دوری نیست.

۱۱۵- در تعریف مفهومی، بین «مفهوم مجهول» و «مفهوم خاص» چه نسبتی برقرار است؟

- (۱) تساوی
 (۲) تباین
 (۳) عموم و خصوص مطلق
 (۴) عموم و خصوص من وجه