

دفترچه شماره ۱

آزمون شماره ۶

جمعه ۹۹/۰۶/۲۱



# آزمون‌های سراسر گاج

گزینه درست را انتخاب کنید.

سال تحصیلی ۱۴۰۰-۱۳۹۹

## آزمون عمومی

پایه دوازدهم انسانی

دوره دوم متوسطه

نام و نام خانوادگی:	شماره داوطلبی:
تعداد سؤالاتی که باید پاسخ دهید: ۸۰	مدت پاسخگویی: ۶۰ دقیقه

عناوین مواد امتحانی آزمون عمومی گروه آزمایشی علوم انسانی، تعداد سؤالات و مدت پاسخگویی

ردیف	مواد امتحانی	تعداد سؤال	شماره سؤال		مدت پاسخگویی
			از	تا	
۱	فارسی ۲	۲۰	۱	۲۰	۱۵ دقیقه
۲	عربی زبان قرآن ۲	۲۰	۲۱	۴۰	۱۵ دقیقه
۳	دین و زندگی ۲	۲۰	۴۱	۶۰	۱۵ دقیقه
۴	زبان انگلیسی ۲	۲۰	۶۱	۸۰	۱۵ دقیقه

برای اطلاع از نتایج آزمون و زمان دقیق اعلام آن باید در کانال تلگرام گاج عضو شوید. @Gaj\_ir





- ۱- در معنی واژه‌های کدام گزینه اشتباه وجود دارد؟
- (۱) افسر: صاحب‌منصب / متلائی: تابان / بالبداهه: ارتجالاً / رأفت: شفقت  
 (۲) تعبیه کردن: قرار دادن / توقیع: نامه و فرمان / گرافکاری: بیهوده‌کاری / خنیده: مشهور  
 (۳) نمد: پارچه‌ای کلفت که از پشم یا کرک مالیده می‌سازند. / صباحت: زیبایی / شاب: بُرنا / آماس: تُوژم  
 (۴) مناسک: اعمال عبادی / رضوان: نام فرشته نگهبان بهشت / ادبار: پشت کردن / نژند: خوار و زبون
- ۲- معنی چند واژه روبه‌روی آن درست نوشته شده است؟
- «صلت: پاداش / لفاف: پیچیدن / خوالیگر: آشپز / صیغت: تباهی / وزر: بار سنگین / مخنقه: گردن‌بند / گسیل کردن: روانه کردن / ضعب: سخت / پالیز: امضای زمین ناهموار / زرخدان: گونه»
- (۱) چهار (۲) سه (۳) پنج (۴) شش
- ۳- در کدام عبارت غلط املایی وجود دارد؟
- (۱) چنگ منقار بلبل نوای غریب نواخته، صغیر هزارستان هنگامه لهو و طرب گرم کرده، خروس را صدای اذان به سمع صدرنشینان ملکوت رسیده.  
 (۲) چون به مقامگاه رسیدند، وحوش حاضر آمدند و به قدوم ایشان یک‌دیگر را تهنیت دادند. پس، آهو زبان به ذکر محاسن اوصاف و محامد اخلاق وی بگشود.  
 (۳) عداوت و خصومت از میانه برداشته و همه فرمان پادشاه را مطاع گشته و ملک و ولایت بر امن و سکون قرار گرفته و سستی زایل گشته.  
 (۴) چنان‌که می‌دانی و می‌توانی، کار پیش گیر که هر آن‌چه نهاده تقدیر است، در غالب تدبیر آید و بر اختلاف ایام به ظهور رسد.
- ۴- در متن زیر چند غلط املایی وجود دارد؟
- «چون قوتی در این بیغوله هست، پی غولان ضلال رفتن و فریب هلاوت وعده نفس خوردن و آرزوی محال پختن، نشان خامی و دشمن‌کامی باشد، و بدان که مزاج علیل از آلام علت، آن‌که نیک شود و روی به بهی نهد که نظر از اشتهای طبع برگیرد و در صیانت نفس، همیت مردانه پیش آرد تا تأثیر آفات ذایل گردد.»
- (۱) چهار (۲) سه (۳) دو (۴) یک
- ۵- نقش‌های دستوری در همه گزینه‌ها درست‌اند، به جز .....
- (۱) چون دل از دامن صحرای جنون بردارم؟  
 (۲) در دل سخت تو بی‌رحم ندارد تأثیر  
 (۳) خط پاکی است ز تاراج خزان هر برگش  
 (۴) برمردار از لب خود مهر خموشی زنهار
- ۶- در ابیات زیر به ترتیب چند «ترکیب وصفی» و «ترکیب اضافی» وجود دارد؟
- جوهرم، ریشه من هست ز شمشیر در آب  
 می‌شود ماهی لب تشنه اگر سیر در آب  
 نشود ماهی خاموش نفس‌گیر در آب  
 نشود تازه و تر چون گل تصویر در آب
- (۱) ۵ - ۵ (۲) ۶ - ۴ (۳) ۶ - ۳ (۴) ۵ - ۴
- ۷- کاربرد فعل «ساختن» در کدام گزینه متفاوت است؟
- (۱) مرا که ساخته بودم به داغ نومیدی  
 (۲) نیستم «صائب» حریف مت درمان خلق  
 (۳) چو خار خشک بسازم به برگ بی‌برگی  
 (۴) من گرفتم ساختی پوشیده سال خویش را



۸- در همه گزینه‌ها «جمله مرکب» وجود دارد، به جز ..... .

- (۱) شب دراز به مژگان ستاره می‌شمرم
- (۲) منور چون رخ موسی مبارک چون گه سینا
- (۳) آدمم تا رو نهم بر خاک پای یار خود
- (۴) چو خود رفتی به تسکین دل من

۹- تعداد «گروه‌های مسندی» در کدام گزینه متفاوت است؟

- (۱) رهبری کز خویش نستاند تو را رهزن شمار
- (۲) خواجه‌ای کز آزاد نبود از دو عالم، خواجه نیست
- (۳) کاملی کز ناقصان بی‌بصیرت خویش را
- (۴) عیب خود نایافتن بالاترین عیب‌هاست

۱۰- اگر بخواهیم ابیات زیر را به ترتیب داشتن آرایه‌های «جناس تام - استعاره - حس آمیزی - تلمیح - ایهام تناسب» مرتب کنیم، کدام گزینه درست است؟

- (الف) نظر پست تو شایسته جولان کف است
- (ب) عالم از حسن گلسوز تو شد باغ خلیل
- (ج) این چه شور است که حسن تو به عالم افکند؟
- (د) زهر دشنام بود قسمت عاشق، ورنه
- (ه) میوه سرو که گفته است همین آزادی است؟

- (۱) ج - الف - ب - ه - د (۲) ه - الف - د - ب - ج (۳) ه - الف - د - ج - ب (۴) ج - د - ب - الف - ه

۱۱- آرایه‌های ذکرشده در مقابل کدام بیت درست نیست؟

- (۱) ز اشک، دیده تاریک شمع نورانی است
- (۲) به آب تیغ توان شست تا ز هستی دست
- (۳) همان به دیدن روی تو می‌پرد چشمم
- (۴) لباس عافیتی هست اگر در این عالم

- دهان پسته پر از خون دل ز خندانی است: استعاره - حسن تعلیل  
به آب خضر تسلی شدن گران‌جانی است: جناس ناقص - کنایه  
ز حسن، بهره آینه‌گرچه حیرانی است: تشخیص - مراعات نظیر  
که دست خار از آن کوتاه است، عریانی است: ایهام - پارادوکس

۱۲- در کدام گزینه آرایه‌های «استعاره - تناسب - تشبیه - تشخیص - تضاد» وجود دارد؟

- (۱) ای صبا، برگی از آن نوگل بی‌خار بیار
- (۲) به کف خاکی از آن راه‌گذر خرسندم
- (۳) خبری داری اگر از دهن یار بگو
- (۴) بی‌گل روی تو ذرات جهان در خواب‌اند

۱۳- اگر بخواهیم ابیات زیر را به ترتیب داشتن آرایه‌های «تلمیح - استعاره - ایهام تناسب - تشبیه - کنایه» مرتب کنیم، کدام گزینه درست است؟

- (الف) غوطه در خون زد سپهر از ناخن اندیشه‌ام
  - (ب) شوربختی بین که با صد شکرستان حسن او
  - (ج) مطرب و ساقی نمی‌خواهد دل پرشور من
  - (د) از گلابم در فلک‌ها شیشه‌ای خالی نماند
  - (ه) آن سبک‌دستم که چون در بیستون رو آورم
  - (و) چون کشم در گوش «صائب» حلقه فرمان عقل؟
- بیس‌تون یک دانه یاقوت شد از تیشه‌ام  
هم به خون من کند شیرین دهان تیشه‌ام  
باده منصور برمی‌آرد از خود شیشه‌ام  
می‌گدازد دل همان در بوتۀ اندیشه‌ام  
چون سپند از جای خیزد پیش پای تیشه‌ام  
من که از زناریان عشق کافرپیشه‌ام

- (۱) ه - الف - ب - د - و (۲) ج - ب - و - ه - د (۳) ب - ه - الف - و - ج (۴) ج - و - الف - ب - د



۱۴- کدام گزینه با عبارت زیر متناسب است؟

«بسیار دعا کرد و گفت: این صِلت فخر است. پذیرفتم و باز دادم که مرا به کار نیست و قیامت سخت نزدیک است، حساب این نتوانم داد و نگویم که مرا سخت در بایست نیست.»

- (۱) آسوده از حساب به روز شمار شد
- (۲) زان کم‌تر است عمر که گیرند از او حساب
- (۳) منعمان را به حساب غم ایام چه کار؟
- (۴) جماعتی که در این جا نفس شمرده زدند

۱۵- کدام گزینه با آیه شریفه ﴿ادْهَبَا إِلَىٰ فِرْعَوْنَ إِنَّهُ طَغَىٰ فَقَوْلَا لَهُ قَوْلًا لَّيِّنًا﴾ تقابل معنایی دارد؟

- (۱) گر از تحمّل من خصم شد زبون چه عجب
- (۲) ما سبک‌روحان مدارا با رفیقان می‌کنیم
- (۳) شد نفس بدگهر ز مدارا گزنده‌تر
- (۴) در اقلیم مدارا ضعف بر قوّت بود غالب

۱۶- ابیات کدام گزینه با عبارت زیر تناسب معنایی ندارند؟

- «هر عصب و فکر به منبع بی‌شائبه ایمان وصل بود که خوب و بد را به عنوان مشیت الهی می‌پذیرفت.»
- (الف) این همه تکیه‌ها غم و هوس است
  - (ب) دست در حلقه آن زلف دوتا نتوان کرد
  - (ج) چو دونان تکیه بر اسباب تا چند؟
  - (د) در بلا یاری مخواه از هیچ‌کس
  - (ه) به ناخدای توکل سپرده‌ام خود را
  - (و) یک ذره اعتماد نشاید به جاه کرد
- (۱) الف - د      (۲) ب - و      (۳) ج - ه      (۴) ب - ه

۱۷- مفهوم نوشته‌شده در برابر کدام بیت نادرست است؟

- (۱) اختر شمرم هر شب در طالع خود، لیکن
  - (۲) وصف دهان شیرین می‌گویم و ندانم
  - (۳) ای ساقی خوش‌لقا تو خوش خوش ما را
  - (۴) هر تن که فدای جان شود جان گردد
- چون کار قضا دارد، اختر به چه کار آید؟: غم فراق  
در وصف او چه گویم کان مختصر نباشد؟: توصیف‌ناپذیری معشوق  
آبی درده که خاک می‌باید شد: خوش‌باشی  
فارغ ز بهشت و حور و رضوان گردد: مقصد عارفان فقط خداست.

۱۸- کدام گزینه با بیت «مگو سوخت جان من از فرط عشق / خموشی است هان، اولین شرط عشق» تقابل معنایی دارد؟

- (۱) میحث عشق است ای زاهد خموشی پیشه کن
- (۲) وصال حاصل است اندر خموشی
- (۳) صحبت عشق و خموشی در نمی‌گیرد به هم
- (۴) مجبور فنا را چه خموشی چه تکلم

۱۹- بیت «هنر خوار شد جادویی ارجمند / نهان راستی، آشکارا گزند» با کدام گزینه تناسب مفهومی ندارد؟

- (۱) از بس که روزگار دنی، سفله‌پرور است
  - (۲) عیب می چون همه گفתי هنرش نیز بگو
  - (۳) به پای خویش آخر تیشه خواهی زد به ناکامی
  - (۴) ز دهر، دانش و سامان سؤال کردم گفت
- از تخم لاله، خار مغیلان برآمده  
نفی حکمت مکن از بهر دل عامی چند  
اگر در زور بازوی هنر چون کوه‌کن باشی  
که از نهال هنر برگ و بر نمی‌آید



۲۰- مفاهیم «احترام به حقوق دیگران - طلب عنایت - خدمت به هم‌نوع - مناعت طبع - نکوهش تزویر» به ترتیب از کدام گزینه دریافت می‌شود؟

- الف) به خلق احسان کن و چشم از تلافی پوش، می‌باید  
ب) اهل جهان، نهانشان یک‌رنگ آشکار است  
ج) خدنگ طعنه دائم سوی تیرانداز برگردد  
د) چنان به راه طلب هم‌تم بلند بود  
ه) غبار اخگر دل را به آب نتوان برد
- به کس راحت‌رسان بی‌عوض، چون بادزن باشی  
گرد نفاق دل‌ها بر چهره‌ها نشسته  
کسی را قدر مشکن گر نخواهی کم‌بها‌گردی  
که از سراب جز آب بقا نمی‌خواهم  
نسیمی از سر زلف نگار می‌خواهم

۲) ب - ه - د - ج - الف

۴) ج - ه - الف - د - ب

۱) ب - ه - ج - د - الف

۳) ج - الف - ه - د - ب

دوروست  
@Gozine\_doroost



■ عَيْنِ الْأَصْحَحِّ وَالْأَدَقِّ فِي الْجَوَابِ لِلتَّرْجُمَةِ أَوْ الْمَفْهُومِ أَوْ الْمَفْرَدَاتِ (٢٨ - ٢١):

- ٢١- «قد عَلَّمَ أستاذ الأدب العربيّ طلابه أبياتاً ممزوجةً بالفارسيّة لمعرفة صناعة التلميع.»:
- (١) استاد ادبیات عرب به دانشجویانش ابیاتی آمیخته به فارسی را برای شناخت صنعت تلمیع آموزش داده است.
  - (٢) یک استاد عربی به دانشجویان، ابیاتی آمیخته به فارسی را جهت شناخت صنعت تلمیع آموزش می‌دهد.
  - (٣) برای یادگیری صنعت تلمیع، استاد ادبیات عرب به دانشجویان خود اشعاری فارسی را تعلیم داده بود.
  - (٤) استاد ادب عربی به دانشجویانش بیت‌هایی متناسب با فارسی برای شناخت صنعت تلمیع را بیان کرده است.
- ٢٢- «نقار الخشب طائرٌ ينقرُ جذع الشجرة بمنقاره عشر مرّاتٍ في الثانية على الأقل.»:
- (١) پرندهٔ دارکوب با نوک خود برای دهمین بار تنهٔ درخت را در کم‌ترین ثانیه نوک می‌زند.
  - (٢) دارکوب پرنده‌ای می‌باشد که با نوک خود تنه‌های درختان را در کم‌ترین ثانیه ده بار نوک زده است.
  - (٣) دارکوب پرنده‌ای است که تنهٔ درخت را با نوک خود، حداقل ده‌بار در ثانیه، نوک می‌زند.
  - (٤) پرنده‌ای به نام دارکوب در کم‌تر از ده ثانیه تنهٔ درخت را با منقارش بارها نوک می‌زند.
- ٢٣- «لن أحکم بما لا أعلمه و لن أعارض قبل أن أفهم.»:
- (١) در مورد هر چه نمی‌دانستم، داوری نخواهم کرد و پیش از فهمیدن مخالفت نمی‌کنم.
  - (٢) آن‌چه را که نمی‌دانم، داوری نمی‌کنم و پیش از آن‌که بفهمم، مخالفت نکرده‌ام.
  - (٣) من هرگز در مورد چیزی که آن را نمی‌دانم، داوری نمی‌کنم و پیش از آن‌که بدانم، مخالفت نمی‌کنم.
  - (٤) در مورد آن‌چه که آن را نمی‌دانم، داوری نخواهم کرد و پیش از آن‌که بفهمم، مخالفت نخواهم کرد.
- ٢٤- «عصفت رياحٌ شديدةٌ قبل ثلاثة أيّامٍ و خرّبت كثيراً من البيوت جنب شاطئ البحر.»:
- (١) بادهایی بسیار شدید، سه روز پیش وزید که خانه‌های بسیاری کنار ساحل دریاها خراب شدند.
  - (٢) سه روز پیش بادهایی شدید وزید و بسیاری از خانه‌ها را کنار ساحل دریا ویران کرد.
  - (٣) بادهایی تند، سه روز قبل، وزیدن گرفت و بسیاری از خانه‌های ساحل دریا را خراب کرد.
  - (٤) سه روز پیش بادی شدید وزید و تمام خانه‌ها را کنار ساحل دریا ویران نمود.
- ٢٥- عَيْنِ الْخَطَأِ:
- (١) ما فَعَلْتُ مِنَ الْخَيْرَاتِ وَجَدْتُهَا ذَخِيرَةً لِآخِرَتِكَ: هر چقدر نیکی کنی آن را توشه‌ای برای آخرت خواهی یافت.
  - (٢) جَرَّبَ الْعَامِلُ النَشِيطَ الْعَمَلِ فِي الْمَصْنَعِ الْكَبِيرَةِ أَيْضاً: کارگر فعال کار را در کارخانه‌های بزرگ نیز تجربه کرد.
  - (٣) ذَلِكَ مَتَجَرِّمِي وَ لَهُ سَرَاوِيلُ وَ قَسَاتِينُ جَدِيدَةٌ بِسَعْرِ رَخِيصٍ: آن مغازهٔ همکارم است و شلوارها و پیراهن‌های زنانهٔ جدیدی با قیمتی ارزان دارد.
  - (٤) خَيْرٌ إِخْوَانِكُمْ مَنْ أَهْدَى إِلَيْكُمْ عَيْوَبَكُمْ: بهترین برادران شما کسی است که عیب‌هایتان را به شما هدیه کند.
- ٢٦- عَيْنِ الْأَقْرَبِ فِي الْمَفْهُومِ: «أَمْزَنِي رَبِّي بِمُدَارَاةِ النَّاسِ كَمَا أَمْزَنِي بِأَدَاءِ الْفَرَائِضِ.»
- (١) هر که اخلاق ظاهرش با خلق / نیک بینی گمان بد میرش
  - (٢) آسایش دو گیتی تفسیر این دو حرف است / با دوستان مروّت با دشمنان مدارا
  - (٣) مضمون سرنوشت دو عالم جز این نبود / کان سر که خاک راه شد از آسمان گذشت
  - (٤) هر که در این بزم مقرب‌تر است / جام بلا بیشترش می‌دهند
- ٢٧- عَيْنِ جَوَاباً مَا جَاءَ فِيهِ الْمُرَادُفُ أَوْ الْمُتَضَادُّ:
- (١) سَاعَدَنِي أَخُوكَ حَتَّى أَتَخَلَّصَ مِنَ الْحَرِّجِ وَ أَوَاجِهِ الْفَرَجِ.
  - (٢) يَضُمُّ ذَلِكَ الْكِتَابَ مَفْرَدَاتٍ وَ يَحْتَوِي عَلَى التَّرَاكِبِ الْوَصْفِيَّةِ.
  - (٣) مَا عَادَ الشَّابُّ إِلَى الْكُذْبِ مَرَّةً أُخْرَى بَعْدَ تِلْكَ الْحَادِثَةِ.
  - (٤) نَدِمَ الْمَجْرِمُ عَلَى أَعْمَالِهِ السَّيِّئَةِ وَ قَرَّرَ أَنْ يَفْعَلَ الْحَسَنَةَ.



۲۸- عین الخطأ عن التوضیحات للكلمات التالية:

- (۱) زينة من الذهب أو الفضة في يد المرأة ← السوار  
(۲) من يعجبك كلامه و سلوكه و شكله ← الملیح  
(۳) تعيش الطيور فيها ← الوكنات  
(۴) إناء يُشرب به الماء أو الشاي ← الرُفات

■ إقرأ النص التالي بدقة ثم أجب عن الأسئلة التالية بما يناسب النص (۳۳ - ۲۹):

ابن السكيت أديب ملتزم كان يعيش في العصر العباسي و هو كان محباً لأهل بيت رسول الله (ص). ذات يوم سأل المتوكل عنه: «هل ولدادي أحب إليك أو أولاد علي؟» فغضب ابن السكيت من كلام المتوكل و قال بجرأة: «و الله إن قنبراً مولى علي بن أبي طالب لأحب إلي من هذين أبيهما». غضب الخليفة و أمر بقطع لسان هذا العالم الشجاع.

۲۹- عین الخطأ:

- (۱) غضب المتوكل من كلام ابن السكيت.  
(۲) كان أولاد علي أحب عند ابن السكيت.  
(۳) خاف ابن السكيت من كلام المتوكل.  
(۴) ابن السكيت كان عالماً في العصر العباسي.  
۳۰- ما كانت عاقبة ابن السكيت؟  
(۱) قُطع لسانه فوراً.  
(۲) أنكر محبة أهل البيت (عليهم السلام).  
(۳) شجّع من جانب الخليفة.  
(۴) غيّر رأيه فوراً.

۳۱- عین الصحيح عن كلمة «سأل» في النص:

- (۱) للغائب - مجرد ثلاثي - لازم / فعل و فاعله ضمير «هي» المستتر  
(۲) فعل ماضي - للغائب - مجرد ثلاثي / فعل و فاعله «المتوكل» و الجملة الفعلية  
(۳) مجرد ثلاثي - الفعل المعلوم - مبني / فعل و فاعله ضمير «هو» المستتر  
(۴) مزيد ثلاثي من باب «تفعيل» - متعدّد / فعل و فاعله الإسم الظاهر

۳۲- عین الصحيح عن كلمة «غضب» في النص:

- (۱) مزيد ثلاثي من باب «إفعال» - الفعل المجهول / فعل و نائب فاعله الاسم الظاهر  
(۲) فعل ماضي - للغائب - لازم - مبني / فعل و فاعله «الخليفة»  
(۳) للغائب - مجرد ثلاثي - مبني / فعل و فاعله ضمير «هو» المستتر  
(۴) مجرد ثلاثي - الفعل المعلوم - معرب / فعل و فاعله الاسم الظاهر

۳۳- عین الخطأ عن كلمة «أحب» في النص:

- (۱) مفرد للمذكر - نكرة  
(۲) اسم التفضيل للمذكر  
(۳) خبر و مرفوع لمبتدأ «وُلدان»  
(۴) فعل ماضي و فاعله ضمير «هو» المستتر

■ عین المناسب في الجواب عن الأسئلة التالية (۴۰ - ۳۴):

۳۴- عین عبارة ما جاء فيها إسم المبالغة:

- (۱) إنَّ الله هو الغفار العزيز.  
(۲) من كان شكوراً عند الراحة فهو مؤمن.  
(۳) سمى القرآن امرأة أبي لهب حمالة الحطب.  
(۴) كانت يدُ طالبة منكسرة عند التصادم.

۳۵- ميّر كلمة «خير» إسم التفضيل:

- (۱) «فمن يعمَل مثقال ذرّة خيراً يره»  
(۲) خير الأمور أوسطها.  
(۳) الخير في ما وقّع.  
(۴) أعمال الخير توجب رضوان الله.

۳۶- عین عبارة جاء فيها من أداة الشرط:

- (۱) رَبِّ إِنِّي أَعُوذُ بِكَ أَنْ أَسْأَلَكَ مَا لَيْسَ لِي بِهِ عِلْمٌ.  
(۲) اللَّهُمَّ انْفَعْنِي بِمَا عَلَّمْتَنِي وَ عَلَّمْنِي مَا يَنْفَعْنِي.  
(۳) «و لَمَّا رَأَى الْمُؤْمِنُونَ الْأَحْزَابَ قَالُوا مَا وَعَدَنَا اللَّهُ»  
(۴) مَا تَفَعَّلُوا مِنَ الْخَيْرَاتِ وَجَدْتُمُوهَا ذَخِيرَةً لِأَخْرَجْتُمْ.



۳۷- عین عبارة ما جاء فيها الفعل المعادل للمضارع الالتزامي:

- (۱) عَلَيْنَا أَنْ لَا نَصْعَرَ خَدَّنَا لِلنَّاسِ وَ لَا نَمْشِي فِي الْأَرْضِ مَرْحِينَ.
- (۲) إِنَّ اللَّهَ يَحِبُّ مَنْ يُحَافِظُ عَلَى إِقَامَةِ الصَّلَاةِ فِي وَقْتِهَا.
- (۳) لَا تَصِيرُ الْأَرْضُ خُضْرًا حَتَّى تَمْطُرَ السَّمَاءُ كَثِيرًا.
- (۴) جَاءَ الطَّالِبُ إِلَى الْمَكْتَبَةِ لِيَسْتَرْجِعَ الْكُتُبَ الْعِلْمِيَّةَ.

۳۸- عین جواباً ما جاء فيه اسم النكرة:

- (۱) بضائع هذا البائع أعجبت الحُضَارَ.
- (۲) لا تقفُ شراً يقربك إلى السوء.
- (۳) هذه جبال مرتفعة في بلدنا.
- (۴) شاهدنا حרבاء تتغذى من التِّبَاتَاتِ.

۳۹- عین الجملة بعد النكرة (الجملة الوصفية):

- (۱) مباراة كرة القدم أعجبت الحُضَارَ فِي الْمَلْعَبِ.
- (۲) «أرسلنا إلى فرعون رسولا فَعَصَى فرعونُ الرسولَ»
- (۳) تدخَّلَ المديرُ فِي مَوْضِعٍ يَجْلِبُ لَهُ مَشَاكِلُ كَثِيرَةٌ.
- (۴) أُرِدْتُ تَقَدِّمًا فِي تَعَلُّمِ الْعُلُومِ الْعَرَبِيَّةِ لِمَعْرِفَةِ مَفَاهِيمِ الْقُرْآنِ.

۴۰- عین «لام» مختلفة في المعنى:

- (۱) لأذهب إلى المخزن لأخذ الحقيبة.
- (۲) قال الأب: «لُتَهَيِّئِ أَنْفُسَنَا فِي كَسْبِ النِّجَاحِ.»
- (۳) لِنَسْمَعْ كَلَامَ مَنْ يَنْصَحُنَا إِلَى الْخَيْرِ.
- (۴) ذَهَبْنَا عِنْدَ الْمَدِيرِ لِنَتَكَلَّمَ عَنْ مَشَاكِلِنَا الْمَالِيَّةِ.





## دین و زندگی

- ۴۱- فرمایش نورانی امام سجاد (ع) که فرمودند: «خدایا، ایام زندگانی مرا به آن چیزی اختصاص بده که مرا برای آن آفریده‌ای.» دارای تناسب مفهومی با کدام یک از آیات زیر است؟
- (۱) ﴿إِنَّ الْخَاسِرِينَ الَّذِينَ خَسِرُوا أَنفُسَهُمْ...﴾  
 (۲) ﴿وَالْعَصْرُ إِنَّ الْإِنْسَانَ لَفِي خُسْرٍ﴾  
 (۳) ﴿قَالَ رَبُّنَا الَّذِي أَعْطَى كُلَّ شَيْءٍ خَلْقَهُ ثُمَّ هَدَى﴾  
 (۴) ﴿إِنَّا هَدَيْنَاهُ السَّبِيلَ إِمَّا شَاكِرًا وَإِمَّا كَفُورًا﴾
- ۴۲- مطابق آیات قرآن کریم، آفرینش مخلوقات برای هدفی معین، کدام یک از صفات خداوند را به نمایش می‌گذارد و کدام عامل کلیدی از این مفهوم دریافت می‌گردد؟
- (۱) علم - هدایت همگانی (۲) علم - هدایت خاص (۳) حکمت - هدایت همگانی (۴) حکمت - هدایت خاص
- ۴۳- منشأ اصلی اختلافات و چنددینی از نظرگاه قرآن کریم چه کسانی هستند و این امر شامل کدام ادیان می‌شود؟
- (۱) رهبران دینی - تمام ادیان (۲) عامه مردم - تمام ادیان  
 (۳) رهبران دینی - ادیان الهی (۴) عامه مردم - ادیان الهی
- ۴۴- در وحی الهی، پس از بیان تساوی ادیان و پیامبران، کدام توصیف مشترک برای تمامی رسولان مطرح شده است؟
- (۱) دل‌هایشان را به یکدیگر نزدیک کنید و متحد باشید.  
 (۲) قطعاً دین نزد خداوند، اسلام است.  
 (۳) هر کس غیر از اسلام دینی را بپذیرد، از او قبول نمی‌شود.  
 (۴) دین را به پا دارید و در آن تفرقه نکنید.
- ۴۵- «یافتن راه صحیح زندگی و پیشروی در آن» نتیجه کدام سرمایه ذاتی انسان است و مصرع «کی روی، ره ز که پرسی، چه کنی، چون باشی؟» مربوط به کدام مورد است؟
- (۱) قوه تعقل - لزوم کشف راه درست زندگی به عنوان یکی از نیازهای بنیادین  
 (۲) قدرت اختیار - لزوم کشف راه درست زندگی به عنوان یکی از نیازهای بنیادین  
 (۳) قوه تعقل - غفلت و بی‌توجهی نسبت به پاسخ‌گویی به نیازهای برتر  
 (۴) قدرت اختیار - غفلت و بی‌توجهی نسبت به پاسخ‌گویی به نیازهای برتر
- ۴۶- به پشتوانه کدام دلیل، تنها خداوند را شایسته تعیین زمان ختم نبوت می‌دانیم؟
- (۱) زیرا اوست که با نعمات خود انسان را به سوی سعادت رهنمون می‌سازد و نبوت یکی از همین نعمت‌هاست.  
 (۲) زیرا تنها، خداوند هدایتگر و راهنمای انسان‌هاست و جز او کسی علم هدایت انسان را دارا نیست.  
 (۳) زیرا اوست که پیامبران را می‌فرستد و نیاز یا عدم نیاز به پیامبر را در هر زمان تشخیص می‌دهد.  
 (۴) زیرا پیامبران، راه رسیدن به علم الهی و مسیر و مجرای ولایت الهی هستند و تنها منشأ این دو حقیقت می‌باشند.
- ۴۷- آیه شریفه «أَفَلَا يَتَذَكَّرُونَ الْقُرْآنَ وَ لَوْ كَانَ مِنْ عِنْدِ غَيْرِ اللَّهِ...» مبین کدام یک از جنبه‌های اعجاز محتوایی قرآن کریم است؟
- (۱) تأثیرناپذیری از عقاید دوران جاهلیت (۲) جامعیت و همه‌جانبه بودن  
 (۳) ذکر نکات علمی بی‌سابقه (۴) انسجام درونی در عین نزول تدریجی
- ۴۸- فرمایش امام باقر (ع) مبنی بر پنج پایه اسلام، در حقیقت دربردارنده کدام مسئولیت‌های پیامبر (ص) است و اولویت کدام یک را نشانه گرفته است؟
- (۱) ولایت معنوی - ولایت ظاهری - دومین (۲) ولایت ظاهری - مرجعیت دینی - نخستین  
 (۳) مرجعیت دینی - دریافت و ابلاغ وحی - نخستین (۴) دریافت و ابلاغ وحی - ولایت ظاهری - دومین
- ۴۹- پیامبر رحمت (ص) در تبیین آیه شریفه «يَا أَيُّهَا الَّذِينَ آمَنُوا أَطِيعُوا اللَّهَ وَأَطِيعُوا الرَّسُولَ وَأُولَى الْأَمْرِ مِنْكُمْ...» کدام حدیث شریف را بیان نمودند و هدف از بیان این حدیث، معرفی مصادیق کدام بخش از آیه بود؟
- (۱) حدیث جابر - «الَّذِينَ آمَنُوا» (۲) حدیث ثقلین - «الَّذِينَ آمَنُوا»  
 (۳) حدیث جابر - «أُولَى الْأَمْرِ» (۴) حدیث ثقلین - «أُولَى الْأَمْرِ»



۵۰- تعبیر «طیب سیار» از سوی چه کسی و در وصف کدام ولی الهی بیان شده و متناسب با کدام موضوع می باشد؟

- ۱) امام علی (ع) - پیامبر (ص) - سخت کوشی و دلسوزی در هدایت مردم
- ۲) امام علی (ع) - پیامبر (ص) - تلاش برای برقراری عدالت و برابری
- ۳) پیامبر (ص) - امام علی (ع) - سخت کوشی و دلسوزی در هدایت مردم
- ۴) پیامبر (ص) - امام علی (ع) - تلاش برای برقراری عدالت و برابری

۵۱- مهم ترین ثمره اخوت مسلمانان با یکدیگر، در کدام گزینه به شکل کامل تری آمده است؟

- ۱) به وجود آمدن قدرت بزرگی که زورگویان و مخالفان با اسلام را از تجاوز به حقوق ملت های مسلمان باز می دارد.
- ۲) شناسایی مسلمان نماها و عدم دوستی با ایشان و تلاش در جهت اجرای فرامین اولیای الهی در خصوص وحدت میان مسلمانان.
- ۳) تفاهات علمی دانشمندان شیعه و سنی و اکتشافات فراوان مبتنی بر آموزه های قرآن کریم و روایات معصومین (ع).
- ۴) برطرف شدن تعصبات نژادی و قومی و عقیدتی و افزایش تقوا در جامعه به عنوان تنها ملاک کرامت انسان ها.

۵۲- مقدمه نزول آیه شریفه ﴿إِنَّ الَّذِينَ آمَنُوا وَعَمِلُوا الصَّالِحَاتِ أُولَئِكَ هُم خَيْرُ الْبَرِيَّةِ﴾ در کدام گزینه آمده است؟

- ۱) دروغ می گوید کسی که می پندارد مرا دوست دارد، در حالی که دشمنی و کینه تو در دل اوست.
- ۲) مثل تو و امامان از فرزندان تو، مثل کشتی نوح است هر کس بر آن سوار شود نجات یابد.
- ۳) سوگند به خدایی که جانم در دست قدرت اوست، این مرد، شیعیان و پیروان او، رستگاران و در روز قیامت اهل نجات اند.
- ۴) سوگند به خدا، اگر همه دنیا را [با تمام وسعتش] به من بدهند تا خدا را نافرمانی کنم، نخواهم کرد.

۵۳- ورود جاهلیت با شکلی جدید در زندگی اجتماعی مسلمانان مبین کدام یک از مشکلات فرهنگی، اجتماعی پس از رسول خدا (ص) است؟

- ۱) ممنوعیت نوشتن احادیث پیامبر اکرم (ص)
- ۲) تحریف در معارف اسلامی و جعل احادیث
- ۳) ارائه گویای نامناسب
- ۴) تبدیل حکومت عدل نبوی به سلطنت

۵۴- «سر دسته مخالفان پیامبر اکرم (ص) در حادثه فتح مکه»، «نام جنگی که علیه امیرمؤمنان تدارک شد» و «عامل برپایی آن جنگ» به ترتیب در کدام گزینه آمده است؟

- ۱) معاویه - بدر - ابوسفیان
- ۲) معاویه - صفین - ابوسفیان
- ۳) ابوسفیان - بدر - معاویه
- ۴) ابوسفیان - صفین - معاویه

۵۵- با توجه به فرمایشات امیرالمؤمنین علی (ع)، لازمه پیروی از قرآن چیست؟

- ۱) شناختن کسانی که قرآن را فراموش کرده اند.
- ۲) وفای به عهد خویش با قرآن کریم و اهل بیت (ع)
- ۳) شناسایی رهاکنندگان و پشت کنندگان به صراط مستقیم
- ۴) دوستی با افرادی که با دین و دین ورزان مخالفت نمی کنند.

۵۶- «شروع اسکان اجباری در پادگان نظامی» و «علنی تر کردن مبارزه با تأیید قیام»، به ترتیب از ویژگی های دوران کدام یک از ائمه اطهار (ع) است و زیارت جامعه کبیره منتسب به چندمین آن ها است؟

- ۱) امام هادی (ع) - امام صادق (ع) - نخستین
- ۲) امام هادی (ع) - امام حسین (ع) - دومین
- ۳) امام حسن عسکری (ع) - امام صادق (ع) - نخستین
- ۴) امام حسن عسکری (ع) - امام حسین (ع) - دومین

۵۷- عامل اصلی به شهادت رسیدن امامان بزرگوار چه بود و قصور در عمل به کدام وظیفه توسط مردم، در تسهیل این عمل مؤثر بود؟

- ۱) حاکمان بنی امیه و بنی عباس - مراجعه به اولیای الهی در امر حکومت
- ۲) حاکمان بنی امیه و بنی عباس - امر به معروف و نهی از منکر
- ۳) عدم دفاع اکثریت مردم از امامان - مراجعه به اولیای الهی در امر حکومت
- ۴) عدم دفاع اکثریت مردم از امامان - امر به معروف و نهی از منکر

۵۸- وعده قرآنی یادشده در کتب آسمانی پیشین در کدام گزینه به طور صحیح تری بیان شده است؟

- ۱) ﴿أَنَّ الْأَرْضَ يَرْثُهَا عِبَادِيَ الصَّالِحُونَ﴾
- ۲) ﴿نَجْعَلُهُمْ أُيْمَةً وَ نَجْعَلُهُمُ الْوَارِثِينَ﴾
- ۳) ﴿لَيَسْتَخْلِفَنَّهُمْ فِي الْأَرْضِ، كَمَا اسْتَخْلَفَ الَّذِينَ مِنْ قَبْلِهِمْ﴾
- ۴) ﴿لَيُبَدِّلَنَّهُمْ مِنْ بَعْدِ خَوْفِهِمْ أَمْنًا﴾



۵۹- پیام آیه شریفه ﴿وَمَا كَانَ الْمُؤْمِنُونَ لِيَنفِرُوا كَافَّةً فَلَوْلَا نَفَرَ مِن كُلِّ فِرْقَةٍ مِّنْهُمْ طَائِفَةٌ لِّيَتَفَقَّهُوا فِي الدِّينِ﴾، کدام است؟

(۱) جریان ولایت معنوی امام (ع) با مفتوح بودن باب اجتهاد و استنباط

(۲) جریان مرجعیت دینی امام (ع) با مفتوح بودن باب اجتهاد و استنباط

(۳) استقرار مرجعیت دینی امام (ع) با بذل لطف او به دین‌مداران فقیه بهره‌مند از استنباط

(۴) استقرار ولایت معنوی امام (ع) با بذل لطف او به دین‌مداران فقیه بهره‌مند از استنباط

۶۰- عوامل «فراهم شدن فرصت و توان مقابله با مشکلات داخلی و خارجی» و «آسان‌تر شدن هدایت جامعه به سمت انجام وظایف اسلامی برای

رهبر» در کدام گزینه آمده است؟

(۱) وحدت و همبستگی اجتماعی - مشارکت در نظارت همگانی

(۲) وحدت و همبستگی اجتماعی - اولویت دادن به اهداف اجتماعی

(۳) استقامت و پایداری در برابر مشکلات - مشارکت در نظارت همگانی

(۴) استقامت و پایداری در برابر مشکلات - اولویت دادن به اهداف اجتماعی




**PART C: Reading Comprehension**

**Directions:** In this part of the test, you will read a passage. The passage is followed by five questions. Answer the questions by choosing the best choice, (1), (2), (3), or (4). Then mark your answer sheet.

Millions of years ago the Earth looked much different than it looks today. All seven continents (North America, South America, Asia, Africa, Europe, Australia and Antarctica) were one gigantic continent which scientists call Pangaea. The name Pangaea is derived from the Ancient Greek words “pan” meaning “entire,” and “Gaia” meaning “Earth.”

Continental drift, the process by which the continents broke apart and spread out across the Earth, is caused by plates in the Earth’s crust that move around. Plate movement is what causes earthquakes and volcanic eruptions today.

Continental drift didn’t happen all at once. It took millions of years. The first separation of Pangaea occurred when North America separated from Africa. The Atlantic Ocean was formed at this time. Next, South America, India, Antarctica and Australia broke apart. Because of continental drift, these continents are still moving a little bit each year. Some scientists even speculate that a new “super-continent” like Pangaea may form again! Try to imagine what the Earth will look like millions of years from now. Will it look the same as today, or will it look different?

- 76- How does the author organize the information in this passage?
- 1) The author explains how each continent was named.
  - 2) The author describes Pangaea and then explains the process that made it drift apart.
  - 3) The author explains the history of each continent.
  - 4) The author provides a list of theories about what could happen to the Earth in the future.
- 77- Which of the following answers supports the statement, “Earth’s continents may be in different positions in the distant future.”
- 1) Continental drift continues to move continents a little each year.
  - 2) Volcanic eruptions and earthquakes have occurred for a very long time.
  - 3) Continental drift stopped after Pangaea was broken up.
  - 4) Scientists do not agree about how Pangaea was broken up.
- 78- The phrase “is derived from” in the first paragraph could be replaced by .....
- 1) makes up
  - 2) puts out
  - 3) comes from
  - 4) takes away
- 79- What is the passage mostly about?
- 1) Pangaea and how continental drift has changed the earth over time
  - 2) how people used to live in one country called Pangaea
  - 3) how natural disasters like volcanoes and earthquakes have shaped the continents
  - 4) how the continents were named by the Greeks
- 80- There is enough information in the passage to answer which of the following questions?
- 1) Who chose the name “Pangaea” for the gigantic super-continent?
  - 2) When did the process of continental drift start?
  - 3) What natural phenomena causes earthquakes and volcanic eruptions?
  - 4) When will the next super-continent form on earth?

دفترچه شماره ۲

آزمون شماره ۶

جمعه ۹۹/۰۶/۲۱



# آزمون‌های سراسر گاج

گزینه دروس را انتخاب کنید...

سال تحصیلی ۱۴۰۰-۱۳۹۹

## آزمون اختصاصی پایه دوازدهم انسانی

دوره دوم متوسطه

نام و نام خانوادگی:	شماره داوطلبی:
تعداد سؤالاتی که باید پاسخ دهید: ۱۰۰	مدت پاسخگویی: ۱۰۵ دقیقه

عناوین مواد امتحانی آزمون اختصاصی گروه آزمایشی علوم انسانی، تعداد سؤالات و مدت پاسخگویی

ردیف	مواد امتحانی	تعداد سؤال	وضعیت پاسخگویی	شماره سؤال		مدت پاسخگویی
				از	تا	
۱	ریاضیات	۱۰	اجباری	۸۱	۹۰	۲۵ دقیقه
		۱۰	زوج کتاب	۹۱	۱۰۰	
		۱۰		۱۰۱	۱۱۰	
۲	اقتصاد	۱۰	اجباری	۱۱۱	۱۲۰	۱۰ دقیقه
۳	علوم و فنون ادبی	۱۰	اجباری	۱۲۱	۱۳۰	۲۰ دقیقه
		۱۰	زوج کتاب	۱۳۱	۱۴۰	
		۱۰		۱۴۱	۱۵۰	
۴	جامعه‌شناسی	۱۰	اجباری	۱۵۱	۱۶۰	۲۰ دقیقه
		۱۰	زوج کتاب	۱۶۱	۱۷۰	
		۱۰		۱۷۱	۱۸۰	
۵	فلسفه و منطق	۱۰	اجباری	۱۸۱	۱۹۰	۲۰ دقیقه
		۱۰	اجباری	۱۹۱	۲۰۰	
۶	روان‌شناسی	۱۰	اجباری	۲۰۱	۲۱۰	۱۰ دقیقه

برای اطلاع از نتایج آزمون و زمان دقیق اعلام آن باید در کانال تلگرام گاج عضو شوید. @Gaj\_ir





ریاضیات

۸۱- اگر بین دو گزاره‌ی  $p$  و  $q$  حداقل یکی نادرست باشد، آن‌گاه کدام گزینه همواره و الزاماً نادرست است؟

- (۱)  $p \vee q$       (۲)  $\sim p \wedge \sim q$       (۳)  $p \wedge q$       (۴)  $p \vee \sim q$

۸۲- اگر گزاره‌ای درست،  $q$  گزاره‌ای نادرست و  $r$  گزاره‌ای دلخواه باشد، آن‌گاه ارزش گزاره‌ی  $(p \wedge \sim q) \Leftrightarrow (r \wedge q)$  کدام است؟

- (۱) همواره درست است.      (۲) همواره نادرست است.  
 (۳) فقط به شرط درست بودن  $r$ ، درست است.      (۴) فقط به شرط نادرست بودن  $r$ ، درست است.

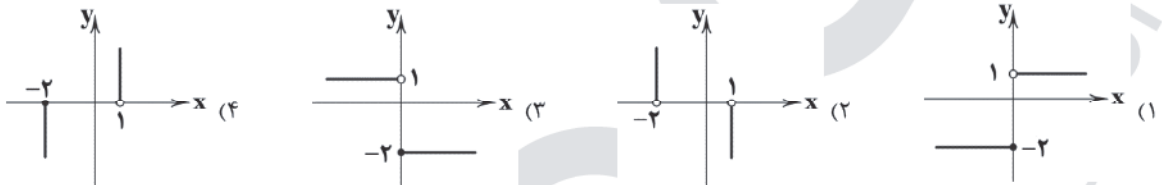
۸۳- قاعده‌ی قیاس استثنایی کدام است؟

- (۱)  $((p \Rightarrow q) \wedge q) \Rightarrow p$       (۲)  $((p \Rightarrow q) \vee p) \Rightarrow q$   
 (۳)  $((p \Rightarrow q) \vee q) \Rightarrow p$       (۴)  $((p \Rightarrow q) \wedge p) \Rightarrow q$

۸۴- عکس نقیض گزاره‌ی «اگر ۵ عددی زوج است، آن‌گاه ۱۲ عددی اول است.» کدام است؟

- (۱) اگر ۵ عددی زوج است، آن‌گاه ۱۲ عددی اول نیست.      (۲) اگر ۱۲ عددی غیر اول است، آن‌گاه ۵ عددی فرد است.  
 (۳) اگر ۵ عددی فرد است، آن‌گاه ۱۲ عددی مرکب است.      (۴) اگر ۱۲ عددی اول نیست، آن‌گاه ۵ عددی زوج است.

۸۵- نمودار تابع  $f(x) = \begin{cases} -2 & x \geq 0 \\ 1 & x < 0 \end{cases}$  به کدام صورت است؟



۸۶- در تابع  $f(x) = 2x - 3$ ، اگر  $f(x) = \Delta f(0) - f(\frac{1}{4})$  باشد، مقدار  $a$  کدام است؟

- (۱) -۵      (۲) -۳      (۳) ۲      (۴) ۱

۸۷- اگر  $f(x) = a$  تابعی ثابت است و داشته باشیم  $af(3x) = a + f(x)$ ، آن‌گاه  $f(\frac{1}{4})$  کدام است؟ ( $a \neq 0$ )

- (۱) ۲      (۲)  $\frac{1}{4}$       (۳) ۴      (۴)  $\frac{1}{4}$

۸۸- حاصل  $[\sqrt{5}] - [\sqrt{4}] - [\sqrt{3}] + [\sqrt{2}] + [\sqrt{1}]$  کدام است؟ ( $[ ]$  نماد جزء صحیح است.)

- (۱) ۱      (۲) ۲      (۳) ۳      (۴) صفر

۸۹- در یک روستا، ۳۸ نفر از افراد بالای شانزده سال شاغل هستند، ضمناً ۱۲ نفر از افراد بالای شانزده سال جویای کار هستند. با ایجاد چه

تعداد شغل، نرخ بیکاری در این روستا به ۴ درصد می‌رسد؟

- (۱) ۸      (۲) ۹      (۳) ۱۰      (۴) ۱۱

۹۰- اگر شاخص پوسیدگی دندان در کشوری ۱۲ اعلام شده باشد، به طور متوسط هر فرد در این کشور، چند دندان پر شده دارد؟

- (۱) ۳      (۲) ۶      (۳) ۴      (۴) ۲



توجه: داوطلب گرامی، لطفاً از بین سوالات زوج درس ۱ (ریاضی و آمار (۳)، شماره ۹۱ تا ۱۰۰) و زوج درس ۲ (ریاضی و آمار (۱)، شماره ۱۰۱ تا ۱۱۰)، فقط یک سری را به انتخاب خود پاسخ دهید.

## ریاضی و آمار (۳) (سوالات ۹۱ تا ۱۰۰)

## زوج درس ۱

۹۱- با حروف کلمه‌ی «ارومیه» چند جایگشت سه حرفی بدون توجه به مفهوم آن می‌توان ساخت؟

- (۱) ۱۲۰ (۲) ۱۴۲ (۳) ۱۵۴ (۴) ۱۶۸

۹۲- ملیکا و نگین ۲ بار بازی سنگ، کاغذ، قیچی را انجام می‌دهند. فضای نمونه‌ای این آزمایش تصادفی چند عضو دارد؟

- (۱) ۹ (۲) ۱۸ (۳) ۸۱ (۴) ۹۰

۹۳- خانواده‌ای دارای ۴ فرزند است. احتمال آن‌که نصف فرزندان پسر و نصف فرزندان دختر باشند، چقدر است؟

- (۱)  $\frac{3}{8}$  (۲)  $\frac{5}{18}$  (۳)  $\frac{3}{16}$  (۴)  $\frac{5}{16}$

۹۴- درون کیسه‌ای ۴ مهره‌ی آبی متمایز و ۶ مهره‌ی قرمز متمایز وجود دارد. تعداد برآمدهای حاصل از انتخاب ۳ مهره به تصادف از بین مهره‌های فوق کدام است؟

- (۱) ۵۶ (۲) ۸۴ (۳) ۹۶ (۴) ۱۲۰

۹۵- از بین تمام اعداد سه‌رقمی ساخته‌شده با استفاده از ارقام عدد ۹۳۴۷۶، عددی به تصادف انتخاب شده است. با کدام احتمال این عدد فرد است؟

- (۱)  $\frac{1}{6}$  (۲)  $\frac{1}{5}$  (۳)  $\frac{1}{4}$  (۴)  $\frac{1}{3}$

۹۶- در پرتاب هم‌زمان یک تاس و یک سکه اگر A پیشامد آن‌که تاس عدد ۵ یا سکه پشت بیاید و B پیشامد آن‌که تاس عددی زوج باشد، آن‌گاه پیشامد  $A - B$  چند عضو دارد؟

- (۱) ۳ (۲) ۴ (۳) ۵ (۴) ۶

۹۷- با ۸ نقطه بر روی محیط یک دایره، چند مثلث می‌توان ساخت؟

- (۱) ۴۴ (۲) ۴۶ (۳) ۵۶ (۴) ۶۴

۹۸- کدام متغیرها، کمی نسبتی هستند؟

- (۱) درآمد افراد - دمای هوای شهر تهران  
(۲) شدت زلزله - نمره‌ی ریاضی دانش‌آموزان یک کلاس  
(۳) قطر لوله‌ی آب - وضعیت تأهل  
(۴) میزان علاقه‌ی افراد به ادامه تحصیل - قد افراد

۹۹- چند عدد سه‌رقمی وجود دارد که حداقل یکی از ارقام آن ۷ باشد؟

- (۱) ۲۴۲ (۲) ۲۴۸ (۳) ۲۵۲ (۴) ۲۵۸

۱۰۰- کدام یک از موارد زیر از زیرشاخه‌های گام طرح و برنامه‌ریزی در چرخه‌ی آمار در حل مسائل نمی‌باشد؟

- (۱) چگونگی اندازه‌گیری متغیرها  
(۲) سازماندهی داده‌ها  
(۳) شیوه‌ی تحلیل داده‌ها  
(۴) چگونگی نمونه‌گیری

## ریاضی و آمار (۱) (سوالات ۱۰۱ تا ۱۱۰)

## زوج درس ۲

۱۰۱- در تجزیه‌ی عبارت  $ax^2 - x^2 - 4a + 4$  کدام عامل وجود ندارد؟

- (۱)  $a - 1$  (۲)  $a + 1$  (۳)  $x - 2$  (۴)  $x + 2$





۱۰۲- در معادله  $\frac{x}{x+2} + \frac{1}{x} = 4$  حاصل ضرب ریشه‌ها کدام است؟

- (۱)  $-\frac{2}{3}$  (۲)  $\frac{2}{3}$  (۳)  $-\frac{3}{2}$  (۴)  $\frac{3}{2}$

۱۰۳- برای حل معادله‌ی درجه دوم  $x(2x-3)=6$  به روش مربع کامل کردن کدام مقدار را به طرفین تساوی اضافه می‌کنیم؟

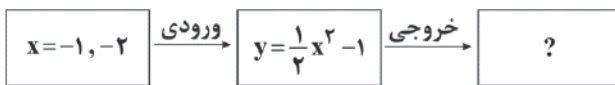
- (۱)  $\frac{16}{9}$  (۲)  $\frac{9}{16}$  (۳)  $\frac{9}{4}$  (۴)  $\frac{4}{9}$

۱۰۴- رأس سهمی به معادله‌ی  $y = -x^2 + 3x$  در کدام ناحیه‌ی محورهای مختصات قرار دارد؟

- (۱) اول (۲) دوم (۳) سوم (۴) چهارم

۱۰۵- در ماشین تابع زیر، مقادیر خروجی کدام است؟

- (۱)  $\frac{1}{2}, 1$



- (۲)  $\frac{1}{2}, -1$

- (۳)  $-\frac{1}{2}, 1$

- (۴)  $-\frac{1}{2}, -1$

۱۰۶- نمودار تابع خطی  $f$  از نقاط  $(2, 9)$  و  $(-1, -6)$  می‌گذرد. در این تابع، اختلاف  $f(0/2)$  و  $f(-0/2)$  کدام است؟

- (۱) صفر (۲) ۱ (۳) ۲ (۴) ۳

۱۰۷- مقیاس اندازه‌گیری در کدام گزینه نادریست بیان شده است؟

- (۱) وزن ← نسبتی  
(۲) دمای هوا ← نسبتی  
(۳) گروه خونی ← اسمی  
(۴) کد ملی افراد ← اسمی

۱۰۸- در نمودار جعبه‌ای ۲۷ داده‌ی آماری، میانگین داده‌های دنباله‌ی چپ و راست به ترتیب ۷ و ۱۶ می‌باشد. اگر میانگین بقیه‌ی داده‌ها (داخل و

روی جعبه) ۱۶ باشد، میانگین کل داده‌ها چقدر است؟

- (۱) ۱۴ (۲) ۱۵ (۳) ۱۶ (۴) ۱۳

۱۰۹- دامنه‌ی میان چارکی برای داده‌های مقابل کدام است؟

- (۱) ۸۳ (۲) ۹۴ (۳) ۸۲ (۴)  $65/5$

۱, ۱, ۲, ۳, ۸, ۱۰, ۱۳, ۲۰, ۲۵, ۴۵, ۵۷, ۸۵, ۸۶, ۸۷, ۹۵

۱۱۰- در یک نمودار راداری، زاویه‌ی بین شعاع‌ها  $72^\circ$  می‌باشد. این نمودار شامل چند متغیر است؟

- (۱) ۳ (۲) ۴ (۳) ۵ (۴) ۶



۱۱۱- به ..... که برای ایجاد نظم و انضباط و نظارت بر عملکرد اقتصاد با تأمین برخی نیازهای عمومی فعالیت می‌کند، ..... می‌گویند.

- (۱) دولت - بازیگر خرد  
(۲) انواع شرکت‌ها - بازیگران خرد  
(۳) انواع شرکت‌ها - بازیگران کلان  
(۴) دولت - بازیگر کلان



۱۱۲- با توجه به مندرجات جدول زیر، وضعیت این شرکت فرضی را مشخص کنید.

محصولات تولیدی طی یک سال	۱۲,۰۰۰ عدد
قیمت هر محصول	۲۰,۰۰۰ ریال
تعداد کارگران و کارمندان	۳۰ نفر
حقوق ماهیانه به طور متوسط	۴۰۰,۰۰۰ ریال
خرید مواد اولیه به صورت سالیانه	۲,۰۰۰,۰۰۰ ریال
سایر هزینه‌ها به صورت ماهیانه	۵,۰۰۰,۰۰۰ ریال
هزینه کل سالیانه	۲۲۴,۰۰۰,۰۰۰ ریال

(۱) سود ۱۶,۰۰۰,۰۰۰

(۲) زیان ۲۰۸,۰۰۰,۰۰۰

(۳) سود ۲۰۸,۰۰۰,۰۰۰

(۴) زیان ۱۶,۰۰۰,۰۰۰

۱۱۳- پاسخ درست سوالات زیر در کدام گزینه آمده است؟

(الف) کدام گزینه در رابطه با «بورس کالا» کاملاً درست می‌باشد؟

(ب) کدام گزینه از مواردی است که روی «ورقه سهم» درج می‌شود؟

(ج) صاحبان سهام به نسبت سهامی که خریده‌اند، مالک و در .....  
(۱) الف: بازاری است که در آن کالاهای معینی خرید و فروش و مبادله می‌شود. ب: تاریخ بازپرداخت سهم ج: سود شرکت سهم می‌شوند.

(۲) الف: بازاری است که در آن کالاهای معینی خرید و فروش و مبادله می‌شود. ب: مبلغ اسمی سهم ج: سود و زیان شرکت سهم می‌شوند.

(۳) الف: این گونه بازارها معمولاً به نام کالایی که در آن‌ها معامله می‌شود، نام‌گذاری می‌شوند. ب: تاریخ بازپرداخت سهم ج: سود شرکت سهم می‌شوند.

(۴) الف: این گونه بازارها معمولاً به نام کالایی که در آن‌ها معامله می‌شود، نام‌گذاری می‌شوند. ب: مبلغ اسمی سهم ج: سود و زیان شرکت سهم می‌شوند.

۱۱۴- یک کارگاه اقتصادی مجهز به دستگاه‌هایی به ارزش ۶۸۰ میلیارد تومان می‌باشد که سالیانه مبلغ ۳۴ میلیارد تومان را به عنوان هزینه‌های

استهلاک این تجهیزات در نظر گرفته است:

(الف) عمر مفید این تجهیزات چند سال تخمین زده می‌شود؟

(ب) اگر عمر مفید این تجهیزات ۱۷ سال در نظر گرفته شود و در ۴ سال آخر قیمت این تجهیزات ۲۰ درصد کاهش یافته باشد، مجموع هزینه

استهلاک چهار سال آخر چقدر می‌باشد؟

(ج) با توجه به اطلاعات قسمت «ب»، هزینه استهلاک در سال اول چقدر می‌باشد؟

(۱) الف: ۲۰ سال ب: ۱۳۶ میلیارد تومان ج: ۴۰ میلیارد تومان (۲) الف: ۱۵ سال ب: ۱۳۶ میلیارد تومان ج: ۳۲ میلیارد تومان

(۳) الف: ۲۰ سال ب: ۱۲۸ میلیارد تومان ج: ۴۰ میلیارد تومان (۴) الف: ۱۵ سال ب: ۱۲۸ میلیارد تومان ج: ۳۲ میلیارد تومان

۱۱۵- کدام گزینه کامل‌کننده عبارت‌های زیر است؟

(الف) در عقد جعاله، .....

(ب) مشارکت مدنی، قراردادی .....

(ج) در فروش اقساطی، بانک‌ها .....

(۱) الف: بانک سرمایه را تأمین و طرف دیگر با آن به تجارت می‌پردازد و نهایتاً سود سرمایه بین طرفین تقسیم می‌شود. ب: تجاری برای تأمین سرمایه شرکت‌های سهامی است. ج: مورد اجاره را تهیه کرده و پس از دریافت به موقع اجاره‌ها و عمل کردن مستأجر به تعهداتش، مورد اجاره را به او واگذار می‌کنند.

(۲) الف: کارفرما در قبال عمل مشخص کارگزار، اجرت معینی به او می‌پردازد. ب: بازرگانی برای در هم آمیختن سرمایه نقدی و یا جنسی بین چند شخص حقیقی یا حقوقی به منظور ایجاد سود می‌باشد. ج: بنا به تقاضای کتبی مشتری، سرمایه فیزیکی را خریداری و به صورت قسطی به مشتری می‌فروشند.

(۳) الف: بانک سرمایه را تأمین و طرف دیگر با آن به تجارت می‌پردازد و نهایتاً سود سرمایه بین طرفین تقسیم می‌شود. ب: بازرگانی برای در هم آمیختن سرمایه نقدی و یا جنسی بین چند شخص حقیقی یا حقوقی به منظور ایجاد سود می‌باشد. ج: بنا به تقاضای کتبی مشتری، سرمایه فیزیکی را در اختیار مشتری قرار داده و در صورت پرداخت به موقع اجاره سرمایه، عین مال در زمان سررسید به او واگذار می‌شود.

(۴) الف: کارفرما در قبال عمل مشخص کارگزار، اجرت معینی به او می‌پردازد. ب: تجاری برای تأمین سرمایه شرکت‌های سهامی است. ج: مورد اجاره را تهیه کرده و به صورت اقساطی به مشتری واگذار می‌کنند.



۱۱۶- جدول‌های زیر، نشانگر وضعیت توزیع درآمد در دو کشور A و B در یک سال فرضی می‌باشند؛  
الف) سهم دهک‌های دوم و چهارم در کشور A به ترتیب [از راست به چپ] چند درصد می‌باشد؟  
ب) وضعیت توزیع درآمد در کدام کشور در مقایسه با کشور دیگر نامناسب‌تر است؟

توزیع درآمد B		توزیع درآمد A	
سهم دهک اول	۵ درصد	سهم دهک اول	۴ درصد
سهم دهک دوم	۵/۵ درصد	سهم دهک دوم	؟
سهم دهک سوم	۶ درصد	سهم دهک سوم	۶ درصد
سهم دهک چهارم	؟	سهم دهک چهارم	؟
سهم دهک پنجم	۷/۵ درصد	سهم دهک پنجم	۷ درصد
سهم دهک ششم	۹/۵ درصد	سهم دهک ششم	۸ درصد
سهم دهک هفتم	۱۱ درصد	سهم دهک هفتم	۸/۵ درصد
سهم دهک هشتم	۱۴ درصد	سهم دهک هشتم	۱۱ درصد
سهم دهک نهم	۱۵ درصد	سهم دهک نهم	۱۸ درصد
سهم دهک دهم	؟	سهم دهک دهم	۲۶ درصد

\* در کشور A تفاوت سهم دهک‌های دوم و پنجم ۲ درصد و تفاوت سهم دهک‌های چهارم و هشتم ۴/۵ درصد می‌باشد.  
\* در کشور B تفاوت سهم دهک‌های دهم و دوم ۱۴/۵ درصد و تفاوت سهم دهک‌های هشتم و چهارم ۷/۵ درصد می‌باشد.

(۲) الف: ۶/۵ درصد - ۱۱ درصد ب: کشور A

(۱) الف: ۵ درصد - ۶/۵ درصد ب: کشور A

(۴) الف: ۵ درصد - ۶/۵ درصد ب: کشور B

(۳) الف: ۶/۵ درصد - ۱۱ درصد ب: کشور B

۱۱۷- کدام گزینه عبارت‌های زیر را به درستی تکمیل می‌کند؟

الف) در هر جامعه، ایجاد شرایطی که موجب مسئولیت‌پذیری افراد جامعه در برابر یک‌دیگر و رضایتمندی و شادکامی آن‌ها شود، یکی از نمادهای ..... می‌باشد.

ب) آن‌چه موجب گسترش محدوده اقتدار دولت‌ها در گذشته شد، عبارت است از .....

ج) وظیفه دولت در رفع مشکل بیکاری به معنای .....

(۱) الف: جامعه پیشرفته ب: شکل‌گیری تجارت و استفاده از روش‌های علمی و نوین در این فرآیند ج: این نیست که به بیکاران کار دهد و مستقیماً در بخش دولتی اشتغال ایجاد کند.

(۲) الف: رفاه اجتماعی ب: گذشت زمان و تکامل بشر به ویژه دستیابی به فناوری‌های نوین اجتماعی و کشف قوانین حاکم بر اجتماعات انسانی ج: این نیست که به بیکاران کار دهد و مستقیماً در بخش دولتی اشتغال ایجاد کند.

(۳) الف: رفاه اجتماعی ب: شکل‌گیری تجارت و استفاده از روش‌های علمی و نوین در این فرآیند ج: این است که برای همه افراد جامعه کار مهیا کند و مستقیماً در بخش دولتی اشتغال ایجاد کند.

(۴) الف: جامعه پیشرفته ب: گذشت زمان و تکامل بشر به ویژه دستیابی به فناوری‌های نوین اجتماعی و کشف قوانین حاکم بر اجتماعات انسانی ج: این است که برای همه افراد جامعه کار مهیا کند و مستقیماً در بخش دولتی اشتغال ایجاد کند.

۱۱۸- کدام گزینه پاسخ درست سوالات زیر است؟

الف) کدام مورد جزء عوامل مؤثر بر تصمیم خرید مصرف‌کنندگان نیست؟

ب) در حالت مازاد تقاضا، قیمت چه تغییری می‌کند تا به وضعیت تعادل برسد؟

ج) زمانی که یک شخص حقوقی برای خرید عمده محصولات بهداشتی از بازار حراجی استفاده می‌کند، از کدام گزینه این بازار استفاده می‌کند؟

(۲) الف: هزینه تولید ب: کاهش می‌یابد ج: مناقصه

(۱) الف: سلیقه فرد ب: افزایش می‌یابد ج: مزایده

(۴) الف: هزینه تولید ب: افزایش می‌یابد ج: مناقصه

(۳) الف: سلیقه فرد ب: کاهش می‌یابد ج: مزایده

۱۱۹- کشورها جهت دستیابی به استقلال اقتصادی، اهمیت ویژه‌ای برای رعایت «اصل مزیت نسبی» قائل هستند. کدام گزینه تعریف درستی را از این مزیت بیان نموده است؟

(۱) کشورها برای دستیابی به خودکفایی باید به تولید تمامی کالاها اقدام نمایند.

(۲) کشورها برای مبارزه با بیکاری باید اقدام به تولید و خلق ارزش افزوده در محصولات غیرمزیتی نمایند.

(۳) هر منطقه یا کشور باید کالایی را تولید کند که هزینه تولید آن در مقایسه با سایر نقاط کم‌تر باشد.

(۴) هر منطقه یا کشور باید کالایی را تولید کند که هزینه تولید آن در مقایسه با سایر کالاها در کشور کم‌تر باشد.



۱۲۰- کدام عامل باعث شده است که هماهنگی سطح توسعه و سطح رشد در کشور قطر از بین برود؟

- (۱) ایجاد بهبود در شاخص‌های توسعه با پیش‌بینی و اجرای برنامه‌های بلندمدت
- (۲) استفاده از نیروی کار خارجی
- (۳) داشتن یک ماده‌گران‌بهای معدنی
- (۴) همکاری و درخواست کمک از سایر کشورها



## علوم و فنون ادبی



۱۲۱- اطلاعات ادبی درج شده در برابر چند اثر نادرست است؟

(الف) جامع‌التواریخ: کتابی که در شرح ظهور چنگیز، احوال و فتوحات او، تاریخ خوارزم‌شاهیان، فتح قلعه‌های اسماعیلیه و حکومت جانشینان حسن صباح نوشته شده.

- (ب) نفعات‌الانس: اثری به شیوه تذکره‌الاولیای عطار در بیان حقایق عرفانی و ذکر احوال عارفان از سراینده «بهارستان».
- (ج) جمشید و خورشید: قصیده بلندی از سلمان ساوجی که به شیوه داستان‌های نظامی سروده شده است.
- (د) عشاق‌نامه: اثری پیرامون سیر و سلوک عارفانه و در قالب نظم و نثر که در قرن هفتم تألیف شده.
- (ه) اخلاق‌الاشراف: منظومه‌ای که در آن ناهنجاری‌های اجتماعی به شیوه طنز و تمثیل بیان شده است.

(۱) ۲ (۲) ۳ (۳) ۴ (۴) ۵

۱۲۲- عبارت درج شده در برابر چند شخصیت ادبی درست است؟

- (الف) خواجوی کرمانی: چند مثنوی به پیروی از «پنج‌گنج» نظامی سروده و غزل‌هایش بر حافظ تأثیرگذار بوده.
- (ب) سلمان ساوجی: در غزل توجه خاصی به سعدی و مولوی داشته و دارای قصایدی نیز در سبک عراقی است.
- (ج) خواجه رشیدالدین فضل‌الله: اقدام مهم فرهنگی او تأسیس عمارت ربع رشیدی در تبریز است.
- (د) ابن‌بمین: مردی دهقان پیشه بود که قدرت شاعری خود را در قطعات اخلاقی آشکار کرده است.
- (ه) عبید زاکانی: نام‌لایمات اوضاع آشفته روزگار خود را برنمی‌تافت و تزویر و ریاکاری حاکمان را در آثارش به تصویر می‌کشید.

(۱) ۲ (۲) ۳ (۳) ۴ (۴) ۵

۱۲۳- در همه گزینه‌ها از «واژه‌های مرسوم در سبک هندی» استفاده شده است، به جز .....

- (۱) بی‌قدری دل نیست جز آهنگ غرورش
- (۲) بر دهان صبح، اختر بخیه نتوانست زد
- (۳) از لب خاموش طوفان جنون را ساحلم
- (۴) گویند سنگ لعل شود در مقام صبر

۱۲۴- درباره «نثر دوره هندی» کدام گزینه نادرست است؟

- (۱) نثر ساده هندی از جنس نثر مرسل در تاریخ بلعمی است.
- (۲) از نثر مصنوع هندی در دوره صفویه در فرمان‌ها و منشآت و دیباچه کتاب‌ها استفاده می‌شد.
- (۳) نثر مصنوع هندی حلاوت و فخامت نثر فنی قرن ششم و هفتم را ندارد.
- (۴) در نثر بینابین می‌توان گفت که قصد نویسنده، در اصل آسان‌نویسی بوده است.

۱۲۵- در کدام گزینه «به کار بردن تمثیل و اسلوب معادله» که یکی از ویژگی‌های سبک هندی است، وجود دارد؟

- (۱) پنهان مکن چو بی‌جگران روی در سپر
- (۲) در پایتخت عشق که تاج است بی‌سری
- (۳) یک بار رو چرا به در دل نمی‌کنند
- (۴) در پیروی از گرانی غفلت مباحش امن
- از حفظ حق ببین چه سپرها همی‌دهند
- بیرون رو از میان که کمرها همی‌دهند
- این ناکسان که زحمت درها همی‌دهند؟
- خواب‌گران به وقت سحرها همی‌دهند



۱۲۶- در همهٔ گزینه‌ها «مجاز با رابطهٔ شباهت» به کار رفته است، به جز.....

- (۱) گلیم نبایید و سرورم به چشم درناید  
(۲) غمزه‌اش راه دل زند، که بیبا  
(۳) خرم بهار من که ز عید است تازه‌تر  
(۴) لعلش چو عقیق گوهر آگین

۱۲۷- در کدام گزینه همهٔ «ارکان تشبیه» ذکر شده است؟

- (۱) چو دجله گشت کنارم در آرزوی شبی  
(۲) اگر روم بدود اشک و دامنم گیرد  
(۳) ز آتش عشق تو آن سوز که در باطن ماست  
(۴) لب‌ت تا در شکفتن لالهٔ سیراب را ماند

۱۲۸- تقطیع کدام گزینه با الگوی هجایی «- U - U / - U U - / - U - U / - U U -» مطابقت دارد؟

- (۱) نیست زمام کام دل در کف اختیار من  
(۲) گر نه تهی باشدی بیشترین جوی‌ها  
(۳) چمنی که تا قیامت گل او به بار بادا  
(۴) کار من این است که کاریم نیست

۱۲۹- وزن کدام بیت «دوری» است؟

- (۱) ملامت‌گوی بی حاصل ترنج از دست نشناسد  
(۲) یکی را نعیمی، یکی را جحیمی  
(۳) گر نه که روز روشنی پیشه گرفته رهزنی  
(۴) من خشمم خسته‌گلو عارف گوینده بگو

۱۳۰- وزن چند بیت در برابر آن نادرست نوشته شده است؟

- (الف) فتنه برانگیخت دل خون شهبان ریخت دل  
(ب) امروز چنان مستی کز جوی جهان جستی  
(ج) این‌جا کسی است پنهان خود را مگیر تنها  
(د) بر در و بام دل نگر جمله نشان پای توست

- مفتعلن مفتعلن مفتعلن مفتعلن  
مفعول فاعلاتن مفعول فاعلاتن  
مستفعل مفعولن مستفعل مفعولن  
مفتعلن فاعلن مفتعلن فاعلن

با همه آمیخت دل گرچه جدا می‌رود: ۱ (۴)  
امروز اگر خواهی آن چیز دگر برگو: ۲ (۳)  
بس تیز گوش دارد مگشا به بد زبان را: ۳ (۲)  
بر در و بام مردمان دوش چرا دویده‌ای: ۴ (۱)

توجه: داوطلب گرامی، لطفاً از بین سؤالات زوج درس ۱ (علوم و فنون ادبی (۳)، شمارهٔ ۱۳۱ تا ۱۴۰) و زوج درس ۲ (علوم و فنون ادبی (۱)، شمارهٔ ۱۴۱ تا ۱۵۰)، فقط یک سری را به انتخاب خود پاسخ دهید.

### زوج درس ۱

### علوم و فنون ادبی (۳) (سؤالات ۱۳۱ تا ۱۴۰)

۱۳۱- کدام بیت با قطعهٔ «قلب مادر»، اثر ایرج میرزا هم‌وزن است؟

- (۱) من بیچارهٔ گردن به کمنند  
(۲) زلف خاتون ظفر شیفتهٔ پرچم توست  
(۳) هرکه چون لاله کاسه گردان شد  
(۴) یارب این آتش که بر جان من است
- چه کنم گر به رکابش نروم  
دیدهٔ فتح ابد عاشق جولان تو باد  
زین جفا رخ به خون بشوید باز  
سرد کن زان سان که کردی بر خلیل



۱۳۲- کدام گزینه یادآور نام دو شاعر بازگشتی است که غزل‌سرایی به سبک حافظ، سعدی و دیگر شاعران سبک عراقی را پیش گرفتند؟

- (۱) خسروا به که در محامد تو  
(۲) بپر بهر نشاط انده به عودی از دل عشرت  
(۳) سروش هاتف غیب این ندا به جان در داد  
(۴) یک خاطر آشفته نشد جمع فروغی

۱۳۳- کدام گزینه سروده پدیدآورنده نمایش‌نامه منظوم «ایده‌آل» است؟

- (۱) غلغلی انداختی در شهر تهران ای قلم  
(۲) گر این چنین به خاک وطن شب سحر کنم  
(۳) آن زمان که بنهادم سر به پای آزادی  
(۴) از خون جوانان وطن لاله دمیده

۱۳۴- چند عبارت نادرست است؟

(الف) محمدتقی بهار: با زبان حماسی و در سبک خراسانی شعر می‌سرود.

(ب) محمدصادق امیری: مسائل عصر را با کاربرد زبان و اصطلاحات رایج و آمیخته به شعر و ضرب‌المثل‌های لطیف، به سبک گلستان نوشت.

(ج) سید اشرف‌الدین گیلانی: شعرهای او به زبان ساده و طنزآمیز در در روزنامه «نسیم شمال» به چاپ می‌رسید.

(د) ایرج میرزا: جایگاه خانوادگی و تفکرات شخصی او، مانع از آن می‌شود که وی در ردیف شاعران آزادی‌خواه مشروطه قرار گیرد.

(ه) فرخی یزدی: او در روزنامه «قرن بیستم» به افشاگری اعمال پلید و مقاصد شوم رجال خائن زمان پرداخت.

(و) سید محمدرضا میرزاده عشقی: تحت تأثیر شاعران گذشته، به‌ویژه مسعود سعد و سعدی بود. آشنایی با سعدی طبع وی را شکوفا ساخت.

(ز) قائم‌مقام فراهانی: سردبیر روزنامه «مجلس» که در قصیده بیشتر از قالب‌های دیگر طبع آزمایی کرده.

- (۱) شش (۲) پنج (۳) چهار (۴) سه

۱۳۵- وزن کدام گزینه «مستفعلن مفاعل مستفعلن فعل» است؟

- (۱) بیچاره دلم بی کس کز شوق رخت هر شب  
(۲) از جرم و جفاجویی چون دست نمی‌شویی  
(۳) ای آسمان تباه مکن روزگار من  
(۴) دلدار که گفتا به توام دل نگران است

۱۳۶- کدام گزینه با بیت «محمد ای به جهان عین فضل و ذات هنر / تویی اگر بود از فضل و از هنر پیکر» هم‌وزن است؟

- (۱) ز عشق عاشق مفلس عجب فتند لئیمان  
(۲) به روز بخشش دستش به مال داد جواب  
(۳) رخ یارم چو گلستان رخ زارم چو زعفران  
(۴) همه خفتند و من دل‌شده را خواب نبرد

۱۳۷- کدام گزینه با الگوی هجایی «U U / - U - U / - - U U / - U - U» قابل تطبیق است؟

- (۱) چو ز آفتاب زادم به خدا که کی قبادم  
(۲) کمال حسن وجودت به وصف راست نیاید  
(۳) کدام حسن و جمالی که آن نه عکس تو است  
(۴) آن که ز دیو زاده بد دست جفا گشاده بد

- (۱) بر خاک دلت افتد در خون جگر خیزد  
(۲) بر روی بزن آبی میقات صلا آمد  
(۳) خواهی کنی ز صفحه تو محو اعتبار من  
(۴) گو می‌رسم اینک به سلامت نگران باش

- (۱) که آن‌چه رشک شهان شد گدا امید چه دارد  
(۲) هر آن کسی که مر او را به مدح کرد سؤال  
(۳) رخ او چون چنین بود رخ عاشق چنان شود  
(۴) همه شب دیده من بر فلک استاره شمرد

- (۱) نه به شب طلوع سازم نه ز ماه تاب گویم  
(۲) مگر هم آینه گوید چنان که هست حکایت  
(۳) کدام شاه و امیری که او گدای تو نیست  
(۴) هیچ گمان مبر که او در بر حور می‌رود





۱۴۴- در واژگان کدام بیت رابطه «تضاد» وجود ندارد؟

- ۱) شنیده‌ام که تو گفستی بد است حال فلانی
- ۲) به بوی زلف و رخت می‌روند و می‌آیند
- ۳) هر گه که بسوزد جگرم دیده بگرید
- ۴) بیبا بنشین و می‌بستان و می‌نوش

۱۴۵- اگر بخواهیم ابیات زیر را به ترتیب داشتن آرایه‌های «تشبیه - جناس - تشخیص - کنایه - تضاد» مرتب کنیم، کدام گزینه درست است؟

- الف) ما چشم عقاب و دل شهباز نداریم
- ب) فتند اهل نظر چون به پایش از پس دیگر
- ج) ما را به بهشت و دوزخ کاری نیست
- د) رخ است آن یا چمن یا باغ نسرین؟
- ه) دلم دور از رخت تا صبح دم دوش

- ۱) د - ه - ب - الف - ج      ۲) الف - ج - ب - ه - د      ۳) الف - ج - ه - د - ب      ۴) الف - ه - ج - ب - د

۱۴۶- «ارزش موسیقایی سجع‌ها» در کدام گزینه کم‌تر است؟

- ۱) عزیزا کار از دو بیرون نیست. یا خلعت وصال دوخته‌اند یا کسوت فراق.
- ۲) به طریق وعظ گفتم با جماعتی افسرده دل‌مرده، ره از عالم صورت به عالم معنی نبرده.
- ۳) درهای آسمان بر زمین بسته و فریاد اهل زمین به آسمان پیوسته.
- ۴) این خاموشی تا کی؟ ای یاری که هرگز یار خود را یاد نیاری. این فراموشی تا کی؟

۱۴۷- با توجه به معنی و آهنگ خواندن بیت‌ها، در چند بیت سخن شاعر با پایان یافتن مصراع اول تمام نمی‌شود؟

- الف) چون توانی زیستن در این قفس؟
- ب) بهر مردی چون تو والا و حکیم
- ج) جمله گفتند این بنای مختصر
- د) گفت در پاسخ که ما را باک نیست
- ه) بیش از این گر یار یکدل داشتم

- ۱) ۱      ۲) ۲      ۳) ۳      ۴) ۴

۱۴۸- معنی واژه «چون» در کدام دو بیت، یکسان است؟

- الف) چون به پایان بُرد کار آن سرا
- ب) چون توانی زیستن در این قفس؟
- ج) بهر مردی چون تو والا و حکیم
- د) در شبستان تو چون آییم جمع

- آمدند از ره، رفیق و آشنا
- این قفس نبود مقام چون تو کس
- بارگاهی بایسد و کاخی عظیم
- هم چو پروانه به گرد روی شمع؟

- ۱) الف و ج      ۲) ب و د      ۳) الف و د      ۴) ب و ج

۱۴۹- پیام مصراع «به دل می‌گفت با دل نیست بازی» در کدام بیت تکرار شده است؟

- ۱) همراه اگر شتاب کند هم‌ره تو نیست
- ۲) ای دل درویش، با خوبان نظربازی مکن
- ۳) در این کز دل بدی با من شکی نیست
- ۴) چشم تو بیدار باشد یا به خواب

- دل در کسی میند که دل‌بسته تو نیست
- کاندر این بازیچه نقد دین و دل پرداختی
- که خوبان را زبان با دل یکی نیست
- دل ببیند بی شمع آفتاب





۱۵۰- کدام گزینه با بیت «دل نیست کبوتر که چو برخاست نشیند / از گوشهٔ بامی که پریدیم، پریدیم» تناسب معنایی کم‌تری دارد؟

- ۱) مرنجان دلم را که این مرغ وحشی
  - ۲) هرچه نه پیوند یار بود بریدیم
  - ۳) کاری مکن که پا کشم از آستان تو
  - ۴) چونان که تو از صحبت ما سیر شده‌ستی
- ز بامی که برخاست مشکل نشیند  
وان چه نه پیمان دوست بود شکستیم  
داغ صبوری‌ای که ندارم، به جان نهم  
ما نیز هم از صحبت تو سیر شده‌ستیم



۱۵۱- کدام گزینه با عبارت «گروهی طبیعت را در مقابل جهان انسانی قرار می‌دهند» مرتبط است؟

- ۱) برخی جهان تکوینی را به طبیعت محدود می‌کنند و با تقسیم جهان انسانی به دو جهان ذهنی و فرهنگی، از سه جهان سخن می‌گویند.
- ۲) گروهی جهان فرهنگی را مهم‌تر از جهان ذهنی و تکوینی می‌دانند و جهان تکوینی را مادهٔ خامی برای تصرف جوامع مختلف می‌دانند.
- ۳) برخی جهان فرهنگی، جهان ذهنی و جهان تکوینی را مهم و در تعامل با یکدیگر می‌دانند و ادراک و آگاهی را منحصر به انسان نمی‌کنند.
- ۴) گروهی جهان تکوینی را به جهان طبیعت محدود می‌کنند و جهان ذهنی را مهم‌تر از جهان طبیعت و جهان فرهنگی می‌دانند.

۱۵۲- عبارت «اروپاییان در یک دورهٔ پنجاه ساله، پانزده میلیون سرخ‌پوست را نابود کردند» به ..... اشاره دارد و اروپا در پنج قرن اخیر، کانون شکل‌گیری فرهنگ جدیدی است که آن را به نام ..... می‌شناسیم.

- ۱) استعمار - فرهنگ غرب      ۲) امپریالیسم - فرهنگ سلطه      ۳) استکبار - فرهنگ جهانی      ۴) استبداد - فرهنگ سرمایه‌داری

۱۵۳- هر عبارت با کدام گزینه مرتبط است؟ (به ترتیب)

- توان داوری ارزشی ندارد.

- بر مبنای اندیشهٔ اومانستی

- جهان‌بینی غالب فرهنگ غرب

- ۱) بحران معرفت‌شناختی - حقوق بشر - روشنگری خاص

- ۲) علم تجربی سکولار - حقوق بشر - سکولاریسم

- ۳) بحران معرفت‌شناختی - حقوق انسان - اومانیسم

- ۴) علم تجربی سکولار - حقوق انسان - اومانیسم

۱۵۴- کدام گزینه ترتیب صحیح فرآیند تکوین نظام نوین جهانی را نشان می‌دهد؟

۱) پیدایش قدرتهای سیاسی سکولار ← استعمار و ادغام جوامع در نظام نوین جهانی ← به خدمت گرفتن مبلغان مذهبی

۲) به خدمت گرفتن سازمان‌های فراماسونری ← پیوند قدرت با تجارت، سرمایه و صنعت ← پیدایش قدرتهای سیاسی سکولار

۳) استعمار و ادغام جوامع در نظام نوین جهانی ← به خدمت گرفتن مبلغان مذهبی ← پیوند قدرت با تجارت، سرمایه و صنعت

۴) پیوند قدرت با تجارت، سرمایه و صنعت ← به خدمت گرفتن سازمان‌های فراماسونری ← استعمار و ادغام جوامع در نظام نوین جهانی

۱۵۵- کدام گزینه جدول زیر را به درستی کامل می‌کند؟ (به ترتیب)

۱) تک‌محصولی شدن - پیدایش قدرتهای استعماری

۲) از بین رفتن قدرت چانه‌زنی - شکل‌گیری امپراتوری رسانه

۳) نامتعادل شدن مبادلات تجاری - افول قدرت کلیسا

۴) جریان یافتن ثروت به سوی کشورهای غربی - بازگشت به قرون وسطی

۱۵۶- لیبرالیسم قرن‌های ..... و ..... را ..... می‌نامند و رویکرد نظریه‌پردازان لیبرال نسبت به دولت چگونه بود؟

۱) نوزدهم - بیستم - لیبرالیسم اولیه - مخالف هر نوع مداخلهٔ دولت در اقتصاد بودند.

۲) هجدهم - نوزدهم - لیبرالیسم سیاسی - موافق مداخلهٔ دولت بودند.

۳) نوزدهم - بیستم - لیبرالیسم اقتصادی - موافق مداخلهٔ دولت بودند.

۴) هجدهم - نوزدهم - لیبرالیسم اولیه - مخالف هر نوع مداخلهٔ دولت در اقتصاد بودند.

معلول	علت
(الف)	وابستگی اقتصادی کشورهای استعمارزده به کشورهای استعمارگر
پیدایش دولت - ملت‌ها	(ب)



۱۵۷- در صورتی می‌توان با برخی قید و بندها که مانع رسیدن انسان به کمال و حقوق انسانی‌اش می‌شوند، مقابله کرد که فرهنگ جهانی به ارزش ..... معتقد و پایبند باشد و در صورتی می‌توان از پایداری شدن حقوق انسان‌ها جلوگیری کرد که فرهنگ جهانی، دارای ارزش جهان‌شمول ..... باشد.

(۱) آزادی - عدالت (۲) تعهد و مسئولیت - عقلانیت (۳) عدالت - آزادی (۴) عقلانیت - تعهد و مسئولیت

۱۵۸- عبارتهای زیر به ترتیب با کدام قسمت جدول مرتبط هستند؟

- انسان اجازه هرگونه تصرفی را در طبیعت دارد.

- طبیعت ماده‌ای خام و بی‌جان نیست و همه موجودات به سوی خداوند بازمی‌گردند.

- طبیعت از ابعاد و نیروهای ماورائی برخوردار است.

(۱) ج - الف - ب (۲) الف - ج - ب (۳) ج - ب - الف (۴) ب - الف - ج

۱۵۹- هر عبارت به ترتیب به کدام نوع چالش و بحران مربوط می‌شود؟

- نزاع بین کشورهای غنی و فقیر را به ابعاد اقتصادی محدود نمی‌کنند و به ابعاد فرهنگی نیز توجه دارند.

- آسیب‌های مربوط به آن تمامی جامعه را دربر می‌گیرد و اغلب با چالش فقر و غنا پیوند می‌خورد.

- انسان مدرن به دلیل نگاه دنیوی و سکولار خود، نگاه دینی و معنوی به طبیعت را کودکانه می‌پندارد.

(۱) بحران اقتصادی - چالش فقر و غنا - چالش شمال و جنوب

(۲) چالش شمال و جنوب - بحران اقتصادی - بحران زیست‌محیطی

(۳) بحران زیست‌محیطی - چالش فقر و غنا - بحران اقتصادی

(۴) اصطلاح استعمارگر و استعمارزده - بحران اقتصادی - بحران زیست‌محیطی

۱۶۰- به ترتیب پیامد هر عبارت را کدام گزینه نشان می‌دهد؟

- فروپاشی بلوک شرق

- حکومت منورالفکران غربگرا در کشورهای اسلامی

- اتکای حاکمان سکولار به قدرت استعمار

- دوری دولت‌های کشورهای مسلمان از سنن دینی

(۱) روی آوردن غربگرایان به اندیشه‌های لیبرالیستی - استبداد استعماری - حذف ساختارهای اجتماعی جدید - تقویت استقلال و عزت کشورهای اسلامی

(۲) از بین رفتن جاذبه‌های روشنفکری - استبداد ایلی و قومی - حذف ساختارهای اجتماعی پیشین - آسیب‌پذیری بیشتر در برابر کشورهای غربی

(۳) روی آوردن غربگرایان به اندیشه‌های ناسیونالیستی - استبداد ایلی و تاریخی - از بین بردن مظاهر دینی و اسلامی - تقویت استقلال و عزت کشورهای اسلامی

(۴) از بین رفتن جاذبه‌های روشنفکری - استبداد استعماری - از بین بردن مظاهر دینی و اسلامی - آسیب‌پذیری بیشتر در برابر کشورهای غربی

توجه: داوطلب گرامی، لطفاً از بین سوالات زوج درس ۱ (جامعه‌شناسی (۳)، شماره ۱۶۱ تا ۱۷۰) و زوج درس ۲ (جامعه‌شناسی (۱)، شماره ۱۷۱ تا ۱۸۰)، فقط یک سری را به انتخاب خود پاسخ دهید.

### زوج درس ۱

### جامعه‌شناسی (۳) (سوالات ۱۶۱ تا ۱۷۰)

۱۶۱- درست (ص) یا نادرست (غ) بودن عبارتهای زیر را کدام گزینه به درستی نشان می‌دهد؟ (به ترتیب)

(الف) ما حتی اگر درباره علوم طبیعی اطلاعات چندانی نداشته باشیم، می‌پذیریم که این علوم خوب هستند و نتایج سودمندی دارند.

(ب) برخی علوم انسانی در زمره علوم اجتماعی نیستند، مانند روان‌شناسی و جامعه‌شناسی.

(ج) امروزه به جای این‌که فناوری، زندگی انسان‌ها را کنترل کند، انسان، توسعه فناوری را هدایت و راهبری می‌کند.

(د) علوم انسانی به دلیل این‌که به فهم معانی کنش‌های انسان‌ها می‌پردازند، علوم تفهیمی نامیده می‌شوند.

(۱) ص - غ - غ - ص (۲) غ - غ - ص - ص (۳) ص - ص - غ - ص (۴) غ - ص - ص - غ



۱۶۲- پاسخ سوالات زیر را به ترتیب کدام گزینه به درستی نشان می‌دهد؟

- اشتراک رشته‌های اقتصاد، جغرافیای انسانی و زبان‌شناسی چیست؟

- اصل وجود به چه معناست؟

- اشتراک جامعه‌شناسی تبیینی، تفسیری و انتقادی چیست؟

(۱) به یکدیگر نیازمند و مکمل‌اند - قانون علیت - پدیده‌های اجتماعی را مطالعه می‌کنند.

(۲) مطالعه پدیده‌های اجتماعی - پرداختن به پدیده‌ای خاص - رویکردهای مختلف جامعه‌شناسی

(۳) مطالعه پدیده‌های طبیعی - کنش‌های اجتماعی و پیامدهای آن - اهمیت بیشتر نسبت به علوم طبیعی

(۴) مطالعه پدیده‌های اجتماعی - شناسایی قوانین کلی موجودات - شکل‌گیری براساس دوری و نزدیکی به علوم طبیعی

۱۶۳- درست (ص) یا نادرست (غ) بودن عبارت‌های زیر را کدام گزینه به درستی نشان می‌دهد؟ (به ترتیب)

(الف) قانون علیت می‌گوید هیچ اتفاقی خود به خود در جهان رخ نمی‌دهد.

(ب) با مقایسه علوم طبیعی و علوم اجتماعی می‌توان به برخی فواید علوم اجتماعی پی برد.

(ج) پدیده‌های اجتماعی مانند پدیده‌های طبیعی به تصمیم و اقدام انسان‌ها وابسته‌اند و اهداف و معانی خاصی دارند.

(د) به دلیل آگاهانه و ارادی بودن کنش‌های اجتماعی، پیش‌بینی در علوم اجتماعی پیچیده‌تر از علوم طبیعی است.

(۱) غ - ص - ص - غ

(۳) غ - غ - ص - غ

(۲) ص - غ - غ - ص

(۴) ص - ص - ص - غ

۱۶۴- کدام گزینه به ترتیب با نمودارهای زیر مرتبط است؟



(۱) برتری دانش تجربی بر دانش حاصل از زندگی را بی‌اعتبار می‌داند و به عکس دانش عمومی را پایه و اساس هرگونه دانشی از جمله دانش تجربی

می‌داند - دانش علمی به دانش تجربی محدود نمی‌شود، بلکه دانش‌های فراتجربی مانند دانش‌های عقلانی و وحیانی را نیز شامل می‌شود.

(۲) دانش علمی به دانش تجربی محدود نمی‌شود، بلکه دانش‌های فراتجربی را نیز شامل می‌شود - دانش علمی به دلیل امکان اعتباریابی نسبت به

دانش عمومی از اعتبار بیشتری برخوردار است.

(۳) دانش‌ها کشف و بازخوانی واقعیت نیستند، بلکه خلق و بازسازی آن هستند که انسان‌ها برای سامان دادن به زندگی خود تولید می‌کنند - دانش عمومی

در مقابل دانش علمی از ارزش ناچیزی برخوردار است و دانش علمی برای حفظ هویت خود باید از ورود دانش عمومی به قلمرو علم جلوگیری کند.

(۴) تفاوت دانش علمی و دانش عمومی در روش آن‌هاست، دانش علمی تنها از راه حس و تجربه و به صورت نظام‌مند به دست می‌آید - دانش علمی

و دانش عمومی بر یکدیگر اثر گذاشته و از هم اثر می‌پذیرند و به مرور متناسب می‌شوند.

۱۶۵- به ترتیب هر عبارت به کدام موضوع اشاره دارد؟

- پویش دانشجویان ترکیه علیه قانون منع حجاب در مدارس، دانشگاه‌ها و ادارات دولتی

- خالی از سکنه ماندن شهر اوردوس با وجود سرمایه‌گذاری و برنامه‌ریزی دولت چین

- اندازه‌گیری اجزای بدن در ایام جنگ جهانی دوم برای تعیین نژاد برتر

(۱) انسان‌ها می‌توانند از مشکلات احتمالی ساختارها بکاهند - پیامدهای نادیده گرفتن کنش در زندگی اجتماعی انسان‌ها - رکود اراده‌ها

(۲) انسان‌ها صرفاً مجریان نظم نیستند - تمرکز بر آن‌چه مشاهده می‌شود از سوی رویکرد تبیینی و نادیده گرفتن معنای کنش - سقوط ارزش‌ها

(۳) همراهی همدلانه - تأکید بیش از اندازه بر آگاهی و معنا - اخلاق‌گریزی

(۴) انسان‌ها می‌توانند از نظم موجود فراتر روند - افول معانی - تمرکز رویکرد تبیینی بر آن‌چه درون انسان می‌گذرد و نادیده گرفتن خلاقیت



۱۶۶- کدام گزینه در ارتباط با تصویر زیر درست است؟



(۱) در زندگی روزمره، نظم بیش‌تر به چشم می‌آید و بی‌نظمی از نظر پنهان است، مانند رعایت قوانین راهنمایی و رانندگی.

(۲) نظم یعنی قرار گرفتن هر پدیده در جای خود که جای پدیده‌ها را همین قواعد تعیین می‌کنند و هر فرد تلاش می‌کند آن‌ها را رعایت کند.

(۳) نظم اجتماعی پیش‌بینی رفتار دیگران و همکاری با آن‌ها را امکان‌پذیر می‌نماید، ولی اغلب دانسته‌های ما غلط از آب درمی‌آیند و از همکاری با دیگران باز می‌مانیم.

(۴) گاهی دیگران مطابق انتظارات رفتار نمی‌کنند و حوادثی خلاف قواعد اجتماعی رخ می‌دهند.

۱۶۷- کدام گزینه به ترتیب به سوالات زیر به درستی پاسخ می‌دهد؟

- برخی رویکردهای جامعه‌شناسی به چه موضوعی توجه کافی نکرده‌اند؟

- منظور از پویا بودن نظام اجتماعی چیست؟

- پیامد تصور اداره کردن جامعه با قوانینی به استحکام قوانین طبیعت چیست؟

(۱) جامعه یک موجود زنده نیست، بلکه شبیه یک موجود زنده است - بخش‌های مختلف آن بر یکدیگر اثر می‌گذارند و از یکدیگر اثر می‌پذیرند - فقط می‌توان با دانش‌های ابزاری جامعه را شناخت.

(۲) جامعه یک موجود زنده است و دارای بدن و روح است - هم می‌تواند در خود تغییراتی ایجاد کند، هم می‌تواند در محیط خود تغییراتی ایجاد کند - قادر خواهیم بود تغییراتی بنیادین در جامعه ایجاد کنیم.

(۳) جامعه یک موجود زنده نیست، بلکه شبیه یک موجود زنده است - بخش‌های مختلف آن بنا به نیازهای خود از یکدیگر مستقل عمل می‌کنند - جامعه بیرون و مستقل از انسان خواهد بود.

(۴) جامعه یک موجود زنده است و شبیه آن نیست - بخش‌های مختلف آن تا حدودی از یکدیگر مستقل هستند - فقط می‌توان خود را با نظم جامعه تطبیق داد و سازگار کرد.

۱۶۸- به ترتیب هر عبارت به کدام مفهوم و موضوع اشاره دارد؟

- تأکید بر آگاهی و معنا از سوی نظریه پردازان کنش اجتماعی

- انسان با وجود آزادی و قدرت در فضای مجازی، تحت کنترل قرار می‌گیرد و با وجود سرگرم شدن، سطحی می‌گردد.

- انکار ارزش‌های عاطفی و مذهبی

- گالیله روش تجربی را در موقعیتی به کار گرفت که شهود آباء کلیسا تنها روش علمی قابل قبول بود.

(۱) هموار شدن مسیر برای عبور از جامعه‌شناسی تبیینی و روی آوردن به جامعه‌شناسی تفسیری - پیامدهای معنای به‌روز بودن - اخلاق‌گریزی - فراتر رفتن از نظم موجود

(۲) هموار شدن مسیر برای تغییر رویکرد از تفسیر به تبیین - پیامدهای معنای به‌روز بودن - اخلاق‌گریزی - انسان‌ها صرفاً مجریان نظم نیستند.

(۳) هموار شدن مسیر برای عبور از جامعه‌شناسان تبیینی و روی آوردن به جامعه‌شناسی تفسیری - پیامدهای نادیده گرفتن معنای کنش اجتماعی - اخلاق‌گرایی - رکود اراده‌ها

(۴) هموار شدن مسیر برای تغییر رویکرد از تبیین به تفسیر - پیامدهای معنای به‌روز بودن - همراهی همدلانه - افول معانی

۱۶۹- درست (ص) یا نادرست (غ) بودن عبارت‌های زیر را کدام گزینه به درستی نشان می‌دهد؟ (به ترتیب)

(الف) از نیمه دوم قرن بیستم میلادی عده‌ای در جهان غرب پیدا شدند که به جای موضوع بر روش علوم تأکید کردند.

(ب) یکی از پیامدهای تعارضات در ذخیره دانشی، از دست دادن دغدغه و توان لازم برای حل مسائل دانش عمومی است.

(ج) کنش آدمی وابسته به آگاهی است و بدون آگاهی انجام نمی‌شود، ولی انسان‌ها از اهمیت این آگاهی غافل‌اند.

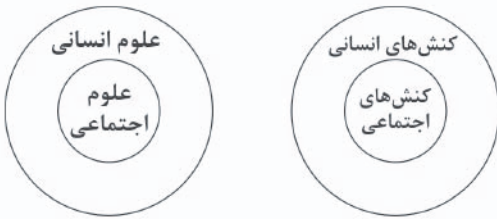
(د) افراد، گروه‌ها و اقوام خاصی ذخیره دانشی دارند که راهنمای زندگی آن‌هاست.

(۱) غ - ص - ص - غ (۲) ص - ص - غ - غ (۳) غ - غ - ص - ص (۴) غ - ص - ص - ص



۱۷۰- کدام گزینه با نمودارهای زیر مرتبط نیست؟

- (۱) برخی از کنش‌های انسان‌ها، اجتماعی‌اند و علوم اجتماعی بخشی از علوم انسانی محسوب می‌شوند.
- (۲) علوم اجتماعی بخشی از علوم انسانی محسوب می‌شوند، ولی برخی از علوم انسانی در زمره علوم اجتماعی نیستند.
- (۳) علوم انسانی، کنش‌های انسانی و پیامدهای آن را مطالعه می‌کنند و موضوع علوم اجتماعی عام‌تر از موضوع علوم انسانی است.
- (۴) علوم اجتماعی، کنش‌های اجتماعی و پیامدهای آن را مطالعه می‌کنند و علوم اجتماعی بخشی از علوم انسانی محسوب می‌شوند.



## زوج درس ۲

## جامعه‌شناسی (۱) (سوالات ۱۷۱ تا ۱۸۰)

۱۷۱- پیامدهای غیرارادی کنش انسان .....، یعنی ..... و بوق زدن راننده، یک ..... است.

(۱) احتمالی است - ممکن است انجام بشود یا نشود - کنش

(۲) قطعی است - حتماً انجام می‌شود - کنش

(۳) خودشان کنش هستند - باید کنشگری آن‌ها را انجام دهد - پیامد کنش

(۴) الزامی است - احتمالی است - پیامد کنش

۱۷۲- کدام گزینه عبارت زیر را کامل می‌کند؟

«فردی به تنهایی و با صدای دلخواه در مکانی مطالعه می‌کند. حال اگر فرد دیگری وارد شود، مطالعه او به یک ..... تبدیل می‌شود و پای .....»

..... و ..... به میان می‌آید. او برای رعایت حقوق دیگری (.....) باید در حضور دیگران آرام مطالعه کند (.....).

(۱) کنش فردی - جامعه‌پذیری - کنترل اجتماعی - ارزش - هنجار

(۲) کنش اجتماعی - ارزش‌ها - هنجارها - ارزش - هنجار

(۳) کنش فردی - هنجارها - ارزش‌ها - ارزش - هنجار

(۴) کنش اجتماعی - هنجارها - ارزش‌ها - ارزش - هنجار

۱۷۳- واژه‌ای که برای اشاره به مجموعه‌های بزرگ به کار می‌رود ..... نام دارد و عبارت «بنی آدم اعضای یک پیکرند» بیانگر کدام مورد است؟

(۱) جهان اجتماعی - مقایسه جهان اجتماعی با ارگانیسم

(۲) جهان - مقایسه جهان اجتماعی با ارگانیسم

(۳) جهان اجتماعی - جهان اجتماعی همانند جهان طبیعی است

(۴) جهان - جهان اجتماعی بیشتر شبیه جهان طبیعی است

۱۷۴- کدام گزینه تأثیر همه‌جانبه و فراگیر در جهان اجتماعی دارد و کم‌تر در معرض تغییر قرار می‌گیرد؟

(۱) انسان تربیت‌پذیر است.

(۲) مراسم خواستگاری برای ازدواج

(۳) برای دانا شدن باید به مدرسه رفت.

(۴) هدیه دادن به دوستان در روز تولد

۱۷۵- کدام گزینه درباره روند شکل‌گیری جهان اجتماعی نوین، صحیح است؟

(۱) برداشته شدن الزام‌های جهان اجتماعی موجود - تغییر جهان اجتماعی موجود - شکل‌گیری الزام‌های جدید - تشکیل جهان اجتماعی جدید

(۲) برداشته شدن الزام‌های جهان اجتماعی موجود - تغییر جهان اجتماعی موجود - تشکیل جهان اجتماعی جدید - شکل‌گیری الزام‌های جدید

(۳) تغییر جهان اجتماعی موجود - برداشته شدن الزام‌های جهان اجتماعی موجود - تشکیل جهان اجتماعی جدید - شکل‌گیری الزام‌های جدید

(۴) تغییر جهان اجتماعی موجود - برداشته شدن الزام‌های جهان اجتماعی موجود - شکل‌گیری الزام‌های جدید - تشکیل جهان اجتماعی جدید

۱۷۶- کدام گزینه به عبارت زیر اشاره دارد؟

«ای کسانی که ایمان آورده‌اید، چرا سخنی می‌گویید که به آن عمل نمی‌کنید؟»

(۱) ارزش‌هایی که مردم یک جامعه از آن‌ها جانب‌داری می‌کنند و رعایت آن‌ها را لازم می‌دانند، اما در عمل ممکن است برخی از آن‌ها را نادیده بگیرند، قلمرو آرمانی جهان اجتماعی را شکل می‌دهد.

(۲) هر اندازه مردم مطابق ارزش‌ها عمل کنند، به همان اندازه آرمان‌ها وارد قلمرو آرمانی جهان اجتماعی می‌شوند، اما اگر مردم به ارزش‌هایی که در قلمرو آرمانی جامعه رعایت آن‌ها را لازم می‌دانند، عمل نکنند، قلمرو واقعی از آرمان‌ها فاصله می‌گیرد.

(۳) آرمان اجتماعی، مجموعه اهداف و ارزش‌های مشترکی است که اعضای یک جهان اجتماعی خواهان رسیدن به آن‌ها هستند و در واقع تصور اعضای جهان اجتماعی از وضعیت مطلوب اقتصاد است.

(۴) در یک جهان اجتماعی پدیده‌ای در زمانی، آرمان محسوب می‌شود و در زمان دیگری لباس واقعیت می‌پوشد، حدود قلمرو آرمانی و واقعی هر جهان اجتماعی دستخوش تغییر می‌شود.



۱۷۷- هر عبارت به ترتیب پیامد کدام گزینه است؟

- نظریات متفاوت دربارهٔ هویت

- کمک گرفتن از دیگران برای شناخت خود

(۱) امکان خطا و اشتباه دربارهٔ شناخت ویژگی‌های هویتی خود و دیگران - بخشی از هویت آگاهانه است.

(۲) غفلت و فراموشی انسان‌ها از خویشتن - بخشی از هویت آگاهانه است.

(۳) امکان خطا و اشتباه در شناخت هویت - بخش پنهان هویت

(۴) واقف بودن به بخش‌هایی از هویت خود - بخشی از هویت را می‌شناسیم.

۱۷۸- کدام گزینه درست (ص) یا نادرست (غ) بودن عبارت‌های زیر را به درستی نشان می‌دهد؟ (به ترتیب)

(الف) جهان اجتماعی پس از تولد هر فرد، بخشی از هویت اجتماعی او را تعیین می‌کند، یعنی آن فرد را به عنوان یکی از اعضای خود به رسمیت می‌شناسد و برای او ویژگی‌هایی متناسب با شرایط خود در نظر می‌گیرد.

(ب) جهان اجتماعی اعتقادات، ارزش‌ها و شیوهٔ زندگی خود را برای بقا و تداوم، به فرد آموزش می‌دهد. فرد نیز برای مشارکت در جهان اجتماعی شیوهٔ زندگی در آن را می‌آموزد.

(ج) فرد طی فرآیند جامعه‌پذیری ناگهان با موقعیتش در جهان اجتماعی و حقوق و تکالیفی که بر عهده دارد، آشنا می‌شود.

(۱) غ - ص - غ (۲) غ - ص - ص (۳) ص - غ - ص (۴) غ - غ - غ

۱۷۹- عبارت‌های زیر به ترتیب با کدام قسمت جدول مرتبط هستند؟

- هنگامی که جهان اجتماعی توان حفظ و دفاع از عقاید و ارزش‌های اجتماعی خود را نداشته باشد.

- مورد تردید قرار گرفتن عقاید، آرمان‌ها و ارزش‌هایی که هویت فرهنگی جهان اجتماعی را می‌سازند.

- شیوهٔ زندگی ناسازگار با عقاید و ارزش‌های یک جهان اجتماعی

(۱) الف - ب - ج (۲) ب - ج - الف (۳) ج - الف - ب (۴) ب - الف - ج

۱۸۰- کدام گزینه درست (ص) یا نادرست (غ) بودن عبارت‌های زیر را به درستی نشان می‌دهد؟ (به ترتیب)

(الف) حجاب به عنوان نماد هویت جهان اسلام اینک در برخی از کشورهای اروپایی مسئله شده است.

(ب) بازگشت ایران به اسلام، بازگشت به یک خویشتن صرفاً تاریخی و جغرافیایی بود.

(ج) برخورد جهان غرب با جهان اسلام، تجربهٔ جدیدی است که هنوز به پایان خود نرسیده است.

(د) یکی از مهم‌ترین پیامدهای انقلاب، تحولات هویتی است.

(۱) ص - ص - غ - ص (۲) غ - ص - ص - غ (۳) ص - غ - ص - ص (۴) غ - غ - ص - غ



## فلسفه و منطق



## فلسفه یازدهم

۱۸۱- چرا واژهٔ «فلسفه» مترادف با «دانش» شد؟

(۱) واژهٔ فیلسوفیا به معنی دوستداری دانایی است.

(۳) دانشمندان آن زمان، خود را سوفیست می‌نامیدند.

(۲) سوفیست‌ها در آن زمان به تعلیم دانش‌های مختلفی می‌پرداختند.

(۴) واژهٔ فیلسوف به دانشمند ارتقای معنا پیدا کرد.

۱۸۲- چرا می‌توان معرفت‌شناسی را بخشی از وجودشناسی دانست؟

(۱) علم یکی از اقسام هستی است.

(۲) مسائل معرفت‌شناسی به اندازهٔ وجودشناسی گسترده است.

(۳) علم به وجود مقدم بر هر علم دیگری است.

(۴) شناخت هستی فرع بر امکان شناخت آن است.



۱۸۳- طبق نظریات کدام فیلسوف نمی‌توان خاکستر شدن یک چوب در اثر سوختن با آتش را توضیح داد؟

- (۱) هراکلیتوس (۲) تالس (۳) فیثاغورس (۴) پارمنیدس

۱۸۴- کدام گزینه از آثار زندگی بر پایه فلسفه و تفکر فلسفی نیست؟

- (۱) دوری از مغالطه (۲) استقلال در اندیشه  
(۳) حیرت در زندگی روزمره (۴) رهایی از عادات غیرمنطقی

۱۸۵- پاسخ کدام پرسش نیازمند تفکر فلسفی است؟

- (۱) کدام کتاب فلسفی برای نوجوانان مناسب است؟  
(۲) معنای کلمه فلسفه در طول تاریخ چه تغییراتی کرده است؟  
(۳) کدام بخش از فلسفه به هستی و کدام بخش به چیستی می‌پردازد؟  
(۴) فلسفه در زندگی روزمره هر انسانی چه جایگاهی دارد و چرا باید به آن پرداخت؟

۱۸۶- از نظر سقراط دانشمند حقیقی ..... و مدعی دانش ..... .

- (۱) خودش است - سوفسطائی است  
(۲) می‌داند که نمی‌داند - نمی‌داند که می‌داند  
(۳) فقط خداست - نمی‌داند که نمی‌داند  
(۴) چهل بسیط دارد - چهل مرکب دارد

۱۸۷- کدام گزینه درباره «معرفت‌شناسی» نادرست است؟

- (۱) همان اندیشیدن درباره اندیشیدن است.  
(۲) به پدیده شناخت می‌پردازد.  
(۳) تنها به امور محسوس می‌پردازد.  
(۴) امروزه به صورت شاخه‌ای مستقل درآمده است.

۱۸۸- از منظر افلاطون، کدام یک از جملات زیر نادرست است؟

- (۱) با وجود اهمیتی که حواس دارند، می‌توان از آن‌ها برای دستیابی به شناخت حقیقی استفاده کرد.  
(۲) شناخت عقلی بسیار باارزش‌تر از شناخت حسی است.  
(۳) برای درک عالم مثل می‌توان از دو روش استفاده کرد.  
(۴) دستیابی به معرفت با توجه به ابزارهایی که ما در اختیار داریم، ممکن است.

۱۸۹- درست (ص) یا نادرست (غ) بودن عبارتهای زیر را کدام گزینه به درستی نشان می‌دهد؟ (به ترتیب)

- (الف) ابن سینا کتاب‌های متعددی هم در فلسفه و هم در علوم طبیعی نوشته است.  
(ب) استدلال به نفع احسن بودن جهان خلقت، گونه‌ای از استدلال عقلی - تجربی است.  
(ج) عارف و سالک الی الله می‌تواند در همین دنیا، آخرت را به چشم ببیند.  
(د) دانش درباره کل هستی به هیچ‌وجه به صورت تجربی به دست نمی‌آید.

- (۱) ص - غ - ص - غ  
(۲) ص - غ - غ - ص  
(۳) ص - ص - ص - غ  
(۴) غ - ص - غ - ص

۱۹۰- کدام فلاسفه، به شهود قلبی و عرفانی اعتقاد داشتند؟

- (۱) پروتاگوراس - افلاطون - ابن سینا - کانت  
(۲) ارسطو - ابن سینا - سهروردی - ملاصدرا  
(۳) افلاطون - سهروردی - برگسون - جیمز  
(۴) فارابی - ابن سینا - دکارت - جان لاک

### منطق

۱۹۱- مباحث علم منطق ..... هستند که در آن‌ها .....

- (۱) تصور و تصدیق - روش صحیح اندیشیدن آموزش داده می‌شود.  
(۲) تعریف و استدلال - حتماً از مفاهیم و جملات مجهول استفاده می‌شود.  
(۳) تصور و تصدیق - حتماً از مفاهیم و جملات مجهول استفاده می‌شود.  
(۴) تعریف و استدلال - روش صحیح اندیشیدن آموزش داده می‌شود.



۱۹۲- کدام گزینه نمی‌تواند باعث «مغالطه شیوه نگارش کلمات» شود؟

- (۱) گنجینه پنهان شده توسط هوشنگ کشف شد.
- (۲) به نظر علی احمدی دانش آموز کوشایی است.
- (۳) احمد متخصص عرفان یهودی است.
- (۴) در مورد حفاری چاه‌های نفت کنفرانسی برگزار می‌شود.

۱۹۳- در مورد دو مفهوم که نسبت عام و خاص من وجه دارند، نمی‌توان گفت:

- (۱) همه مصادیق یکی جزء مصادیق دیگری نیست.
- (۲) برخی مصادیق یکی جزء مصادیق دیگر است.
- (۳) برخی مصادیق یکی جزء مصادیق دیگری نیست.
- (۴) همه مصادیق یکی جزء مصادیق دیگری است.

۱۹۴- ترکیب انواع تعریف با یکدیگر .....

- (۱) جایز نیست.
- (۲) به معرفی بهتر مفهوم کمک می‌کند.
- (۳) ضروری است.
- (۴) باعث گمراهی مخاطب می‌شود.

۱۹۵- کدام یک از گزینه‌های زیر تصور است؟

- (۱) مردی که طبقه بالا زندگی می‌کند.
- (۲) مادر حسن بیمار بود.
- (۳) جان را چه خوشی باشد بی صحبت جانانه؟!
- (۴) هر که را صبر نیست حکمت نیست.

۱۹۶- مغالطه «تعمیم شتاب زده» در چه صورتی اتفاق می‌افتد؟

- (۱) وقتی جامعه آماری کوچکی انتخاب کنیم.
- (۲) زمانی که به خاطر شباهت بین دو چیز احکام آن‌ها را به هم نسبت دهیم.
- (۳) وقتی نتوانیم تک تک موارد را بررسی کنیم.
- (۴) زمانی که حکم یک امر جزئی را به جامعه بزرگی تسری دهیم.

۱۹۷- کدام گزینه از شرایط قضیه نیست؟

- (۱) صادق بودن
  - (۲) معنادار بودن
  - (۳) خیری بودن
  - (۴) جمله بودن
- ۱۹۸- هر گاه از این که «هر جسمی آسمانی ستاره باشد نورانی است»، نتیجه بگیریم «ماه ستاره است»، از کدام روش به نتیجه رسیده‌ایم؟
- (۱) وضع تالی
  - (۲) رفع تالی
  - (۳) وضع مقدم
  - (۴) رفع مقدم

۱۹۹- از صدق کدام گزینه، به صدق عبارت زیر نخواهیم رسید؟

- «بعضی الف ب است.»
- (۱) هر ب الف است.
  - (۲) بعضی ب الف است.
  - (۳) هر الف ب است.
  - (۴) بعضی الف ب نیست.

۲۰۰- کدام قیاس شکل اول است؟

- (۱) هر الف ب است، هر ب ج است، پس هر ج الف است.
- (۲) هر الف ب است، هر الف ج است، پس هر ج الف است.
- (۳) هر الف ب است، هر ج ب است، پس هر الف ج است.
- (۴) هر الف ب است، هر ب ج است، پس هر الف ج است.



۲۰۱- روش خرد کردن مسئله که مهارت حل مسئله را افزایش می‌دهد، نمونه‌ای از ..... است، بنابراین با آموزش این مهارت، حل مسئله تحت

..... قرار می‌گیرد.

- (۱) تبیین - پیش‌بینی
- (۲) پیش‌بینی - کنترل
- (۳) کنترل - پیش‌بینی
- (۴) توصیف - کنترل





۲۰۲- هر یک از عبارتهای زیر به ترتیب به کدام رشد در دوره کودکی مربوط می‌شود؟

(الف) بروز آن مشروط به آگاهی فرد و رابطه دوطرفه کودک با مادرش است.

(ب) کاری را انجام می‌دهد تا دوستش را خوشحال کند.

(۲) الف: شناختی ب: اجتماعی

(۱) الف: هیجانی ب: اخلاقی

(۴) الف: شناختی ب: اخلاقی

(۳) الف: هیجانی ب: اجتماعی

۲۰۳- فرض کنید در اتاق تاریکی قرار دارید و هیچ نوری به شما نمی‌تابد، ولی شما آن را گزارش می‌دهید، در این صورت چه اتفاقی افتاده است؟

(۱) علامت حاضر را ردیابی کرده‌اید که به آن تصمیم درست می‌گویند. (۲) محرک غایب را ردیابی نکرده‌اید که به آن رد درست می‌گویند.

(۳) محرک غایب را ردیابی کرده‌اید که به آن هشدار کاذب می‌گویند. (۴) علامت حاضر را ردیابی نکرده‌اید که به آن اصابت می‌گویند.

۲۰۴- کدام گزینه در رابطه با آزمایش «ابینگهوس» و نتایج آن نادرست است؟

(۱) مجموعه‌ای از واژگان بامعنا را حفظ کرد - با گذشت زمان، بعضی از واژگان فراموش شدند.

(۲) آزمایش او جهت بررسی اثر تداخل بود - بیشترین مقدار فراموشی چند روز بعد از یادگیری است.

(۳) سعی کرد مجموعه‌ای از واژگان مانند ساد و سیت را حفظ کرده و به خاطر آورد - آزمایشات او نتیجه‌ای دربر نداشت.

(۴) آزمایش جالبی درباره یکی از عوامل مؤثر بر ایجاد فراموشی انجام داد - در ساعات‌های اولیه بعد از یادگیری فراموشی رخ نمی‌دهد.

۲۰۵- کدام دو عبارت زیر در رابطه با روش‌های «اکتشافی» و «تحلیلی» حل مسئله درست است؟

(۱) استفاده از روش‌های تحلیلی ما را در دستیابی به نتیجه کمک می‌کند - به دلیل محدودیت زمانی برخی تمایل دارند از روش‌های تحلیلی حل مسئله استفاده کنند.

(۲) روش‌های اکتشافی نیاز به پردازش عمیق اطلاعات دارند - اعتبار روش‌های اکتشافی با گذشت زمان قوت می‌گیرد.

(۳) روش شروع از آخر، جزء روش‌های اکتشافی حل مسئله است - حدس زدن این‌که چند نفر برای مهمانی به خانه ما می‌آیند، مثالی از روش تحلیلی است.

(۴) استفاده از روش‌های تحلیلی برای حل مسئله، از قواعد مشخصی تبعیت می‌کند - بعد از استفاده از روش‌های اکتشافی حل مسئله، برای اطمینان صددرصدی، بهتر است از روش‌های تحلیلی استفاده نمایید.

۲۰۶- کدام گزینه شکل زیر را به درستی کامل می‌کند؟

(۱) الف: ارزیابی ب: اجرا ج: اصلاح

(۲) الف: اجرا ب: ارزیابی ج: اصلاح

(۳) الف: اجرا ب: اصلاح ج: ارزیابی

(۴) الف: اصلاح ب: ارزیابی ج: اجرا

۲۰۷- «انتخاب همسر آینده»، «انتخاب رشته تحصیلی»، «انتخاب رئیس شورای شهر» و «انتخاب بهترین روش حمله در بازی فوتبال» به ترتیب

چه نوع تصمیمی محسوب می‌شوند؟

(۲) فردی - گروهی - فردی - گروهی

(۱) فردی - فردی - گروهی - گروهی

(۴) گروهی - گروهی - فردی - فردی

(۳) گروهی - فردی - گروهی - فردی

۲۰۸- معلمی از دانش‌آموزان خود می‌خواهد برای برگزاری مراسم پایان ترم هر ایده‌ای که به ذهنشان می‌رسد را بیان کنند. فردی پس از دیدن

طرح جدیدی از یک فرش بی‌نظیر تصمیم می‌گیرد مراحل طراحی آن را از آخر به اول اجرا کند. به ترتیب بگویید این دو نفر از چه روش‌های

حل مسئله استفاده کرده‌اند و این روش‌ها تحلیلی هستند یا اکتشافی؟

(۱) بارش مغزی (تحلیلی) - مهندسی معکوس (اکتشافی)

(۲) خرد کردن (اکتشافی) - کاهش تفاوت وضعیت موجود با مطلوب (اکتشافی)

(۳) مهندسی معکوس (تحلیلی) - بارش مغزی (اکتشافی)

(۴) بارش مغزی (اکتشافی) - مهندسی معکوس (اکتشافی)





۲۰۹- به ترتیب «ناکامی»، «تعارض» و «فشار روانی» عمدتاً جزء پیامدهای کدام گزینه محسوب می‌شوند؟

(۱) ناتوانی در حل مسئله - ناتوانی در تصمیم‌گیری - ناتوانی در حل مسئله

(۲) ناتوانی در تصمیم‌گیری - ناتوانی در حل مسئله - ناتوانی در تصمیم‌گیری

(۳) ناتوانی در حل مسئله - ناتوانی در حل مسئله - ناتوانی در تصمیم‌گیری

(۴) ناتوانی در تصمیم‌گیری - ناتوانی در تصمیم‌گیری - ناتوانی در حل مسئله

۲۱۰- کدام گزینه نشان‌دهنده «انگیزه درونی» است؟

(۱) سحر درس می‌خواند تا شاگرد اول کلاس شود.

(۲) محسن به دلیل علاقه به فوتبال، تمام وقت خود را صرف تمرین‌های سخت ورزشی می‌کند.

(۳) رضا به خواهرش در انجام تکالیف کمک می‌کند تا مورد تشویق پدرش قرار گیرد.

(۴) سارا اتاق خود را تمیز می‌کند تا مادرش بعد از ظهر او را به پارک ببرد.

دوروست  
@Gozine\_dorooost