


259

F

نام:

نام خانوادگی:

محل امضا:



259F

عصر پنج‌شنبه

۹۵/۰۲/۱۶



«اگر دانشگاه اصلاح شود مملکت اصلاح می‌شود.»

امام خمینی (ره)

جمهوری اسلامی ایران  
وزارت علوم، تحقیقات و فناوری  
سازمان سنجش آموزش کشور

**آزمون ورودی دوره‌های کارشناسی ارشد ناپیوسته داخل - سال ۱۳۹۵**

**مهندسی هوافضا - کد ۱۲۷۹**

مدت پاسخگویی: ۲۰۰ دقیقه

تعداد سؤال: ۱۲۵

عنوان مواد امتحانی، تعداد و شماره سؤالات

ردیف	مواد امتحانی	تعداد سؤال	از شماره	تا شماره
۱	زبان عمومی و تخصصی (انگلیسی)	۳۰	۱	۳۰
۲	ریاضیات (معادلات دیفرانسیل و ریاضیات مهندسی)	۲۰	۳۱	۵۰
۳	آئروپنایمیک (مکانیک سیالات، آئروپنایمیک، ترمودینامیک، اصول جلوبرندگی)	۲۰	۵۱	۷۰
۴	مکانیک پرواز (کنترل اتوماتیک، عملکرد، پایداری و کنترل)	۲۰	۷۱	۹۰
۵	سازه‌های هوایی (دینامیک، ارتعاشات، مقاومت مصالح، تحلیل سازه‌ها)	۲۰	۹۱	۱۱۰
۶	طراحی اجسام پرنده	۱۵	۱۱۱	۱۲۵

این آزمون نمره منفی دارد.

استفاده از ماشین حساب مجاز نیست.

حق چاپ، تکثیر و انتشار سؤالات به هر روش (الکترونیکی و ...) پس از برگزاری آزمون، برای تمامی اشخاص حقیقی و حقوقی تنها با مجوز این سازمان مجاز می‌باشد و با متغییرین برابر مقررات رفتار می‌شود.

**PART A: Vocabulary**

**Directions:** Choose the word or phrase (1), (2), (3), or (4) that best completes the blank. Then mark the correct choice on your answer sheet.

- 1- This evening's meeting is one in which important issues would be discussed; your attendance is -----.  
1) obligatory      2) didactic      3) relevant      4) explicit
- 2- After a long ----- between the former husband and wife over the custody of the child, the court finally decided to grant the custody to the mother.  
1) contradiction      2) cruelty      3) squabble      4) hesitation
- 3- In Australia, animals are reared on crop residue. Without the animals, these residues would have to be ----- by other means before another crop can be grown—often by burning.  
1) deprived of      2) disposed of      3) resorted to      4) alluded to
- 4- Unable to ----- the tyrannical rules and regulations at the hostel, young Vivian thought of escaping in the dark of the night.  
1) scold      2) acclaim      3) bear      4) treat
- 5- Why do some animals, such as humans, ----- to sleep, whereas others, such as elephants and giraffes, stand?  
1) require      2) snore      3) set up      4) lie down
- 6- With sixteen victories in a row, the Australian cricket team was looking quite unassailable, but they were finally ----- at the hands of the Indians.  
1) dispersed      2) vanquished      3) confronted      4) disregarded
- 7- The salesboy tried to persuade the old man to buy goods from him, but had to give up when the old man told him ----- that he would not buy anything from him.  
1) arbitrarily      2) haphazardly      3) unequivocally      4) necessarily
- 8- But he had become ----- to the rush and whirr of missiles, and now paid no heed whatever to them.  
1) inured      2) rendered      3) constrained      4) affirmed
- 9- The judge openly associated with racist organizations; nevertheless, he showed no ----- in his decisions during his career.  
1) uniqueness      2) dexterity      3) gratitude      4) prejudice
- 10- I don't have any explanation for his ----- behavior at last night's party, though I'm sure that he is quite apologetic about it.  
1) credible      2) resolute      3) distinct      4) bizarre

**PART B: Cloze Passage**

**Directions:** Read the following passage and decide which choice (1), (2), (3), or (4) best fits each space. Then mark the correct choice on your answer sheet.

Where do such creative sparks come from? How can we conjure them whenever we want? And why can that be (11) ----- anyway? A complete understanding isn't here yet, (12) ----- neuroscientists are already on the trail of (13) ----- . They also have some good news for each of us (14) ----- to ignite those inventive fires. As it turns out,

(15) ----- our own muse may be easier than we think, especially if we learn to make a habit of it.

- 11- 1) infernally difficult so to do                      2) so infernally difficult to do  
       3) difficult infernally to do so                      4) to do so infernally difficult
- 12- 1) in spite of                      2) however                      3) nonetheless                      4) but
- 13- 1) where and how does creativity arise                      2) creativity how and where it arises  
       3) where and how creativity arises                      4) creativity does arise where and how
- 14- 1) who has ever struggled                      2) struggled ever  
       3) have ever struggled                      4) ever to struggle
- 15- 1) we tap                      2) when we tap                      3) and taps                      4) tapping

### Part C: Reading Comprehension

**Directions:** Read the following three passages and choose the best choice (1), (2), (3) or (4). Then mark it on your answer sheet.

#### PASSAGE 1:

The engine surge is the result of compressor stall in the jet engine. As a result, the complete engine may stall. This is a rare event, appearing first as a loud bang. The air flowing over the compressor blades stalls just as the air over the wing of an airplane. When airfoil stall occurs, the passage of air through the compressor becomes unstable and the compressor can no longer compress the incoming air. The high-pressure air behind the stall further back in the engine escapes forward through the compressor, and out of the inlet. This escape is sudden, like an explosion. Engine surge can be accompanied by visible flames outside the inlet or in the tail pipe. Often the event is so quick that the instruments do not have time to respond. Generally, the instability is self-correcting. In modern engines there are surge valves that pump the disturbed flow out of the engine, and thus decrease the risk of instability.

- 16- **Engine surge is a jet engine phenomenon that occurs:**  
 1) usually when flame is cut off  
 2) every time the airplane stalls  
 3) if the airplane is not fast enough  
 4) when the flow separates over the compressor blades
- 17- **The loud bang is associated with:**  
 1) combustion instability  
 2) discharge of air through inlet  
 3) instability of compressor blades  
 4) sudden flame at tailpipe
- 18- **Generally which type of engine is geometrically more complicated?**  
 1) Turbofan                      2) Scramjet  
 3) Ramjet                      4) Liquid fuel rocket engine
- 19- **What does "rare" mean in the third sentence?**  
 1) common                      2) dangerous                      3) harsh                      4) scarce

**20- What is the remedy after compressor in surge modern engines?**

- 1) Sudden fuel injection
- 2) Opening the engine valve
- 3) Preventing the compressor stall
- 4) Discharging the distorted air from the engine

**PASSAGE 2:**

It is not surprising that the majority of early flight initiatives were based on the flight of birds. This stimulated ornithopter designs, flying machines with flapping (muscular-powered) wings. The well-known illustrations by Leonardo da Vinci (1452-1519) show the early mind-set. The brilliant Florentinian did not only conceive ornithopters, but also produced the first sketches of a parachute and a rotor. It is unlikely that these drawings ever led to a full-scale model, as da Vinci must have anticipated with his extensive knowledge of the human body that its muscles could never be sufficiently powerful to make sustained flight in such a way. The English physicist Robert Hooke (1635-1703), contemporary and friend of Isaac Newton (1642-1727), experimented without success with ornithopter-type models. Outside of these attempts, there was little rigorous thought towards practical aviation before the end of the 18th century. Because da Vinci's work was not unveiled until 1795, it could not have had much influence on other researchers at the time.

**21- What does the “stimulated” means in the second sentence?**

- 1) artificial
- 2) imitation
- 3) inspired
- 4) synthetic

**22- Who or what is referred “Florentinian” in the passage?**

- 1) Early days ornithopters
- 2) First sketches of a parachute
- 3) Leonardo da Vinci
- 4) The drawings of the da Vinci

**23- Which one of the following sentences are true?**

- 1) da Vinci did not like the ornithopters
- 2) da Vinci predicted that human can fly like birds
- 3) da Vinci built a full scale model based on his drawings
- 4) da Vinci knew that the human muscles cannot generate enough power for ornithopters

**24- What does “contemporary” means in the above passage?**

- 1) concurrent
- 2) engineer
- 3) modern
- 4) scientist

**25- The da Vinci's work could not have had much influence on other researchers, because:**

- 1) It was not influential until 1795.
- 2) It was not shown until 1795.
- 3) The limitation of human muscular power
- 4) The technology did not let them to build ornithopter until 1795.

**PASSAGE 3:**

The development of the gas turbine engine as an aircraft power-plant has been so rapid that it is difficult to appreciate that prior to the 1950s very few people had heard of this method of aircraft propulsion. The possibility of using a reaction jet had interested

aircraft designers for a long time, but initially the low speeds of early aircraft and the unsuitability of a piston engine for producing the large high velocity airflow necessary for the jet presented many obstacles.

The jet engine, although appearing so different from the piston engine-propeller combinations, applies the same basic principles to affect propulsion. Both propel their aircraft solely by thrusting a large weight of air backwards. Although today jet propulsion is popularly linked with the gas turbine engine, there are other types of jet propelled engines, such as the ram jet, the pulse jet, the rocket, the turbo/ram jet, and the turbo-rocket.

Jet propulsion is a practical application of Sir Isaac Newton's third law of motion which states that, "for every force acting on a body there is an opposite and equal reaction". For aircraft propulsion the "body" is atmospheric air that is caused to accelerate as it passes through the engine. The force required to give this acceleration has an equal effect in the opposite direction acting on the apparatus producing the acceleration. A jet engine produces thrust in a similar way to the engine/propeller combination.

The jet propulsion engine, whether rocket or turbo-jet, is a piece of apparatus designed to accelerate a stream of air or gas and to expel it at high velocity. There are, of course, a number of ways of doing this, but in all instances the resultant reaction or thrust exerted on the engine is proportional to the mass or weight of air expelled by the engine and to the velocity change imparted to it. The types of jet engine, whether ram jet, pulse jet, rocket, gas turbine, turbo/ram jet or turbo-rocket, differ only in the way in which the "thrust provider", or engine, supplies and converts the energy into power for flight. The mechanical arrangement of the gas turbine engine is simple, for it consists of only two main rotating parts, a compressor and a turbine, and one or a number of combustion chambers.

At aircraft speeds below approximately 450 miles per hour, the pure jet engine is less efficient than a propeller-type engine, since its propulsive efficiency depends largely on its forward speed; the pure turbo-jet engine is therefore, most suitable for high forward speeds. The propeller efficiency does, however, decrease rapidly above 350 miles per hour due to the disturbance of the airflow caused by the high blade-tip speeds of the propeller. These characteristics have led to some departure from the use of pure turbo-jet propulsion where aircraft operate at medium speeds by the introduction of a combination of propeller and gas turbine engine. The advantages of the propeller/turbine combination have to some extent been offset by the introduction of the by-pass, ducted fan and prop-fan engines. These engines deal with larger comparative airflows and lower jet velocities than the pure jet engine, thus giving a propulsive efficiency which is comparable to that of the turbo-prop and exceeds that of the pure jet engine.

26- According to the passage, which of the following is **incorrect**?

- 1) Gas turbine engines were used as aircraft powerplant.
- 2) Aircraft propulsion development was faster than turbine's.
- 3) Aircraft powerplant developed through the development of the gas turbine engine.
- 4) Prior to 1950's, common people did not know about the relationship between gas turbine and aircraft powerplant.





۳۴- جواب عمومی معادله دیفرانسیل  $x^2 y'' - xy' + y = 0$  کدام است؟

(۱)  $y = (c_1 + c_2 x)e^x$

(۲)  $y = (c_1 + c_2 x) \ln x$

(۳)  $y = (c_1 + c_2 \ln x)x$

(۴)  $y = c_1 \sin(\ln x) + c_2 \cos(\ln x)$

۳۵- یک جواب معادله  $(x^2 - 1)y'' - 2xy' + 2y = 0$  به صورت  $y = x$  است، جواب عمومی معادله کدام است؟

(۱)  $y = c_1 x + c_2 (x^2 + 1)$

(۲)  $y = c_1 x + c_2 (x^2 - 1)$

(۳)  $y = c_1 x + c_2 (x^2 + \ln x)$

(۴)  $y = c_1 x + c_2 (x^2 - \ln x)$

۳۶- جواب معادله  $ty''(t) - ty'(t) - y(t) = 0$  با شرایط اولیه  $y(0) = 0$  و  $y'(0) = 2$ ، کدام است؟

(۱)  $y(t) = 2te^{-t}$

(۲)  $y(t) = 2te^t$

(۳)  $y(t) = t^2 e^{-t}$

(۴)  $y(t) = t^2 e^t$

۳۷- مقدار انتگرال  $\int_0^\infty \int_0^x e^{-t+x} \cos t dt dx$ ، کدام است؟

(۱)  $-\frac{1}{26}$

(۲)  $-\frac{5}{26}$

(۳)  $\frac{1}{26}$

(۴)  $\frac{5}{26}$

۳۸- اگر  $F(s) = \frac{s+10}{s^2 + 2s^2 + 10s} e^{-\pi s}$  تبدیل لاپلاس تابع  $F(t)$  باشد، آنگاه  $f(t)$  کدام است؟

(۱)  $[1 - e^{-t} \cos 3t] u(t - \pi)$

(۲)  $[1 - e^{-(t-\pi)} \cos 3(t - \pi)] u(t)$

(۳)  $[1 - e^{-(t-\pi)} \cos 3(t - \pi)] u(t - \pi)$

(۴)  $[1 - e^{-(t-\pi)} \sin 3(t - \pi)] u(t - \pi)$

۳۹- تعداد ثابت‌های دلخواه در جواب عمومی دستگاه  

$$\begin{cases} (D-3)x + Dy = t^2 \\ Dx + (D-3)y = e^t \end{cases}$$
 کدام است؟

(۱) ۱

(۲) ۲

(۳) ۳

(۴) ۴

۴۰- ریشه‌های معادله شاخص معادله دیفرانسیل  $x(x-1)y'' + (3x-1)y' + y = 0$  حول  $x=0$  کدام است؟  
 (۱) ریشه مضاعف صفر است.

(۲) ریشه مضاعف ۱ است.

(۳) ریشه‌ها صفر و یک می‌باشد.

(۴) ریشه‌ها -۱ و صفر است.

۴۱- اگر  $Z_n = \cos \frac{\pi}{\sqrt{n}} + i \sin \frac{\pi}{\sqrt{n}}$ ، باشد مقدار  $\prod_{n=1}^{\infty} Z_n$  (حاصل ضرب  $Z_n$  ها) کدام یک از موارد زیر است؟

(۱)  $-\pi$

(۲)  $\pi$

(۳)  $-1$

(۴) ۱

۴۲- اگر  $u(x, y) = e^{-x}(x \sin y - y \cos y)$  باشد، مزدوج همساز (هارمونیک)  $u$ ، کدام یک از گزینه‌های زیر است؟

(۱)  $e^{-x}(x \cos y - y \sin y)$

(۲)  $e^{-x}(y \cos y - x \sin y)$

(۳)  $e^{-x}(x \sin y + y \cos y)$

(۴)  $e^{-x}(y \sin y + x \cos y)$

۴۳- اگر  $C$  منحنی  $|z - \frac{i}{2}| = \frac{1}{3}$  باشد که در جهت مثبت پیموده شود، حاصل  $\oint_C \frac{\text{Ln}(1+z^2)}{(2z-i)^2} dz$  کدام است؟

(۱)  $\frac{2\pi}{3}$

(۲)  $\frac{4\pi}{3}$

(۳)  $-\frac{2\pi}{3}$

(۴)  $-\frac{4\pi}{3}$



۴۴- مقدار  $\int_{-\infty}^{\infty} \frac{x \sin ax}{x^2 + k^2} dx$  کدام است؟ ( $a > 0$ )

(۱)  $\frac{\pi}{k} e^{-a}$

(۲)  $\frac{\pi}{k} e^{-k}$

(۳)  $\frac{-k}{\pi e^a}$

(۴)  $\pi e^{-ak}$

۴۵- اگر  $U(x, s)$  تبدیل لاپلاس  $u(x, t)$  باشد، تبدیل لاپلاس معادله  $\begin{cases} u_x + u_t + u = xt \\ u(x, 0) = 0 \end{cases}$  کدام است؟

(۱)  $U_x + (s+1)U = \frac{x}{s}$

(۲)  $U_x + (s+1)U = \frac{x}{s^2}$

(۳)  $U_x - (s+1)U = \frac{x}{s}$

(۴)  $U_x - (s+1)U = \frac{x}{s^2}$

۴۶- تغییر متغیر  $u(x, t) = w(x, t) + F(x)$  مسئله  $\begin{cases} u_t = 4u_{xx} + \sin x \\ u(0, t) = 1, u_x(0, t) = -1 \\ u(x, 0) = f(x) \end{cases}$  را به معادله همگن با شرایط مرزی

همگن برحسب  $w$  تبدیل می‌کند، تابع  $F(x)$  کدام است؟

(۱)  $F(x) = -\frac{1}{2} \sin x - \frac{1}{2} x + 1$

(۲)  $F(x) = -\frac{1}{4} \sin x - \frac{3}{4} x + 1$

(۳)  $F(x) = \frac{1}{2} \sin x - \frac{3}{2} x + 1$

(۴)  $F(x) = \frac{1}{4} \sin x - \frac{5}{4} x + 1$

۴۷- جواب مسئله

$$\left\{ \begin{array}{l} \frac{\partial^2 u}{\partial x \partial y} = 4 \\ u_x(x, 0) = 3, u_y(0, y) = -5 \\ u(0, 0) = 2 \end{array} \right.$$

کدام است؟

(۱)  $4xy + 3x - 5y + 2$

(۲)  $4xy + 3x - 5y - 2$

(۳)  $4xy - 5x + 3y + 2$

(۴)  $4xy - 5x + 3y - 2$

۴۸- مقدار  $b_m$  در بسط فوریه سینوسی تابع  $f(x) = x$ ,  $0 < x < 2$  با دوره تناوب ۴، کدام است؟

(۱)  $\frac{3}{4\pi}$

(۲)  $\frac{4}{3\pi}$

(۳)  $-\frac{3}{4\pi}$

(۴)  $-\frac{4}{3\pi}$

۴۹- در معادله انتگرال  $\int_0^\infty f(w) \cos wx \, dx = \begin{cases} \frac{1}{2} & 0 \leq x < 1 \\ \frac{1}{4} & x = 1 \\ 0 & x > 1 \end{cases}$  تابع  $f(w)$  کدام است؟

(۱)  $\frac{\sin w}{w}$

(۲)  $\frac{2 \sin w}{w}$

(۳)  $\frac{\sin w}{\pi w}$

(۴)  $\frac{2 \sin w}{\pi w}$

۵۰- اگر  $\frac{\pi^2}{3} + \sum_{n=1}^{\infty} \frac{(-1)^n}{n^2} \cos(nx)$  سری فوری تابع  $f(x) = x^2$ ،  $-\pi \leq x \leq \pi$  باشد، سری فوری تابع

$g(x) = x(\pi^2 - x^2)$  کدام است؟

$$12 \sum_1^{\infty} \frac{(-1)^n}{n^2} \cos(nx) \quad (1)$$

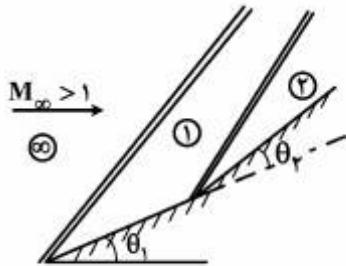
$$12 \sum_1^{\infty} \frac{(-1)^n}{n^2} \sin(nx) \quad (2)$$

$$12 \sum_1^{\infty} \frac{(-1)^n}{n^2} \sin(nx) \quad (3)$$

$$12 \sum_1^{\infty} \frac{(-1)^{n+1}}{n^2} \sin(nx) \quad (4)$$

آنرودینامیک (مکانیک سیالات، آنرودینامیک، ترمودینامیک، اصول جلوبرندگی):

۵۱- اگر  $\theta_1 + \theta_2 = \cos t$  برای دو حالت الف)  $\theta_1 > \theta_2$  ب)  $\theta_1 < \theta_2$  داریم: بیانگر آنروپی است.



$$\frac{P_2}{P_{\infty}}|_{\text{الف}} < \frac{P_2}{P_{\infty}}|_{\text{ب}}, S_2 - S_{\infty}|_{\text{الف}} < S_2 - S_{\infty}|_{\text{ب}} \quad (1)$$

$$\frac{P_2}{P_{\infty}}|_{\text{الف}} < \frac{P_2}{P_{\infty}}|_{\text{ب}}, S_2 - S_{\infty}|_{\text{الف}} > S_2 - S_{\infty}|_{\text{ب}} \quad (2)$$

$$\frac{P_2}{P_{\infty}}|_{\text{الف}} > \frac{P_2}{P_{\infty}}|_{\text{ب}}, S_2 - S_{\infty}|_{\text{الف}} > S_2 - S_{\infty}|_{\text{ب}} \quad (3)$$

$$\frac{P_2}{P_{\infty}}|_{\text{الف}} > \frac{P_2}{P_{\infty}}|_{\text{ب}}, S_2 - S_{\infty}|_{\text{الف}} < S_2 - S_{\infty}|_{\text{ب}} \quad (4)$$

۵۲- برای ایرفویلی، تغییرات ضریب گشتاور حول  $\frac{1}{3}$  وتر از LE برحسب ضریب برآ مطابق جدول است. محل مرکز آیرودینامیکی ایرفویل کجاست؟

$c_l$	۰٫۲	۰٫۴	۰٫۶	۰٫۸
$c_m$	-۰٫۰۲	۰٫۰	۰٫۰۲	۰٫۰۴

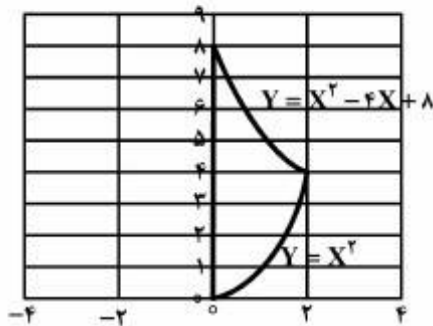
(۱) ۰٫۱c

(۲) ۰٫۲۳۳c

(۳) ۰٫۳۳۳c

(۴)  $\frac{2}{3}c$

۵۳- جریان دو بعدی با میدان سرعت  $V = 2yi + 4xzj$  را در نظر بگیرید. مقدار گردش حول منحنی بسته زیر چه مقدار است؟



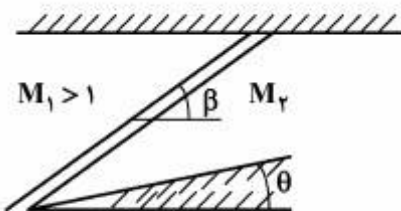
(۱) صفر

(۲) -۴

(۳) -۸

(۴) -۱۶

۵۴- برای ساختار موج ضربه‌ای زیر، اگر  $\theta$  میزان چرخش جریان،  $\theta_{max}$  مقدار زاویه حداکثر چرخش برای  $M_1$  و  $M_2$  زاویه موج ضربه‌ای معادل  $\theta_{max}$  باشد، کدام عبارت صحیح است؟



(۱)  $\beta \geq \beta_m, M_2 < 1, \theta \leq \theta_{max}$

(۲)  $\beta \geq \beta_m, M_2 > 1, \theta \leq \theta_{max}$

(۳)  $\beta < \beta_m, M_2 < 1, \theta > \theta_{max}$

(۴)  $\beta > \beta_m, M_2 > 1, \theta < \theta_{max}$

۵۵- کدام عبارت صحیح است؟

- (۱) قانون دالتون برای مخلوط‌های گازی فشار بالا مناسب نیست.
- (۲) قانون آماتگ برای مخلوط‌های گازی فشار بالا مناسب نیست.
- (۳) قانون دالتون و قانون آماتگ برای گازهای ایده‌آل نتایج یکسانی نمی‌دهد.
- (۴) قانون دالتون و قانون آماتگ برای گازهای واقعی به صورت کامل و برای گازهای ایده‌آل به صورت تقریبی بیان شده‌اند.

۵۶- در واکنش  $H_2 + \frac{1}{2} O_2 \xrightleftharpoons{K_p} H_2O$ ، کدام عبارت صحیح است؟

- (۱) با افزایش دما، ثابت تعادل تغییر نمی‌کند.
  - (۲) با افزایش دما، ترکیب مخلوط تغییر می‌کند.
  - (۳) با افزایش فشار، ثابت تعادل تغییر می‌کند.
  - (۴) با افزودن گاز بی‌اثر به مخلوط، ثابت تعادل تغییر می‌کند.
- ۵۷- کدام یک از رابطه‌های زیر برای گازهای کامل با  $C_p$  ثابت درست است؟

-e انرژی داخلی	-p چگالی
$P = \rho(\gamma + 1)e$ (۱)	$\gamma = \frac{C_p}{C_v}$ -نسبت حرارت مخصوص
$P = \rho(\gamma + 1)e$ (۲)	$-P$ فشار
$P = \rho(\gamma - 1)e$ (۳)	
$P = \rho(\gamma - 1)e$ (۴)	

۵۸- ضریب تراکم‌پذیری در آنژیومی ثابت برای گاز کامل چقدر است؟

$$\gamma = \frac{C_p}{C_v}$$

- (۱)  $\sqrt{\gamma RT}$
- (۲)  $\frac{1}{\gamma P}$
- (۳)  $\frac{\gamma P}{\rho}$
- (۴)  $\gamma P$

۵۹- کدام عبارت برای یک بال صحیح‌تر است؟

- (۱) با افزایش نسبت منظری،  $AR$ ،  $C_{L\alpha}$  کاهش می‌یابد.
- (۲) با کاهش نسبت باریک شوندگی،  $\lambda$ ، واماندگی بال به سمت ریشه بال حرکت می‌کند.
- (۳) تئوری پراتل برای بال‌های با نسبت منظری،  $AR$ ، پایین و زاویه عقب‌گرد Sweep Angle کار می‌کند.
- (۴) نسبت منظری،  $AR$ ، و نسبت باریک شوندگی  $\lambda = \frac{c_T}{c_R}$ ، دو پارامتر هندسی موثر روی پسای القایی بال هستند.

۶۰- در چه صورتی نازلی که خفه (choked) شده است، دبی جریان عبوری آن افزایش می‌یابد؟

- (۱) این امر امکان‌پذیر نیست.
- (۲) فشار پشت نازل کاهش داده شود.
- (۳) فشار سکون ورودی نازل افزایش یابد.
- (۴) در یک نازل همگرا - واگرا سطح مقطع خروجی افزایش یابد.

۶۱- برای سرعت‌های پروازی زیر  $180 \frac{m}{sec}$  کدام عبارت زیر صحیح است؟

- (۱) به ترتیب موتورهای توربوپراپ، توربوفن با گذر فرعی زیاد، توربوفن با گذر فرعی کم و توربوجت بیشترین بازده را دارند.
- (۲) به ترتیب موتورهای توربوفن با گذر فرعی زیاد، توربوفن با گذر فرعی کم، توربوجت و توربوپراپ بیشترین بازده را دارند.
- (۳) به ترتیب موتورهای توربوفن با گذر فرعی زیاد، توربوفن با گذر فرعی کم، توربوپراپ و توربوجت بیشترین بازده را دارند.
- (۴) به ترتیب موتورهای توربوجت، توربوفن با گذر فرعی کم، توربوفن با گذر فرعی زیاد و توربوپراپ بیشترین بازده را دارند.

۶۲- طراحی پره کمپرسور به روش گردابه آزاد منجر به افزایش بارگذاری کدام پره و در کدام شعاع می‌گردد؟

- (۱) روتور، هاب (شعاع ریشه)
- (۲) روتور، پوسته (شعاع نوک)
- (۳) استاتور، هاب (شعاع ریشه)
- (۴) استاتور، پوسته (شعاع نوک)

۶۳- راندمان نیروگاه بخار با شرایط زیر چند درصد است؟

مفروضات: نرخ انتقال حرارت به دیگ بخار  $20 MW$ ، نرخ انتقال حرارت از چگالنده  $16/2 MW$ ، توان دریافتی از توربین  $4 MW$  و توان مصرفی پمپ  $200 kW$  است.

- (۱) ۱۶
- (۲) ۱۹
- (۳) ۲۱
- (۴) ۲۵

۶۴- تغییر آنتروپی گازهای ایده‌آل از کدام یک از رابطه‌های زیر بدست می‌آید؟

(فرض کنید گرمای ویژه  $(C_p, C_v)$  ثابت هستند)


$$S_T - S_1 = C_p \ln \frac{T_T}{T_1} - R \ln \frac{P_T}{P_1}, \quad S_T - S_1 = C_v \ln \frac{T_T}{T_1} + R \ln \frac{P_T}{P_1} \quad (1)$$

$$S_T - S_1 = C_v \ln \frac{T_T}{T_1} + R \ln \frac{P_T}{P_1}, \quad S_T - S_1 = C_p \ln \frac{T_T}{T_1} - R \ln \frac{P_T}{P_1} \quad (2)$$

$$S_T - S_1 = C_p \ln \frac{T_T}{T_1} + R \ln \frac{P_T}{P_1}, \quad S_T - S_1 = C_v \ln \frac{T_T}{T_1} - R \ln \frac{P_T}{P_1} \quad (3)$$

$$S_T - S_1 = C_v \ln \frac{T_T}{T_1} + R \ln \frac{v_T}{v_1}, \quad S_T - S_1 = C_p \ln \frac{T_T}{T_1} - R \ln \frac{P_T}{P_1} \quad (4)$$

۶۵- برای نازل همگرا - واگرای شکل زیر اگر نسبت  $\frac{P_b}{P_o} = 0.528$  برای هوا با  $\gamma = 1.4$  باشد، کدام عبارت برای جریان داخل نازل صحیح است؟



- (۱) جریان در گلوبی صوتی و حداقل در قسمتی از بخش واگرای نازل مافوق صوت است.
- (۲) جریان فقط در گلوبی صوتی و در بقیه نواحی مادون صوت است.
- (۳) عدد ماخ در خروجی نازل برابر یک است.
- (۴) اطلاعات داده شده کافی نیست.

۶۶- حداکثر سرعت جریان گاز خروجی از یک محفظه با فشار سکون  $P_o$  و دمای سکون  $T_o$  کدام است؟

- (۱)  $\gamma = \frac{C_p}{C_v}$  ،  $C_p$  : ظرفیت حرارتی در فشار ثابت
- (۲)  $C_v$  : ظرفیت حرارتی گاز در حجم ثابت
- (۳)  $R$  : ثابت گاز است.

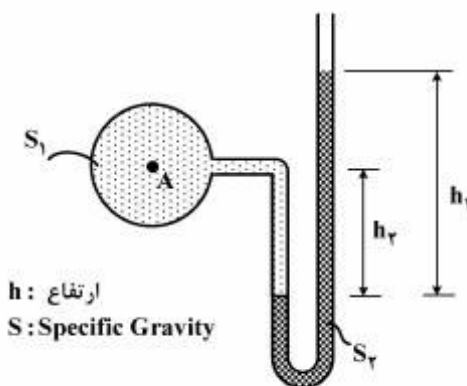
$$V_{max} = \sqrt{\frac{\gamma}{\gamma-1} RT_o} \quad (1)$$

$$V_{max} = \sqrt{\frac{2\gamma}{\gamma-1} RT_o} \quad (2)$$

$$V_{max} = \sqrt{\frac{\gamma}{\gamma+1} RT_o} \quad (3)$$

$$V_{max} = \sqrt{\frac{2\gamma}{\gamma+1} RT_o} \quad (4)$$

۶۷- بین پارامترهای مشخص شده در شکل زیر کدام رابطه برقرار است؟



$h$  : ارتفاع  
 $S$  : Specific Gravity

$$h_A + h_2 S_2 + h_1 S_1 = 0 \quad (1)$$

$$h_A + h_2 S_2 - h_1 S_1 = 0 \quad (2)$$

$$h_A - h_2 S_1 + h_1 S_2 = 0 \quad (3)$$

$$h_A + h_2 S_1 - h_1 S_2 = 0 \quad (4)$$



۶۸- یک هواپیما مجهز به موتور توربوجت با سرعت  $250$  متر بر ثانیه در ارتفاعی پرواز می‌کند که گازهای خروجی کاملاً

به محیط انبساط می‌یابند. اگر میزان جرم ورودی هوا به موتور  $100 \frac{\text{kg}}{\text{sec}}$  و راندمان جلوبرندگی (Propulsive Eff.)

$50\%$  باشد، میزان تراست موتور چند کیلو نیوتن است؟

(۱) ۲۵

(۲) ۴۰

(۳) ۵۰

(۴) ۱۰۰

۶۹- دو صفحه تخت و نازک در زاویه حمله بسیار کوچک یکی در جریان تراکم ناپذیر و دیگری در جریان مافوق صوت

قرار دارد. ماخ جریان مافوق صوت چقدر باشد تا ضریب برای هر دو صفحه تخت در این دو جریان تراکم ناپذیر و

مافوق صوت یکسان باشد؟ (برای سادگی محاسبات  $\pi = 3$ )

$$M_\infty = \sqrt{\frac{9}{13}} \quad (1)$$

$$M_\infty = \sqrt{\frac{13}{9}} \quad (2)$$

$$M_\infty = \sqrt{\frac{5}{9}} \quad (3)$$

$$M_\infty = \sqrt{\frac{9}{5}} \quad (4)$$

۷۰- در یک موتور موشکی، شار جرمی سوخت  $9 \frac{\text{kg}}{\text{s}}$ ، شار جرمی اکسنده  $31 \frac{\text{kg}}{\text{s}}$ ، سطح خروجی موتور  $0.2 \text{m}^2$ ، سرعت

گازهای خروجی  $3000 \frac{\text{m}}{\text{s}}$ ، دمای گازهای خروجی  $2900 \text{K}$ ،  $\gamma = 1.25$  و فشار گازهای خروجی  $1.5 \text{bar}$  است.

اگر فشار محیط  $1 \text{bar}$  باشد، نیروی رانش چقدر است؟ (برحسب  $\text{kN}$ )

(۱) ۷

(۲) ۵۴

(۳) ۱۳۰

(۴) ۱۲۱۰

مکانیک پرواز (کنترل اتوماتیک، عملکرد، پایداری و کنترل):

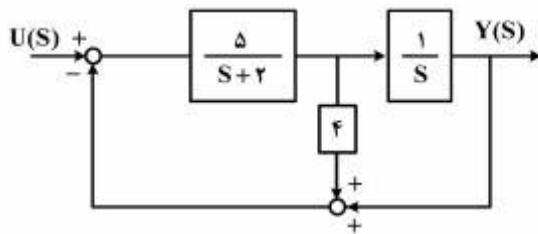
۷۱- برای سیستم:  $C = [1 \ 0]$ ,  $B = \begin{bmatrix} 0 \\ 1 \\ m \end{bmatrix}$ ,  $A = \begin{bmatrix} 0 & 1 \\ -\frac{k}{m} & -\frac{b}{m} \end{bmatrix}$  تابع تبدیل سیستم برابر

$$\begin{cases} \dot{X} = AX + BU \\ Y = CX \end{cases}$$

کدام یک از موارد زیر است؟

- (۱)  $\frac{m}{s^2 + bs + k}$
- (۲)  $\frac{k}{bs^2 + ms + k}$
- (۳)  $\frac{b}{ms^2 + bs + k}$
- (۴)  $\frac{1}{ms^2 + bs + k}$

۷۲- حاصل تابع تبدیل  $\frac{Y(s)}{U(s)}$  نمودار بلوکی زیر، کدام است؟



- (۱)  $\frac{5}{s(s+2)}$
- (۲)  $\frac{5}{s^2 + 2s + 5}$
- (۳)  $\frac{4s+1}{s^2 + 2s + 5}$
- (۴)  $1 + \frac{5(4s+1)}{s(s+2)}$

۷۳- معادله زیر دارای چند ریشه ناپایدار است؟

$$s^5 + s^4 + 5s^3 + 5s^2 + 12s + 10 = 0$$

- (۱) یک ریشه
- (۲) دو ریشه
- (۳) سه ریشه
- (۴) ریشه ناپایدار ندارد.

۷۴- خطای دائم سیستم نوع اول  $G(s) = \frac{1}{s(s+a)}$  (type one) با فیدبک واحد به ورودی شیب واحد کدام است؟

- (۱) صفر
- (۲) بی‌نهایت
- (۳) a
- (۴) 2a

۷۵- مقدار اولیه پاسخ زمانی کدام یک از توابع تبدیل زیر به ورودی پله واحد، غیر صفر است؟

$$(1) \frac{1}{s^2 + 2s + 2}$$

$$(2) \frac{s}{s^2 + 2s + 2}$$

$$(3) \frac{s+1}{s^2 + 2s + 2}$$

$$(4) \frac{s^2 + s + 1}{s^2 + 2s + 2}$$

۷۶- در رابطه با مکان هندسی ریشه‌های سیستمی با فیدبک واحد  $G(s) = \frac{k}{(s^2 + 2s + 2)(s^2 + 2s + 5)}$  به ازای  $k > 0$  کدام گزینه صحیح است؟

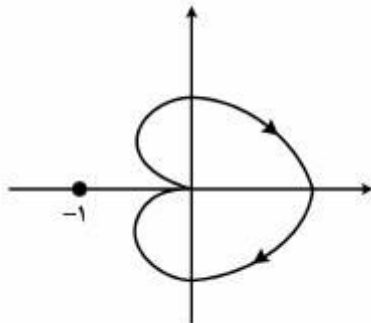
(۱) قطب‌های سیستم حقیقی هستند.

(۲) دو نقطه شکست (انشعاب) دارد.

(۳) مکان هندسی با محور موهومی تلاقی دارد.

(۴) بخشی از محور حقیقی جزء مکان هندسی ریشه‌هاست.

۷۷- دیاگرام نایکوئیست زیر برای تابع تبدیل حلقه باز به صورت تقریبی رسم شده است. کدام گزینه صحیح است؟



(۱) تفاضل درجه صورت و مخرج تابع تبدیل حلقه باز برابر یا دو است.

(۲) نوع (type) تابع تبدیل حلقه باز ۲ است.

(۳) نوع (type) تابع تبدیل حلقه باز ۱ است.

(۴) سیستم حلقه بسته پایدار است.

۷۸- برای جلوگیری از افزایش طول باند به علت شناوری هواپیما بر فراز باند در در هنگام فرود باید کدام یک از موارد زیر صورت گیرد؟

(۱) از اسپویلر استفاده شود.

(۲) تراست موتور معکوس شود.

(۳) از ترمز هوایی استفاده شود.

(۴) خلبان قدرت موتور را افزایش دهد.

۷۹- در مورد فرآیند برخاستن هواپیما کدام گزینه صحیح نمی‌باشد؟

- (۱) باد روبرو باعث کاهش مسافت برخاستن هواپیما می‌شود.
- (۲) شیب مثبت باند باعث افزایش مسافت برخاستن هواپیما می‌شود.
- (۳) جنس نرم باند باعث افزایش مسافت برخاستن هواپیما می‌شود.
- (۴) افزایش ارتفاع فرودگاه از سطح دریا باعث کاهش مسافت برخاستن هواپیما می‌شود.

۸۰- اگر بدون تغییر ضریب پسا، موتور هواپیمای جت با موتور ملخی جایگزین شود، به گونه‌ای که نرخ اوج‌گیری هواپیما در سطح دریا ثابت بماند در این صورت کدام گزینه صحیح است؟

- (۱) سقف پرواز هواپیما افزایش می‌یابد.
- (۲) سرعت ماکزیمم افقی هواپیما کاهش می‌یابد.
- (۳) سرعت ماکزیمم افقی هواپیما افزایش می‌یابد.
- (۴) تغییری در سقف پرواز هواپیما بوجود نمی‌آید.

۸۱- اگر دمای یک نقطه از اتمسفر کمتر از دمای شرایط استاندارد (ISA) باشد، ارتفاعی که یک ارتفاع‌سنج فشاری در آنجا نشان می‌دهد چگونه است؟

- (۱) بیشتر از مقدار واقعی
- (۲) کمتر از مقدار واقعی
- (۳) برابر با مقدار واقعی
- (۴) بسته به چگالی اتمسفر فرق می‌کند

۸۲- توان اضافی مخصوص (Specific excess power) در چه شرایطی بیشترین مقدار را دارد؟

- (۱) در کمترین  $\frac{T}{W}$  و  $\frac{L}{D}$
- (۲) در بیشترین  $\frac{T}{W}$  و  $\frac{L}{D}$
- (۳) در کمترین  $\frac{L}{S}$  و  $\frac{L}{D}$
- (۴) در کمترین ضریب نیروی پسا

۸۳- در کدام یک از حالات زیر پرواز افقی هواپیمای ملخی بیشترین برد (Range) را دارد؟

md: minimum drag  
mp: maximum power

- (۱)  $C_L = C_{L_{md}}$
- (۲)  $h = \text{const}$  ,  $V = V_{md}$
- (۳)  $h = \text{const}$  ,  $V = V_{mp}$
- (۴)  $C_L = C_{L_{mp}}$  ,  $V = V_{mp}$

۸۴- در یک پرواز عمومی شتاب‌دار، مولفه‌های بردار شتاب جاذبی در دستگاه بدنی تابعی از کدام مجموعه یا کدام زاویه اوپلر است؟

- (۱) صرفاً زاویه غلت ( $\phi$ )
- (۲) زاویه سمت و فراز ( $\psi, \theta$ )
- (۳) زاویه فراز و غلت ( $\theta, \phi$ )
- (۴) همه زوایای اوپلر ( $\psi, \theta, \phi$ )

۸۵- کدام گزینه در خصوص ارتباط بین دستگاه بدنی، باد و دستگاه پایداری نادرست است؟

- (۱) در پرواز دائم نامتقارن دستگاه بدنی از طریق دو دوران به اندازه  $\beta, \alpha$  به باد تبدیل می‌گردد.
- (۲) دستگاه پایداری از دوران دستگاه بدنی حول محور  $Y$ ، به اندازه زاویه حمله حاصل می‌گردد.
- (۳) در پروازهای دائم هیچ تفاوتی میان دستگاه پایداری و باد وجود ندارد.
- (۴) در پرواز دائم متقارن دستگاه پایداری و باد بر هم منطبق می‌باشند.

۸۶- در یک پرواز دائم نامتقارن ( $\beta > 0$ )، اثر زاویه دایهدرال بال ( $\Gamma > 0$ ) و سوئیپ بال ( $\Lambda > 0$ ) در تولید گشتاور رول (غلت) کدام است؟

- (۱) زاویه سوئیپ اثری ندارد، لکن زاویه دایهدرال می‌تواند رول مثبت ایجاد کند.
- (۲) اثر دایهدرال رول منفی و اثر زاویه سوئیپ رول مثبت است.
- (۳) گشتاور رول صرفاً از طریق زاویه شپرها ایجاد می‌شود.
- (۴) هر دو پدیده باعث ایجاد گشتاور رول منفی خواهند شد.

۸۷- علامت مشتقات زیر برای یک هواپیمای مسافربری متعارف در پرواز کروز چگونه است؟

- (۱)  $C_{y\beta} < 0$  و  $C_{lp} < 0$  و  $C_{n\beta} < 0$
- (۲)  $C_{y\beta} < 0$  و  $C_{lp} < 0$  و  $C_{n\beta} > 0$
- (۳)  $C_{y\beta} > 0$  و  $C_{lp} > 0$  و  $C_{n\beta} > 0$
- (۴)  $C_{y\beta} > 0$  و  $C_{lp} < 0$  و  $C_{n\beta} > 0$

۸۸- با افزایش فاصله دم افقی از مرکز جرم هواپیما به اندازه ۱۰٪ مشتق  $C_{m\alpha}$  و  $C_{m\alpha}$  به ترتیب تقریباً چند درصد

افزایش می‌یابند؟

- (۱) ۱۰ ، ۱۰
- (۲) ۲۰ ، ۱۰
- (۳) ۱۰ ، ۲۰
- (۴) ۲۰ ، ۲۰

۸۹- کدام یک از مشتقات زیر بیشترین تأثیر را بر روی فرکانس مود پرپود کوتاه (Short Period) دارد؟

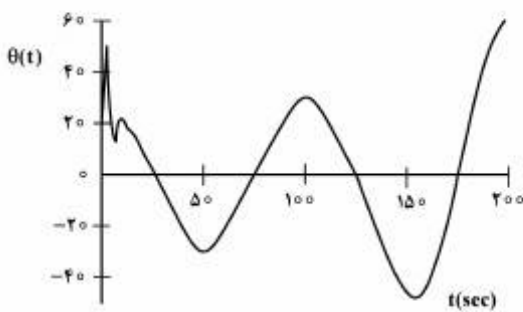
(۱)  $C_{L\alpha}$

(۲)  $C_{mq}$

(۳)  $C_{mu}$

(۴)  $C_{m\alpha}$

۹۰- اگر رفتار زمانی زاویه فراز ( $\theta$ ) هواپیما به صورت نشان داده شده در زیر باشد، کدام گزینه علامت مشتقات پایداری



طولی هواپیما است؟

(۱)  $X_u > 0, M_u > 0$

(۲)  $X_u < 0, M_u > 0$

(۳)  $X_u > 0, M_u < 0$

(۴)  $X_u < 0, M_u < 0$

سازدهای هوایی (دینامیک، ارتعاشات، مقاومت مصالح، تحلیل سازه‌ها):

۹۱- گوی کوچکی به جرم  $m$  و با سرعت اولیه  $v_1$  با گوی بزرگتر ساکن به جرم  $2m$  مرکز به مرکز برخورد می‌کند. اگر

ضرب بازگشت چنان باشد که اتلاف انرژی مجموعه حداکثر مقدار را کسب کند، کدام گزینه در خصوص سرعت

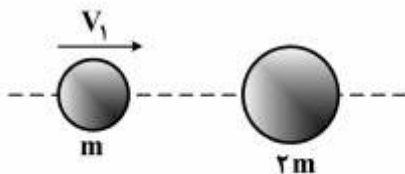
ثانویه دو گوی صحیح است؟

(۱)  $v'_1 = \frac{2}{3}v_1, v'_2 = \frac{1}{3}v_1$

(۲)  $v'_1 = \frac{1}{3}v_1, v'_2 = \frac{2}{3}v_1$

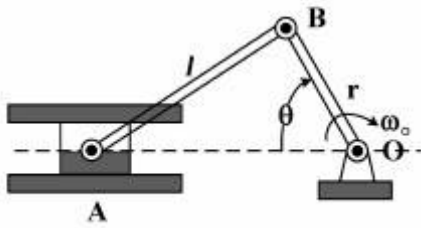
(۳)  $v'_1 = v'_2 = \frac{1}{3}v_1$

(۴)  $v'_1 = v'_2 = \frac{2}{3}v_1$



۹۲- در مکانیزم لنگ - لغزنده اگر سرعت زاویه‌ای لنگ، ثابت و برابر  $\omega_0$  باشد، سرعت زاویه‌ای  $\omega_{AB}$  در لحظه‌ای که

$\theta = \frac{\pi}{4}$  می‌شود، چقدر است؟



(۱) صفر

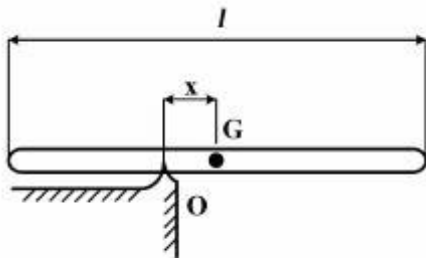
(۲)  $\frac{l\omega_0}{r}$

(۳)  $\frac{r\omega_0}{l}$

(۴) غیرقابل محاسبه

۹۳- میله یکنواخت در وضعیت افقی از حالت سکون رها می‌شود x در صورتی که شتاب زاویه‌ای حداکثر شود، کدام

است؟



(۱)  $\frac{\sqrt{2}}{2}l$

(۲)  $\frac{\sqrt{3}}{2}l$

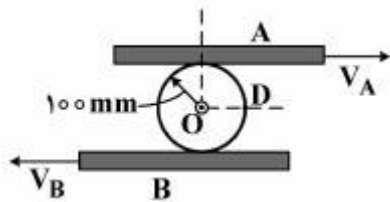
(۳)  $\frac{l}{2\sqrt{2}}$

(۴)  $\frac{l}{2\sqrt{3}}$

۹۴- دیسک مدور بدون لغزش بین دو ورق A و B می‌گردد. این دو ورق به موازات هم و در خلاف جهت یکدیگر با

سرعت‌های  $V_A = 2 \text{ m/s}$  و  $V_B = 4 \text{ m/s}$  حرکت می‌کنند. سرعت دیسک در نقطه D چند متر بر ثانیه (m/s)

است؟



(۱) ۳/۱۶

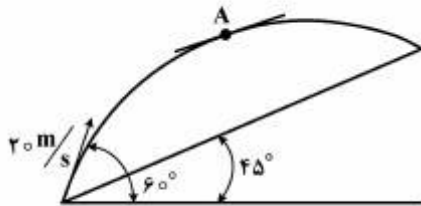
(۲) ۲/۵۵

(۳) ۱/۵

(۴) ۱/۱



۹۵- جسمی با سرعت  $۲۰ \frac{m}{s}$  از پایین یک سطح شیب‌دار به زاویه شیب  $۴۵^\circ$  تحت زاویه  $۶۰^\circ$  درجه نسبت به افق پرتاب می‌شود. شعاع انحنای مسیر پرتابه در لحظه‌ای که دارای حداکثر ارتفاع نسبت به سطح شیب‌دار است، کدام یک از رابطه‌های زیر می‌باشد؟



(۱)  $\frac{۱۰۰\sqrt{۲}}{g}$

(۲)  $\frac{۲۰۰\sqrt{۲}}{g}$

(۳)  $\frac{۲۵۰\sqrt{۲}}{g}$

(۴)  $\frac{۴۰۰\sqrt{۲}}{g}$

۹۶- میله‌ای با سطح مقطع  $۲۵ \text{ in}^2$  بین دو دیوار کشیده شده است. نیروی کششی در میله در دمای  $۷۰^\circ\text{F}$  به میزان  $۱۲۰۰ \text{ lb}$  می‌باشد. در چه دمایی برحسب فارنهایت ( $^\circ\text{F}$ ) تنش در میله صفر است؟

$E = ۳۰ \times ۱۰^۶ \text{ Psi}$

$\alpha = ۴ \times ۱۰^{-۶} \frac{\text{in}}{(\text{in}^\circ\text{F})}$

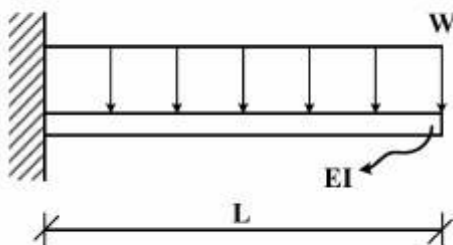
(۱) ۱۱۰

(۲) ۴۰

(۳) ۳۰

(۴) ۰

۹۷- شیب انتهای آزاد تیر زیر چقدر است؟



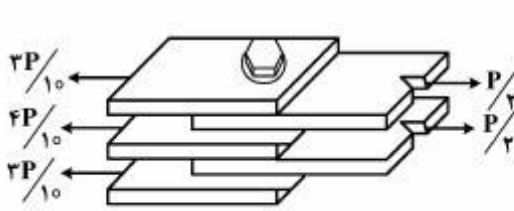
(۱)  $\frac{۲wL^۳}{EI}$

(۲)  $\frac{۲wL^۳}{۳EI}$

(۳)  $\frac{wL^۳}{۳EI}$

(۴)  $\frac{wL^۳}{۶EI}$

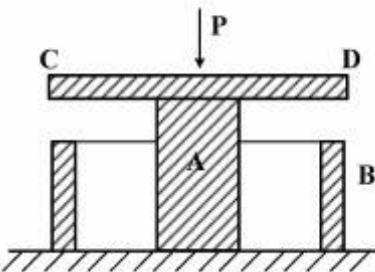
۹۸- در اتصال شکل زیر، ۵ ورق فولادی که ضخامت هر یک  $t$  می‌باشند با یک پیچ به سطح مقطع  $A$  به یکدیگر متصل شده‌اند و نیروی  $P$  را باید انتقال دهند. تنش برشی ماکزیمم در پیچ کدام است؟



- (۱)  $\frac{1}{2} \frac{P}{A}$
- (۲)  $\frac{1}{4} \frac{P}{A}$
- (۳)  $\frac{2}{10} \frac{P}{A}$
- (۴)  $\frac{3}{10} \frac{P}{A}$

۹۹- میله‌ی  $A$  به طول ۱۰ اینچ در داخل سیلندر  $B$  قرار دارد. طول میله ۰/۱۲ اینچ بیشتر از سیلندر است. بیشترین مقدار نیرو را که می‌توان بر صفحه صلب  $CD$  وارد کرد چند پوند است؟

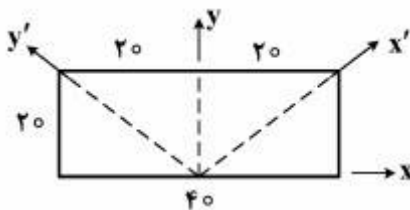
(برای میله  $A$ ،  $\sigma_{all} = 20000 \text{ psi}$ ،  $E = 17 \times 10^6 \text{ psi}$  و  $A = 2 \text{ in}^2$ ، برای سیلندر  $B$ ،  $\sigma_{all} = 10000 \text{ psi}$ ،



( $A = 2 \text{ in}^2$  و  $E = 10 \times 10^6 \text{ psi}$ )

- (۱) ۴۰۰۰۰
- (۲) ۴۰۸۰۰
- (۳) ۶۰۰۰۰
- (۴) ۶۰۸۰۰

۱۰۰- با اعمال نیرویی در جهت  $x$  بر جسمی با ابعاد  $20 \times 40 \text{ mm}^2$  طول آن به اندازه ۱۰ mm افزایش یافته و عرض آن به اندازه ۲ mm کم می‌شود. کرنش‌های برشی  $\gamma_{xy}$  و  $\gamma_{x'y'}$  و ضریب پواسون ماده کدام است؟




- (۱) ۰/۳ ، ۰ ، ۰
- (۲) ۰/۳ ، ۰ ، -۰/۳۲۳
- (۳) ۰/۴ ، -۰/۳۲۳ ، ۰
- (۴) ۰/۴ ، ۰/۳۲۳ ، ۰/۳۲۳

۱۰۱- مخزن تحت فشار جدار نازک استوانه‌ای به قطر ۲ m و ضخامت ۱۰ mm تحت فشار داخلی ۲۰ bar است. اگر همزمان نیروی کشش  $\pi \times 10^6 \text{ N}$  نیز به استوانه وارد شود. تنش نرمال روی خط جوش چند MPa است؟



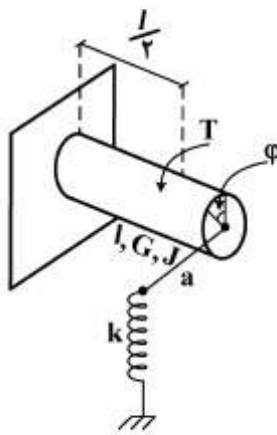
- (۱) ۵۰
- (۲) ۱۰۰
- (۳) ۱۱۲/۵
- (۴) ۱۶۲/۵

۱۰۲- اگر نیروی  $10\text{ kN}$  در نقطه  $c$  به سمت پایین وارد شود خیز نقطه  $D$  و  $E$  به ترتیب  $1, 1/5$  میلی متر به سمت بالا است. اگر این نیرو برداشته شود و نیروی  $10\text{ kN}$  در نقطه  $D$  و  $20\text{ kN}$  در نقطه  $E$  هر دو به سمت پایین وارد شوند، شیب نقطه  $B$  چند رادیان است؟



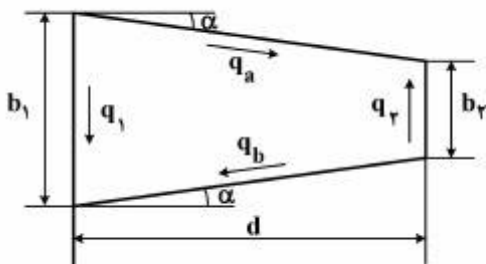
- (۱)  $0,002$
- (۲)  $-0,002$
- (۳)  $0,001$
- (۴)  $-0,001$

۱۰۳- در شکل زیر مقدار  $\phi$  برابر کدام یک از رابطه های زیر است؟



- (۱)  $\frac{T}{2(\frac{GJ}{l} - ka)}$
- (۲)  $\frac{T}{2(\frac{GJ}{l} + ka)}$
- (۳)  $\frac{2T}{\frac{GJ}{l} - ka}$
- (۴)  $\frac{2T}{\frac{GJ}{l} + ka}$

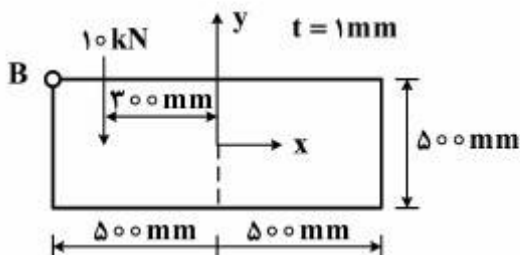
۱۰۴- در پانل شکل زیر کدام رابطه بین جریان برش دیواره ها صحیح است؟



- (۱)  $q_1 = q_a \left(\frac{b_1}{b_2}\right)$
- (۲)  $q_a = q_2 \frac{b_1}{b_2}$
- (۳)  $q_1 = q_2 \left(\frac{b_2}{b_1}\right)^2$
- (۴)  $q_1 = q_2 \left(\frac{b_1}{b_2}\right)^2$

۱۰۵- مقدار جریان برش در نقطه  $B$  چقدر است؟ (ضخامت همه دیواره ها یکسان است).

$$I_{xx} \approx 500 \times 10^6 \text{ mm}^4$$



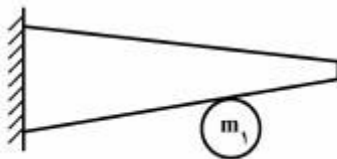
- (۱) ۲
- (۲) ۳
- (۳) ۵
- (۴) ۵,۵

۱۰۶- کدام تعبیر در مورد فرکانس طبیعی درست است؟

فرکانس طبیعی فرکانسی است که در آن:

- (۱) نیروی فنر با نیروی میرا کننده اختلاف فاز ۹۰ درجه پیدا می‌کند.
- (۲) نیروی اینرسی با نیروی میرا کننده اختلاف فاز ۹۰ درجه پیدا می‌کند.
- (۳) نیروی اینرسی با نیروی فنر خنثی می‌شود.
- (۴) نیروی فنر با نیروی میرا کننده خنثی می‌شود.

۱۰۷- سختی و جرم مؤثر بال در محل اتصال موتور به ترتیب  $500 \text{ kg}$  و  $2 \times 10^6 \frac{\text{N}}{\text{m}}$  است. اگر جرم موتور  $300 \text{ kg}$  بوده و به خاطر کار کردن آن نیروی هارمونیک  $100 \sin \omega t$  در مرکز جرم موتور اعمال شود با فرض صلب بودن موتور و ضریب میرایی  $\xi = 1\%$ ، بیشینه دامنه حرکت نوسانی بال در محل اتصال موتور حدوداً چند میلی‌متر است؟



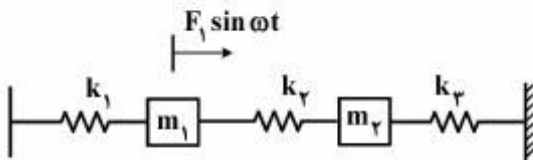
- (۱) ۱/۵
- (۲) ۲/۵
- (۳) ۳
- (۴) ۴

۱۰۸- در مورد سامانه دو درجه آزادی زیر، کدام گزینه در مورد پاسخ حالت - پایا (Steady-state) صحیح است؟

$$m_2 = 2m_1 = 2 \text{ kg}$$

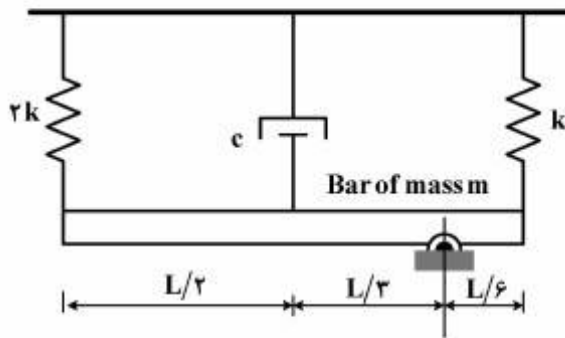
$$k_1 = 7 \times 10^4 \text{ N/m}$$

$$k_2 = k_3 = 4 \times 10^4 \text{ N/m}$$



- (۱) در فرکانس  $\omega = 200 \frac{\text{rad}}{\text{s}}$  دامنه پاسخ جرم ۱ صفر است.
- (۲) در فرکانس  $\omega = 200 \frac{\text{rad}}{\text{s}}$  دامنه پاسخ جرم ۲ صفر است.
- (۳) در فرکانس  $\omega = 300 \frac{\text{rad}}{\text{s}}$  دامنه پاسخ جرم ۲ صفر است.
- (۴) در فرکانس  $\omega = 300 \frac{\text{rad}}{\text{s}}$  دامنه پاسخ هر دو جرم بیشینه است.

۱۰۹- فرکانس طبیعی نامبرایی سیستم زیر کدام رابطه زیر است؟ (تیر صلب فرض شود).

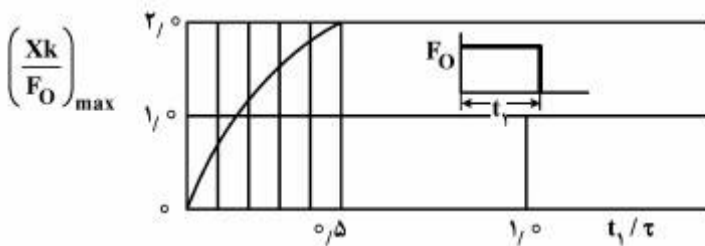


- (۱)  $\sqrt{\frac{51k}{3m}}$
- (۲)  $\sqrt{\frac{51k}{7m}}$
- (۳)  $\sqrt{3\frac{k}{m}}$
- (۴)  $\sqrt{7\frac{k}{m}}$

۱۱۰- پرنده‌ای با سرعت نسبی  $v = 100 \frac{m}{s}$  به بال هواپیمایی در حال پرواز می‌خورد. اگر نیروی اعمال شده در این

برخورد با پالس مستطیلی مدل شود و زمان برخورد  $t_1 = 0.1s$  باشد ( $F_0 t_1 = mv$ ) با فرض سختی  $k = 10^6 \frac{N}{m}$

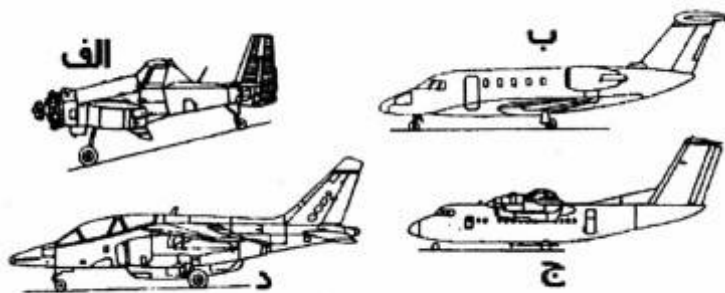
و جرم موثر  $m_{eff} = 1kg$ ، مقدار فرورفتگی بدنه چند میلی‌متر است؟



- ۱ (۱)
- ۲ (۲)
- ۴ (۳)
- ۶ (۴)

طراحی اجسام پرنده:

۱۱۱- نوع صحیح هواپیمای زیر کدام یک از گزینه‌های زیر است؟



- (۱) الف - جنگ الکترونیک ب - جت هشدار سریع ج - آموزشی پراپ جت د - جنگنده عمود نشین
- (۲) الف - آکروباتیک ب - جت مسافری ج - باربری د - جنگنده بمب افکن
- (۳) الف - سم پاش ب - جت آبنشین ج - باربری توپخانه د - جنگنده رهگیر
- (۴) الف - سم پاش ب - جت تشریفاتی ج - توربوپراپ مسافری د - جت آموزشی

۱۱۲- میزان آمادگی فناوری (TRL) که یکی از شاخصه‌های تحقق یک محصول استراتژیک است در کدام یک از فازهای

طراحی و ساخت یک هواپیما، در سطوح میانی آن (سطح ۴ تا ۵) بررسی می‌شود؟

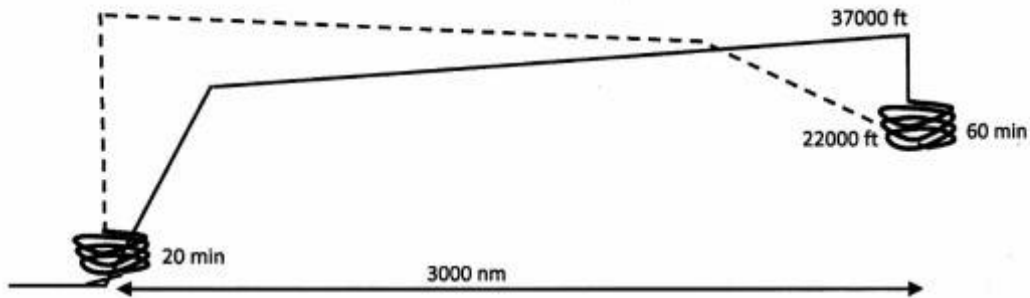
(۲) کاربردی

(۱) جزئی

(۴) مفهومی

(۳) مقدماتی

۱۱۳- پروفیل مأموریت ترسیم شده متعلق به کدام یک از هواپیماهای زیر است؟



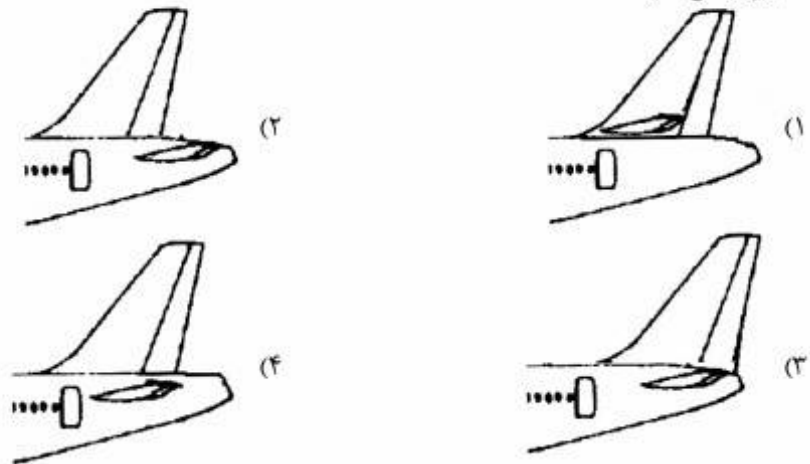
(۱) تانکر سوخت‌رسان نظامی

(۲) ترابری غیرنظامی برد کوتاه

(۳) پهپاد تجسس با موتور توربینی

(۴) جنگنده سنگین برای نبرد هوایی

۱۱۴- کدام یک از آرایش‌های زیر موقعیت دم افقی و دم عمودی هواپیما را در مقابل پدیده فرچرخ یا اسپین (SPIN) مصون تر می‌نماید؟



۱۱۵- در طراحی یک گلايدر موتوردار ۸۰۰ کیلوگرمی با دو سرنشین، استفاده از کدام استاندارد زیر برای اخذ گواهینامه

قابلیت پرواز بهتر است؟

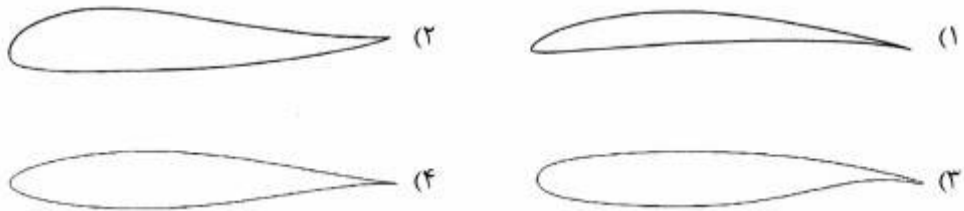
(۱) EASA CS-22

(۲) EASA CS-23

(۳) EASA CS-VLR

(۴) EASA CS-LSA

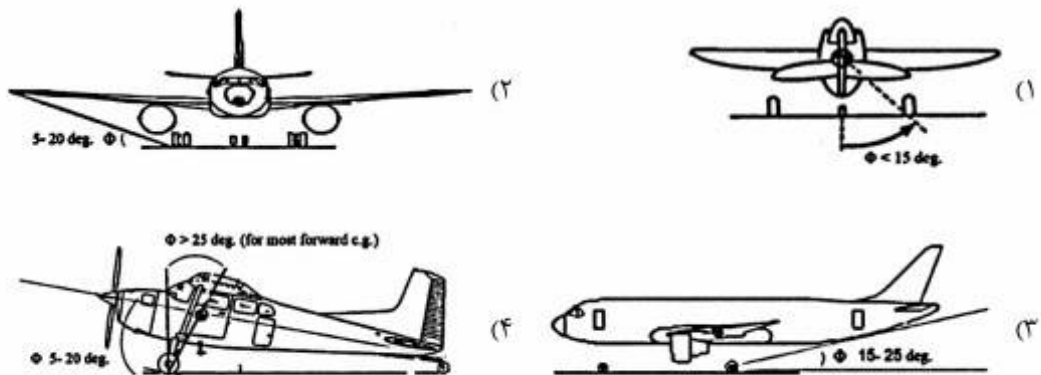
۱۱۶- کدام یک از ایرفویل‌های زیر برای طراحی بال یک هواپیمای فوق سبک (UL) با ۲ سرنشین، وزن ۴۴۰ کیلوگرم و برد ۴۰۰ کیلومتر مناسب‌تر است؟



۱۱۷- چنانچه سوخت رزرو یک جت مسافربری ۱۰٪ سوخت مصرفی آن، حاصلضرب اجزاء سوخت مأموریتی ( $M_{FF}$ ) برابر با ۰٫۸، وزن مسافرین ۲۵٪ و وزن خدمه ۱٫۵٪ وزن برخاست ( $W_{TO}$ ) باشد، وزن خالی ( $W_E$ ) این هواپیما چه درصدی از وزن برخاست آن است؟

- (۱) ۴۳
- (۲) ۴۳٫۵
- (۳) ۵۱
- (۴) ۵۱٫۵

۱۱۸- در طراحی ارایه فرود، معیار تنظیم موقعیت ارایه در کدام یک از شکل‌های زیر صحیح بیان شده است؟



۱۱۹- چنانچه A و B به ترتیب عرض از مبدا و شیب نمودار تکنولوژی در تخمین اولیه وزن برخاست باشند، حساسیت وزن برخاست ( $W_{TO}$ ) نسبت به وزن خالی ( $W_E$ ) در کدام یک از معادلات زیر درست بیان شده است؟

$$\frac{\partial W_{T.O}}{\partial W_E} = B \quad (۱)$$

$$\frac{\partial W_{T.O}}{\partial W_E} = BW_{T.O}^{-1} [\text{inv log} \{(\log W_{T.O} - A) / B\}] \quad (۲)$$

$$\frac{\partial W_{T.O}}{\partial W_E} = BW_{T.O} [\text{inv log} \{(\log W_{T.O} - A) / B\}]^{-1} \quad (۳)$$

(۴) وزن برخاست مستقل از وزن خالی بوده و لذا این حساسیت وجود ندارد.

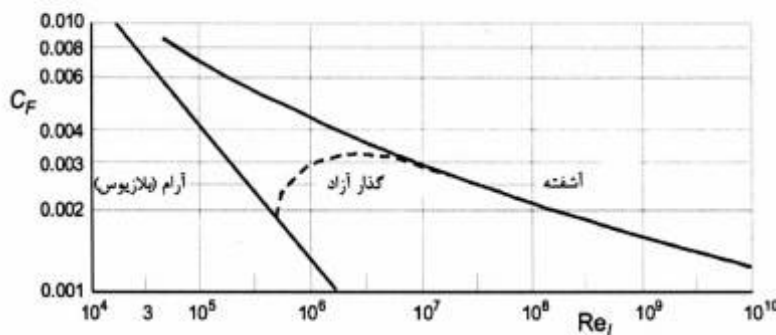


۱۲۰- در طراحی مفهومی یک جت مسافربری، ضریب حجمی دم عمودی ( $\bar{V}_v$ ) بر اساس کدام یک از معیارهای زیر انتخاب می‌شود؟

- (۱) بر اساس ضریب حجمی هواپیماهای هم رده و موقعیت موتورها یا تجهیزات متصل به بال
- (۲) با توجه به ضریب حجمی هواپیماهای هم رده و سطح بال بدست آمده از نمودار تطبیق
- (۳) تنها بر اساس ضریب حجمی هواپیمای هدف
- (۴) تنها بر اساس استاندارد و با توجه به نوع هواپیما

۱۲۱- با توجه به شکل زیر، ضریب پسای پارازیت ( $CD_0$ ) یک هواپیمای مدل از نوع بال پرنده (Flying Wing) با سطح

مرجع  $S_{Ref} = 7m^2$  را در پرواز کروز در رینولدز  $Re_l = 2 \times 10^6$  چه میزان تقریب می‌زنید؟



- (۱) ۰٫۰۰۴
- (۲) ۰٫۰۰۸
- (۳) ۰٫۰۱۶
- (۴) ۰٫۰۲۴

۱۲۲- معادله پسای قطبی هواپیمایی در حالت برخاست و ارایه فرود باز (پایین) به صورت

می‌باشد، کدام معادله پسای قطبی برای حالت نشستن و ارایه فرود صادق است؟

$$C_D = 0.1007 + 0.398C_L^2 \quad (1)$$

$$C_D = 0.1007 + 0.424C_L^2 \quad (2)$$

$$C_D = 0.237 + 0.374C_L^2 \quad (3)$$

$$C_D = 0.557 + 0.424C_L^2 \quad (4)$$

۱۲۳- گرادیان اوج گیری هواپیماهای سنگین، از تجاری تا نظامی برابر الزامات مربوط در رژیم برخاست ۳۵ پائی برابر کدام یک از موارد زیر است؟

- (۱) مثبت و سرعت اوج گیری نصف سرعت کروز
- (۲) ۲/۵ تا ۳/۵ درصد و سرعت اوج گیری تا ۲ برابر سرعت واماندگی
- (۳) ۰/۵ تا ۱/۵ درصد و سرعت اوج گیری برابر سرعت برخاست
- (۴) مثبت تا ۰/۵ درصد و سرعت اوج گیری تا ۱/۱ برابر سرعت واماندگی

۱۲۴- نحوه چیدمانی و طراحی آرایش صندلی‌های مسافر در ردیف (Seat Abreast) هواپیماهای مسافربری بستگی به ظرفیت کل مسافر و تعداد راهروها دارد. کدام گزینه با ملاحظات راحتی مسافر، کاهش وزن، کاهش نیروی پسا بهینه است؟

- (۱) هواپیماهای ۵۰ تا ۸۰ نفره: سه صندلی در هر طرف یک راهرو  
هواپیماهای ۹۰ تا ۱۳۰ نفره: چهار صندلی در هر طرف یک راهرو
- (۲) هواپیماهای ۵۰ تا ۸۰ نفره: دو صندلی و یک صندلی در هر طرف یک راهرو  
هواپیماهای ۹۰ تا ۱۳۰ نفره: دو صندلی در هر طرف دو راهرو
- (۳) هواپیماهای ۵۰ تا ۸۰ نفره: دو صندلی در هر طرف یک راهرو  
هواپیماهای ۹۰ تا ۱۳۰ نفره: دو صندلی و سه صندلی در هر طرف یک راهرو
- (۴) هواپیماهای ۵۰ تا ۸۰ نفره: یک صندلی در هر طرف یک راهرو  
هواپیماهای ۹۰ تا ۱۳۰ نفره: سه صندلی در هر طرف یک راهرو

۱۲۵- کدام یک از جملات زیر در طراحی بال یک هواپیمای مسافربری برد بلند صحیح نیست؟

- (۱) با افزایش بارگذاری بال (W/S) عبور از اغتشاشات جوی دشوارتر خواهد شد.
- (۲) استفاده از ایرفویل‌های فوق بحرانی باعث افزایش ضخامت و کاهش وزن سازه بال خواهد شد.
- (۳) در طراحی بال این هواپیما استراتژی کلان، بر مبنای بهبود عملکرد کروز (Cruise Performance) است و نه نشست و برخاست (Field Performance).
- (۴) با افزایش نسبت منظری (AR) و ثابت نگه داشتن سطح بال، راندمان ایرودینامیکی (L/D) و بارگذاری بال (W/S) افزایش خواهند یافت.

